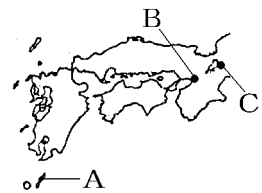


[[ヨーロッパ人との出会い](#) / [織田信長](#) / [豊臣秀吉](#) / [桃山文化](#) / [FdText 製品版のご案内](#) / <http://www.fdtype.com/txt/>]

【】 ヨーロッパ人との出会い

[要点：鉄砲の伝来]

1543年にポルトガル人を乗せた中国の船が種子島(右図A)に流れ着き、日本に初めて鉄砲を伝えた。(一期四散(1543)の鉄砲伝来)
このとき伝えられた鉄砲は、まもなく堺(右図B)や国友(右図C)などで、刀鍛冶職人によって作られるようになり、戦国大名の間に広まった。鉄砲の普及は、戦法の変化と築城技術の向上をもたらし、全国统一の動きを促進した。

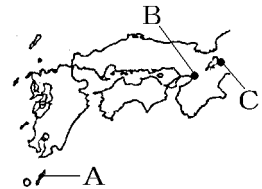


※出題頻度「1543年△」「ポルトガル人○」「種子島(地図)◎」「鉄砲◎」「堺△」「国友△」
「戦法の変化と築城技術の向上をもたらし、全国统一の動きを促進した△」

【問題】

次の文章中の①～④に適語を入れよ。

1543年に(①)人を乗せた中国の船が(②)(右図 A)に流れ着き、日本に初めて(③)を伝えた。このとき伝えられた(③)は、まもなく(④)(右図 B)や国友(右図 C)などで、刀鍛冶職人によって作られるようになり、戦国大名の間に広まった。鉄砲の普及は、戦法の変化と築城技術の向上をもたらし、全国统一の動きを促進した。



【解答欄】

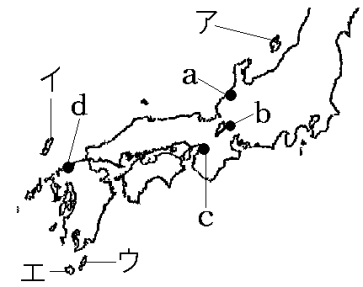
①	②	③	④
---	---	---	---

【解答】① ポルトガル ② 種子島 ③ 鉄砲 ④ 堺

[問題]

次の各問いに答えよ。

- (1) 16世紀中頃、ヨーロッパ人をのせた船が、台風にあつて日本のある島に流れ着いたが、①その島の名前を答えよ。
 ②その島を右の地図のア～エから選べ。
- (2) (1)は何年のできごとか。
- (3) (1)のヨーロッパ人とはどこの国の人か。
- (4) (1)のとき(3)の人が伝えたものは何か。
- (5) (4)は刀鍛冶職人によって日本でも作られるようになった。



(4)がさかんにつくられた場所を、地図中のa～dから2つ選び、地名も答えよ。

- (6) (4)の伝来の影響を「戦法」「築城技術」「全国統一」の語句を使用して説明せよ。

[解答欄]

(1)①	②	(2)	(3)
(4)	(5)		
(6)			

[解答](1)① 種子島 ② ウ (2) 1543年 (3) ポルトガル (4) 鉄砲 (5) c堺, b国友
 (6) 鉄砲の普及は、戦法の変化と築城技術の向上をもたらし、全国統一の動きを促進した。

[要点：キリスト教の伝来]

ルターらの^{しゅうきょうかいかく}宗教改革の刺激を受けて、カトリック教会側でも、勢力を回復するために、フランシスコ・ザビエルらが^{ふきょう}イエズス会をつくり、海外布教などに力を入れた。

1549年、フランシスコ・ザビエルがキリスト教を伝えるために日本に来た。(以後よく(1549)発展キリスト

教) ザビエルは^{かごしま}鹿児島に上陸した後、山口、京都、^{ぶんごふない}豊後府内(大分市)などで布教して、2年あまりで去ったが、その後も宣教師がやって来て、教会などを建てて布教を行った。

※出題頻度「カトリック△」「イエズス会○」「フランシスコ・ザビエル◎」

「キリスト教を伝える○」「鹿児島(地図)○」



フランシスコ・ザビエル



[問題]

次の文章中の①～④に適語を入れよ。

ルターらの宗教改革の刺激を受けて、カトリック教会側でも、勢力を回復するために、(①)らが(②)会をつくり、海外布教などに力を入れた。1549年、(①)が(③)教を伝えるために日本に来た。(①)は(④)(地名)に上陸した後、山口、京都、豊後府内(大分市)などで布教して、2年あまりで去ったが、その後も宣教師がやって来て、教会などを建てて布教を行った。

[解答欄]

①	②	③
④		

[解答]① フランシスコ・ザビエル ② イエズス ③ キリスト ④ 鹿児島

[問題]

次の各問いに答えよ。

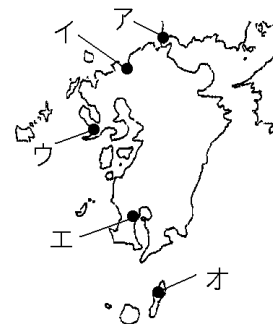
(1) 右の図の人物はだれか。

(2) (1)の人物は、①キリスト教のカトリック、プロテスタントのどちらの宗派に属していたか。

②また、①の宗派の中の何という会の指導者の一人であったか。

(3) (1)の人物は最初日本のどこに上陸したか。①地名を答えよ。②また、その位置を右の地図中のア～オから1つ選べ。

(4) (1)の人物が日本へやって来た目的を簡潔に説明せよ。



[解答欄]

(1)	(2)①	②
(3)①	②	(4)

[解答](1) フランシスコ・ザビエル (2)① カトリック ② イエズス会 (3)① 鹿児島
② エ (4) キリスト教を伝えるため。

[要点：南蛮貿易とキリスト教の広まり]

ポルトガル商人たちは、貿易の相手として日本に注目し、平戸(ひらど長崎県)や長崎などで貿易が始まった。輸入品は、生糸(きいと)や絹織物(きぬおりもの)など中国産の品物が中心であったが、毛織物(けおりもの)、時計、ガラス製品などのヨーロッパの品物もあった。また、地球儀(ちきゅうぎ)や活版印刷術(かつばんいんさつじゆつ)ももたらされた。

日本は、おもに銀(ぎん)を輸出した。当時、日本の銀の産出量は世界の約 3 分の 1 を占めており、そのほとんどは石見銀山(いわみぎんざん)(島根県)で産出されていた。16 世紀後半にはスペイン人(えいべいじん)も日本に来て貿易をするようになった。ポルトガル人やスペイン人は南蛮人(なんばんじん)と呼ばれたので、この貿易を南蛮貿易(なんばんぼうえき)という。



キリスト教の信者(しんじや)たちはキリシタン(きりしたん)と呼ばれ、人々の間に信仰(しんこう)が広まった。大友宗麟(おおともそうりん)などの西日本の大名のなかには、南蛮貿易(なんばんぼうえき)の利益を得るために、キリスト教を保護し、自らも洗礼(せんれい)を受けてキリシタン大名(きりしたんだいなむ)となる者もいた。1582 年、イエズス会は、布教の成果を示すため、伊東マンショなど 4 人の少年を、豊後の大友宗麟(おおともそうりん)などのキリシタン大名が派遣した使節(使節)として、ローマ教皇のもとへ連れていった(天正遣欧少年使節(てんしょうけんおうしょうねんしせつ))。

※出題頻度「南蛮貿易◎」「ポルトガル人△」「スペイン人△」「南蛮人△」「平戸や長崎△」「輸入品：生糸、絹織物○」「輸出品：銀○」「石見銀山△」「キリシタン△」「キリシタン大名○」「南蛮貿易の利益を得るため○」「天正遣欧少年使節△」

[問題]

次の文章中の①～⑨に適語を入れよ。

ポルトガル商人たちは、貿易の相手として日本に注目し、(①)(長崎県)や長崎などで貿易が始まった。輸入品は、(②)や絹織物など中国産の品物が中心であったが、毛織物、時計、ガラス製品などのヨーロッパの品物もあった。また、地球儀や活版印刷術ももたらされた。日本は、おもに(③)を輸出した。当時、日本の(③)の産出量は世界の約 3 分の 1 を占めおり、そのほとんどは(④)(島根県)で産出されていた。16 世紀後半には(⑤)人も日本に来て貿易をするようになった。ポルトガル人や(⑤)人は(⑥)と呼ばれたので、この貿易を(⑦)という。

キリスト教の信者(⑧)たちは(⑧)と呼ばれ、人々の間に信仰が広まった。大友宗麟などの西日本の大名のなかには、(⑦)の利益を得るために、キリスト教を保護し、自らも洗礼を受けて(⑧)大名となる者もいた。1582 年、イエズス会は、布教の成果を示すため、伊東マンショなど 4 人の少年を、豊後の大友宗麟などの(⑧)大名が派遣した使節(使節)として、ローマ教皇のもとへ連れていった((⑨)使節)。

【解答欄】

①	②	③	④
⑤	⑥	⑦	⑧
⑨			

【解答】① 平戸 ② 生糸 ③ 銀 ④ 石見銀山 ⑤ スペイン ⑥ 南蛮人 ⑦ 南蛮貿易
⑧ キリシタン ⑨ 天正遣欧少年

【問題】

次の各問いに答えよ。

- (1) 16世紀に日本に来たポルトガル人やスペイン人は何と呼ばれたか。
- (2) (1)との貿易を何というか。
- (3) (2)の貿易で、①日本が輸入したものを次の[]から2つ選べ。②また、日本が輸出したものを[]から1つ選べ。
[生糸 銀 絹織物]
- (4) (2)の貿易の中心となったのは九州のどこか。次の[]から2つ選べ。
[鹿児島 平戸 博多 長崎 島原]
- (5) キリスト教の信者を当時何と呼んだか。
- (6) 大名の中には、キリスト教の信者になる者もいた。①このような大名を何と呼んだか。
②また、なぜキリスト教の信者になったのか。経済的利益に着目して簡単に説明せよ。
- (7) イエズス会は、伊東マンショなど4人の少年を、豊後の大友宗麟などが派遣した使節だとして、ローマ教皇のもとへ連れていった。この使節を何というか。

【解答欄】

(1)	(2)	(3)①	②
(4)	(5)	(6)①	
②		(7)	

【解答】(1) 南蛮人 (2) 南蛮貿易 (3)① 生糸, 絹織物 ② 銀 (4) 平戸, 長崎
(5) キリシタン (6)① キリシタン大名 ② 南蛮貿易の利益を得るため。
(7) 天正遣欧少年使節

【】 織田信長

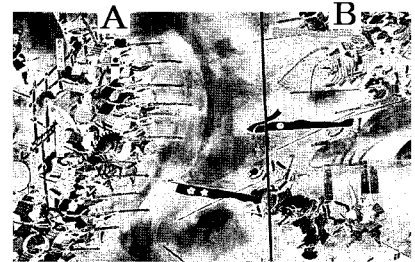
[要点：桶狭間の戦い・室町幕府の滅亡・長篠の戦い]

右図の織田信長は、大軍で侵入してきた今川義元を、そのわずか10分の1の兵力で奇襲して破った(桶狭間の戦い)。その後、足利義昭を援助して京都にのぼって、将軍職につけた。しかし、1573年、敵対するようになった足利義昭を追放して、室町幕府をほろぼした。



(以後情け(1573)無用と室町ほろぶ)

織田信長は、1575年の長篠の戦いで武田勝頼を打ち破った。右図の左側Aの鉄砲を使用しているのが織田方である。



織田信長は川岸に柵を設けて、大量の鉄砲を使って一斉射撃をあげせかけて、当時最強といわれた武田の騎馬軍団を壊滅させた。

※出題頻度「織田信長◎」「桶狭間の戦い○」「今川義元○」「足利義昭○」「室町幕府滅亡○」「長篠の戦い◎」「鉄砲◎」「図のどちらが織田軍か◎」「武田勝頼○」

【問題】

次の文章中の①～⑦に適語を入れよ。

右図の(①)(人物名)は、大軍で侵入してきた今川義元を、そのわずか10分の1の兵力で奇襲して破った((②)の戦い)。その後、(③)(人物名)を援助して京都にのぼって、将軍職につけた。しかし、1573年、敵対するようになった(③)を追放して、(④)幕府をほろぼした。



(①)は、1575年の(⑤)の戦いで(⑥)(人物名)を打ち破った。右図の左側Aの(⑦)を使用しているのが織田方である。(①)は川岸に柵を設けて、大量の(⑦)を使って一斉射撃をあげせかけて、当時最強といわれた武田の騎馬軍団を壊滅させた。



【解答欄】

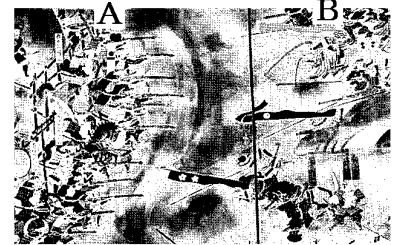
①	②	③	④
⑤	⑥	⑦	

【解答】① 織田信長 ② 桶狭間 ③ 足利義昭 ④ 室町 ⑤ 長篠 ⑥ 武田勝頼 ⑦ 鉄砲

[問題]

次の各問いに答えよ。

- (1) 右の戦国大名の名前を答えよ。
- (2) 桶狭間の戦いで、(1)に倒された大名は誰か。
- (3) (1)の援助によって15代将軍になったのは誰か。
- (4) (1)は、1573年、敵対するようになった(3)を京都から追放した。これによって、滅亡したのは何という幕府か。
- (5) (1)が武田氏を破った右図の戦いは何か。
- (6) (1)軍を表しているのは図のA、Bのどちらか側か。選んだ理由もあわせて答えよ。



[解答欄]

(1)	(2)	(3)	(4)
(5)	(6)		

[解答](1) 織田信長 (2) 今川義元 (3) 足利義昭 (4) 室町幕府 (5) 長篠の戦い
(6) 鉄砲を使っているのがAの側である。

[要点：安土城と楽市・楽座，仏教勢力などとの戦い]

織田信長は、長篠の戦いの翌年、琵琶湖のほとり(現在の滋賀県)に5層の天守をもつ壮大な安土城を築いた。城下町には、商工業の発展をはかるために、座の特権を廃止し、市場の税を免除し誰でも自由に商工業ができるようにした。



この政策を楽市・楽座という。また、当時、寺社や荘園領主が交通の要所に関所を設け、通行税を徴収していたが、信長は関所を廃止して、商工業の発展を図った。

信長は敵対する比叡山延暦寺を焼き討ちにした。信長にとって最大の敵となったのは、石山本願寺を頂点にした一向一揆勢力であった。1573年には伊勢長島の一方向一揆をほろぼし、翌年には越前の一方向一揆を平定し、ついに1580年には石山の本願寺を屈服させることに成功した。キリスト教に対しては、仏教勢力に対抗させる意図もあって、これを保護した。また、堺の鉄砲と経済力に目をつけ、これを支配下に置こうとしたため、堺の商人たちは自治を守るために戦ったが、信長に屈服した。1582年、信長は、家臣の明智光秀にそむかれて、本能寺で自害した。(一期の罰(1582)か本能寺)

※出題頻度「安土城○」「楽市・楽座◎」「関所△」「仏教勢力を弾圧△」「比叡山延暦寺○」「一向一揆△」「キリスト教を保護△」「堺△」「本能寺の変◎」「明智光秀○」

[問題]

次の文章中の①～⑧に適語を入れよ。

織田信長は、長篠の戦いの翌年、琵琶湖のほとり(現在の滋賀県)に 5 層の天守をもつ壮大な(①)城を築いた。城下町には、商工業の発展をはかるために、座の特権を廃止し、市場の税を免除し誰でも自由に商工業ができるようにした。この政策を(②)という。また、当時、寺社や荘園領主が交通の要所に(③)を設け、通行税を徴収していたが、信長は(③)を廃止して、商工業の発展を図った。

信長は敵対する比叡山(④)寺を焼き討ちにした。信長にとって最大の敵となったのは、石山本願寺を頂点にした(⑤)一揆勢力であった。1573 年には伊勢長島の(⑤)一揆をほろぼし、翌年には越前の(⑤)一揆を平定し、ついに 1580 年には石山の本願寺を屈服させることに成功した。(⑥)教に対しては、仏教勢力に対抗させる意図もあって、これを保護した。また、(⑦)(都市名)の鉄砲と経済力に目をつけ、これを支配下に置こうとしたため、(⑦)の商人たちは自治を守るために戦ったが、信長に屈服した。1582 年、信長は、家臣の明智光秀にそむかれて、(⑧)寺で自害した。

[解答欄]

①	②	③	④
⑤	⑥	⑦	⑧

[解答]① 安土 ② 楽市・楽座 ③ 関所 ④ 延暦 ⑤ 一向 ⑥ キリスト ⑦ 堺
⑧ 本能

[問題]

次の各問いに答えよ。

(1) 織田信長が最初につくり広まったといわれる天守をもつ城の名前は何か。

(2) (1)の城の場所を右の地図中のア～オから選び記号で答えよ。

(3) 信長は(1)の城下で商工業を発展させるために、座の特権を廃止し、税などを免除する政策をとったが、何という政策か。

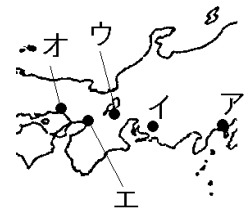
(4) 信長は(3)のほか、商工業を発展させるために各地の何を廃止して交通の円滑化を図ったか。

(5) 信長は比叡山の何という寺を焼き討ちにしたか。

(6) 信長は、北陸や東海地方の(①)をおさえ、その根拠地である石山の(②)寺を攻め、10 年間の戦いの末にこれを降伏させた。文中の①, ②に適語を入れよ。

(7) 信長によって攻められ自治を奪われた都市はどこか。

(8) 1582 年、織田信長は家来の明智光秀にむほんをおこされ、自害に追いこまれた。この事件を何というか。



[解答欄]

(1)	(2)	(3)	(4)
(5)	(6)①	②	(7)
(8)			

[解答](1) 安土城 (2) ウ (3) 楽市・楽座 (4) 関所 (5) 延暦寺 (6)① 一向一揆
② 本願 (7) 堺 (8) 本能寺の変

【】 豊臣秀吉

[要点：豊臣秀吉の統一事業]

織田信長は、1582年、家臣の明智光秀にそむかれて本能寺で自害した。豊臣秀吉(このころは羽柴秀吉)は、いちはやく明智光秀を倒し、その後、信長の後継者争いに勝利した。秀吉は、大阪の石山本願寺のあった場所に大阪城を築いて本拠地とし、朝廷から関白に任命された。関白となった秀吉は、天皇の命令の形をとって、たがいに争っていた戦国大名に停戦を命じ、その領国の確定を秀吉の決定にまかせることを強制した。この命令に従わなかった九州の島津氏を1587年に降伏させ、1590年には関東の北条氏をほろぼして全国統一を完成させた。



(豊臣秀吉)

秀吉は、九州を従えたあと、長崎がイエズス会に寄進されていることを知り、日本は「神国」であるとして宣教師の国外追放を命じた(バテレン追放令)。キリスト教の布教が、スペインやポルトガルの侵略政策と結びついていることを危険視したためである。

しかし、宣教師の一部は日本にとどまって布教活動を続け、また秀吉が直接支配することになった長崎では南蛮貿易が奨励されていたため、キリスト教の布教の禁止は徹底しなかった。秀吉は、大判や小判などの統一的な貨幣を発行した。そのため、佐渡金山(新潟県)、石見银山(島根県)、生野银山(兵庫県)などの開発を行った。信長と秀吉の時代を安土桃山時代という。※出題頻度「豊臣秀吉◎」「大阪城○」「関白○」「島津氏△」「北条氏△」「バテレン追放令○」「侵略政策と結びついている○」「佐渡金山△」「石見银山△」「安土桃山時代○」

[問題]

次の文章中の①～⑩に適語を入れよ。

織田信長は、1582年、家臣の(①)にそむかれて本能寺で自害した。(②)は、いちはやく(①)を倒し、その後、信長の後継者争いに勝利した。(②)は、大阪の石山本願寺のあった場所に(③)城を築いて本拠地とし、朝廷から(④)に任命された。(④)となった(②)は、天皇の命令の形をとって、たがいに争っていた戦国大名に停戦を命じ、その領国の確定を秀吉の決定にまかせることを強制した。この命令に従わなかった九州の(⑤)氏を1587年に降伏させ、1590年には関東の(⑥)氏をほろぼして全国統一を完成させた。

(②)は、九州を従えたあと、長崎がイエズス会に寄進されていることを知り、日本は「神国」であるとして宣教師の国外追放を命じた((⑦)追放令)。キリスト教の布教が、スペインやポルトガルの(⑧)政策と結びついていることを危険視したためである。しかし、宣教師の一部は日本にとどまって布教活動を続け、また(②)が直接支配することになった長崎では南蛮貿易が奨励されていたため、キリスト教の布教の禁止は徹底しなかった。

(②)は、大判や小判などの統一的な貨幣を発行した。そのため、(⑨)金山(新潟県)、(⑩)银山(島根県)、生野银山(兵庫県)などの開発を行った。信長と秀吉の時代を(⑪)という。

【解答欄】

①	②	③	④
⑤	⑥	⑦	⑧
⑨	⑩	⑪	

【解答】① 明智光秀 ② 豊臣秀吉 ③ 大阪 ④ 関白 ⑤ 島津 ⑥ 北条 ⑦ バテレン
⑧ 侵略 ⑨ 佐渡 ⑩ 石見 ⑪ 安土桃山時代

【問題】

次の各問いに答えよ。

- (1) 織田信長が本能寺で明智光秀によって殺された後、いち早く明智光秀をたおして、信長の統一事業の後継者となったのは誰か。
- (2) (1)が石山本願寺のあった場所に築いた城は何か。
- (3) (1)は、朝廷から何という地位に任じられたか。
- (4) (1)は、全国に停戦命令を出して全国統一事業を進め、これに従わない九州の(①)氏を降伏させ、(②)年には関東の(③)氏をほろぼして全国統一を完成させた。文中の①～③にあてはまる語句・数字を答えよ。
- (5) (1)は、長崎がローマ法王に寄進されたことを知って(①)の国外追放を命令した。しかし、(②)貿易は奨励したので、命令は不徹底に終わった。文中の①、②にあてはまる語句を答えよ。
- (6) (1)は大判や小判などの統一的な貨幣を発行した。そのため、金や銀の鉱山の開発を行った。次の①、②の鉱山の名前を答えよ。
 - ① 現在の新潟県にある代表的な金山
 - ② 現在の島根県にある银山
- (7) 室町幕府がほろんだ 1573 年から、1603 年に江戸幕府ができるまでの間を何時代というか。

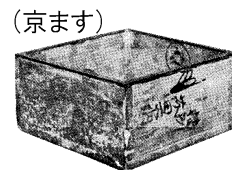
【解答欄】

(1)	(2)	(3)	(4)①
②	③	(5)①	②
(6)①	②	(7)	

【解答】(1) 豊臣秀吉 (2) 大阪城 (3) 関白 (4)① 島津 ② 1590 ③ 北条 (5)① 宣教師
② 南蛮 (6)① 佐渡金山 ② 石見银山 (7) 安土桃山時代

[要点：太閤検地と刀狩り]

豊臣秀吉は、年貢を確実に取るために、全国の田畑の面積、土地のよしあし、耕作者を調べさせ、村ごとに検地帳をつくらせた。これを太閤検地という。収穫高は、全国どこでも同じ大きさの京ます(右図)ではかり、石高(体積の単位)で表すようにした。検地帳に記された農民は、その田畑の所有権を認められたかわりに、定められた年貢を領主である武士に納めることになった。武士の領地は石高で示され、年貢を取る権利をもつかわりに、石高に応じた軍役を果たすことが義務付けられた。太閤検地によって荘園領主などがもっていた田畑に関する権利はすべて否定され、荘園は完全に消滅した。



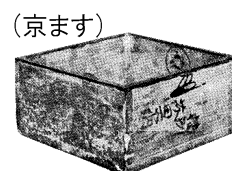
豊臣秀吉は、「諸国の百姓が刀やわきざし、弓、やり、鉄砲、そのほかの武具などを持つことは、かたく禁止する。不必要な武具をたくわえ、年貢その他の税をなかなか納入せず、ついには一揆をくわだてたりして、領主に対してよからぬ行為をする者は、もちろん処罰する。」という刀狩令を出した。刀狩は武力による農民の一揆を防ぎ、耕作に専念させるためであった。また、それまで自分の領地にいた武士は、大名の城下町に集められた。これらの政策によって、武士と農民の区別がはっきりした。これを兵農分離という。

※出題頻度「太閤検地◎」「石高◎」「年貢を確実に取るため○」「荘園は消滅△」「刀狩◎」「武力による一揆を防ぎ、耕作に専念させるため◎」「兵農分離◎」「刀狩令の中の「刀」「一揆」○」

[問題]

次の文章中の①～⑨に適語を入れよ。

豊臣秀吉は、(①)を確実に取るために、全国の田畑の面積、土地のよしあし、耕作者を調べさせ、村ごとに検地帳をつくらせた。これを(②)検地という。収穫高は、全国どこでも同じ大きさの京ます(右図)ではかり、(③)(体積の単位)で表すようにした。検地帳に記された農民は、その田畑の所有権を認められたかわりに、定められた年貢を領主である武士に納めることになった。武士の領地は(③)で示され、年貢を取る権利をもつかわりに、(③)に応じた軍役を果たすことが義務付けられた。(②)検地によって(④)領主などがもっていた田畑に関する権利はすべて否定され、(④)は完全に消滅した。



豊臣秀吉は、「諸国の百姓が(⑤)やわきざし、弓、やり、鉄砲、そのほかの武具などを持つことは、かたく禁止する。不必要な武具をたくわえ、年貢その他の税をなかなか納入せず、ついには(⑥)をくわだてたりして、領主に対してよからぬ行為をする者は、もちろん処罰する。」という(⑦)令を出した。(⑦)は武力による農民の(⑥)を防ぎ、(⑧)に専念させるためであった。また、それまで自分の領地にいた武士は、大名の城下町に集められた。これらの政策によって、武士と農民の区別がはっきりした。これを(⑨)という。

【解答欄】

①	②	③	④
⑤	⑥	⑦	⑧
⑨			

【解答】① 年貢 ② 太閤 ③ 石高 ④ 荘園 ⑤ 刀 ⑥ 一揆 ⑦ 刀狩 ⑧ 耕作
⑨ 兵農分離

【問題】

次の各問いに答えよ。

- (1) 豊臣秀吉が全国規模で行った検地を特に何というか。
- (2) (1)の検地によって、収穫高は何で表されるようになったか。
- (3) (1)の検地を行った目的を、「年貢」という語句を使って簡潔に説明せよ。
- (4) (1)の検地の結果、公家や寺社などがそれまで持っていた田畑に関する権利がすべて否定されて、何が完全に消滅したか。漢字2字で答えよ。

【解答欄】

(1)	(2)	(3)
(4)		

【解答】(1) 太閤検地 (2) 石高 (3) 年貢を確実に取るため。 (4) 荘園

【問題】

次の資料を読んで、後の各問いに答えよ。

「諸国の百姓が(①)やわきざし、弓、やり、鉄砲、そのほかの武具などを持つことは、かたく禁止する。不必要な武具をたくわえ、年貢その他の税をなかなか納入せず、ついには(②)をくわだてたりして、領主に対してよからぬ行為をする者は、もちろん処罰する。」

- (1) 資料中の①、②にあてはまる語句を答えよ。
- (2) 資料は何と呼ばれる政策か。
- (3) 資料の命令を出した人物は誰か。
- (4) この命令を出した目的を書け。
- (5) (2)の政策や太閤検地などによって、武士と農民の身分の区別をはっきりさせた。これを何と呼ぶか、漢字4文字で答えよ。

【解答欄】

(1)①	②	(2)	(3)
(4)			(5)

[解答](1)① 刀 ② 一揆 (2) 刀狩 (3) 豊臣秀吉 (4) 武力による農民の一揆を防ぎ耕作に専念させるため。 (5) 兵農分離

[要点：朝鮮侵略]

全国統一を果たした秀吉は、1592(文禄元)年に、明の征服を目指して、諸大名に命じ 15 万人の大軍を朝鮮に派遣した(文禄の役)。日本の軍勢は、朝鮮の首都漢城(現在のソウル)を占領して朝鮮北部に進んだが、救援に来た明軍におしもどされた。また、各地で朝鮮の民衆が抵抗運動を起こし、朝鮮南部では、亀甲船を率いて戦った朝鮮の李舜臣の水軍が日本の水軍を破り、日本からの補給路をたつた。このため秀吉は、明と講和を結ぼうとしたが、秀吉を日本国王に任命するという明の皇帝の国書に不満を持ち、1597(慶長 2)年ふたたび戦いを始めた。これを慶長の役という。日本の軍勢は苦戦し、1598 年、秀吉が病死したのを機に全軍が引きあげた。この 2 度にわたる侵略をまとめて朝鮮侵略という。朝鮮侵略のときに朝鮮から連れてこられた技術者によって有田焼などの陶磁器が作られるようになった。江戸時代になって、1609 年に対馬藩の努力によって朝鮮との国交が回復した。

※出題頻度「明○」「文禄の役△」「漢城(ソウル)△」「李舜臣◎」「亀甲船△」「慶長の役○」「朝鮮侵略△」「有田焼○」

[問題]

次の文章中の①～⑥に適語を入れよ。

全国統一を果たした秀吉は、1592 年に、(①)の征服を目指して、諸大名に命じ 15 万人の大軍を朝鮮に派遣した((②)の役)。日本の軍勢は、朝鮮の首都漢城(現在のソウル)を占領して朝鮮北部に進んだが、救援に来た(①)軍におしもどされた。また、各地で朝鮮の民衆が抵抗運動を起こし、朝鮮南部では、亀甲船を率いて戦った朝鮮の(③)の水軍が日本の水軍を破り、日本からの補給路をたつた。このため秀吉は、(①)と講和を結ぼうとしたが、秀吉を日本国王に任命するという(①)の皇帝の国書に不満を持ち、1597 年ふたたび戦いを始めた。これを(④)の役という。日本の軍勢は苦戦し、1598 年、秀吉が病死したのを機に全軍が引きあげた。この 2 度にわたる侵略をまとめて(⑤)という。(⑤)のときに朝鮮から連れてこられた技術者によって(⑥)焼などの陶磁器が作られるようになった。江戸時代になって、1609 年に対馬藩の努力によって朝鮮との国交が回復した。

[解答欄]

①	②	③	④
⑤	⑥		

[解答]① 明 ② 文禄 ③ 李舜臣 ④ 慶長 ⑤ 朝鮮侵略 ⑥ 有田

[問題]

次の各問いに答えよ。

- (1) 秀吉は中国を征服する目的で朝鮮に出兵したが、当時の中国の王朝は何か。
- (2) 秀吉の軍は朝鮮の首都を占領したが、①この首都は何という都市か。②また、現在の都市名を答えよ。
- (3) 文禄の役とき、①日本軍を苦しめた朝鮮水軍の武将は誰か。②また、そのとき朝鮮水軍が使用していた船を何というか。
- (4) 明との間で講和交渉が行われたが、講和は成立せず、秀吉は再び出兵を行った。この2度目の戦いを何というか。
- (5) 文禄の役と(4)をあわせて何というか。
- (6) (5)のときに朝鮮から連れてこられた技術者によって陶磁器が作られるようになったが、佐賀県でさかんになった焼き物の名前を答えよ。

[解答欄]

(1)	(2)①	②	(3)①
②	(4)	(5)	(6)

[解答](1) 明 (2)① 漢城 ② ソウル (3)① 李舜臣 ② 亀甲船 (4) 慶長の役
(5) 朝鮮侵略 (6) 有田焼

【】 桃山文化

[要点：桃山文化]

全国を統一する政権が出現した桃山時代は、古い社会のしくみがこわされ、社会には活気がみなぎった。この時代の桃山文化は、大名や大商人たちの権力や富を背景にした豪華で壮大な文化である。桃山文化を代表するのは、安土城、大阪城、姫路城などの支配者の権威を示す壮大な城である。



天守(姫路城)



狩野永徳(唐獅子図屏風)

これらの城の最上部には天守がつくられるようになった。姫路城は世界遺産に登録されている。城のふすまや屏風には、はなやかな絵がえがかれるようになった。屏風絵やふすま絵で有名なのは狩野永徳(右図の「唐獅子図屏風」はその代表作)や狩野山楽である。茶の湯は、大名や大商人たちの間で流行していたが、



千利休



出雲の阿国

秀吉に仕えた千利休は、質素なわび茶の作法を完成させた。社会全体に、現世を楽しむ風潮が強まり、恋愛などをうたう小歌が流行し、室町時代に琵琶などに合わせて恋物語などを語った浄瑠璃が、琉球から伝わった三線をもとにつくられた三味線に合わせて語られるようになった。

17世紀はじめ、出雲の阿国という女性が始めたかぶき踊りも人気を集めた。スペイン人やポルトガル人が伝えた文化は南蛮文化と呼ばれている。

※出題頻度「桃山文化◎」「豪華で壮大◎」「姫路城◎」「天守○」「狩野永徳◎」「千利休◎」「茶の湯△」「出雲の阿国◎」「かぶき踊り△」「南蛮文化○」

【問題】

次の文章中の①～⑦に適語を入れよ。

全国を統一する政権が出現した(①)時代は、古い社会のしくみがこわされ、社会には活気がみなぎった。この時代の(①)文化は、大名や大商人たちの権力や富を背景にした(②)で壮大な文化である。(①)文化を代表するのは、安土城、大阪城、姫路城などの支配者の権威を示す壮大な城である。これらの城の最上部には(③)がつくられるようになった。姫路城は世界遺産に登録されている。城のふすまや屏風には、はなやかな絵がえがかれるようになった。屏風絵やふすま絵で有名なのは(④) (「唐獅子図屏風」はその代表作)や狩野山楽である。茶の湯は、大名や大商人たちの間で流行していたが、秀吉に仕えた(⑤)は、質素なわび茶の作法を完成させた。社会全体に、現世を楽しむ風潮が強まり、恋愛などをうたう小歌が流行し、室町時代に琵琶などに合わせて恋物語などを語った浄瑠璃が、琉球から伝わった三線をもとにつくられた三味線に合わせて語られるようになった。17世紀はじめ、(⑥)という女性が始めたかぶき踊りも人気を集めた。スペイン人やポルトガル人が伝えた文化は(⑦)と呼ばれている。

【解答欄】


①	②	③	④
⑤	⑥	⑦	

【解答】① 桃山 ② 豪華 ③ 天守 ④ 狩野永徳 ⑤ 千利休 ⑥ 出雲の阿国
⑦ 南蛮文化

【問題】

次の各問いに答えよ。

- (1) 豊臣秀吉の時代の文化を何というか。
- (2) (1)の文化の特色を、「大名や大商人」「権力や富」「豪華」次の語句を使って説明せよ。
- (3) 右の写真は、世界遺産にも登録されている城である。
①兵庫県にあるこの城の名前を答えよ。②この城の中心には、高くそびえる建物がみられる。これを何というか。
- (4) 屏風絵やふすま絵で有名な人物を1人あげよ。
- (5) 堺の商人で茶の湯を大成した人物は誰か。
- (6) かぶき踊りを始めた女性は誰か。
- (7) スペイン人やポルトガル人が伝えた文化を何文化というか。



【解答欄】

(1)			
(2)			
(3)①	②	(4)	(5)
(6)	(7)		

【解答】(1) 桃山文化 (2) 大名や大商人たちの権力や富を背景にした豪華で壮大な文化。
(3)① 姫路城 ② 天守 (4) 狩野永徳 (5) 千利休 (6) 出雲の阿国 (7) 南蛮文化

【FdText 製品版のご案内】

※ このファイルは、FdText 社会(9,600 円)の一部を PDF 形式に変換したサンプルで、印刷はできないようになっています。製品版の FdText 理科は Word の文書ファイルで、印刷・編集を自由に行うことができます。

※ FdText(理科・社会・数学)全分野の PDF ファイル、および製品版の購入方法は <http://www.fdtype.com/txt/> に掲載しております。

弊社は、FdText のほかに、

FdData 中間期末過去問(数学・理科・社会)(各 18,900 円) <http://www.fdtype.com/dat/>

FdData 入試過去問(数学・理科・社会)(各 16,200 円) <http://www.fdtype.com/dan/>
を販売しております。

【Fd 教材開発】 (092) 811-0960