

【】大正～昭和時代

[年表]

年代	おもなできごと
1914(大正 3)	バルカン半島はヨーロッパの火薬庫，オーストリア皇太子暗殺事件 第一次世界大戦→日本は日英同盟を根拠にドイツを攻撃
1915(大正 4)	日本の中国に対する二十一か条の要求
1917(大正 6)	ロシア革命：指導者はレーニン→ドイツと単独講和，アメリカ参戦
1918(大正 7)	米騒動：富山県，シベリア出兵を見込んだ商人の米買い占め→米価高騰 最初の本格的政党内閣：原敬内閣
1918(大正 7)	パリで講和会議→1919年にベルサイユ条約
1919(大正 8)	日本に対し，朝鮮で三・一独立運動，中国で五・四運動 インドでは，ガンディーを中心にイギリスからの独立運動
1920(大正 9)	国際連盟発足：アメリカ大統領ウィルソンが提唱
1921(大正 10)	大正デモクラシー：吉野作造の民本主義，美濃部達吉の天皇機関説
1923(大正 12)	関東大震災が起り，東京は壊滅状態に
1924(大正 13)	第二次護憲運動→加藤高明内閣が成立
1925(大正 14)	普通選挙法(25歳以上の男子に選挙権)，治安維持法(社会主義の取締り)
1929(昭和 4)	世界恐慌→アメリカではルーズベルト大統領のニューディール政策 イギリス・フランスはブロック経済，ドイツではヒトラーの独裁 イタリアではムッソリーニの独裁，ソ連ではスターリンの計画経済
1931(昭和 6)	満州事変→1932年満州国を建国させる
1932(昭和 7)	五・一五事件：犬養毅首相暗殺さる→政党政治の終了
1936(昭和 11)	二・二六事件
1937(昭和 12)	日中戦争始まる→中国の国民党と共産党，抗日民族統一戦線を結成
1938(昭和 13)	国家総動員法：国民の徴用，物資の調達
1939(昭和 14)	ドイツのポーランド侵入→第二次世界大戦
1940(昭和 15)	政党を解散させ，大政翼賛会を結成
1940(昭和 15)	日独伊三国同盟
1941(昭和 16)	日ソ中立条約
1941(昭和 16)	ハワイ真珠湾を奇襲→太平洋戦争：首相は東条英機
1945(昭和 20)	3月沖縄戦，8月広島と長崎に原爆が投下される ポツダム宣言を受諾して，敗戦

年代	おもなできごと
1914(大正 3)	()半島はヨーロッパの(), オーストリア皇太子暗殺事件 第一次世界大戦→日本は()同盟を根拠にドイツを攻撃
1915(大正 4)	日本の中国に対する()の要求
1917(大正 6)	()革命：指導者は()→ドイツと単独講和, アメリカ参戦
1918(大正 7)	()騒動：()県, ()出兵を見込んだ商人の米買い占め→米価高騰 最初の本格的政党内閣：()内閣
1918(大正 7)	パリで講和会議→1919年に()条約
1919(大正 8)	日本に対して, 朝鮮で()運動, 中国で()運動 インドでは, ()を中心にイギリスからの独立運動
1920(大正 9)	()発足：アメリカ大統領()が提唱
1921(大正 10)	大正デモクラシー：()の民本主義, ()の天皇機関説
1923(大正 12)	()が起こり, 東京は壊滅状態に
1924(大正 13)	第二次()運動→加藤高明内閣が成立
1925(大正 14)	()法(25歳以上の男子に選挙権), ()法(社会主義の取締り)
1929(昭和 4)	()→アメリカでは()大統領の()政策 イギリス・フランスは()経済, ドイツでは()の独裁 イタリアでは()の独裁, ソ連では()の計画経済
1931(昭和 6)	()事変→1932年満州国を建国
1932(昭和 7)	()事件：()首相暗殺さる→政党政治の終了
1936(昭和 11)	()事件
1937(昭和 12)	()戦争始まる→中国の国民党と共産党, ()戦線を結成
1938(昭和 13)	()法：国民の徴用, 物資の調達
1939(昭和 14)	ドイツの()侵入→第二次世界大戦
1940(昭和 15)	政党を解散させ, ()会を結成
1940(昭和 15)	()同盟
1941(昭和 16)	()条約
1941(昭和 16)	ハワイ()湾を奇襲→()戦争：首相は東条英機
1945(昭和 20)	3月()戦, 8月広島, 長崎に原爆が投下される ()宣言を受諾して, 敗戦

(参考) 第一次大戦行く銃士(1914)／引く否(1917)とレーニンロシア革命／行く人は(1918)やる米騒動／行く行く(1919)排日五・四運動／一苦にお(1920)う国際連盟／幾人さ(1923)まよう大震災／幾人殺(1925)した治安維持法／ひどく憎(1929)い世界恐慌／いくさ人(1931)満州事変に勇みたち／いくさに(1932)反対犬養さん／国際連盟引くサッサ(1933)／二・二六ひどく寒い(1936)日におこる／いくさ長(1937)びく日中戦争／いくさは(1938)みなで総動員／戦苦(1939)しい第二次大戦／行くぞよい(1941)かと真珠湾／人窮し降(1945)伏ポツダム受諾

【】 第一次世界大戦

[要点]

- (1) ヨーロッパの火薬庫と呼ばれていたバルカン半島のサラエボで、オーストリアの皇太子がセルビアの青年に暗殺される事件が起きた。ドイツ、オーストリアの同盟国側と、セルビアを助けるロシア、イギリス、フランスの連合国側の間で、第一次世界大戦が始められた。
- (2) 大戦が始まると、日本は日英同盟を根拠に連合国側にたってドイツを攻撃した。また、日本は中国に対して二十一か条の要求を突きつけた。1917年にレーニンを指導者としたロシア革命がおこり、ロシアはドイツと単独講和を結んだ。1917年、アメリカが参戦し、ドイツは1918年に降伏した。
- (3) 1919年、講和会議がフランスのパリで開かれた。アメリカ大統領のウィルソンの提唱により、1920年に平和のための組織として国際連盟が設立された。その本部はスイスのジュネーブに置かれた。1921年にワシントン会議が開催された。戦後、ドイツではワイマール憲法が制定され、20歳以上の男女の普通選挙や社会権が規定された。
- (4) 1919年、朝鮮で日本からの独立を求めて、三・一独立運動がおこり、中国でも、日本が突きつけた二十一か条の要求の取消を求める五・四運動がおこった。インドでは、ガンディーの指導のもと、イギリスに対する非暴力・不服従の抵抗運動が起こった。

[要点確認]

- (1) ヨーロッパの()と呼ばれていた()半島のサラエボで、()の皇太子が()の青年に暗殺される事件が起きた。ドイツ、オーストリアの()国側と、セルビアを助けるロシア、イギリス、フランスの()国側の間で、()大戦が始められた。
- (2) 大戦が始まると、日本は()同盟を根拠に連合国側にたって()を攻撃した。また、日本は中国に対して()を突きつけた。1917年に()を指導者とした()革命がおこり、ロシアはドイツと単独講和を結んだ。1917年、()が参戦し、ドイツは1918年に降伏した。
- (3) 1919年、講和会議がフランスの()で開かれた。アメリカ大統領の()の提唱により、1920年に平和のための組織として()が設立された。その本部はスイスのジュネーブに置かれた。1921年に()会議が開催された。戦後、ドイツでは()憲法が制定され、20歳以上の男女の普通選挙や()権が規定された。

- (4) 1919年、朝鮮で日本からの独立を求めて、()運動がおり、中国でも、日本が突きつけた二十一か条の要求の取消を求め()運動がおりた。インドでは、()の指導のもと、イギリスに対する非暴力・()の抵抗運動がおりた。

[列強の対立・第一次世界大戦]

[問題]

次の各問いに答えよ。

- (1) 複雑な民族対立とヨーロッパ列強の利害の対立のために、ある半島は戦争がおりる危険性が高かった。①この半島の名前を答えよ。②この半島の位置を右図のア～エから選べ。③この半島はヨーロッパの何と呼ばれていたか。



- (2) (1)の半島で対立していた2つの陣営について、
 ① イギリスを中心にフランス・ロシアの三国が結んでいた同盟を何というか。
 ② ドイツを中心にオーストリア・イタリアの三国が結んでいた同盟を何というか。
- (3) 1914年、(①)という都市でオーストリアの皇太子夫妻が(②)人の青年に暗殺されるという事件がおり、これをきっかけにして(③)大戦が勃発した。

[解答欄]

(1)①	②	③
(2)①	②	(3)①
②	③	

[解答](1)① バルカン半島 ② エ ③ ヨーロッパの火薬庫 (2)① 三国協商 ② 三国同盟 (3)① サラエボ ② セルビア ③ 第一次世界

[問題]

次の各問いに答えよ。

- (1) 第一次世界大戦が始まったのは何年か。
- (2) ①第一次世界大戦が始まると、オーストリアの側についたのは同盟国側か連合国側か。②また、オーストリア以外の2国をあげよ。
- (3) ①第一次世界大戦が始まると、セルビアの側についたのは同盟国側か連合国側か。②また、3国をあげよ。
- (4) きんごくどうめい三国同盟から脱退し、のちに連合国側について参戦した国はどこか。
- (5) 第一次世界大戦で使われた新兵器を3つあげよ。

[解答欄]

(1)	(2)①	②	
(3)①	②	(4)	
(5)			

【解答】(1) 1914年 (2)① 同盟国側 ② ドイツ, トルコ (3)① 連合国側 ② ロシア, イギリス, フランス (4) イタリア (5) 戦車, 飛行機, 毒ガス

[日本の参戦・ロシア革命]

[問題]

次の各問いに答えよ。

- (1) 第一次世界大戦が始まると日本は連合国側にたつてある国を攻撃したが、①その根拠となった同盟は何か。②また、日本が攻撃した「ある国」とはどこか。
- (2) 第一次世界大戦が始まると日本は中国に対して要求を突きつけたが、何という要求か。
- (3) 大戦中の1917年にロシアで起こった革命は何か。
- (4) (3)の革命の指導者は誰か。
- (5) 1917年に連合国側について参戦した国はどこか。

[解答欄]

(1)①	②	(2)	
(3)	(4)	(5)	

【解答】(1)① にちえいどうめい日英同盟 ② ドイツ (2) 二十一か条の要求 (3) ロシア革命 (4) レーニン (5) アメリカ

【問題】

次の各問いに答えよ。

- (1) 第一次世界大戦が始まると日本は参戦したが、その目的は何か。
- (2) 日本は、ドイツの中国における拠点を攻撃したが、何半島のどこか。
- (3) 二十一か条の要求を認めたときの中国政府の総統はだれか。
- (4) 二十一か条の要求の内容は、ドイツがもっていた(①)半島における利権を日本が引きつぐことを認めること、(②)などでの日本の利権を延長することなどであった。

【解答欄】

(1)	(2)	
(3)	(4)①	②

【解答】(1) 中国における権益を拡大すること。 (2) 山東半島の青島チンタオ (3) 袁世凱えんせいがい (4)①
山東シヤントン ② 南満州みなみまんしゅう

【問題】

次の各問いに答えよ。

- (1) ロシア革命は何年か。
- (2) ロシア革命によって、ロシアは新しい国家体制にか変わったが、何主義にもとづくものであったか。
- (3) ロシア革命後、ロシアは何という国になったか。正式国名を答えよ。
- (4) ロシア革命がおこると日本は革命に干渉かんしやうするため軍隊を送ったが、これを何というか。

【解答欄】

(1)	(2)	(3)
(4)		

【解答】(1) 1917年 (2) 社会主義 (3) ソビエト社会主義共和国連邦れんぽう (4) シベリア出兵

[国際協調の高まり]

[問題]

次の各問いに答えよ。

- (1) 第一次世界大戦の講和会議が開かれた都市はどこか。
- (2) 第一次世界大戦の講和条約を何というか。
- (3) 講和会議のとき、平和のための組織としてつくられたものは何か。
- (4) (3)を提唱したの^{ていしょう}のはどこの国の誰か。

[解答欄]

(1)	(2)	(3)
(4)		

[解答](1) パリ (2) ベルサイユ条約 (3) 国際連盟 (4) アメリカのウィルソン(大統領)

[問題]

次の各問いに答えよ。

- (1) パリ講和会議は何年か。
- (2) ベルサイユ条約で、巨額の賠償金や軍備縮小などをおしつけられた国はどこか。
- (3) アメリカのウィルソンは「無併合、無賠償、()」を主張した。
- (4) (3)の原則に従って、戦後新しい独立国が生まれたのはどの地域か。
- (5) 国際連盟が設立されたのは何年か。
- (6) 国際連盟の本部は何という国のどこに設置されたか。
- (7) 国際連盟が設立された目的を簡単に書け。
- (8) 国際連盟には欠点がいくつかあり、結果として第二次世界大戦が起きたが、その欠点とは何か、説明せよ。
- (9) 国際連盟では、日本はどのような地位を得たか。
- (10) 国際連盟本部で、事務局次長として活躍した右の写真の日本人は誰か。
- (11) 最初、国際連盟に参加しなかった大国を3つあげよ。
- (12) 1921年に開かれた^{ぐんしゆくかいぎ}軍縮会議を何というか。



【解答欄】

(1)	(2)	(3)	(4)
(5)	(6)	(7)	
(8)			(9)
(10)	(11)		(12)

【解答】(1) 1919年 (2) ドイツ (3) 民族自決 (4) 東ヨーロッパ (5) 1920年 (6) スイスのジュネーブ (7) 世界平和を守るため。(8) 平和を維持するための強制力をもたなかったこと。(9) 常任理事国 (10) 新渡戸稲造 (11) アメリカ, ソ連, ドイツ (12) ワシントン会議

【アジアの民族運動など】

【問題】

次の各問いに答えよ。

- (1) 戦後朝鮮でおこった民族独立運動は何か。
- (2) (1)の独立運動は、どこからの独立を求めたか。
- (3) 二十一か条の要求に対して、1919年に中国の民衆がおこした運動は何か。
- (4) インドでおこった独立運動について、①指導者は誰か。②どこからの独立を求めたものか。
- (5) 敗戦国ドイツで制定され、当時もっとも民主的といわれた憲法は何か。
- (6) (5)の憲法では選挙権はどのように定められたか。

【解答欄】

(1)	(2)	(3)
(4)①	②	(5)
(6)		

【解答】(1) 三・一独立運動 (2) 日本 (3) 五・四運動 (4)① ガンディー ② イギリス (5) ワイマール憲法 (6) 20歳以上の男女

[問題]

次の各問いに答えよ。

- (1) 1919年の五・四運動は、どこの国でおきたか。
- (2) 五・四運動は、1915年に日本が突きつけた要求の取消を求めた運動であったが、何とよばれる要求か。
- (3) 五・四運動をきっかけに孫文そんぶんがつくった政党は何か。
- (4) 孫文の死後、国民政府をつくったのは誰か。
- (5) ガンディーが指導した独立運動の特徴を書け。
- (6) 大戦の被害が少なく、連合国への物資供給でもっとも豊かな国となったのはどこか。

[解答欄]

(1)	(2)	(3)
(4)	(5)	
(6)		

[解答](1) 中国 (2) 二十一か条の要求 (3) 中国国民党こくみんとう (4) 蔣介石しょうかいせき (5) 非暴力・不服従の抵抗運動を進めた。 (6) アメリカ

【】 大正デモクラシー

[要点]

- (1) 第一次世界大戦中の好景気によって物価が上昇したが、特に米価はシベリア出兵を見込んだ商人の買い占めにより異常な値上がりを見せた。1918年、富山県の漁村でおこった米騒動はたちまち全国に広がった。その結果、桂太郎内閣は倒れて、政友会の原敬による最初の本格的政党内閣が生まれた。
- (2) 普通選挙と政党内閣の実現を求める声が高まり、吉野作造は民本主義を唱えた。こうした民主化を求める動きを大正デモクラシーという。憲政会の加藤高明を中心とする内閣ができ、1925年に普通選挙法が成立し、選挙権は満25歳以上の男子になった。しかし、同時に、社会主義運動をおさえるための治安維持法がつけられた。
- (3) 大正時代、労働運動がさかんになり、農村でも、小作料の減免を要求する小作争議が起こった。平塚らいてうは青鞞社を組織した。1922年には部落差別の解消をめざして全国水平社が結成された。

[要点確認]

- (1) 第一次世界大戦中の好景気によって物価が上昇したが、特に米価は()出兵を見込んだ商人の買い占めにより異常な値上がりを見せた。1918年、()県の漁村でおこった()はたちまち全国に広がった。その結果、()内閣は倒れて、政友会の()による最初の本格的()内閣が生まれた。
- (2) 普通選挙と政党内閣の実現を求める声が高まり、()は民本主義を唱えた。こうした民主化を求める動きを()という。憲政会の()を中心とする内閣ができ、1925年に()法が成立し、選挙権は満()歳以上の()になった。しかし、同時に、社会主義運動をおさえるための()法がつけられた。
- (3) 大正時代、労働運動がさかんになり、農村でも、小作料の減免を要求する()争議が起こった。()は青鞞社を組織した。1922年には部落差別の解消をめざして()が結成された。

[第一次護憲運動]

[問題]

次の文章中の①，②に適語を入れよ。

1912年，藩閥勢力の(①)内閣が議会を無視する態度をとったとして新聞や知識人が運動をおこし，それが各地に広まり，翌年，(①)内閣を退陣させた。これを(②)運動という。

[解答欄]

①	②
---	---

[解答]① かつらたろう 桂太郎 ② ごけん 第一次護憲

[大戦景気]

[問題]

次の各問いに答えよ。

- (1) 第一次世界大戦中の日本は好景気か不景気か。
- (2) 第一次世界大戦の①戦争前，②戦争中，③戦争後，日本の輸出と輸入はそれぞれどちらが多かったか。
- (3) 第一次世界大戦によって，日本の産業は急速に発達し，巨額の富を短期に築いた人が出た。この人々を何というか。

[解答欄]

(1)	(2)①	②	③
(3)			

[解答](1) 好景気 (2)① 輸入 ② 輸出 ③ 輸入 (3) なりきん 成金

[米騒動・本格的な政党内閣の成立]

[問題]

次の各問いに答えよ。

- (1) 第一次世界大戦中の急な米の値上がりからおきた 1918 年の出来事は何か。
- (2) (1)の米の値上がりは米商人があることをみこして米を買い占めたために起こった。あることとは何か。
- (3) (1)は何県でまずおこったか。
- (4) (1)の結果，てらうちまさたけ 寺内正毅内閣は倒れて最初の本格的政党内閣が生まれたが，この内閣を組織したのは，①何という政党の②誰か。

【解答欄】

(1)	(2)	(3)	(4)①
②			

【解答】(1) 米騒動 (2) シベリア出兵 (3) 富山県 (4)① 政友会 ② 原敬

【大正デモクラシーの思想】

【問題】

次の各問いに答えよ。

- (1) 第一次世界大戦後、民主主義を求める世界的な風潮の中で、日本でも民衆の政治活動がさかんになり、普通選挙と政党内閣の実現を求める声が高まった。日本における、このような民主主義を求める動きを何というか。
- (2) 普通選挙によって民意を政治に反映させることなどを主張した①人物は誰か。②また、その思想を何主義というか。
- (3) 議会政治を重んじ、「天皇は国家の機関の一つである」という天皇機関説を唱えた人物は誰か。

【解答欄】

(1)	(2)①	②
(3)		

【解答】(1) 大正デモクラシー (2)① 吉野作造 ② 民本主義 (3) 美濃部達吉

【関東大震災】

【問題】

次の各問いに答えよ。

- (1) 第一次世界大戦後の不景気をいっそうひどくした 1923 年の大災害を何というか。
- (2) (1)のさなか、朝鮮人に対するある悲惨な出来事がおこったが、それは何か。

【解答欄】

(1)	(2)
-----	-----

【解答】(1) 関東大震災 (2) 朝鮮人の虐殺

[普通選挙法の成立]

[問題]

次の各問いに答えよ。

- (1) 1925年に選挙制度の改正の法律が成立したが、何という法律か。
- (2) (1)によって選挙権の資格はどうなったか。
- (3) (1)が成立したとき、同時に制定された社会主義をとりしめるための法律は何か。
- (4) (1)や(3)の法律が制定されたときの内閣総理大臣は誰か。

[解答欄]

(1)	(2)	(3)
(4)		

[解答](1) ふつうせんきよほう 普通選挙法 (2) 満25歳以上の男子 (3) ちあんいじほう 治安維持法 (4) かとうたかあき 加藤高明

[社会運動の広がり]

[問題]

次の各問いに答えよ。

- (1) 労働運動では、日本労働総同盟が労働者の団結と解放を目指して労働争議を指導し、1920年5月1日には労働者の祭典である(①)が行われた。農村でも、小作料の減免を要求する(②)がひんぱんにおこった。
- (2) 1922年に江戸幕府の政策に由来する差別に苦しんできた人々が、自らの力で差別からの解放をすすめるために結成した組織を何というか。
- (3) ①「元始、女性は太陽であった」という言葉で有名な女性是谁か。②また、この女性が女性解放運動を進めるために作った組織は何か。

[解答欄]

(1)①	②	(2)	(3)①
②			

[解答](1)① メーデー (2) こさくそうぎ 小作争議 (2) ぜんこくすいへいしゃ 全国水平社 (3)① ひらつか 平塚らいてう (2) せいとう 青踏社

【問題】

次の各問いに答えよ。

- (1) 労働者の地位向上をめざして、労働条件の改善などを求めて運動することを何というか。
- (2) 労働争議が増えるとともに広まった思想を何主義というか。
- (3) 1911年に天皇暗殺計画に加わったという疑いで捕らえられ、12名が死刑にされるという事件がおこったが、①この事件を何というか。②また、その中心人物は誰か。

【解答欄】

(1)	(2)	(3)①	②
-----	-----	------	---

【解答】(1) 労働運動 (2) 社会主義 (3)① たいぎやく大逆事件 ② こうとくしゅうすい幸徳秋水

【大正時代の文化】

【問題】

次の各問いに答えよ。

- (1) 大正時代に()放送が始まり、新聞と並ぶ情報源になった。
- (2) 雑誌「しらかば白樺」によって新しい文化運動を始めたのは誰か。
- (3) ふうし風刺や苦悩を作品の中に表現し、「らしょうもん羅生門」や「鼻」を書いたのは誰か。
- (4) 「伊豆の踊り子」の作者で、のちにノーベル文学賞を受賞した作家は誰か。
- (5) プロレタリア文学をおこしたのは誰か。

【解答欄】

(1)	(2)	(3)	(4)
(5)			

【解答】(1) ラジオ (2) しがなおや志賀直哉 (3) あぐらがわりゅうのすけ芥川龍之介 (4) かわばたやすなり川端康成 (5) こばやしきたきじ小林多喜二

【】 世界恐慌・満州事変

[要点]

- (1) 1929年に世界恐慌がおこった。イギリスやフランスはブロック経済を行った。アメリカでは、ルーズベルト大統領がニューディール政策を実施した。イタリアでは、1922年にムッソリーニがファシスト党を率いて独裁政治を行い、ドイツではヒトラーのナチス党が政権をにぎった。ソ連はスターリンが五か年計画など計画経済を進めていたため世界恐慌の影響を受けなかった。
- (2) 1931年、軍部は南満州鉄道を爆破して満州事変をおこし、満州を占領し満州国を成立させた。国際連盟は日本の引き揚げを勧告した。これを不服とした日本は、1933年、国際連盟を脱退した。1932年に五・一五事件がおき、満州国の承認をしぶる犬養毅首相が暗殺された。これによって8年続いた政党政治は終わりをつげた。さらに、1936年、二・二六事件がおこり、有力な政治家、軍人が暗殺された。

[要点確認]

- (1) 1929年に()恐慌がおこった。イギリスやフランスは()経済を行った。アメリカでは、()大統領が()政策を実施した。イタリアでは、1922年に()が()党を率いて独裁政治を行い、ドイツでは()の()党が政権をにぎった。ソ連は()が五か年計画など計画経済を進めていたため世界恐慌の影響を受けなかった。
- (2) 1931年、軍部は南満州鉄道を爆破して()事変をおこし、満州を占領し()国を成立させた。国際連盟は日本の引き揚げを勧告した。これを不服とした日本は、1933年、国際連盟を脱退した。1932年に()事件がおき、満州国の承認をしぶる()首相が暗殺された。これによって8年続いた政党政治は終わりをつげた。さらに、1936年、()事件がおこり、有力な政治家、軍人が暗殺された。

[世界恐慌と各国の対応]

[問題]

次の各問いに答えよ。

- (1) 1929年から世界の景気が急激に悪くなるが、これは何という出来事が起こったからか。
- (2) (1)はどここの国から始まったか。
- (3) (1)のとき、公共事業をおこし、農産物を政府が買い上げ、労働者の権利を強めて国民の購買力を高めようとしたアメリカの政策を何というか。
- (4) (3)を実施した大統領は誰か。
- (5) (1)のとき、本国と自治領・植民地との結びつきを強めて恐慌を乗り越えようとした政策を何というか。
- (6) (5)を実施した国を2つあげよ。
- (7) ①民主主義を否定し、軍国主義による独裁政治をうちたて、外国を侵略しようとする考え方を何というか。②また、そのようになった国を2つあげよ。
- (8) ①ファシスト党内閣はどここの国でできたか。②また、その指導者は誰か。
- (9) ナチス党を率い独裁政治を行ったのは誰か。
- (10) (9)の政権が迫害したのは何人か。
- (11) 世界恐慌のとき、計画経済を進めていたためその影響を受けなかった国はどこか。
- (12) この当時の(11)の指導者は誰か。

[解答欄]

(1)	(2)	(3)
(4)	(5)	(6)
(7)①	②	(8)①
②	(9)	(10)
(11)	(12)	

[解答](1) 世界恐慌 (2) アメリカ (3) ニューディール政策 (4) ルーズベルト (5) ブロック経済 (6) イギリス, フランス (7)① ファシズム ② ドイツ, イタリア (8) ① イタリア ② ムッソリーニ (9) ヒトラー (10) ユダヤ人 (11) ソ連 (12) スターリン

【問題】

次の各問いに答えよ。

- (1) ニューヨークで()が大暴落すると、その混乱は世界中に広まった。
- (2) 世界恐慌は何年に始まったか。
- (3) ニューディール政策の内容を説明せよ。
- (4) イタリアで 1922 年にムッソリーニに率いられて政権を握った政党の名前は何か。
- (5) ヒトラーが率いた政党は何か。
- (6) ヒトラー政権が破棄した条約は何か。
- (7) 社会主義者をはじめナチスに反対する人々の抵抗運動が各地で起こったが、この抵抗運動を何というか。
- (8) 世界恐慌が深刻になった 30 年代、ソ連は逆に飛躍的に工業が発展しているが、それはなぜか。
- (9) ソ連において、重工業の建設のために、1928 年から始められた計画は何か。

【解答欄】

(1)	(2)	
(3)		
(4)	(5)	(6)
(7)		
(8)		
(9)		

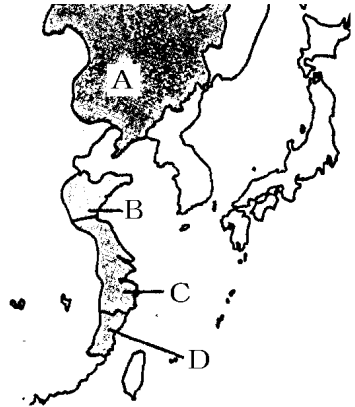
【解答】(1) 株価 (2) 1929 年 (3) 公共事業をおこし、農産物を政府が買い上げ、労働者の権利を強めて国民の購買力を高めようとした。(4) ファシスト党 (5) ナチス党 (6) ベルサイユ条約 (7) レジスタンス (8) 社会主義経済で資本主義経済の影響を受けなかったから。(9) 五か年計画

[満州事変と軍部の台頭]

[問題]

次の各問いに答えよ。

- (1) 1931年、日本軍は南満州鉄道^{みなみまんしゅうてつどう}を爆破し、これを中国軍のしわざだとして軍事行動を起こし、満州を占領した。この事件を何というか。
- (2) ①(1)のち、日本が溥儀^{ふぎ}を皇帝^{こうてい}にしてつくった国は何か。②また、それは右の地図のA～Dのどこか。
- (3) 国際連盟は満州国不承認と日本軍の撤兵を決議したが、これに対して日本はどのような行動をとったか。
- (4) 1932年、海軍の将校が首相を暗殺する事件が起きたが、何という事件か。
- (5) (4)の事件で暗殺された首相は誰か。
- (6) 1936年、陸軍の青年将校が反乱をおこして有力な政治家、軍人を暗殺する事件をおこしたが、これを何というか。



[解答欄]

(1)	(2)①	②	
(3)		(4)	(5)
(6)			

[解答](1) 満州事変^{まんしゅうじへん} (2)① 満州国^{まんしゅうこく} ② A (3) 国際連盟を脱退した。 (4) 五・一五事件^{いぬかいつよし} (5) 犬養毅 (6) 二・二六事件

[問題]

次の各問いに答えよ。

- (1) ①1930年に開かれた軍縮会議は何か。②また、この軍縮を積極的に進めた首相で、右翼に狙撃された人物は誰か。
- (2) 満州事変のとき関東軍によって爆破された鉄道は何鉄道か。
- (3) 中国の国民政府の中国統一の動きに対して、満州の権益が危うくなることをおそれた軍の一部の軍人が満州事変をおこしたが、この当時の中国の国民政府の指導者は誰か。
- (4) 満州事変がおこったのは何年か。
- (5) 日本によって満州国の皇帝にまつり上げられたのは、中国の何という王朝の元皇帝であったか。
- (6) (5)の皇帝は誰か。
- (7) 満州事変に対して国際連盟は何という調査団をおくったか。
- (8) 五・一五事件がおこったのは何年か。
- (9) 五・一五事件の歴史的意義は何か。
- (10) 二・二六事件がおこったのは何年か。
- (11) 五・一五事件、二・二六事件の結果、政治の上で勢力を強めたのは何か。
- (12) 次のア～エを年代の古い順に並べて記号で書け。
 - ア 国際連盟を脱退する。
 - イ 陸軍の青年将校が首相や大臣をおそう。
 - ウ 北京郊外で日中両軍が衝突する。
 - エ 首相の犬養毅が暗殺される。

[解答欄]

(1)①	②	(2)	
(3)	(4)	(5)	(6)
(7)	(8)	(9)	
(10)	(11)	(12)	

【解答】(1)① ロンドン軍縮会議 ② 浜口雄幸 (2) 南満州鉄道 (3) 蔣介石 (4) 1931年 (5) 清 (6) 溥儀 (7) リットン調査団 (8) 1932年 (9) 政党政治が終わったこと。
 (10) 1936年 (11) 軍部 (12) エ, ア, イ, ウ

【】 日中戦争・第二次世界大戦

[要点]

- (1) 1937年、北京郊外の盧溝橋で日中両軍の軍事衝突がおこり、日中戦争が始まった。中国では、蔣介石の国民政府と毛沢東の共産党が抗日民族統一戦線を作った。戦争の長期化にともない、国民を徴用したり、物資を調達したりすることができるようにした国家総動員法が制定され、政党は解散させられ大政翼賛会が作られた。
- (2) ドイツは1939年にポーランドに侵入し、イギリスとフランスがドイツに宣戦布告し、こうして第二次世界大戦が始まった。1940年、日本は日独伊三国同盟をむすび、1941年にソ連との間に日ソ中立条約をむすんだ。これに対して、アメリカは日本への石油輸出の全面停止を行い、追い込まれた日本は、1941年、ハワイの真珠湾を奇襲し、アメリカとイギリスを相手として太平洋戦争を始めた。
- (3) 1942年6月のミッドウェー海戦での敗北をさかいに、戦局は悪化し、兵士の不足に対処するため学徒出陣も行った。1945年4月、アメリカ軍は沖縄県に上陸した。1945年8月6日に広島に、8月9日に長崎に原爆が投下された。この間の8月8日、ソ連は日ソ中立条約を一方的に破棄して日本への攻撃を開始した。8月15日、日本はポツダム宣言を受諾して、連合軍に降伏した。

[要点確認]

- (1) 1937年、北京郊外の盧溝橋で日中両軍の軍事衝突がおこり、()戦争が始まった。中国では、蔣介石の国民政府と毛沢東の共産党が()戦線を作った。戦争の長期化にともない、国民を徴用したり、物資を調達したりすることができるようにした()法が制定され、政党は解散させられ()会が作られた。
- (2) ドイツは1939年に()に侵入し、イギリスとフランスがドイツに宣戦布告し、こうして()大戦が始まった。1940年、日本は()同盟をむすび、1941年にソ連との間に()条約をむすんだ。これに対して、アメリカは日本への石油輸出の全面停止を行い、追い込まれた日本は、1941年、ハワイの()を奇襲し、アメリカとイギリスを相手として()戦争を始めた。
- (3) 1942年6月のミッドウェー海戦での敗北をさかいに、戦局は悪化し、兵士の不足に対処するため()出陣も行った。1945年4月、アメリカ軍は()県に上陸した。1945年8月6日に()に、8月9日に()に原爆が投下された。この間の8月8日、()は日ソ中立条約を一方的に破棄して日本への攻撃を開始した。8月15日、日本は()宣言を受諾して、連合軍に降伏した。

[日中戦争と戦時体制]

[問題]

次の各問いに答えよ。

- (1) 1937年、北京郊外で一発の銃声がおこり、これをきっかけに日中両軍の軍事衝突がおこり、全面戦争に発展したが、この戦争を何というか。
- (2) (1)のころ、中国では、国民政府と中国共産党が対立していたが、それぞれの当時の指導者を答えよ。
- (3) (1)が始まったあと、日本に対抗するために国民政府と中国共産党が協力してつくった戦線を何というか。
- (4) 1938年、国民を徴用したり、物資を調達したりすることができるようにした法律ができたが、何という法律か。
- (5) 1940年政党は解散させられ()が作られた。

[解答欄]

(1)	(2)国民政府：	共産党：
(3)	(4)	(5)

[解答](1) 日中戦争 (2)国民政府：蔣介石 共産党：毛沢東 (3)抗日民族統一戦線 (4) 国家総動員法 (5) 大政翼賛会

[問題]

次の各問いに答えよ。

- (1) (①)年、(②)で日中両国軍の武力衝突がおこり、日中戦争が始まった。
- (2) 日中戦争のさなか、日本軍による中国人の虐殺があった都市はどこか。
- (3) 国家総動員法の目的は何か。
- (4) 日本は、朝鮮人に日本式の姓名を名乗るように強制したが、これを何というか。
- (5) 朝鮮では日本語の強制や、志願兵制度が行われた。これらの政策を何というか。

[解答欄]

(1)①	②	(2)
(3)		
(4)	(5)	

[解答](1)① 1937 ② 盧溝橋 (2) 南京 (3) 資源や人力を戦争のために使用すること。(4) 創氏改名 (5) 皇民化

[第二次世界大戦の始まり]

[問題]

次の各問いに答えよ。

- (1) ドイツは、ソ連と(①)条約を結んだうえで、(②)に侵攻した。
- (2) (1)に対し、ヨーロッパの2つの国がドイツに宣戦布告した。2国とはどこか。
- (3) (2)によって始まった戦争を何というか。
- (4) ①このころのドイツの指導者は誰か、②また、①が率いた政党名を答えよ。

[解答欄]

(1)①	②	(2)
(3)	(4)①	②

[解答](1)① 独ソ不可侵条約 ② ポーランド (2) イギリス, フランス (3) 第二次世界大戦 (4)① ヒトラー ② ナチス

[問題]

次の各問いに答えよ。

- (1) ドイツが絶滅をめざし数百万人を虐殺した民族は何か。
- (2) (1)のためにつくった強制収容所の中で、右の写真のポーランドにある最も有名な強制収容所の名前を答えよ。
- (3) 迫害の犠牲者となった右の少女の名を答えよ。
- (4) ドイツの占領地で起きた、ドイツに対する抵抗運動をカタカナで何というか。



[解答欄]

(1)	(2)	(3)
(4)		

[解答](1) ユダヤ人(ユダヤ民族) (2) アウシュビッツ強制収容所 (3) アンネ・フランク (4) レジスタンス

[日本の南進・日米交渉の決裂]

[問題]

次の各問いに答えよ。

- (1) 日本が東南アジアに武力による南進を行った目的は何か。「ルート」「資源」という語句を使って、簡潔に説明せよ。
- (2) 東南アジアへの進出を正当化するために、「日本の指導のもと、欧米の植民地支配を打破しアジアの諸民族だけで繁栄しよう」として、日本が唱えた理念を漢字 6 文字で答えよ。
- (3) 次の文章中の①～⑤に適語を入れよ。

日本は 1940 年に(①)領インドシナの北部に軍を進め、次いで、ドイツ、イタリアと(②)同盟を結んだ。さらに、1941 年、ソ連と(③)条約を結び、北方の安全を確保したうえで、(①)領インドシナの南部を占領した。これに対し、アメリカは日本に対して(④)などの輸出を禁止し、イギリス、オランダ、中国がこれに同調した。戦争に不可欠な(④)などをたたれた日本では、このように日本を経済的に封鎖する「(⑤)包囲陣」を打ち破るには早期に開戦するしかないという強硬論が高まった。

[解答欄]

(1)			
(2)	(3)①	②	③
④	⑤		

[解答](1) 援蔣ルートをたちきるとともに、石油やゴムなどの資源を獲得するため。(2) だいたうあきょうえいけん大東亜共栄圏 (3)① フランス ② にちどくいさんごく日独伊三国 ③ 日ソ中立 ④ 石油 ⑤ ABCD

[太平洋戦争の始まり]

[問題]

次の各問いに答えよ。

- (1) 日本はアメリカの海軍基地のある場所へ奇襲攻撃をしたが、その攻撃を行った場所の名前を答えよ。
- (2) (1)の場所を地図中のア～エより1つ選べ。
- (3) (1)の攻撃によって始まった戦争の名前を答えよ。
- (4) (1)は何年何月何日か。
- (5) 日本は(1)に奇襲をかけると同時に、地図のXの半島にも侵攻した。①Xの半島名と、②侵攻した目的を簡潔に書け。
- (6) (1)の戦争が始まったときの日本の首相の名前を答えよ。
- (7) (1)の戦争が始まったときのアメリカの大統領の名前を答えよ。



[解答欄]

(1)	(2)	(3)
(4)	(5)①	
②		(6)
(7)		

[解答](1) ハワイの真珠湾 (2) ア (3) 太平洋戦争 (4) 1941年12月8日 (5)① マレー半島 ② 石油などの資源の確保 (6) 東条英機 (7) ルーズベルト

[国民の動員・空襲と集団疎開]

[問題]

次の各問いに答えよ。

- (1) 日本軍は、開戦後半年間は戦争を有利に進めたが、1942年6月のある海戦での敗北をきっかけに戦局は不利になっていった。この海戦の名前を答えよ。
- (2) 1943年、それまで徴兵を猶予されていた文科系の大学生などが軍隊に召集される(①)も行われた。労働力が不足したため、中学生、女学生、未婚の女性などが、(②)の対象となり、軍需工場などで働くことになった。
- (3) 日本本土に空襲が激しくなったのは、1944年7月に何という島が占領されてからか。
- (4) 本土空襲が始まり、子供たちは集団で()した。

【解答欄】

(1)	(2)①	②
(3)	(4)	

【解答】(1) ミッドウェー海戦 (2)① 学徒出陣 ② 勤労動員 (3) サイパン島 (4) 疎開

【イタリアとドイツの降伏】

【問題】

次の文章中の①～③に適語を入れよ。

ヨーロッパでは、1943年9月にアメリカ・イギリス軍が(①)を降伏させた。1945年2月に、アメリカのルーズベルト、イギリスのチャーチル、ソ連のスターリンが(②) 会談を行い、ドイツの戦後処理とソ連の対日参戦などが決められた。1945年5月、(③)が降伏した。

【解答欄】

①	②	③
---	---	---

【解答】① イタリア ② ヤルタ ③ ドイツ

【沖縄戦・原爆・降伏】

【問題】

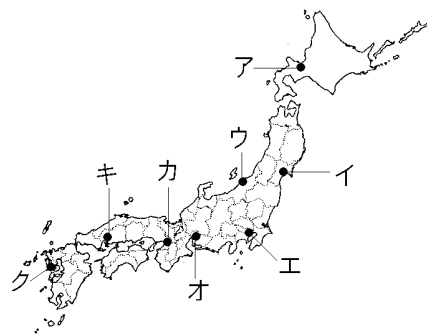
次の各問いに答えよ。

(1) 1945年3月10日に大空襲があった都市名とその位置を次の地図中のア～クの中から1つ選べ。

(2) 1945年3月にアメリカ軍が上陸し、はげしい戦闘がくり広げられ、県民の4人に1人が犠牲になった県はどこか。

(3) 1945年8月6日に原子爆弾が投下された都市を右の地図から選び、都市名と記号を答えよ。

(4) 1945年8月8日、日本との中立条約を破って参戦し、満州や朝鮮に侵攻してきた国はどこか。



- (5) 1945年8月9日に原子爆弾が投下された都市を地図から選び, 都市名と記号を答えよ。
- (6) 連合国が日本に無条件降伏を求めた宣言を何というか。
- (7) 日本が(6)を受諾した翌日, 天皇によって, ラジオ放送で日本国民に終戦が伝えられた。①この年月日を答えよ。②この放送を何というか。漢字4字で答えよ。

【解答欄】

(1)	(2)	(3)
(4)	(5)	(6)
(7)①	②	

【解答】(1) 東京, エ (2) 沖縄県 (3) 広島, キ (4) ソ連 (5) 長崎, ク (6) ポツダム宣言 (7)① 1945年8月15日 ② ^{ぎょくおん}玉音放送

【問題】

次の a～d を古い順に並べかえよ。

- a ドイツが連合国軍に降伏
- b イタリアが連合国軍に降伏
- c 広島・長崎に原子爆弾投下
- d 連合国軍が沖縄に上陸する

【解答欄】

【解答】b→d→a→c

【】 戦後～現代

[年表]

年代	おもなできごと
1946(昭和 20)	婦人参政権(20 歳以上の男女), 財閥解体
1946(昭和 21)	日本国憲法公布 農地改革(自作農の育成)
1949(昭和 24)	中華人民共和国成立: 主席は毛沢東
1950(昭和 25)	朝鮮戦争
1951(昭和 26)	サンフランシスコ平和条約を結び独立を回復, 日米安全保障条約
1956(昭和 31)	日ソ国交回復→国連への加盟
1965(昭和 40)	韓国と日韓基本条約を結ぶ。
1972(昭和 47)	沖縄の返還, 中国と国交回復
1973(昭和 48)	石油危機
1978(昭和 53)	中国と日中平和友好条約を結ぶ
1980 年代後半	バブル経済→崩壊
1989(平成 1)	ベルリンの壁の崩壊→翌年, 東西ドイツが統一。
1991(平成 3)	ソ連が解体
2001(平成 13)	アメリカで同時多発テロが発生

年代	おもなできごと
1946(昭和 20)	婦人参政権(20 歳以上の男女), ()解体
1946(昭和 21)	()憲法公布 ()改革(自作農の育成)
1949(昭和 24)	中華人民共和国成立: 主席は()
1950(昭和 25)	()戦争
1951(昭和 26)	()平和条約を結び独立を回復, ()保障条約
1956(昭和 31)	日ソ国交回復→()への加盟
1965(昭和 40)	韓国と()条約を結ぶ。
1972(昭和 47)	()の返還, ()と国交回復
1973(昭和 48)	()危機
1978(昭和 53)	中国と()条約を結ぶ
1980 年代後半	()経済→崩壊
1989(平成 1)	()の壁の崩壊→翌年, 東西ドイツが統一。
1991(平成 3)	()が解体
2001(平成 13)	アメリカで()テロが発生

(参考)ひどく喜び(1946)憲法発布/行くよ苦(1949)心の中国建国/ひどく号令(1950)朝鮮戦争/行く何人(1972)も中国へ

【】 戦後の民主化と冷戦

[要点]

- (1) 選挙制度が改正されて20歳以上の男女に選挙権が与えられた。日本国憲法は、1946年11月3日に公布され、1947年5月3日に施行された。経済を民主化するために財閥解体が実施され、封建的な地主・小作制度を改めるために農地改革が行われた。さらに、労働者の権利を守るために、労働基準法や労働組合法が制定され、民主的な教育を行うために、教育基本法が制定された。
- (2) 1945年に国際連合が成立した。戦後、アメリカを中心とした資本主義陣営とソ連を中心とした社会主義陣営の間の対立が激しくなった。この二大陣営の間の戦火を交えない争いは「冷たい戦争」と呼ばれた。中国では1949年に毛沢東を主席とする中華人民共和国が成立した。
- (3) 1950年に朝鮮戦争がおこり、アメリカは日本に警察予備隊をつくらせた。日本は、1951年に48か国との間に、サンフランシスコ平和条約を結んで独立を回復した。同時にアメリカとの間に日米安全保障条約を締結した。1956年には、ソ連との国交を回復し、日ソ共同宣言を発表した。これによって、日本は国際連合への加盟が認められた。
- (4) 1950年代半ばに結成された自民党は、その後38年間にわたって政権をとり続けた。これを55年体制と呼ぶ。

[要点確認]

- (1) 選挙制度が改正されて()歳以上の()に選挙権が与えられた。()憲法は、1946年11月3日に公布され、1947年5月3日に施行された。経済を民主化するために()解体が実施され、封建的な地主・小作制度を改めるために()が行われた。さらに、労働者の権利を守るために、労働基準法や労働組合法が制定され、民主的な教育を行うために、()法が制定された。
- (2) 1945年に国際連合が成立した。戦後、アメリカを中心とした資本主義陣営とソ連を中心とした社会主義陣営の間の対立が激しくなった。この二大陣営の間の戦火を交えない争いは「()戦争」と呼ばれた。中国では1949年に()を主席とする()国が成立した。
- (3) 1950年に()戦争がおこり、アメリカは日本に()隊をつくらせた。日本は、1951年に48か国との間に、()条約を結んで独立を回復した。同時にアメリカとの間に()条約を締結した。1956年には、()との国交を回復し、日ソ共同宣言を発表した。これによって、日本は国際連合への加盟が認められた。
- (4) 1950年代半ばに結成された自民党は、その後38年間にわたって政権をとり続けた。これを()体制と呼ぶ。

[占領下の日本・日本国憲法]

[問題]

次の各問いに答えよ。

- (1) 戦後日本は占領下に置かれたが、GHQの最高司令官として来日したのは誰か。
- (2) 改正された憲法の正式名称は何か。
- (3) (2)の公布は何年何月何日か。
- (4) (2)の施行は何年何月何日か。
- (5) (2)の三大原則は何か。
- (6) (2)では天皇を日本国の何と定めているか。
- (7) 戦後選挙権の資格はどうなったか。

[解答欄]

(1)	(2)	(3)
(4)	(5)	
(6)	(7)	

[解答](1) マッカーサー (2) 日本国憲法 (3) 1946年11月3日 (4) 1947年5月3日 (5) 基本的人権の尊重, 国民主権, 平和主義 (6) 象徴 (7) 20歳以上の男女

[問題]

次の各問いに答えよ。

- (1) 戦争が終わるとともに、連合軍が日本に入ってきた。どこの国が中心となった軍隊か。
- (2) マッカーサーを司令長官として、日本の政治の方針を指令した連合軍最高司令官総司令部の略称をアルファベット3文字で答えよ。
- (3) 戦争責任者を裁くために開かれた裁判は何か。
- (4) 日本国憲法の制定の過程として正しいものを、ア～エから1つ選び記号で答えよ。
ア 連合軍最高司令官総司令部が作成し、政府の考えはいっさい排除された。
イ 憲法改正案が国民から募集され、政府によって修正された。
ウ 連合軍最高司令官総司令部が示した憲法改正案にもとづいて、政府が作成した。
エ 政府が作成したものを、連合軍最高司令官総司令部が一部修正した。
- (5) 日本国憲法では、誰を主権者と定めているか。

- (6) 天皇が自分は神の子孫ではないという宣言を出したが、この宣言を何というか。
- (7) 1945年に選挙制度が改正された結果、1946年の全人口に対する有権者数の割合は大幅に増加した。その理由を、資格改正の点から説明せよ。

【解答欄】

(1)	(2)	(3)	(4)
(5)	(6)		
(7)			

【解答】(1) アメリカ (2) GHQ (3) 東京裁判 (4) ウ (5) 国民 (6) 人間宣言 (7) 女性に選挙権があたえられ、年齢による資格が25歳以上から20歳以上に改正されたから。

【民主化】

【問題】

次の各問いに答えよ。

- (1) 自作農を増やし、封建的な地主・小作制度を改めた改革は何か。
- (2) 経済を民主化し自由競争をさかんにするために実施された政策は何か。
- (3) 労働者の団結権・団体交渉権・争議権などを定めた法律は何か。
- (4) 民主的な教育を行うために1947年制定された法律は何か。

【解答欄】

(1)	(2)	(3)	(4)
-----	-----	-----	-----

【解答】(1) 農地改革 (2) 財閥解体 (3) 労働組合法 (4) 教育基本法

【問題】

次の各問いに答えよ。

- (1) 農地改革によって、農家はどのように変わったか。次の言葉を使って説明せよ。

[小作農, 自作農]

- (2) 事業の独占を防ぐために作られた法律は何か。
- (3) (2)の法律の運営を行うために設置された組織は何か。
- (4) 労働組合法に定められている3つの労働者の権利は何か。
- (5) 労働時間8時間などを定めた法律は何か。
- (6) 社会主義者の活動をおさえるための法律が廃止されたが、何という法律か。
- (7) 新憲法に沿って、1947年に制定された地方政治に関する法律は何か。

【解答欄】

(1)		(2)
(3)	(4)	(5)
(6)	(7)	

【解答】(1) 小作農が減少して，自作農が増えた。 (2) 独占禁止法 (3) 公正取引委員会
 (4) 団結権，団体交渉権，団体行動権(争議権) (5) 労働基準法 (6) 治安維持法 (7)
 地方自治法

【国際連合と冷戦の始まり】

【問題】

次の各問いに答えよ。

- (1) 1945年に51の加盟国によって作られた国際組織は何か。
- (2) 第二次世界大戦後の国際社会で，超大国として大きな力を発揮した2つの国はどこか。
- (3) 資本主義圏と社会主義圏の戦火を交えない争いは何とよばれたか。
- (4) 1949年，中国で成立した社会主義国は何か。
- (5) (4)は誰を主席として成立したか。

【解答欄】

(1)	(2)	(3)
(4)	(5)	

【解答】(1) 国際連合 (2) アメリカとソ連 (3) 冷たい戦争(冷戦) (4) 中華人民共和国
 (5) 毛沢東

【問題】

次の各問いに答えよ。

- (1) 国際連合の本部はどこにおかれたか。都市名を答えよ。
- (2) 国際連合が作られた目的を説明せよ。
- (3) 国際連合の中心機関となっている理事会は何か。
- (4) 戦後，独立した国が多かった地域はどこか。
- (5) アメリカは資本主義体制をとっていたが，ソビエト連邦の国家体制は何であったか。
- (6) 米ソの対立の中で分割された国を1つ答えよ。ただし朝鮮はのぞく。

(7) 次のア～エの国は①アメリカ, ②ソビエト連邦のどちらの陣営か。①, ②で答えよ。

ア イギリス イ 中華人民共和国 ウ キューバ エ フランス

(8) 1949年にできた資本主義国の軍事同盟は何か。

(9) アメリカや西ヨーロッパ諸国に対抗して、ソ連は、1955年、()機構をつくった。

(10) 中国では日本との戦争が終わると再び内戦が始まったが、どことどこの争いで、それぞれの指導者は誰か。

【解答欄】

(1)	(2)	(3)	
(4)	(5)	(6)	(7)ア
イ	ウ	エ	(8)
(9)	(10)		

【解答】(1) ニューヨーク (2) 平和の維持 (3) あんぜんほしょうりじかい安全保障理事会 (4) アジア (5) 社会主義 (6) ドイツ (7)ア ① イ ② ウ ② エ ① (8) NATO(北大西洋条約機構) (9) ワルシャワ条約 (10) しょうかいせき蔣介石の国民政府と もうたくとう毛沢東の共産党

【朝鮮戦争・平和条約と安保条約】

【問題】

次の各問いに答えよ。

(1) 1950年にアジアで起こった戦争は何か。

(2) (1)の戦争が始まって在日アメリカ軍が出兵したときにアメリカが日本に作らせた組織で、現在の自衛隊の前身となったものは何か。

(3) 日本はある条約に調印して独立国としての主権を取りもどした。この条約は何か。

(4) (3)のときの日本の首相は誰か。

(5) (3)と同時に、アメリカと結んだ条約は何か。

【解答欄】

(1)	(2)	(3)
(4)	(5)	

【解答】(1) 朝鮮戦争 (2) 警察予備隊 (3) サンフランシスコ平和条約 (4) 吉田茂 しげる (5) にちべいあんぜんほしょう日米安全保障条約

【問題】

次の各問いに答えよ。

- (1) 朝鮮では 1948 年に 2 つの国に分かれた。北朝鮮，南朝鮮はそれぞれ何という国になったか。
- (2) 分割占領する時に使われた緯線は北緯何度の緯線か。
- (3) 朝鮮戦争が始まったのは何年か。
- (4) 朝鮮戦争のとき，北朝鮮を助けた国はどこか。
- (5) 朝鮮戦争は，当時のわが国の経済に大きな影響を与えた。この戦争が与えた影響を説明せよ。
- (6) 朝鮮戦争の後，アメリカが日本に作らせた警察予備隊は，現在では何という組織になっているか。
- (7) 日米安全保障条約で現在も多くのアメリカ人が駐留し，それをめぐる問題が起こっている都道府県はどこか。
- (8) サンフランシスコ平和条約によって，日本の国際的な立場はどう変化したか，説明せよ。

【解答欄】

(1)北朝鮮：	南朝鮮：	(2)
(3)	(4)	
(5)		
(6)	(7)	(8)

【解答】(1)北朝鮮：朝鮮民主主義人民共和国 南朝鮮：大韓民国 (2) 北緯38度線 (3) 1950年 (4) 中華人民共和国 (5) 大量の軍需品ぐんじゆひんがわが国で調達され，特需景気とくじゆけいきと呼ばれる好景気になった。(6) 自衛隊 (7) 沖縄県 (8) 主権(独立)を回復した。

[日ソ共同宣言]

[問題]

次の各問いに答えよ。

- (1) 1956年、ソ連との国交を回復したときに出された宣言は何か。
- (2) ソ連と国交を回復した年に、わが国はある国際組織への加盟が認められ、国際社会に復帰した。この国際組織を何というか。

[解答欄]

(1)	(2)
-----	-----

[解答](1) 日ソ共同宣言 (2) 国際連合

[原水爆禁止運動]

[問題]

次の文章中の①～③に適語を入れよ。

1954年、アメリカは(①)環礁で水爆実験を行った。このとき、(②)というマグロ漁船が被爆した。これがきっかけで、その後毎年、(③)大会が開かれるようになった。

[解答欄]

①	②	③
---	---	---

[解答]① ビキニ ② 第五福^{ふくりゆうまる}竜丸 ③ 原水爆禁止世界

[アジア・アフリカ会議]

[問題]

次の各問いに答えよ。

- (1) 新しく独立した国々が1955年にインドネシアで開いた会議を何というか。
- (2) (1)はインドネシアの何という都市で開かれたか。
- (3) 1960年に独立した国が多かったのはどの地域か。

[解答欄]

(1)	(2)	(3)
-----	-----	-----

[解答](1) アジア・アフリカ会議 (2) バンドン (3) アフリカ

[55年体制]

[問題]

次の各問いに答えよ。

- (1) 1955年に結成された自由民主党は、野党第一党の社会党と対立しながら38年間にわたって政権をとり続けた。これを何体制と呼ぶか。
- (2) 1960年の安保条約の改定で、はげしい反対運動が起きたが、これを何というか。

[解答欄]

(1)	(2)
-----	-----

[解答](1) 55年体制 (2) 安保闘争

【】 高度経済成長～現在

[要点]

1950年代半ばから日本は高度経済成長という急速な経済の成長をなしとげた。1960年の安保闘争の直後に成立した池田^{はやと}内閣は所得倍増をスローガンにかかげた。高度経済成長にともなって、水俣病(熊本県)、四日市ぜんそく(三重県)、イタイイタイ病(富山県)、新潟水俣病(新潟県)などの公害問題が深刻化した。公害問題に対処するため、国は、1967年に公害対策基本法を制定し、1971年には環境庁を設置した。20年近く高度成長を続けた日本経済は、アラブ諸国による石油価格の引き上げと石油の輸出制限が原因で、1970年代に石油危機(オイル・ショック)にみまわれたが、これによって、高度経済成長は終わりを告げた。

1972年にアメリカから沖縄^{へんかん}が返還された。同年、日本は日中共同声明によって中国との国交を正常化し、1978年には日中平和友好条約を結んだ。

1980年代後半から90年代はじめにかけて、地価や株価が異常な値上がりをしたが、このころの経済をバブル経済という。1991年、バブル経済が崩壊し、金融機関は回収不能な不良債権をかかえることになった。

1990年には東西ドイツが統一され、1991年にはソ連が解体してロシア連邦^{れんぽう}などが成立した。

[要点確認]

1950年代半ばから日本は()という急速な経済の成長をなしとげた。1960年の()闘争の直後に成立した池田^{はやと}内閣は所得倍増をスローガンにかかげた。高度経済成長にともなって、()(熊本県)、()(三重県)、()(富山県)、()(新潟県)などの公害問題が深刻化した。公害問題に対処するため、国は、1967年に()法を制定し、1971年には()庁を設置した。20年近く高度成長を続けた日本経済は、アラブ諸国による石油価格の引き上げと石油の輸出制限が原因で、1970年代に()にみまわれたが、これによって、高度経済成長は終わりを告げた。

1972年にアメリカから()^{へんかん}が返還された。同年、日本は()声明によって中国との国交を正常化し、1978年には()条約を結んだ。

1980年代後半から90年代はじめにかけて、地価や株価が異常な値上がりをしたが、このころの経済を()経済という。1991年、()経済が崩壊し、金融機関は回収不能な不良債権をかかえることになった。1990年には()が統一され、1991年には()が解体してロシア連邦^{れんぽう}などが成立した。

[高度経済成長と公害]

[問題]

次の文章中の①～④に適語を入れよ。

- 1950年代の後半から、日本経済は急速に成長をとげた。これを(①)という。
- 1964年には、(②)新幹線が開通し、東京(③)が開催された。これにともない高速道路網も拡充した。
- 1968年、日本の国民総生産(GNP)は、資本主義国の中でアメリカに次ぐ第(④)位になった。

[解答欄]

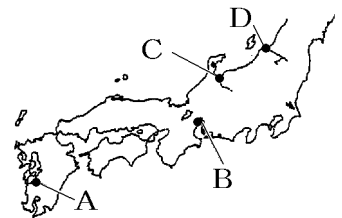
①	②	③	④
---	---	---	---

[解答]① 高度経済成長 ② 東海道 ③ オリンピック ④ 2

[問題]

次の各問いに答えよ。

- (1) 1950年代半ばから日本は急速な経済の成長をなしとげたが、このことを何というか。
- (2) (1)のころ、公害の発生が問題となった。右の地図の A～D で発生した四大公害病の名前をそれぞれ答えよ。
- (3) 公害問題に対処するために1967年に作られた法律は何か。
- (4) 公害問題に対処するために1971年に設けられた国の役所は何か。



[解答欄]

(1)	(2)A	B
C	D	(3)
(4)		

[解答](1) 高度経済成長 (2)A みなまたびょう水俣病 B よっかいち四日市ぜんそく C イタイイタイ病 D 新潟水俣病 (3) こうがいたいさくきほんほう公害対策基本法 (4) 環境庁

[60年代の国際関係]

[問題]

次の各問いに答えよ。

- (1) 1962年、ソ連が右図のXの国に核ミサイル基地を建設していることを発見したアメリカが海上封鎖を行い、米ソ間の対立が核戦争の一手手前まで来てその寸前で回避された。この事件を何というか。



- (2) 西ヨーロッパ諸国は、1967年にヨーロッパ共同体を設立したが、ヨーロッパ共同体の略称をアルファベット2字で答えよ。
- (3) アメリカは南ベトナムを支援し、1965年に北ベトナムへの激しい爆撃と地上軍の派遣を行った。この戦争を何というか。

[解答欄]

(1)	(2)	(3)
-----	-----	-----

[解答](1) キューバ危機 (2) EC (3) ベトナム戦争

[沖縄の復帰・韓国や中国との国交正常化]

[問題]

次の各問いに答えよ。

- (1) 1965年に韓国との間で結ばれた条約は何か。
- (2) 1972年にアメリカから返還された島は何か。
- (3) (2)の過程で、核兵器を「持たず、つくらず、持ちこませず」という()が国の方針になった。
- (4) 日本と中国は国交断絶の状態が続いていたが、1972年に(①)に調印し、国交が正常化した。さらに、1978年に(②)条約を結び、関係が深まった。

[解答欄]

(1)	(2)	(3)
(4)①	②	

[解答](1) 日韓基本条約 (2) 沖縄 (3) ひかくさんげんそく非核三原則 (4)①日中共同声明 ②日中平和友好

[石油危機]

[問題]

次の各問いに答えよ。

1973年に起きた()戦争をきっかけに石油価格が急上昇し、世界経済に打撃を与え、日本の経済成長が落ち込んだ。

- (1) このできごとを何というか。
- (2) 文中の()にあてはまる語句を答えよ。

[解答欄]

(1)	(2)
-----	-----

[解答](1) 石油危機(オイル・ショック) (2) 第四次中東

[バブル経済の崩壊]

[問題]

次の各問いに答えよ。

- (1) 1970～80年代に日本の輸出増加により貿易摩擦が生じた相手国はどこか。
- (2) 1980年代後半、企業による株式や土地への投資の増大から、株式や土地の価格が実体以上にふくらんだ。この経済状態を何というか。
- (3) 1990年代初めには、(2)が崩壊し、深刻な不況が続いた。これを何というか。

[解答欄]

(1)	(2)	(3)
-----	-----	-----

[解答](1) アメリカ (2) バブル経済 (3) 平成不況へいせいふきょう

[問題]

次の文章中の①～③に適語を入れよ。

(①)経済は1991年に崩壊し、長期にわたる平成不況のもとで、企業の倒産が増え、失業者が多くなった。景気はいったん回復したが、2008年の(②)危機によって、ふたたび深刻な不況が発生した。また、工場の海外移転による産業の(③)化や、財政赤字も大きな問題になった。

[解答欄]

①	②	③
---	---	---

[解答]① バブル ② 世界金融 ③ 空洞くうどう

[55年体制の終わり]

[問題]

次の文章中の①～③に適語を入れよ。

1993年に(①)を首相とする非自民連立内閣が成立し、自民党を与党、社会党を野党第一党とする(②)体制は終わった。その後、自民党はふたたび政権の座についたが、単独で内閣を組織するほどの力はなく、さまざまな政党と連立政権をつくった。2009年には、それにかわって(③)党を中心とする連立内閣ができた。2012年に、再び自民党が連立政権をつくった。

[解答欄]

①	②	③
---	---	---

[解答]① ほそかわもりひろ 細川護熙 ② 55年 ③ 民主

[冷戦終結後の世界]

[問題]

次の文の①～⑤に適語を入れよ。

1985年に成立したソ連の(①)政権は、西側陣営との関係改善を進めた。1989年には米ソ両国の首脳が地中海のマルタ島で会談し、(②)の終結を宣言した。東ヨーロッパ諸国では民主化運動が高まり、1990年には(③)の壁が壊されて東西(④)が統一された。翌1991年には(⑤)が解体してロシア連邦などが成立した。

[解答欄]

①	②	③	④
⑤			

[解答]① ゴルバチョフ ② 冷戦 ③ ベルリン ④ ドイツ ⑤ ソ連

[問題]

次の各問いに答えよ。

- (1) 先進資本主義諸国の協調をはかるため、1975年から毎年開かれているものは何か。
- (2) ヨーロッパ共同体(EC)は1993年に何という組織に発展したか。
- (3) 太平洋を囲む国々が参加する経済協力会議の名称をアルファベット4字で答えよ。

[解答欄]

(1)	(2)	(3)
-----	-----	-----

[解答](1) 主要先進国首脳会議(サミット) (2) EU (3) APEC

【問題】

次の文の①～⑥に適語を入れよ。

民族、宗教、文化の違いや国家間の対立などから、旧ユーゴスラビアの内戦をはじめ、各地で(①)紛争が起きている。中東では、(②)がクウェートに侵攻して、1991年に(③)戦争が勃発した。2001年にはアメリカのニューヨークなどで(④)テロがおこり、これを理由としてアメリカは(⑤)を攻撃した。さらに、2003年には(⑥)戦争が起きた。

【解答欄】

①	②	③	④
⑤	⑥		

【解答】① 地域 ② イラク ③ 湾岸^{わんがん} ④ 同時多発 ⑤ アフガニスタン ⑥ イラク

[印刷／他のPDFファイルについて]

※ このファイルは、FdText 社会(9,600 円)の一部を PDF 形式に変換したサンプルで、印刷はできないようになっています。製品版の FdText 社会は Word の文書ファイルで、印刷・編集を自由に行うことができます。

※ FdText(英語・数学・社会・理科・国語)全分野のPDFファイル、および製品版の購入方法は<http://www.fdtype.com/txt/> に掲載しております。

※ 弊社は、FdText のほかに FdData 中間期末過去問(数学・理科・社会)(各 18,900 円)を販売しております。PDF 形式のサンプル(全内容)は、

<http://www.fdtype.com/dat/> に掲載しております。

※ [FdData 無料閲覧ソフト(RunFdData)]を、Windows のデスクトップ上にインストールすれば、FdData 中間期末の全 PDF ファイルを自由に閲覧できます。次のリンクを左クリックするとインストールが開始されます。

【 <http://fddata.deci.jp/lnk/instRunFdDataWDs.exe> 】

※ダイアログが表示されたら、【実行】ボタンを左クリックしてください。インストール中、いくつかの警告が出ますが、[実行][許可する][次へ]等を選択します。

【Fd教材開発】(092) 404-2266

<http://www.fdtype.com/dat/>