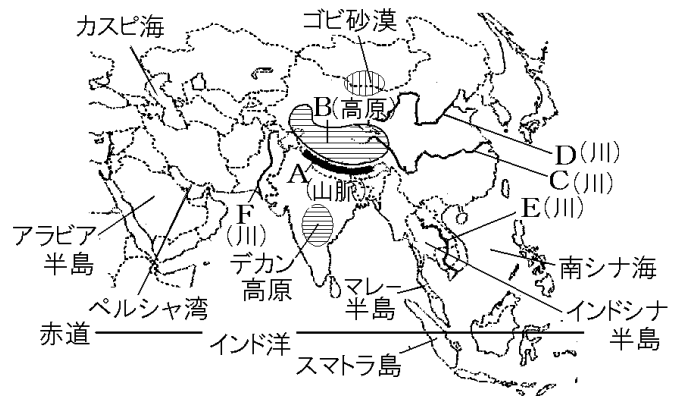


【1】アジア州

[要点：地形]

アジアの中央部には、8000mをこえる山々が連なるヒマラヤ山脈(右図のA)やチベット高原(B)があり、「世界の屋根」ともいわれている。それらの山地から、東には長江(C)、黄河(D)、南にはメコン川(E)、西にはインダス川(F)などの大きな川が流れ出ている。

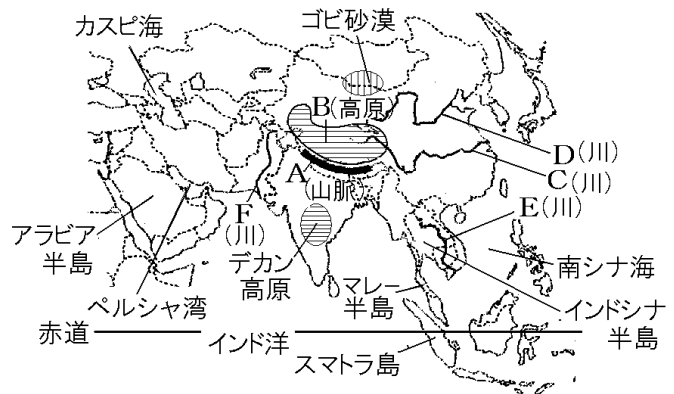


※出題頻度 「ヒマラヤ山脈◎」「チベット高原○」「長江◎」「黄河◎」「アラビア半島○」「メコン川○」「インダス川○」「インド洋○」

[問題]

次の文章中の①～⑥に適語を入れよ。

アジアの中央部には、8000mをこえる山々が連なる(①)山脈(右図のA)や(②)高原(B)があり、「世界の屋根」ともいわれている。それらの山地から、東には(③)(C)、(④)(D)、南には(⑤)川(E)、西には(⑥)川(F)などの大きな川が流れ出ている。



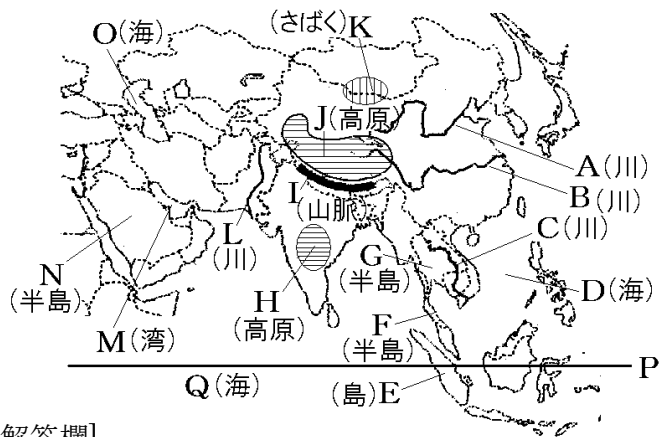
[解答欄]

①	②	③	④
⑤	⑥		

[解答]① ヒマラヤ ② チベット ③ 長江 ④ 黄河 ⑤ メコン ⑥ インダス

[問題]

次の地図中のA~Qの地形名を答えよ。



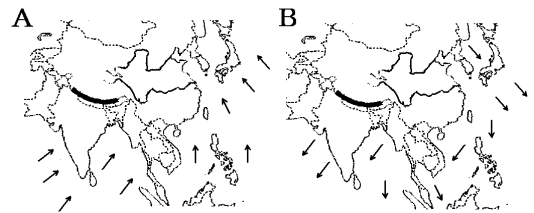
[解答欄]

A	B	C
D	E	F
G	H	I
J	K	L
M	N	O
P	Q	

[解答]A 黄河 B 長江 C メコン川 D 南シナ海 E スマトラ島 F マレー半島
 G インドシナ半島 H デカン高原 I ヒマラヤ山脈 J チベット高原 K ゴビ砂漠
 L インダス川 M ペルシャ湾 N アラビア半島 O カスピ海 P 赤道 Q インド洋

[要点：気候]

アジアの東部と南部では、右図のように、半年ごとに風向きが逆になり、夏はAのように海から陸へ、冬はBのように陸から海方向へ風がふく。




この風を季節風(モンスーン)という。

東南アジアやインドの気候は熱帯(右下図のP)で、

夏は海からの湿った季節風がふくため雨量が多い(雨季)。

冬は、大陸から乾燥した季節風がふくため雨量が少ない(乾季)。大陸内部から西アジアにかけては、太平洋やインド洋からの風の影響が及ばないため乾燥帯(Q)になっている。

日本や中国の気候は温帯(R)である。

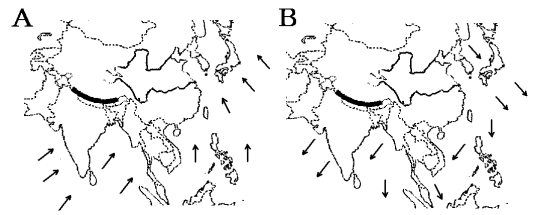


※出題頻度「季節風(モンスーン)◎」「夏と冬の風向き○」「雨温図を使った問題△」

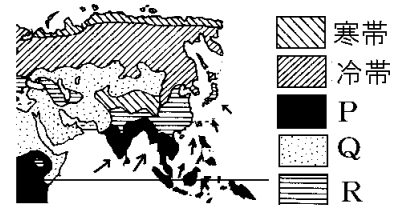
[問題]

次の文章中の①～⑧に適語を入れよ(または、適語を選べ)。

アジアの東部と南部では、右図のように、半年ごとに風向きが逆になり、夏は①(A/B)のように海から陸へ、冬は②(A/B)のように陸から海方向へ風がふく。この風を(③)という。



東南アジアやインドの気候は(④)帯(右下図のP)で、夏は海からの湿った季節風がふくため雨量が多い((⑤)季)。冬は、大陸から乾燥した季節風がふくため雨量が少ない((⑥)季)。大陸内部から西アジアにかけては、太平洋やインド洋からの風の影響が及ばないため(⑦)帯(Q)になっている。日本や中国の気候は(⑧)帯(R)である。



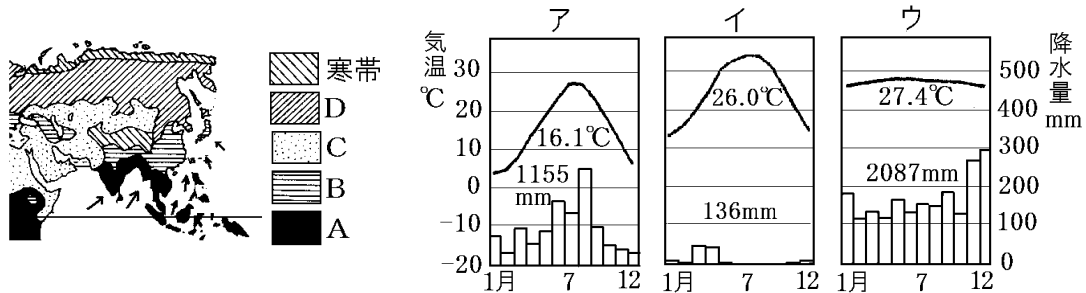
[解答欄]

①	②	③	④
⑤	⑥	⑦	⑧

[解答]① A ② B ③ 季節風(モンスーン) ④ 熱 ⑤ 雨 ⑥ 乾 ⑦ 乾燥 ⑧ 温

[問題]

次の各問いに答えよ。



- 図で示したA～Dの気候帯を答えよ。
- A～Cの気候帯の雨温図を上のア～ウからそれぞれ選べ。
- アジアの東部と南部では、夏と冬で風向が逆になる(①)が吹く。図の矢印方向の(①)が吹く季節は②(夏/冬)で、東南アジアなどでは海からの湿った風によって雨が多く降る(③)季になる。図とは反対に内陸から風が吹くのは④(夏/冬)で、(⑤)季になる。

[解答欄]

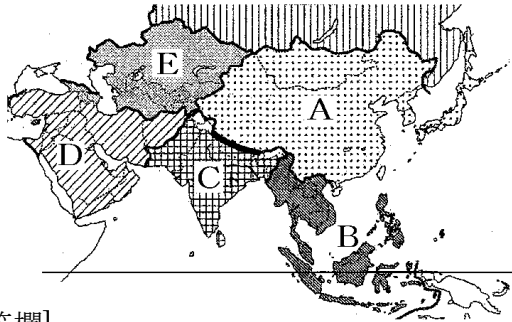
(1)A	B	C	D
(2)A	B	C	(3)①
②	③	④	⑤

[解答](1)A 熱帯 B 温帯 C 乾燥帯 D 冷帯(亜寒帯) (2)A ウ B ア C イ
 (3)① 季節風(モンスーン) ② 夏 ③ 雨 ④ 冬 ⑤ 乾

[州名・国名]

[問題]

アジア州は、次の図のA～E、およびシベリアに区分できる。A～Eの名称を書け。



[解答欄]

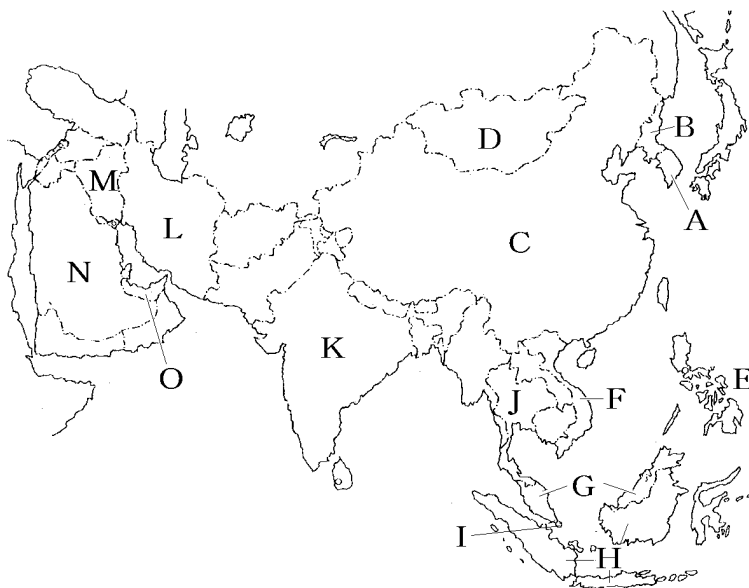
A	B	C
D	E	

[解答]A 東アジア B 東南アジア C 南アジア D 西アジア E 中央アジア

※出題頻度「東アジア○」「東南アジア○」「南アジア○」「西アジア○」「中央アジア○」
 「インド○」「中華人民共和国○」「大韓民国○」「モンゴル○」「タイ○」「フィリピン○」
 「サウジアラビア○」

[問題]

次の地図中のA～Oの国名を答えよ。



[解答欄]

A	B	C
D	E	F
G	H	I
J	K	L
M	N	O

[解答]A 韓国(大韓民国) B 北朝鮮(朝鮮民主主義人民共和国) C 中国(中華人民共和国)
 D モンゴル E フィリピン F ベトナム G マレーシア H インドネシア
 I シンガポール J タイ K インド L イラン M イラク N サウジアラビア
 O アラブ首長国連邦

[要点：人口]

アジアは人口が多く、世界人口(77 億人)の約 6 割の 46 億人が住んでいる(2019 年)。世界の中で人口が 10 億人をこえるのは、中国とインドの 2 国のみである。中国の人口は 14.3 億人で世界 1 位で、インドの人口は 13.7 億人で世界 2 位である(2019 年)。

ひとりっこせいさくをとったために中国の人口増加率が低下しているのに対し、インドはしゅっせいりつが高い状態が続いている。2020 年代にはインドの人口が中国の人口を上回るようになると予想されている。

※出題頻度「世界人口の 6 割」「46 億人○」「中国の人口は 14.3 億人○」

「一人っ子政策」「2020 年代前半にはインドの人口が中国の人口を上回る○」

[問題]

次の文章中の①～⑤に適語を入れよ。

アジアは人口が多く、世界人口(77 億人)の約(①)割の(②)億人が住んでいる(2019 年)。世界の中で人口が 10 億人をこえるのは、(③)と(④)の 2 国のみである。(③)の人口は 14.3 億人で世界 1 位で、(④)の人口は 13.7 億人で世界 2 位である(2019 年)。(⑤)政策をとったために(③)の人口増加率が低下しているのに対し、(④)は出生率が高い状態が続いている。2020 年代には(④)の人口が(③)の人口を上回るようになると予想されている。

[解答欄]

①	②	③	④
⑤			

[解答]① 6 ② 46 ③ 中国 ④ インド ⑤ 一人っ子

[問題]

次の各問いに答えよ。

(1) アジアの人口は、世界人口の約何割か。整数で答えよ。

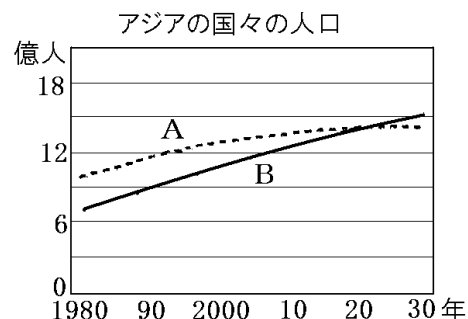
(2) 中国の人口数を次の[]から選べ。

[6.3 億人 10.3 億人 14.3 億人 18.3 億人]

(3) 右のグラフ中の A, B に適する国名を答えよ。

(4) 次の文章中の①, ②にあてはまる語句を答えよ。

A の国では、夫婦一組あたりの子どもの数を制限する(①)政策を実施してきたため、人口の増加率が(②)しつつある。これに対し、B の国は出生率が高く人口増加率も高いため、2020年代にはBの人口がAの人口を上回るようになると予想されている。



[解答欄]

(1)	(2)	(3)A	B
(4)①	②		

[解答](1) 約6割 (2) 14.3 億人 (3)A 中国 B インド (4)① 一人っ子 ② 低下

[要点：入り交じる文化]

東アジアの文化は、古くから中国の影響を受けてきた。東南アジアの文化は、中国やインドなどの影響を強く受けている。中国系の人々(華人^{かじん})は、東南アジアの各地に移り住み、商業や金融業^{きんゆうぎょう}を営む中で中国の文化を広めた。また、インド人によってヒンドゥー教がもたらされた。そのほか、西アジアの商人によってイスラム教が、アメリカやヨーロッパの植民地になった影響で、フィリピンを中心にキリスト教が広まった。一方、西アジアでは、主にアラビア語が使われていることや、イスラム教が広く信仰されていることなどの特徴が見られる。
※この単元はときどき出題される。

[問題]

次の文章中の①～⑥に適語を入れよ。

東アジアの文化は、古くから(①)の影響を受けてきた。東南アジアの文化は、(①)やインドなどの影響を強く受けている。(①)系の人々((②)人)は、東南アジアの各地に移り住み、商業や金融業を営む中で(①)の文化を広めた。また、インド人によって(③)教がもたらされた。そのほか、西アジアの商人によって(④)教が、アメリカやヨーロッパの植民地になった影響で、フィリピンを中心に(⑤)教が広まった。一方、西アジアでは、主に(⑥)語が使われていることや、(④)教が広く信仰されていることなどの特徴が見られる。

【解答欄】

①	②	③	④
⑤	⑥		

【解答】① 中国 ② 華 ③ ヒンドゥー ④ イスラム ⑤ キリスト ⑥ アラビア

【要点：多民族国家である中国】

中国では、人口の約 9 割をしめる漢族(漢民族)のほかに、55 の少数民族がくらしている。少数民族は主に中国の西部で生活している。このように、多様な文化や宗教が入りまじり、さまざまな民族がくらしている国を多民族国家という。

※出題頻度「漢族(漢民族)○」「少数民族○」「多民族国家○」

【問題】

次の文章中の①～③に適語を入れよ。

中国では、人口の約 9 割をしめる(①)族のほかに、55 の(②)民族がくらしている。(②)民族は主に中国の西部で生活している。このように、多様な文化や宗教が入りまじり、さまざまな民族がくらしている国を(③)国家という。

【解答欄】

①	②	③
---	---	---

【解答】① 漢(漢民) ② 少数 ③ 多民族

【問題】

中国の民族について、次の各問いに答えよ。

- (1) 中国の全人口の 9 割をしめている民族は何か。
- (2) (1)の民族以外(55 の民族)をまとめて何というか。
- (3) (2)は中国の東部と西部のどちらに多く住んでいるか。
- (4) 中国のように複数の民族によってつくられている国家を何というか。
- (5) 東南アジアなどに移り住み、①現地の国籍をとって定着した中国系の人々を何というか。
②また、中国籍のまま定着した中国系の人々を何というか。

【解答欄】

(1)	(2)	(3)	(4)
(5)①	②		

【解答】(1) 漢族(漢民族) (2) 少数民族 (3) 西部 (4) 多民族国家 (5)① 華人 ② 華僑

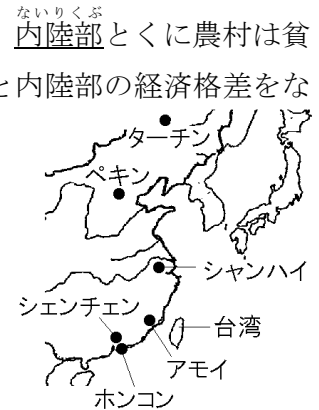
[要点：中国の経済成長]

中国は、工業の発展をはかるため、1979年にシェンチェンやアモイなどの沿岸部の5都市を経済特区に指定した。日本やアメリカの企業にとって、安くて豊富な労働力が手にはいる中国へ進出する利益が大きかったため、あいついで進出を行った。



1990年代から、中国は高い経済成長を続け、「世界の工場」と

呼ばれるまでになった。しかし、経済成長の中心は沿岸部の都市で、内陸部とくに農村は貧しいままになっており、その経済格差は拡大し続けている。沿岸部と内陸部の経済格差をなくすため、「西部大開発」が進められている。その内容は、鉄道や道路などの整備、工業の育成である。



中国の首都はペキンである。シャンハイは、中国最大の都市で、大きな貿易港がある。アモイとシェンチェンは1979年に経済特区に指定され、外国企業が進出して発展した都市である。ホンコンは1997年にイギリスから中国に返還された都市である。

※出題頻度「経済特区◎」「安くて豊富な労働力があつたから○」「内陸部と沿岸部の経済格差が大きくなった○」「ペキン△」「シャンハイ△」「ホンコン△」

[問題]

次の文章中の①～⑩に適語を入れよ(または、適語を選べ)。

中国は、工業の発展をはかるため、1979年にシェンチェンやアモイなどの沿岸部の5都市を経済(①)に指定した。日本やアメリカの企業にとって、安くて豊富な(②)力が手にはいる中国へ進出する利益が大きかったため、あいついで進出を行った。1990年代から、中国は高い経済成長を続け、「世界の(③)」と呼ばれるまでになった。しかし、経済成長の中心は④(内陸部/沿岸部)の都市で、⑤(内陸部/沿岸部)とくに農村は貧しいままになっており、その経済(⑥)は拡大し続けている。(④)と(⑤)の経済(⑥)をなくすため、「(⑦)大開発」が進められている。その内容は、鉄道や道路などの整備、工業の育成である。

中国の首都は(⑧)である。(⑨)は、中国最大の都市で、大きな貿易港がある。アモイとシェンチェンは1979年に経済(①)に指定され、外国企業が進出して発展した都市である。(⑩)は1997年にイギリスから中国に返還された都市である。

[解答欄]

①	②	③	④
⑤	⑥	⑦	⑧
⑨	⑩		

[解答]① 特区 ② 労働 ③ 工場 ④ 沿岸部 ⑤ 内陸部 ⑥ 格差 ⑦ 西部
⑧ ペキン ⑨ シャンハイ ⑩ ホンコン

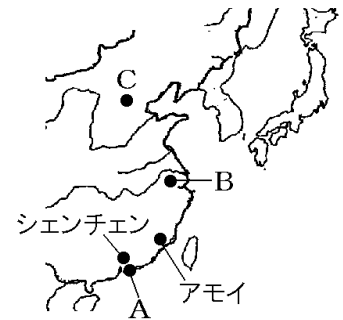
[問題]

次の各問いに答えよ。

- (1) 中国の沿岸部のシェンチェンなどの都市には、外国の企業を誘致し経済発展を目指して1979年以降に設定された地域がある。これらの地域を特に何と呼ぶか。
- (2) (1)の地域に外国資本が流入してきた理由を「労働力」の語句を使って簡単に説明せよ。
- (3) 中国は近年工業化が急速に進み、中国の工業製品は世界中に輸出されるようになった。そのため、中国は世界の何と呼ばれるようになったか。
- (4) 中国は近年、急速に経済が発展したが、いくつかの問題も発生している。中国の経済上の問題を「沿岸部」「内陸部」という2つの語句を使用して簡単に答えよ。

- (5) 次の①～③に適する都市を右の地図中のA～Cから選び、都市名も答えよ。

- ① 中国の首都であり、工業が発展している。
- ② 中国最大の都市で、大貿易港があり、海外との貿易がさかんである。
- ③ 1997年にイギリスから中国に返還された都市である。



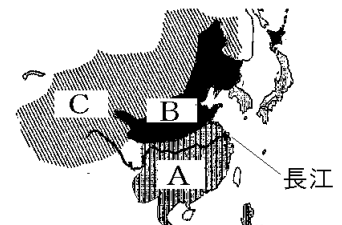
[解答欄]

(1)	(2)	
(3)		
(4)		
(5)①	②	③

[解答](1) 経済特区 (2) 安くて豊富な労働力が手にはいるから。 (3) 世界の工場
 (4) 工業が発達した沿岸部と、工業化がおくれた内陸部の経済格差が拡大したこと。
 (5)① C, ペキン ② B, シャンハイ ③ A, ホンコン

[要点：中国の農業]

中国の農業は大きく3つの地域に区分される。揚子江流域の華中やチュー川流域の河南(右図のA)など、温暖で降水量の多い地域では稲作や茶の栽培がさかんである。華南のチュー川流域では、暖かい気候を利用して米の二期作が行われている。降水量が少ない黄河流域の華北や東北地方(B)では、小麦、大豆、とうもろこしなどの畑作が中心である。乾燥した西部(C)では羊などを飼う**牧畜(遊牧)**が行われている。



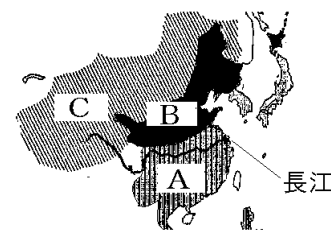
中国は、小麦や米の生産量が世界1位である。しかし、人口が多いため、生産量された小麦や米は国内で消費され、さらに、不足分は輸入にたよっている。

※出題頻度「南部で稲作○」「北部で畑作(小麦や大豆)○」「西部で牧畜(遊牧)○」

[問題]

次の文章中の①～⑥に適語を入れよ(または、適語を選べ)。

中国の農業は大きく3つの地域に区分される。揚子江流域の華中やチュー川流域の河南(右図のA)など、温暖で降水量の①(多い／少ない)地域では(②)作や茶の栽培がさかんである。華南のチュー川流域では、暖かい気候を利用して米の二期作が行われている。



降水量が③(多い／少ない)黄河流域の華北や東北地方(B)では、小麦、大豆、とうもろこしなどの(④)作が中心である。乾燥した西部(C)では羊などを飼う(⑤)が行われている。

中国は、小麦や米の生産量が世界(⑥)位である。しかし、人口が多いため、生産量された小麦や米は国内で消費され、さらに、不足分は輸入にたよっている。

[解答欄]

①	②	③	④
⑤	⑥		

[解答]① 多い ② 稲 ③ 少ない ④ 畑 ⑤ 牧畜(遊牧) ⑥ 1

[問題]

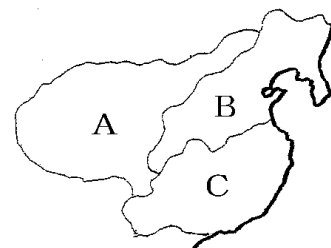
次の各問いに答えよ。

(1) 右図の中国の農業区分図を見て、A～Cの各地域にあてはまる文を次のア～ウからそれぞれ選び、記号で答えよ。

ア 降水量の少ないこの地域では、小麦やとうもろこしなどを作る畑作が中心である。

イ 乾燥したこの地域では、遊牧などの牧畜がさかんである。

ウ 降水量が多く温暖なこの地域では稲作を中心とした農業が行われている。



(2) 中国は米の生産量が世界1位であるが、米の輸出量より輸入量が多い。その理由を簡単に説明せよ。

[解答欄]

(1)A	B	C
(2)		

[解答](1)A イ B ア C ウ (2) 人口が多いため米の消費量も多いから。

[要点：アジア NIES の国々]

近年急速に工業が発達した国や地域をNIES(新興工業経済地域)という。このうち、アジアにある韓国、台湾、ホンコン、シンガポールをとくにアジアNIESと呼んでいる。



韓国は、1960年代は軽工業が中心であったが、1970年代に、重化学工業が南東部沿岸で発達した。1990年代以降に半導体や薄型テレビ、携帯電話などのハイテク産業が急成長した。企業の本社は、首都であるソウルやその周辺に集中している。

台湾は世界的に見ても、コンピューターや半導体などのハイテク産業が盛んな地域である。こうした成長は、アメリカのシリコンバレーで働いていた人々が台湾にもどり、新しく企業をおこしたことがきっかけであった。

※出題頻度「アジア NIES◎」

[問題]

次の文章中の①～⑤に適語を入れよ。

近年急速に工業が発達した国や地域を(①)(新興工業経済地域)という。このうち、アジアにある韓国、台湾、ホンコン、(②)をとくにアジア(①)と呼んでいる。

韓国は、1960年代は軽工業が中心であったが、1970年代に、重化学工業が南東部沿岸で発達した。1990年代以降に半導体や薄型テレビ、携帯電話などの(③)産業が急成長した。企業の本社は、首都である(④)やその周辺に集中している。

台湾は世界的に見ても、コンピューターや半導体などの(③)産業が盛んな地域である。こうした成長は、アメリカの(⑤)で働いていた人々が台湾にもどり、新しく企業をおこしたことがきっかけであった。

[解答欄]

①	②	③	④
⑤			

[解答]① NIES ② シンガポール ③ ハイテク ④ ソウル ⑤ シリコンバレー

[問題]

次の各問いに答えよ。

- (1) アジアの中で、韓国、ホンコン、シンガポール、台湾の4つの国・地域は急速に成長をとげたことから何と呼ばれたか。
- (2) 台湾や韓国でさかんな、コンピューターや半導体などを生産する産業を何というか。
- (3) 台湾ではアメリカの何という地域で活躍した人々によって(2)の産業がさかんになったか。
- (4) 企業の本社が集中している韓国の首都はどこか。

[解答欄]

(1)	(2)	(3)
(4)		

[解答](1) アジア NIES (2) ハイテク産業 (3) シリコンバレー (4) ソウル

[要点：ASEAN諸国の工業化]

タイ、マレーシア、インドネシアなどのASEAN(東南アジア諸国連合)の国々に、日本企業などが進出した。これは、日本と比べて労働者の賃金^{ちんぎん}がはるかに安い^あためである。タイやマレーシアなどは、工業団地^{こうぎょうだんち}をつくって外国の企業を積極的に受け入れる政策をとっている。かつて、タイやマレーシアなどの輸出の中心は、鉱産資源(石油、すずなど)や農産物(天然ゴム、米など)が中心であった。しかし、工業化が進み、現在では、機械類などの工業製品が輸出の中心になった。

※出題頻度「ASEAN◎」「労働者の賃金が安い◎」「工業団地○」「鉱産資源や農産物→機械類などの工業製品○」

[問題]

次の文章中の①～④に適語を入れよ。

タイ、マレーシア、インドネシアなどの(①)(東南アジア諸国連合)の国々に、日本企業などが進出した。これは、日本と比べて労働者の(②)がはるかに安い^あためである。タイやマレーシアなどは、(③)団地をつくって外国の企業を積極的に受け入れる政策をとっている。かつて、タイやマレーシアなどの輸出の中心は、鉱産資源(石油、すずなど)や(④)
(天然ゴム、米など)が中心であった。しかし、工業化が進み、現在では、機械類などの(③)
製品が輸出の中心になった。

[解答欄]

①	②	③	④
---	---	---	---

[解答]① ASEAN ② 賃金 ③ 工業 ④ 農産物

[問題]

次の各問いに答えよ。

- インドネシアを中心に、1967年に発足した地域経済協力機構を何というか。アルファベットで答えよ。
- 日本企業がタイに多く進出しているのはなぜか。右の資料をみて、「賃金」の語句を用い、「日本と比べて」に続けて書け。
- タイやベトナムなどで、外国企業を受け入れて工業化を図るために作られた団地を何というか。

	賃金(月)
日本	29万400円
タイ	3万871円

(4) 次の資料から、タイの輸出の変化についてどのようなことが読みとれるか。「農産物や資源」「工業製品」の語句を使って説明せよ。

[タイ]

	天然ゴム			とうもろこし5.4	
1980年 65.1億ドル	米 14.7%	野菜 11.5	すず 9.3	8.5	その他 50.6
	プラスチック4.7				
2018年 2524.9億ドル	機械類 31.2%		自動車 12.1		その他 48.3
	石油製品3.7				

[解答欄]

(1)	(2)	(3)
(4)		

[解答](1) ASEAN (2) 日本と比べて労働者の賃金が安い。 (3) 工業団地
(4) かつては農産物や鉱産資源が輸出の中心であったが、現在では、機械類などの工業製品が輸出の中心になった。

[要点：東南アジアの農村の変化など]

マレーシアやインドネシアなどでは、植民地時代につくられたプランテーションという大農園が、第二次世界大戦後には現地の人々によって経営されるようになった。マレーシアなどでは、アブラやし(マーガリン等を作るためのパーム油の原料)の農園にするために大規模な開発が進み、熱帯林(熱帯雨林)の減少も起こっている。タイやインドネシアなどのマングローブが広がる海岸では、日本に輸出するためにえびの養殖場がつくられ、フィリピンではバナナ農園が開かれてきた。

東南アジアでは、年に2回米を収穫する二期作が行われている。米の輸出は、タイとインドが世界1,2位を争っている。農業の機械化が進んで農村で人手が余るようになったため、農村の人々が都市に出て働くようになった。急激な都市化によって生活環境の悪いスラムができたりしている。また、激しい交通渋滞や通勤ラッシュが起こっている。

※出題頻度「プランテーション◎」「アブラやし△」「熱帯林の減少△」

「米の二期作◎」「米の輸出世界1位(2位)はタイ○」「スラム○」

[問題]

次の文章中の①～⑧に適語を入れよ。

マレーシアやインドネシアなどでは、植民地時代につくられた(①)という大農園が、第二次世界大戦後には現地の人々によって経営されるようになった。マレーシアなどでは、(②)やし(マーガリン等を作るためのパーム油の原料)の農園にするために大規模な開発が進み、(③)の減少も起きている。タイやインドネシアなどのマングローブが広がる海岸では、日本に輸出するために(④)の養殖場がつけられ、フィリピンでは(⑤)農園が開かれてきた。

東南アジアでは、年に2回米を収穫する(⑥)作が行われている。米の輸出は、(⑦)とインドが世界1, 2位を争っている。農業の機械化が進んで農村で人手が余るようになったため、農村の人々が都市に出て働くようになった。急激な都市化によって生活環境の悪い(⑧)ができていたりしている。また、激しい交通渋滞や通勤ラッシュが起きている。

[解答欄]

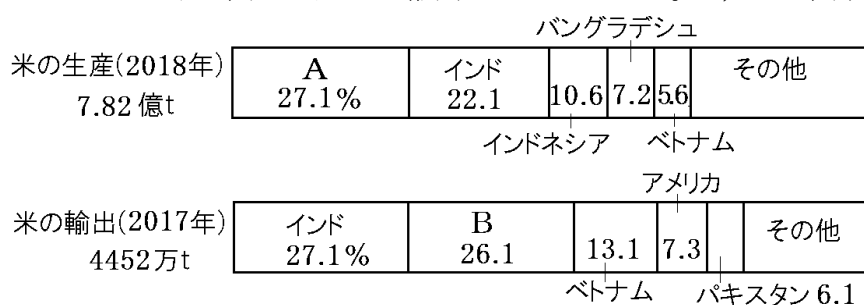
①	②	③	④
⑤	⑥	⑦	⑧

[解答]① プランテーション ② アブラ ③ 熱帯林(熱帯雨林) ④ えび ⑤ バナナ
⑥ 二期 ⑦ タイ ⑧ スラム

[問題]

次の各問いに答えよ。

- (1) タイや中国南部などの年中温暖で降水量に恵まれている場所では1年に2回稲作をすることができる。そのことを何というか。漢字3文字で答えよ。
- (2) 次のグラフは米の国別生産量と輸出量を示している。A, Bの国名を書け。



- (3) タイやインドネシアには、植民地時代からゴムやコーヒー豆などを栽培するためにつくられた大規模な農園があった。この農園を何と呼ぶか。
- (4) 近年マーガリン等を作るためにパーム油が利用されているが、このパーム油の原料となる植物の名前を答えよ。
- (5) タイやインドネシアなどのマングローブが広がる海岸では、日本に輸出するために(①)の養殖場がつけられ、フィリピンでは(②)農園が開かれてきた。

(6) 農園の大規模開発を行うことによってどのような環境問題がおこっているか、説明せよ。

[解答欄]

(1)	(2)A	B	(3)
(4)	(5)①	②	(6)

[解答](1) 二期作 (2)A 中国 B タイ (3) プランテーション (4) アブラやし
(5)① えび ② バナナ (6) 熱帯雨林の減少

[問題]

次の各問いに答えよ。

- (1) タイ、インドネシア、マレーシアでは農村の人々が都市に出て働くようになったが、その理由を、「農業の機械化」「人手」の語句を使って答えよ。
- (2) (1)の結果、都市の人口が増え、激しい交通渋滞や(①)と呼ばれる劣悪な住環境などの(②)問題が起きている。

[解答欄]

(1)			
(2)①	②		

[解答](1) 農業の機械化が進み、農村で人手が余るようになったから。 (2)① スラム
② 都市

[要点：インドのIT産業]

インドでは、バンガロールを中心にじょうほうぎじゅつさんぎょう情報技術産業(IT産業)(情報通信技術関連産業(ICT関連産業))がさかんである。中でもソフトウェア産業ののびが著しい。インドはもともと数学の教育に力を入れており、英語が話せる人も多い(かつてイギリスの植民地であったから)。当初はアメリカのシリコンバレーなどへ技術者が渡り、ソフトウェアの開発にたずさわっていたが、現在はインド国内での開発が中心になっている。



アメリカとインドは、約 12 時間の時差があるため昼と夜が反対になる。アメリカでの夜の時間帯に、アメリカの企業 A 社への電話をインドのコールセンター B 社につなぐことで、アメリカの企業 A 社は 24 時間対応できるようになる。

※出題頻度「情報技術産業(IT産業)○」「バンガロール○」「英語や数学○」「コールセンター△」

[問題]

次の文章中の①～⑥に適語を入れよ。

インドでは、(①)(都市名)を中心に情報技術産業((②)産業)(情報通信技術関連産業(ICT 関連産業))がさかんである。中でもソフトウェア産業ののびが著しい。インドはもともと(③)の教育に力を入れており、(④)が話せる人も多い(かつてイギリスの植民地であったから)。当初はアメリカの(⑤)バレーなどへ技術者が渡り、ソフトウェアの開発にたずさわっていたが、現在はインド国内での開発が中心になっている。アメリカとインドは、約 12 時間の時差があるため昼と夜が反対になる。アメリカでの夜の時間帯に、アメリカの企業 A 社への電話をインドの(⑥)センター B 社につなぐことで、アメリカの企業 A 社は 24 時間対応できるようになる。

[解答欄]

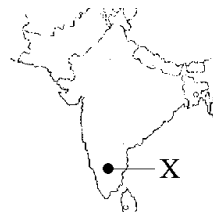
①	②	③	④
⑤	⑥		

[解答]① バンガロール ② IT ③ 数学 ④ 英語 ⑤ シリコン ⑥ コール

[問題]

次の各問いに答えよ。

- インドの急速な成長を支えているのは教育水準の高さであるが、特にどのような科目の水準が高いか。2つあげよ。
- インドではコンピューターのソフトウェア開発などの産業がさかんである。このような産業を何というか。
- (2)の中心都市は右図の X である。X の都市名を答えよ。
- インドの(2)産業の成長で重要な役割を果たした人々の多くは、アメリカの(2)産業のさかんな地域で働いていた。そのアメリカの地域名を答えよ。



[解答欄]

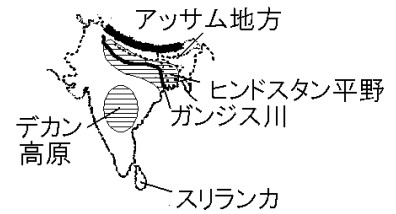
(1)	(2)	(3)
(4)		

[解答](1) 英語, 数学 (2) 情報技術産業(IT 産業) (3) バンガロール (4) シリコンバレー

[要点：インドの宗教・農業など]

インドでは、ヒンドゥー教が信仰されている。ヒンドゥー教徒は、牛を神の使いと考え牛肉を食べない。また、ガンジス川は聖なる川とされ、人々が水に身をひたして沐浴(体を清め罪を流し去ること)を行う。ヒンドゥー教はカースト制度といわれる身分制度とつながりが深い。

インドの農業の中心はヒンドスタン平野である。米は年降水量 1000mm以上の地域(ガンジス川下流域など)で多く生産されている。降水量が 500mm以上 1000mm以下の地域(ガンジス川上流地域やインダス川流域など)では、乾燥した気候に適した小麦の栽培が行われている。また、デカン高原では綿花の栽培が、アッサム地方やセイロン島(スリランカ)では茶の栽培が行われている。



インドでは、1960年代から農業の近代化が進められ、農村から都市へと人々が移り住んだ。急激に人口が増えた大都市では、スラムという劣悪な住環境や交通渋滞など深刻な都市問題が起きている。

※出題頻度「ヒンドゥー教○」「カースト制度○」「ヒンドスタン平野△」「米・小麦・綿花・茶の生産地(地図)△」

[問題]

次の文章中の①～⑧に適語を入れよ(または、適語を選べ)。

インドでは、(①)教が信仰されている。(①)教徒は、牛を神の使いと考え牛肉を食べない。また、(②)川は聖なる川とされ、人々が水に身をひたして沐浴(体を清め罪を流し去ること)を行う。(①)教は(③)制度といわれる身分制度とつながりが深い。

インドの農業の中心はヒンドスタン平野である。④(米/小麦)は年降水量 1000mm 以上の地域((②)川下流域など)で多く生産されている。降水量が 500mm 以上 1000mm 以下の地域((②)川上流地域やインダス川流域など)では、乾燥した気候に適した⑤(米/小麦)の栽培が行われている。また、デカン高原では(⑥)の栽培が、アッサム地方やセイロン島(スリランカ)では(⑦)の栽培が行われている。

インドでは、1960年代から農業の近代化が進められ、農村から都市へと人々が移り住んだ。急激に人口が増えた大都市では、(⑧)という劣悪な住環境や交通渋滞など深刻な都市問題が起きている。

[解答欄]

①	②	③	④
⑤	⑥	⑦	⑧

[解答]① ヒンドゥー ② ガンジス ③ カースト ④ 米 ⑤ 小麦 ⑥ 綿花 ⑦ 茶
⑧ スラム

[問題]

次の各問いに答えよ。

- (1) インドの農業の中心はガンジス川流域に広がる平野である。何という平野か。
- (2) 降水量の多いインダス川下流域ではどのような作物が栽培されているか。
- (3) 降水量の少ないインダス川上流域ではどのような作物が栽培されているか。
- (4) インドでは、1960年代から農業の近代化が進められ、農村から都市へと人々が移り住んだ。急激に人口が増えた大都市では、(①)という劣悪な住環境、交通渋滞など深刻な(②)問題が起きている。

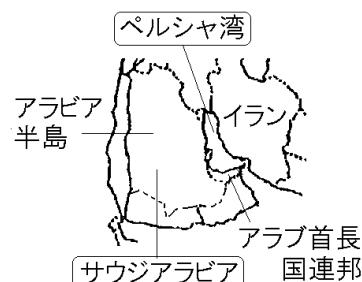
[解答欄]

(1)	(2)	(3)	(4)①
②			

[解答](1) ヒンドスタン平野 (2) 米 (3) 小麦 (4)① スラム ② 都市

[要点：西アジア]

世界の石油埋蔵量の約半分は、ペルシヤ湾沿岸を中心とする一帯に集中している。また、石油の生産量・輸出量ともにペルシヤ湾沿岸の産油国が大きな割合を占めている。日本の石油輸入の約8割はペルシヤ湾沿岸の国々からで、その中でも多いのが、サウジアラビアとアラブ首長国連邦である。西アジアの産油国は、石油の価格や生産量を調整し、産油国の利益を守るため、1960年にOPEC(石油輸出国機構)を結成



した。内陸で産出される石油を港まで運ぶためにパイプラインが利用されている。

西アジアには、アラビア語を使うアラブ系の人々が生活する国が多く、人口のほとんどがイスラム教の信者である。イスラム教徒は、教典の「コーラン」に従って日常生活を送っており、1日5回、聖地であるメッカの方角へ向けて礼拝する。(イスラム教の礼拝所をモスクという。) また、豚肉を食べたり、酒を飲んだりすることは禁じられている。イスラム暦の9月に行われる断食や、メッカへの巡礼などは、イスラム教徒の義務とされている。

※出題頻度「石油◎」「ペルシヤ湾○」「サウジアラビア○」「アラブ首長国連邦△」

「パイプライン△」「OPEC◎」「石油の価格や生産量を調整し、産油国の利益を守るため○」

「イスラム教○」「コーラン△」「アラビア語△」

[問題]

次の文章中の①～⑧に適語を入れよ。

世界の石油埋蔵量の約半分は、(①)湾沿岸を中心とする一帯に集中している。また、石油の生産量・輸出量ともに(①)湾沿岸の産油国が大きな割合を占めている。日本の石油輸入の約8割は(①)湾沿岸の国々からで、その中でも多いのが、(②)とアラブ首長国連邦である。西アジアの産油国は、石油の(③)や生産量を調整し、産油国の利益を守るため、1960年に(④)(石油輸出国機構)を結成した。内陸で産出される石油を港まで運ぶために(⑤)ラインが利用されている。

西アジアには、(⑥)語を使うアラブ系の人々が生活する国が多く、人口のほとんどが(⑦)教の信者である。(⑦)教徒は、教典の「(⑧)」に従って日常生活を送っており、1日5回、聖地であるメッカの方角へ向けて礼拝する。(⑦)教の礼拝所をモスクという。)また、豚肉を食べたり、酒を飲んだりすることは禁じられている。(⑦)暦の9月に行われる断食や、メッカへの巡礼などは、(⑦)教徒の義務とされている。

[解答欄]

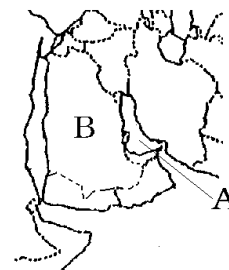
①	②	③	④
⑤	⑥	⑦	⑧

[解答]① ペルシャ ② サウジアラビア ③ 価格 ④ OPEC ⑤ パイプ ⑥ アラビア
⑦ イスラム ⑧ コーラン

[問題]

次の各問いに答えよ。

- (1) Aの湾の名前を答えよ。
- (2) Aの湾の周辺で採掘される地下資源は何か。
- (3) Bは、日本が最も多くの(2)を輸入している国である。この国の名前を答えよ。
- (4) (3)の国が位置している半島の名前を答えよ。
- (5) Bなどの(2)を産出する国々が1960年に設立した組織は何か。
- (6) 西アジアで主に信仰されている宗教は何か。



[解答欄]

(1)	(2)	(3)	(4)
(5)	(6)		

[解答](1) ペルシャ湾 (2) 石油 (3) サウジアラビア (4) アラビア半島
(5) OPEC(石油輸出国機構) (6) イスラム教

[要点：中央アジア]

中央アジアの国々の多くは標高^{ひょうこう}が高く乾燥^{かんそう}した気候帯にある。石炭や石油、天然ガス、さらには、世界的に埋蔵量^{まいざうりょう}が少なく貴重なレアメタル^{レアメタル}(希少金属^{きしょうきんぞく})などの鉱産資源にめぐまれ、こうした資源を輸出して経済が成長している国もある。中央アジアの人々も、多くが西アジアと同様にイスラム教徒である。また、この地域にはシルクロード(絹の道)での交易の歴史的遺産が多くあり、たくさんの観光客が訪れている。

※出題頻度「レアメタル(希少金属)◎」「シルクロード○」「イスラム教○」

[問題]

次の文章中の①～③に適語を入れよ。

中央アジアの国々の多くは標高が高く、乾燥した気候帯にある。石炭や石油、天然ガス、さらには、世界的に埋蔵量が少なく貴重な(①)(希少金属)などの鉱産資源にめぐまれ、こうした資源を輸出して経済が成長している国もある。中央アジアの人々も、多くが西アジアと同様に(②)教徒である。また、この地域には(③)(絹の道)での交易の歴史的遺産が多くあり、たくさんの観光客が訪れている。

[解答欄]

①	②	③
---	---	---

[解答]① レアメタル ② イスラム ③ シルクロード

[問題]

次の各問いに答えよ。

- (1) 中央アジアでは、世界的に埋蔵量が少なく貴重な希少金属が産出される。この希少金属をカタカナで何というか。
- (2) 中央アジアには、中国とヨーロッパを結んだ古代の交易路の歴史遺産が多く、観光客が増えている。この交易路を何というか。
- (3) 中央アジアで主に信仰されている宗教は何か。

[解答欄]

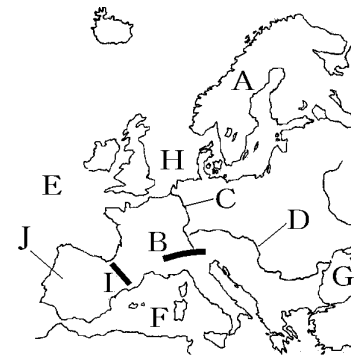
(1)	(2)	(3)
-----	-----	-----

[解答](1) レアメタル (2) シルクロード (3) イスラム教

【】 ヨーロッパ州

[要点：地形]

Aのスカンディナビア半島西部の海岸は、氷河によって削られ谷の奥深くまで海水が入り込んでできた海岸がある。このような地形をフィヨルドという。Bのアルプス山脈から流れ出るCはライン川で、Dのドナウ川とともに複数の国をまたがって流れる国際河川で、ヨーロッパの水上交通の大動脈になっている。Eは大西洋、Fは地中海、Gは黒海、Hは北海である。Iはピレネー山脈、Jはイベリア半島である。

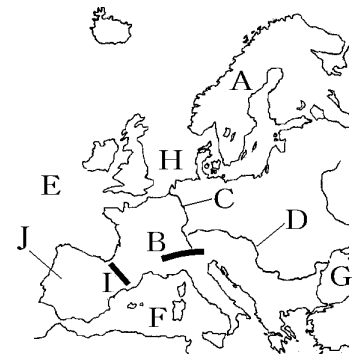


※出題頻度 「フィヨルド◎」「スカンディナビア半島○」「氷河○」「アルプス山脈◎」「国際河川○」「ライン川◎」「ドナウ川○」「地中海◎」「北海○」「大西洋○」

[問題]

次の文章中の①～⑬に適語を入れよ。

Aの(①)半島西部の海岸は、(②)によって削られ谷の奥深くまで海水が入り込んでできた海岸がある。このような地形を(③)という。Bの(④)山脈から流れ出るCは(⑤)川で、Dの(⑥)川とともに複数の国をまたがって流れる(⑦)河川で、ヨーロッパの水上交通の大動脈になっている。Eは(⑧)洋、Fは(⑨)海、Gは(⑩)海、Hは(⑪)海である。Iは(⑫)山脈、Jは(⑬)半島である。



[解答欄]

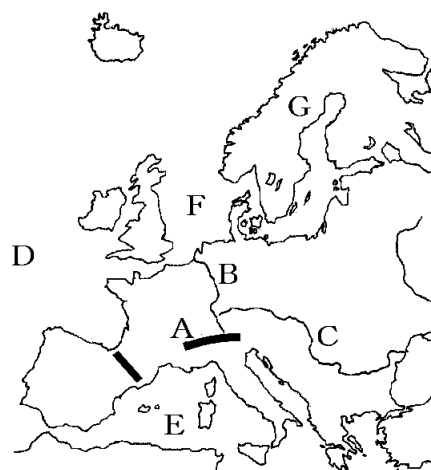
①	②	③	
④	⑤	⑥	⑦
⑧	⑨	⑩	⑪
⑫	⑬		

[解答]① スカンディナビア ② 氷河 ③ フィヨルド ④ アルプス ⑤ ライン
⑥ ドナウ ⑦ 国際 ⑧ 大西 ⑨ 地中 ⑩ 黒 ⑪ 北 ⑫ ピレネー ⑬ イベリア

[問題]

次の各問いに答えよ。

- (1) Aはスイスとイタリアの国境に位置する山脈である。
何というか。
- (2) Aから流れ出るBの川を何というか。
- (3) Bの川は複数の国をまたがって流れている。このよ
うな川を何というか。
- (4) Cも(3)である。Cの川を何というか。
- (5) D, E, Fの海洋名を答えよ。
- (6) Gの半島の名前を答えよ。
- (7) G半島西部のノルウェーの海岸部は入りくんだ地形
になっている。これは(①)によって削られた谷
の奥深くまで海水が入りこんでできた海岸線である。このような地形を(②)という。



[解答欄]

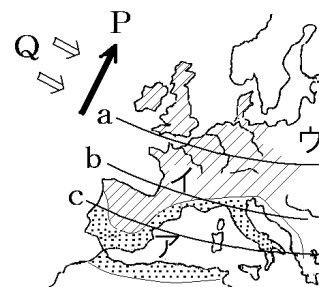
(1)	(2)	(3)	(4)
(5)D	E	F	
(6)		(7)①	②

[解答](1) アルプス山脈 (2) ライン川 (3) 国際河川 (4) ドナウ川 (5)D 大西洋
E 地中海 F 北海 (6) スカンディナヴィア半島 (7)① 氷河 ② フィヨルド

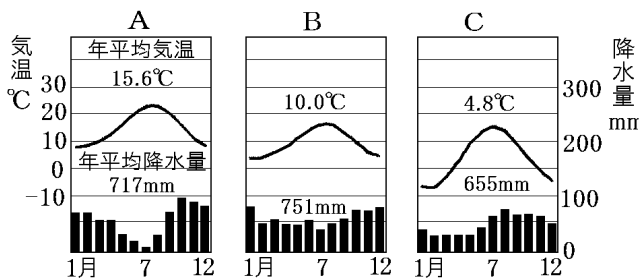
[要点：気候]

秋田県を通る北緯40度の緯線はcで、北海道の北端近くを通る北緯45度の緯線はbで、パリやロンドンはbよりも北にある。

このように、ヨーロッパは緯度が高い割には温暖であるが、それは海流と風が原因になっている。大西洋を南から北に流れる暖流の北大西洋海流(図のP)の上を、1年中西から吹いてくる偏西風(図のQ)が海流に暖められた空気を運んでくるので、寒さをやわらげているからである。



地中海沿岸の地域(ア)は温帯の地中海性気候で雨温図Aのように、夏は乾燥し、冬に比較的雨が多い。イは西岸海洋性気候で雨温図はB、ウは冷帯で雨温図はCのようになる。

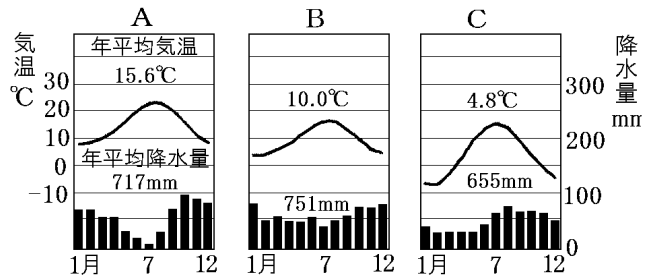
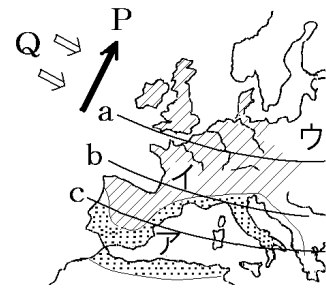


※出題頻度「北大西洋海流◎」「偏西風◎」「暖流の北大西洋海流と偏西風が寒さをやわらげているから○」「西岸海洋性気候○」「地中海性気候○」「ローマの雨温図○」

[問題]

次の文章中の①～⑪に適語を入れよ(または適語を選べ)。

秋田県を通る北緯 40 度の緯線は①(a/b/c)で、北海道の北端近くを通る北緯 45 度の緯線は②(a/b/c)で、パリやロンドン(②)よりも北にある。このように、ヨーロッパは緯度が高い割には温暖であるが、それは海流と風が原因になっている。大西洋を南から北に流れる③(寒流/暖流)の(④)海流(図の P)の上を、1 年中西から吹いてくる(⑤)風(図の Q)が海流に暖められた空気を運んでくるので、寒さをやわらげているからである。地中海沿岸の地域(ア)は温帯の(⑥)気候で雨温図⑦(A/B/C)のように、夏は(⑧)し、冬に比較的雨がが多い。イは(⑨)気候で雨温図は⑩(A/B/C)、ウは冷帯で雨温図は⑪(A/B/C)のようになる。



[解答欄]

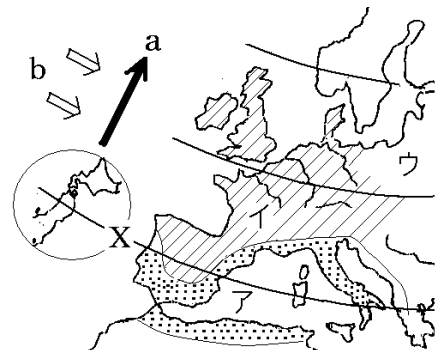
①	②	③	④
⑤	⑥	⑦	⑧
⑨	⑩	⑪	

[解答]① c ② b ③ 暖流 ④ 北大西洋 ⑤ 偏西 ⑥ 地中海性 ⑦ A ⑧ 乾燥
⑨ 西岸海洋性 ⑩ B ⑪ C

[問題]

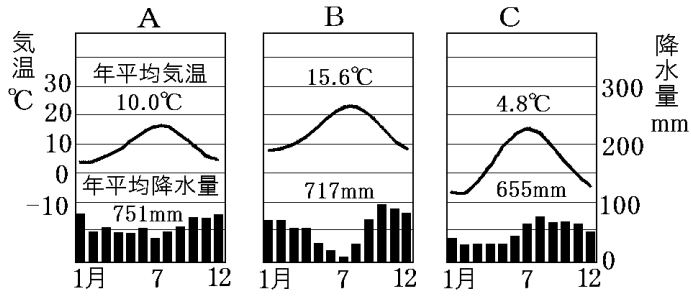
次の各問いに答えよ。

- 秋田県の八郎潟の上を通る X の北緯(①)度の緯線は、ヨーロッパではイベリア半島や地中海を通っている。また、ロンドン(北海道の最北端より②(南/北)に位置する。
- (1)のように、ヨーロッパは高緯度に位置するが、全体として気候は温暖である。それは、暖流の a の海流と b の風が寒さをやわらげているからである。a の海流と b の風の名前を答えよ。



- 地図のア, イ, ウは何という気候帯(気候区)に属するか。[]からそれぞれ選べ。
[温帯(温帯湿潤気候) 温帯(地中海性気候) 温帯(西岸海洋性気候) 冷帯 寒帯]

(4) 地図のア, イ, ウの気候の雨温図を次のA~Cからそれぞれ選べ。



[解答欄]

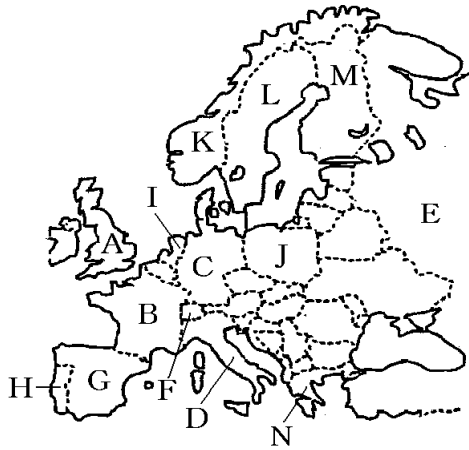
(1)①	②	(2)a	b
(3)ア	イ	ウ	
(4)ア	イ	ウ	

[解答](1)① 40 ② 北 (2)a 北大西洋海流 b 偏西風 (3)ア 温帯(地中海性気候)
イ 温帯(西岸海洋性気候) ウ 冷帯 (4)ア B イ A ウ C

[国名]

[問題]

次の地図中のA~Nの国名を答えよ。



[解答欄]

A	B	C	D
E	F	G	H
I	J	K	L
M	N		

[解答]A イギリス B フランス C ドイツ D イタリア E ロシア連邦 F スイス
G スペイン H ポルトガル I オランダ J ポーランド K ノルウェー L スウェーデン
M フィンランド N ギリシャ

※出題頻度「イギリス◎」「フランス◎」「ドイツ◎」「イタリア○」「スペイン○」「パリ○」

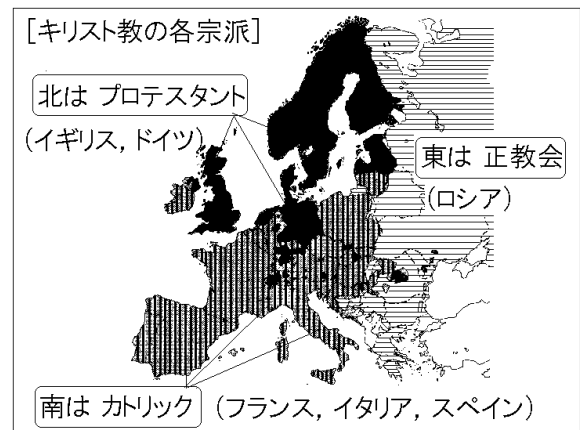
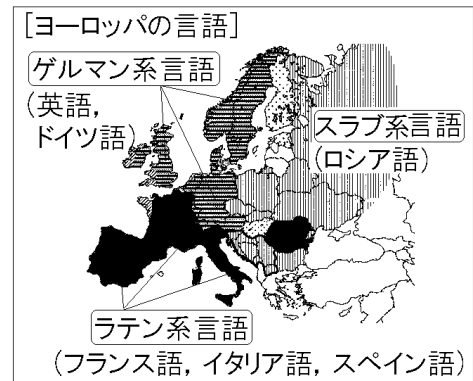
[要点：民族・宗教]

ヨーロッパの言語は、大きく3つに分けられる。

西部や北部では英語やドイツ語などのゲルマン系言語、南部ではフランス語やイタリア語やスペイン語などのラテン系言語、東部ではロシア語やポーランド語などのスラブ系言語が使われている。このほかにもさまざまな言語がある。

ヨーロッパやロシアではキリスト教が信仰されている。キリスト教は、3つの宗派に分かれている。

ローマ教皇を頂点とするカトリックは、イタリア、フランス、スペインなどラテン系言語の国々に広がっている。ドイツのルターの宗教改革(16世紀)によって、カトリックから分かれたプロテスタントは、ドイツ、イギリス、北欧などゲルマン系言語の国々に広がっている。ロシア連邦、ギリシャ、東ヨーロッパなどスラブ系民族の国々などでは正教会が中心である。ただし、宗派の分布と言語の分布は完全に一致しているわけではない。



※出題頻度「ゲルマン系言語○」「ラテン系言語○」「スラブ系言語○」

「キリスト教○」「カトリック○」「プロテスタント○」「正教会○」

[問題]

次の文章中の①～⑦に適語を入れよ。

ヨーロッパの言語は、大きく 3 つに分けられる。西部や北部では英語やドイツ語などの(①)系言語、南部ではフランス語やイタリア語やスペイン語などの(②)系言語、東部ではロシア語やポーランド語などの(③)系言語が使われている。このほかにもさまざまな言語がある。

ヨーロッパやロシアでは(④)教が信仰されている。(④)教は、3つの宗派に分かれている。ローマ教皇を頂点とする(⑤)は、イタリア、フランス、スペインなどラテン系言語の国々に広がっている。ドイツのルターの宗教改革(16世紀)によって、カトリックから分かれた(⑥)は、ドイツ、イギリス、北欧などゲルマン系言語の国々に広がっている。ロシア連邦、ギリシャ、東ヨーロッパなどスラブ系民族の国々などでは(⑦)が中心である。ただし、宗派の分布と言語の分布は完全に一致しているわけではない。

[解答欄]

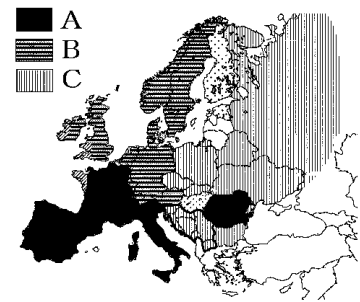
①	②	③	④
⑤	⑥	⑦	

[解答]① ゲルマン ② ラテン ③ スラブ ④ キリスト ⑤ カトリック
⑥ プロテスタント ⑦ 正教会

[問題]

ヨーロッパの言語は大きく 3 つに分けられる。

右の図の A, B, C ではそれぞれ主として何系言語が使われているか。



[解答欄]

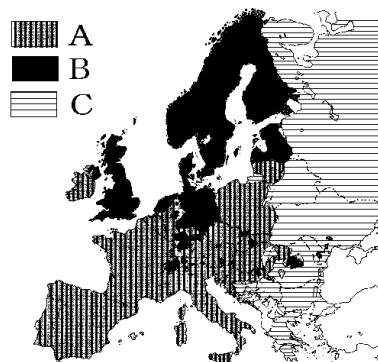
A	B	C
---	---	---

[解答]A ラテン系言語 B ゲルマン系言語 C スラブ系言語

[問題]

次の各問いに答えよ。

- (1) ヨーロッパ州の多くの地域で信仰されている宗教は何か。
- (2) 右の地図は(1)の分布図である。A, B, Cの(1)の宗派名を次の[]からそれぞれ選べ。
[プロテスタント 正教会 カトリック]
- (3) 1960年代以降、北アフリカやトルコなどからヨーロッパに移住する人が増えているが、これらの人々の多くが信仰する宗教は何か。



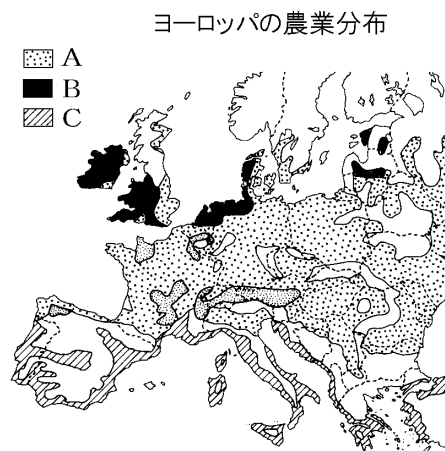
[解答欄]

(1)	(2)A	B
C	(3)	

[解答](1) キリスト教 (2)A カトリック B プロテスタント C 正教会 (3) イスラム教

[要点：農業]

アルプス山脈より南の地中海沿岸(右図C)は地中海性気候で夏の降水量が少ない。このため、夏には乾燥に強いオリーブ(食用油の原料)、ぶどう(ワインの原料)、オレンジなどの果樹を栽培し、温暖で雨の多い冬には小麦を栽培する地中海式農業が行われている。アルプス山脈の北側のフランス、ドイツ、東ヨーロッパなどヨーロッパの大部分(右図のA)では、小麦やライ麦といった穀物栽培と、豚や牛を中心とした家畜の飼育を組み合わせた混合農業が行われている。



冷涼で穀物栽培に適さないヨーロッパ北部のオランダ、デンマーク、イギリス、アルプス山脈など(右図のB)では、乳牛などを飼育して、生乳やバター、チーズなどの乳製品を生産する酪農が行われている。

※出題頻度「地中海式農業◎」「夏はオリーブやぶどう○」「冬は小麦○」

「混合農業◎」「小麦やライ麦といった穀物栽培と、豚や牛を中心とした家畜の飼育を組み合わせた農業○」「酪農◎」

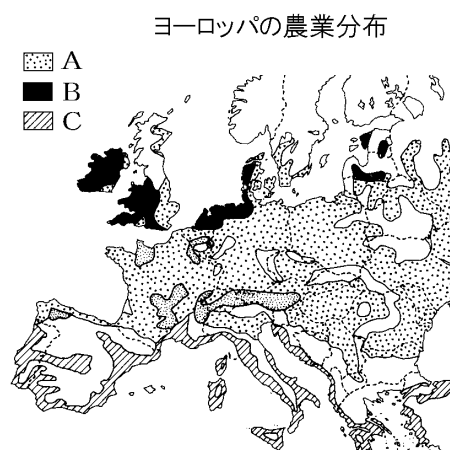
[問題]

次の文章中の①～⑨に適語を入れよ(または適語を選べ)。

アルプス山脈より南の地中海沿岸(図①(A/B/C))は地中海性気候で夏の降水量が少ない。このため、夏には乾燥に強い(②)(食用油の原料),(③)(ワインの原料), オレンジなどの果樹を栽培し, 温暖で雨の多い冬には(④)を栽培する(⑤)農業が行われている。

アルプス山脈の北側のフランス, ドイツ, 東ヨーロッパなどヨーロッパの大部分(図の⑥(A/B/C))では, 小麦やライ麦といった穀物栽培と, 豚や牛を中心とした家畜の飼育を組み合わせた(⑦)農業が行われている。

冷涼で穀物栽培に適さないヨーロッパ北部のオランダ, デンマーク, イギリス, アルプス山脈など(図の⑧(A/B/C))では, 乳牛などを飼育して, 生乳やバター, チーズなどの乳製品を生産する(⑨)が行われている。



[解答欄]

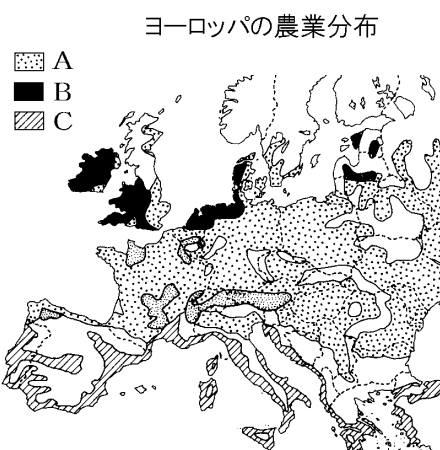
①	②	③	④
⑤	⑥	⑦	⑧
⑨			

[解答]① C ② オリーブ ③ ぶどう ④ 小麦 ⑤ 地中海式 ⑥ A ⑦ 混合 ⑧ B ⑨ 酪農

[問題]

次の①～③の地域を地図中の A～C から選んで記号を書き, それぞれの農業名を答えよ。

- ① 乳牛を飼いバターやチーズを生産している。
- ② オリーブ, オレンジ, 小麦などを栽培している。
- ③ 小麦などの作物栽培と家畜の飼育を組み合わせている。



[解答欄]

①	②	③
---	---	---

[解答]① B, 酪農 ② C, 地中海式農業 ③ A, 混合農業

[要点：鉱工業]

ヨーロッパ最大の工業国はドイツである。その代表的な工業地域は、ルール工業地域で、ルール炭田の石炭や、ライン川の水運にめぐまれて、戦後、鉄鋼業などの重工業が発達した。

ライン川の河口の国はオランダで、ユーロポートは国際的な貿易港になっており、化学工業もさかんである。

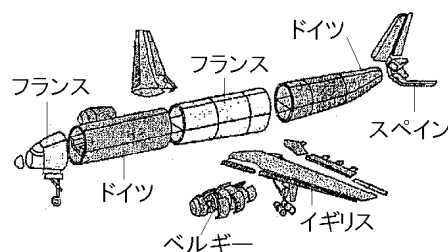
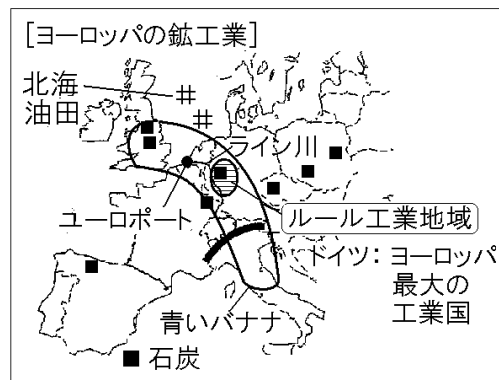
イギリス南部からフランス東部、ドイツ西部を通過してイタリア北部にいたる青いバナナと呼ばれる地域は、商業や工業がさかんな都市が数多くあり、経済水準が高くなっている。

北海油田は1960年以降イギリスなどが開発を始めた海底油田である。

近年は、医薬品や情報通信機器などの生産を行うハイテク(先端技術)産業が大きく成長している。航空機産業については、アメリカ合衆国などに対抗するために、EU

各国は、国境をこえて協力し共同で生産を行っている。EU各国が、右図のように、各部分ごとに生産を分担し、フランスやドイツで組み立てを行っている。

※出題頻度「ルール工業地域○」「ユーロポート○」「石油・石炭の分布図○」「北海油田○」



[問題]

次の文章中の①～⑧に適語を入れよ。

ヨーロッパ最大の工業国は(①)である。その代表的な工業地域は、(②)工業地域で、(②)炭田の石炭や、(③)川の水運にめぐまれて、戦後、鉄鋼業などの重工業が発達した。(③)川の河口の国はオランダで、(④)は国際的な貿易港になっており、化学工業もさかんである。イギリス南部からフランス東部、ドイツ西部を通過してイタリア北部にいたる(⑤)と呼ばれる地域は、商業や工業がさかんな都市が数多くあり、経済水準が高くなっている。(⑥)油田は1960年以降イギリスなどが開発を始めた海底油田である。

近年は、医薬品や情報通信機器などの生産を行う(⑦)産業が大きく成長している。(⑧)産業については、アメリカ合衆国などに対抗するために、EU各国は、国境をこえて協力し共同で生産を行っている。EU各国が各部分ごとに生産を分担し、フランスやドイツで組み立てを行っている。

[解答欄]

①	②	③	④
⑤	⑥	⑦	⑧

[解答]① ドイツ ② ルール ③ ライン ④ ユーロポート ⑤ 青いバナナ ⑥ 北海
⑦ ハイテク(先端技術) ⑧ 航空機

[問題]

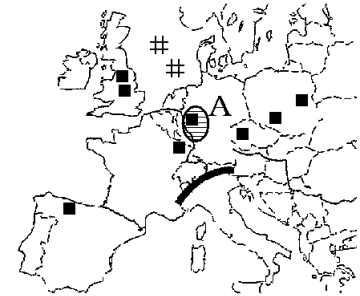
次の各問いに答えよ。

(1) 地図中の■, #に適する資源名を次の[]の中からそれぞれ1つずつ選べ。

[ダイヤモンド 石炭 石油 金 銀]

(2) ■の資源やライン川の水運などを利用して工業が発展した地図のAの工業地域の名前を答えよ。

(3) ライン川河口のオランダにある国際的な貿易港の名前を答えよ。



(4) ヨーロッパにはイギリスの東側に大きな油田がある。その油田の名称を漢字4字で答えよ。

(5) 近年、ヨーロッパでは、医薬品や情報通信機器などの生産を行う産業が成長している。このような産業を何というか。

(6) アメリカ合衆国などの工業製品に対抗するため、EUの加盟国が技術協力し、共同生産している輸送機器名を答えよ。

[解答欄]

(1)■ :	# :	(2)
(3)	(4)	(5)
(6)		

[解答](1)■ : 石炭 # : 石油 (2) ルール工業地域 (3) ユーロポート (4) 北海油田
(5) ハイテク産業(先端技術産業) (6) 航空機

[要点 : EUの発足]

第二次世界大戦によって国力が弱体化した西ヨーロッパの国々では、政治・経済の面でアメリカ合衆国などの大国に対抗することと、二度とヨーロッパで戦争を起こさないようにするために、国家のわくをこえて経済的に協力する動きが起こった。1967年にヨーロッパ共同体(EC)、さらに、1993年にヨーロッパ連合(EU)を結成した。EUの本部はベルギーのブリュッセルにおかれている。EUは最初、西ヨーロッパ諸国を中心に発足したが、後に、東ヨーロッパ諸国が加盟した。イギリスは2016年、国民投票の結果EUからの離脱を決定し、2020年にEUを離脱した。その結果、EU加盟国数は27か国になった。

※出題頻度「EU(ヨーロッパ連合)○」「政治・経済の面でアメリカ合衆国などの大国に対抗するため○」「二度とヨーロッパで戦争を起こさないようにするため○」「27 各国○」
「本部はベルギーのブリュッセル○」

[問題]

次の文章中の①～⑤に適語を入れよ。

第二次世界大戦によって国力が弱体化した西ヨーロッパの国々では、政治・経済の面でアメリカ合衆国などの大国に対抗することと、二度とヨーロッパで(①)を起こさないようにするために、国家のわくをこえて経済的に協力する動きが起こった。1967年にヨーロッパ共同体(EC)、さらに、1993年に(②)を結成した。(②)の本部はベルギーの(③)におかれている。(②)は最初、西ヨーロッパ諸国を中心に発足したが、後に、東ヨーロッパ諸国が加盟した。(④)(国名)は2016年、国民投票の結果、(②)からの離脱を決定し、2020年に(②)を離脱した。その結果、(②)加盟国数は(⑤)か国になった。

[解答欄]

①	②	③
④	⑤	

[解答]① 戦争 ② ヨーロッパ連合(EU) ③ ブリュッセル ④ イギリス ⑤ 27

[問題]

次の各問いに答えよ。

- (1) フランスやドイツなどが 1967 年に結成し、その後、イギリスなどが加盟した組織の名前を書け。
- (2) (1)の結合をさらに進めるために 1993 年に発足した組織の名前を書け。
- (3) (1)や(2)が結成された理由を、次の[]の語句を使って答えよ。
[アメリカ合衆国 政治 経済 戦争]
- (4) (2)の本部は何という国の何という都市に置かれているか。
- (5) 2020 年に(2)を離脱した国はどこか。
- (6) (5)の結果(2)の加盟国数は何か国になったか。

[解答欄]

(1)	(2)	
(3)		
(4)	(5)	(6)

[解答](1) ヨーロッパ共同体(EC) (2) ヨーロッパ連合(EU) (3) 政治・経済の面でアメリカ合衆国などの大国に対抗するため。二度とヨーロッパで戦争を起こさないようにするため。
(4) ベルギーのブリュッセル (5) イギリス (6) 27 か国

[要点：EU の統合と人々の生活]

EU加盟国内では、パスポートなしで国境を自由に通過でき、輸入品に関税がかからない。また、他国の大学で授業を受けても卒業資格を取得でき、仕事の資格が共通なので他国で働くこともできる。2002年にEUの経済統合を促進する目的で共通通貨のユーロが導入された。統合がすすむ中で交通網も整備されてきている。ロンドンとパリ間にはユーロスターという高速鉄道が運用されている。ユーロスターは、ドーバー海峡に掘られたユーロトンネルを通っている。また、フランクフルトからパリまで伸びたドイツの特急ICEもある。

※出題頻度「ユーロ◎」「パスポートなしに自由に国境を通過できる◎」「関税がかからない○」「仕事の資格や大学の卒業資格が共通○」「ユーロスター○」「ユーロトンネル○」

[問題]

次の文章中の①～⑥に適語を入れよ。

EU加盟国内では、(①)なしで国境を自由に通過でき、輸入品に(②)がかからない。また、他国の大学で授業を受けても卒業(③)を取得でき、仕事の(③)が共通なので他国で働くこともできる。2002年に EU の経済統合を促進する目的で共通通貨の(④)が導入された。統合がすすむ中で交通網も整備されてきている。ロンドンとパリ間には(⑤)という高速鉄道が運用されている。(⑤)は、ドーバー海峡に掘られたユーロトンネルを通っている。また、フランクフルトからパリまで伸びたドイツの特急(⑥)もある。

[解答欄]


①	②	③	④
⑤	⑥		

[解答]① パスポート ② 関税 ③ 資格 ④ ユーロ ⑤ ユーロスター ⑥ ICE

[問題]

次の各問いに答えよ。

- (1) EU内では、(①)なしで自由に国境をこえて移動することが可能で、域内では輸入品に(②)がかからない。また、他国の大学で授業を受けても卒業資格を取得でき、仕事の(③)が共通なので他国で働くこともできる。
- (2) 右の資料は、EU 加盟国の多くの国で使用されている共通通貨である。この通貨の名称を答えよ。
- (3) ヨーロッパ各国では、高速鉄道網が発達している。右の写真は、ロンドンとパリを結ぶ高速鉄道である。①この鉄道を何というか。
②この鉄道が通っている、ドーバー海峡に掘られたトンネルを何というか。
- (4) フランクフルトからパリまでのびたドイツの特急を何というか。



[解答欄]

(1)①	②	③	(2)
(3)①	②	(4)	

[解答](1)① パスポート ② 関税 ③ 資格 (2) ユーロ (3)① ユーロスター
② ユーロトンネル (4) ICE

[要点：EU の課題]

以前から EU に加盟していた西ヨーロッパの加盟国は 1 人あたりの国民所得が大きいが、2004 年以降に加盟した東ヨーロッパ諸国の 1 人あたりの国民所得は小さい。EU による統合が進む中で大きな課題になっているのは、このような EU 加盟国間の経済格差である。このため、東ヨーロッパなどから、賃金の高いドイツ、フランスなどへ働きに来る外国人労働者が増えている。外国人労働者や移民が増加することによって、職を奪われて失業者が増えるという問題も生じている。これとは逆に、賃金が安い東ヨーロッパに工場を移転する西ヨーロッパの企業が増えている。一方、政治面では、各国の意見の調整に時間がかかるようになったという問題もある。

※出題頻度「経済格差が大きい◎」

[問題]

次の文章中の①～③に適語を入れよ。

以前から EU に加盟していた西ヨーロッパの加盟国は 1 人あたりの国民所得が大きいですが、2004 年以降に加盟した(①)諸国の 1 人あたりの国民所得は小さい。EU による統合が進む中で大きな課題になっているのは、このような EU 加盟国間の(②)である。このため、(①)などから、賃金の高いドイツ、フランスなどへ働きに来る外国人労働者が増えている。外国人労働者や移民が増加することによって、職を奪われて(③)が増えるという問題も生じている。これとは逆に、賃金が安い(①)に工場を移転する西ヨーロッパの企業が増えている。一方、政治面では、各国の意見の調整に時間がかかるようになったという問題もある。

[解答欄]

①	②	③
---	---	---

[解答]① 東ヨーロッパ ② 経済格差 ③ 失業者

[問題]

次の各問いに答えよ。

- (1) 1人あたり国民総所得が大きいのは、ヨーロッパの東側か、西側か。
- (2) EUのかかえる経済的な課題となっているのは、加盟国間の何が大きいことか。漢字4字で答えよ。
- (3) (1)、(2)に関し、西ヨーロッパの国の企業にはどのような動きがあるか。「工場」という語を使って書け。
- (4) EU には(2)の問題のほかにもどのような問題があるか。意思決定について、「意見」「調整」の語句を使って説明せよ。

[解答欄]

(1)	(2)
(3)	
(4)	

[解答](1) 西側 (2) 経済格差 (3) 賃金が安い東ヨーロッパに工場を建設する動きがある。

(4) 各国の意見の調整に時間がかかるようになったこと。

[要点：ロシア連邦]

1991年に解体したソビエト連邦(ソ連)の大部分をしめるのはロシア連邦である。ロシア連邦は、ウラル山脈をはさんでヨーロッパとアジアに広がる国で、国土面積は日本の45倍もある。人口は約1.4億人で、その多くは首都モスクワを中心とした西部に住んでいる。ロシア連邦は石油や天然ガスの産出量が世界1または2位である。大量の石油・天然ガスをパイプラインという輸送管でヨーロッパ諸国に輸出している。また、シベリアには、タイガという針葉樹の森林があり、木材をヨーロッパ諸国に輸出している。

※出題頻度「パイプライン△」「石油や天然ガス△」「木材△」

[問題]

次の文章中の①～⑤に適語を入れよ。

1991年に解体したソビエト連邦(ソ連)の大部分をしめるのは(①)である。(①)は、(②)山脈をはさんでヨーロッパとアジアに広がる国で、国土面積は日本の45倍もある。人口は約1.4億人で、その多くは首都モスクワを中心とした西部に住んでいる。(①)は石油や(③)の産出量が世界1または2位である。大量の石油・(③)を(④)という輸送管でヨーロッパ諸国に輸出している。また、シベリアには、タイガという針葉樹の森林があり、(⑤)をヨーロッパ諸国に輸出している。

[解答欄]

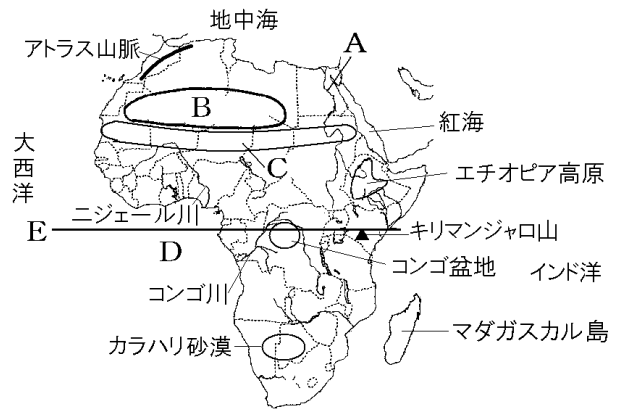
①	②	③	④
⑤			

[解答]① ロシア連邦 ② ウラル ③ 天然ガス ④ パイプライン ⑤ 木材

【】 アフリカ州

[要点：地形]

エジプトを流れるナイル川(地図のA)は長さが世界一の川である。その流域では、かつて、エジプト文明が栄えた。アフリカ大陸北部に広がるサハラ砂漠(B)は世界最大である。サハラ砂漠の南側を東西に細長くのびる乾燥地域をサヘル(C)という。地球規模での気候変動に加え、人口増加にともなう家畜の過剰放牧、ゆきすぎた焼畑や過剰耕作などにより、緑の生育を上回るスピー



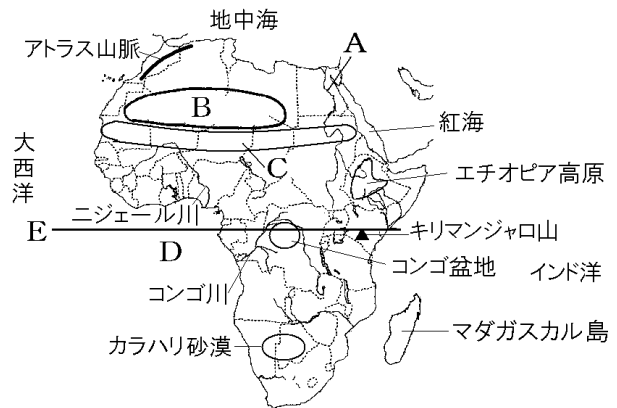
ドで人間や家畜が緑を消費してしまうことで、大地が不毛の土地になる砂漠化が進行した。ギニア湾(D)の沿岸部ではかつて、ヨーロッパ人が進出し、奴隷・金・象牙・穀物などが取り引きされた。ギニア湾上を通るEの線は赤道である。

※出題頻度「サハラ砂漠◎」「ナイル川◎」「ギニア湾○」「赤道の位置◎」「本初子午線の位置○」

[問題]

次の文章中の①～⑥に適語を入れよ。

エジプトを流れる(①)川(地図の A)は長さが世界一の川である。その流域では、かつて、エジプト文明が栄えた。アフリカ大陸北部に広がる(②)砂漠(B)は世界最大である。(②)砂漠の南側を東西に細長くのびる乾燥地域を(③)(C)という。地球規模での気候変動に加え、人口増加にともなう家畜の過剰放牧、ゆきすぎた焼畑や過剰耕作などにより、緑の生育を上回るスピードで人間や家畜が緑を消費してしまうことで、大地が不毛の土地になる(④)化が進行した。(⑤)湾(D)の沿岸部ではかつて、ヨーロッパ人が進出し、奴隷・金・象牙・穀物などが取り引きされた。(⑤)湾上を通る E の線は(⑥)である。



[解答欄]

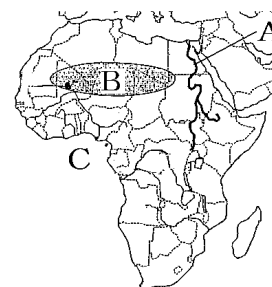
①	②	③	④
⑤	⑥		

[解答]① ナイル ② サハラ ③ サヘル ④ 砂漠 ⑤ ギニア ⑥ 赤道

[問題]

次の各問いに答えよ。

- (1) 地図の A, B, C の地形名を答えよ。
- (2) B の南側を東西に細長くのびる乾燥地域を何というか。
- (3) A の川の流域で、古代に栄えた文明を何というか。



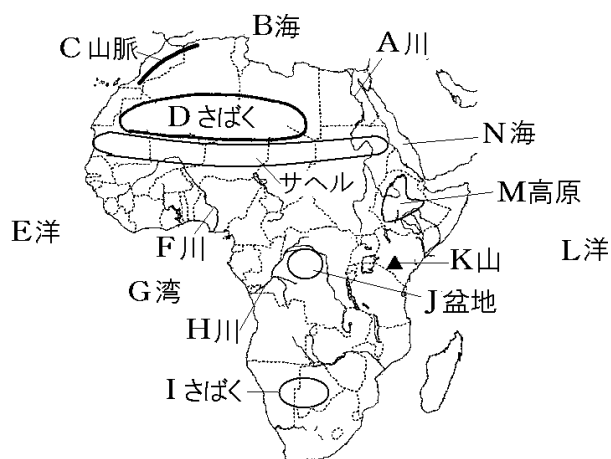
[解答欄]

(1)A	B	C	(2)
(3)			

[解答](1)A ナイル川 B サハラ砂漠 C ギニア湾 (2) サヘル (3) エジプト文明

[問題]

次の地図中の A~N の地形名を答えよ。



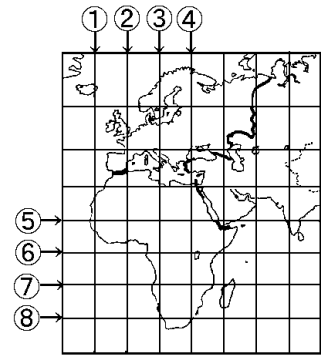
[解答欄]

A	川	B	海	C	山脈
D	砂漠	E	洋	F	川
G	湾	H	川	I	砂漠
J	盆地	K	山	L	洋
M	高原	N	海		

[解答]A ナイル B 地中 C アトラス D サハラ E 大西 F ニジェール G ギニア
H コンゴ I カラハリ J コンゴ K キリマンジャロ L インド M エチオピア N 紅

[問題]

右図で赤道と本初子午線を示している線はどれか。
 図中の①～⑧のうちから、最も適当なものをそれぞれ
 1つずつ選び、その番号を書け。



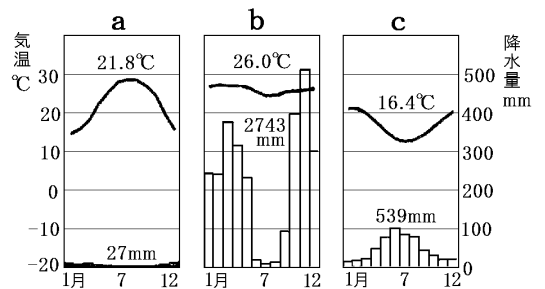
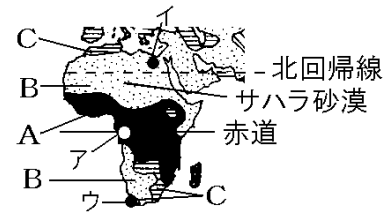
[解答欄]

赤道：	本初子午線：
-----	--------

[解答]赤道：⑥ 本初子午線：②

[要点：気候]

赤道周辺の気候は熱帯(A)である。ここでは、強い日射であたためられた空気が上昇気流となるため、雲が発生しやすく、雨が多い。熱帯にあるアの都市の雨温図はbである。赤道付近で上昇した空気は高緯度へ移動し、北回帰線(南回帰線)付近(23.4度)で下降する。下降気流があるところでは雲は消えて雨はほとんど降らない。そのため回帰線付近では乾燥帯(B)になっている。北回帰線付近にはサハラ砂漠が広がっている。乾燥帯にあるイの都市の雨温図はaである。アフリカ北西部の地中海沿岸とアフリカの南端は温帯(C)の気候になっている。温帯にあるウの都市の雨温図はcである。

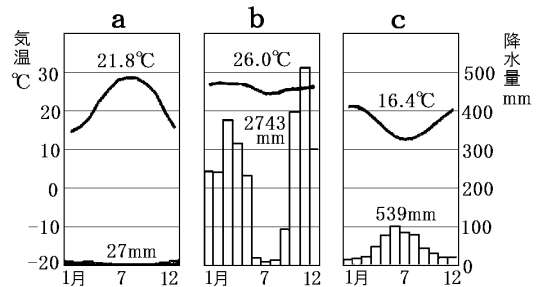
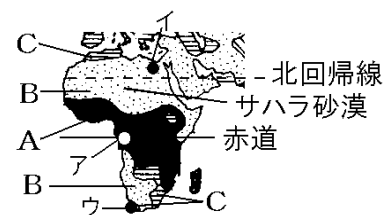


※出題頻度「熱帯→乾燥帯→温帯○」「雨温図の問題○」「熱帯雨林気候△」「サバナ気候△」「ステップ気候△」「砂漠気候△」

[問題]

次の文章中の①～⑥に適語を入れよ(または適語を選べ)。

赤道周辺の気候は(①)帯(A)である。ここでは、強い日射であたためられた空気が上昇気流となるため、雲が発生しやすく、雨が多い。(①)帯にあるアの都市の雨温図は②(a/b/c)である。赤道付近で上昇した空気は高緯度へ移動し、北回帰線(南回帰線)付近(23.4度)で下降する。下降気流があるところでは雲は消えて雨はほとんど降らない。そのため回帰線付近では(③)帯(B)になっている。北回帰線付近にはサハラ砂漠が広がっている。(③)帯にあるイの都市の雨温図は④(a/b/c)である。アフリカ北西部の地中海沿岸とアフリカの南端は(⑤)帯(C)の気候になっている。(⑤)帯にあるウの都市の雨温図は⑥(a/b/c)である。



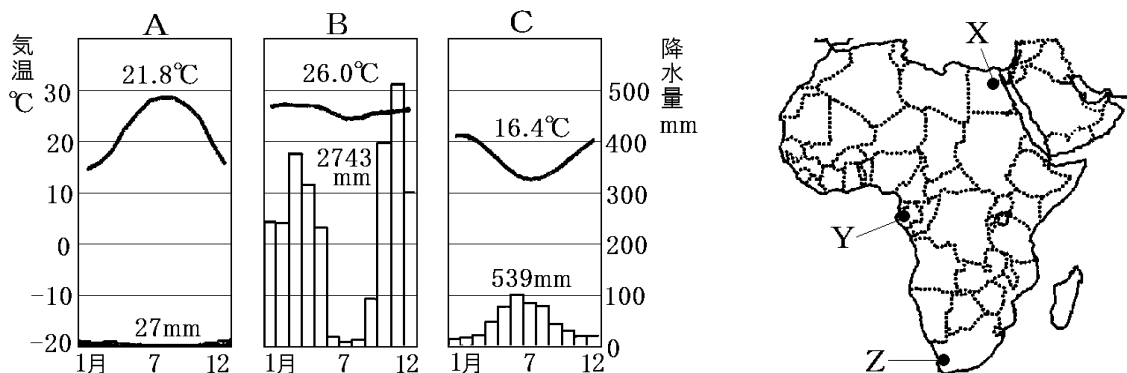
[解答欄]

①	②	③	④
⑤	⑥		

[解答]① 熱 ② b ③ 乾燥 ④ a ⑤ 温 ⑥ c

[問題]

次のA～Cのグラフは、略地図中のX、Y、Zの都市のものである。A～Cのグラフは、それぞれの都市にあてはまるか。都市の記号を答え、あわせて、気候帯名を書け。



[解答欄]

A :	B :	C :
-----	-----	-----

[解答]A : X, 乾燥帯 B : Y, 熱帯 C : Z, 温帯

[要点：歴史]

16世紀以後、ヨーロッパ人は千数百万人の黒人を^{どれい}奴隷として南北アメリカ大陸に連れ去った。さらに、エチオピアとリベリアを除くアフリカのほぼ全域を^{しよくみんち}植民地として支配した。右図のAの地域はフランス、Bの地域はイギリスの植民地である。アフリカ大陸には直線的な国境線が多いが、これは^{けいせん いせん}経線や緯線によって^{ぶんかつ}支配地域を分割したなごりである。この境界線は、民族のまとまりを無視して引かれたため、民族間の対立、さらには内戦の原因になっている。



また、現在でも英語やフランス語など植民地時代の旧本国の言語を^{こうようご}公用語としている国が多くある。宗教の面では、北アフリカではおもにイスラム教が^{しんこう}信仰されているが、それ以外の地域では伝統的な宗教を信仰しており、植民地時代の影響でキリスト教も広がっている。

※出題頻度「植民地○」「奴隷○」「経線や緯線によって支配地域を分割○」

「直線的な国境線○」「民族間の対立や内戦○」「公用語○」「英語やフランス語○」

「イスラム教○」「キリスト教○」

[問題]

次の文章中の①～⑧に適語を入れよ。

16世紀以後、(①)人は千数百万人の黒人を(②)として南北アメリカ大陸に連れ去った。さらに、エチオピアとリベリアを除くアフリカのほぼ全域を(③)地として支配した。右図の A の地域は(④)， B の地域は(⑤)の(③)地である。アフリカ大陸には直線的な国境線が多いが、これは経線や(⑥)によって支配地域を分割したなごりである。この境界線は、民族のまとまりを無視して引かれたため、民族間の対立、さらには内戦の原因になっている。また、現在でも英語やフランス語など植民地時代の旧本国の言語を(⑦)語としている国が多くある。宗教の面では、北アフリカではおもにイスラム教が信仰されているが、それ以外の地域では伝統的な宗教を信仰しており、(③)地時代の影響で(⑧)教も広がっている。



[解答欄]

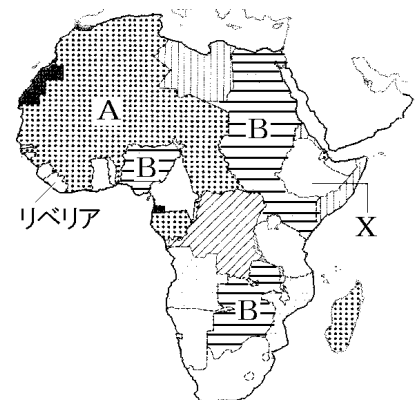
①	②	③	④
⑤	⑥	⑦	⑧

[解答]① ヨーロッパ ② 奴隷 ③ 植民 ④ フランス ⑤ イギリス ⑥ 緯線 ⑦ 公用 ⑧ キリスト

[問題]

次の各問いに答えよ。

- 16世紀以後、多くのアフリカ人が()として南北アメリカへ連れ出された。()に適語を入れよ。
- ヨーロッパ諸国はアフリカへ進出し、やがてこの地域を自国の支配下におさめていった。このような支配された地域や国々を何と呼ぶか。
- 地図中の A, B の地域を(2)として支配下に置いたヨーロッパの国名をそれぞれ書け。
- 地図中のリベリアと X は(2)にならなかった。X の国名を書け。
- 現在でも(2)時代の言葉を(①)語としている国が多い。また、(2)時代に引かれた(②)線をめぐる民族間の対立も起きている。北アフリカではおもに(③)教が信仰されているが、それ以外の地域では伝統的な宗教のほか、(2)時代の影響で(④)教も広がっている。



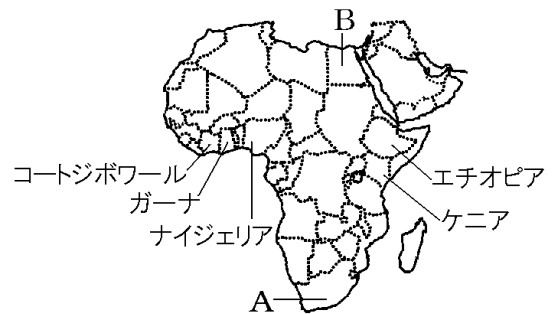
[解答欄]

(1)	(2)	(3)A	B
(4)	(5)①	②	③
④			

[解答](1) 奴隷 (2) 植民地 (3)A フランス B イギリス (4) エチオピア (5)① 公用
② 国境 ③ イスラム ④ キリスト

[要点：国名]

Aの南アフリカ共和国では、少数の白人が黒人などの有色人種を差別するアパルトヘイトという人種隔離政策を行っていたが、1991年に撤廃した。さらに、1994年に初の黒人大統領(マンデラ大統領)が誕生した。



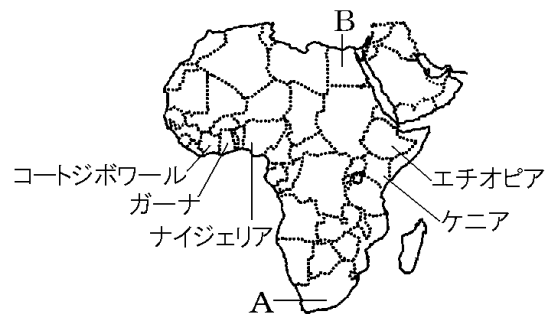
Bのエジプトでは古くからナイル川の水を使ったかんがい農業が行われ、かつて古代エジプト文明が栄えた。

※出題頻度「南アフリカ共和国◎」「アパルトヘイト◎」「マンデラ○」「エジプト◎」

[問題]

次の文章中の①～④に適語を入れよ。

Aの(①)国では、少数の白人が黒人などの有色人種を差別する(②)という人種隔離政策を行っていたが、1991年に撤廃した。さらに、1994年に初の黒人大統領((③)大統領)が誕生した。



Bの(④)では古くからナイル川の水を使ったかんがい農業が行われ、かつて古代(④)文明が栄えた。

[解答欄]

①	②	③	④
---	---	---	---

[解答]① 南アフリカ共和 ② アパルトヘイト ③ マンデラ ④ エジプト

[問題]

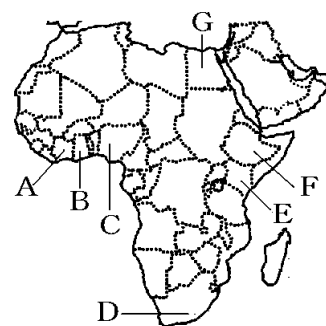
次の各問いに答えよ。

- (1) 地図中の A～G にあてはまる国名を次の[]の中からそれぞれ選べ。

[南アフリカ共和国 エジプト ナイジェリア
ガーナ コートジボワール エチオピア ケニア]

- (2) D の国で、長い間とられてきた人種隔離政策を何というか。
カタカナで答えよ。

- (3) (2)の体制がくずされ、1994年に大統領となったのは誰か。



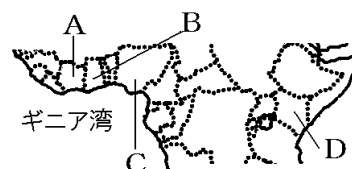
[解答欄]

(1)A	B	C
D	E	F
G	(2)	(3)

[解答](1)A コートジボワール B ガーナ C ナイジェリア D 南アフリカ共和国
E ケニア F エチオピア G エジプト (2) アパルトヘイト (3) マンデラ

[要点：プランテーション]

植民地時代のアフリカでは、ヨーロッパ人によってプランテーションという大農園が開かれた。ギニア湾岸^{わんがん}の国では、チョコレートの原料になるカカオの生産がさかんで、コートジボワール(A)は世界一の生産国で、ガーナ(B)は日本へ多く輸出している。ナイジェリア(C)ではカカオの生産もさかんであるが、輸出の7割を石油がしめている。ケニア(D)では茶のプランテーションが開かれ、現在も重要な輸出品になっている。

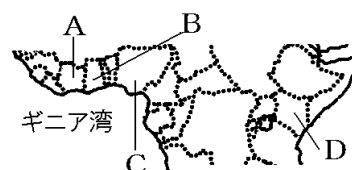


※出題頻度「プランテーション◎」「商品作物○」「カカオ○」「ガーナ○」「コートジボワール○」

[問題]

次の文章中の①～⑥に適語を入れよ。

植民地時代のアフリカでは、ヨーロッパ人によって(①)
という大農園が開かれた。ギニア湾岸の国では、チョコレート
の原料になる(②)の生産がさかんで、(③)(A)は世界一
の生産国で、(④)(B)は日本へ多く輸出している。(⑤)
(C)では(②)の生産もさかんであるが、輸出の7割を石油がしめている。
ケニア(D)では(⑥)の(①)が開かれ、現在も重要な輸出品になっている。



[解答欄]

①	②	③
④	⑤	⑥

[解答]① プランテーション ② カカオ ③ コートジボワール ④ ガーナ

⑤ ナイジェリア ⑥ 茶

[問題]

次の各問いに答えよ。

(1) 植民地時代のアフリカでは、ヨーロッパ人が現地の安い労働力を利用して大農園で特定の商品作物を栽培してヨーロッパに輸出した。この大農園を何というか。

(2) ギニア湾沿岸の A, B, C の国では、チョコレートの原料になる農作物の(1)の農業が行われている。何という作物か。

(3) (2)の生産量が世界 1 位の国は A, B, C のどこか。記号と国名を書け。

(4) 日本が(2)の大半を輸入している国は A, B, C のどこか。記号と国名を書け。

(5) 熱帯地方でみられる農業で、森林を焼いて、その灰を肥料にして農作物を育てる農業を何というか。

(6) アフリカの乾燥帯では移動しながら牛やラクダを飼育している。これを何というか。



[解答欄]

(1)	(2)	(3)
(4)	(5)	

[解答](1) プランテーション (2) カカオ (3) A, コートジボワール (4) B, ガーナ

(5) 焼畑農業 (6) 遊牧

[要点：鉱産資源]

アフリカは鉱産資源が豊富である。石油(図の#)はギニア湾沿岸のナイジェリアや、北アフリカ諸国で産出される。金(図の■)はアフリカ最大の工業国である南アフリカ共和国や、ギニア湾沿岸のガーナなどで産出され、銅(図の▲)はザンビアなどで産出される。近年はクロムやマンガンなどのレアメタル(希少金属)が注目されている。



※出題頻度「レアメタル◎」「石油・金・銅の分布図○」

[問題]

次の文章中の①～⑥に適語を入れよ。

アフリカは鉱産資源が豊富である。(①)(図の#)はギニア湾沿岸の(②)や、北アフリカ諸国で産出される。(③)(図の■)はアフリカ最大の工業国である(④)や、ギニア湾沿岸のガーナなどで産出され、(⑤)(図の▲)はザンビアなどで産出される。近年はクロムやマンガンなどの(⑥)(希少金属)が注目されている。



[解答欄]

①	②	③
④	⑤	⑥

[解答]① 石油 ② ナイジェリア ③ 金 ④ 南アフリカ共和国 ⑤ 銅 ⑥ レアメタル

[問題]

次の各問いに答えよ。

- アフリカでは、携帯電話などに欠かせないコバルトなどの希少金属が産出されている。このような希少金属をカタカナで何というか。
- Aのナイジェリアの輸出の大半を占め、北アフリカでも多く産出されている鉱産資源は何か。
- 図中のC、Dの両国では、(①)という鉱産資源が、Bの国では(②)やダイヤモンドが産出されている。
- アフリカ最大の工業国はどこか。A～Eから選び、記号と国名を書け。
- 21世紀になり、アフリカ全体として見ると経済成長率が高くなっている。その理由を、「資源」の語句を使って書け。



[解答欄]

(1)	(2)	(3)①	②
(4)	(5)		

[解答](1) レアメタル (2) 石油 (3)① 銅 ② 金 (4) B, 南アフリカ共和国 (5) 豊かな鉱産資源を輸出できるから。

[要点：モノカルチャー経済]

アフリカ諸国の多くは工業化が進んでおらず、特定の商品作物や鉱産資源の輸出にたよっている国が多い。たとえば、コートジボワールはカカオ、ナイジェリアは石油、ガーナは金と石油、ザンビアは銅、ケニアは茶の輸出に頼っている。南アフリカ共和国だけは、工業化が進んでいるため、自動車、機械類、鉄鋼などの工業製品の輸出も多い。

このように、少ない種類の商品作物や鉱産資源の輸出にたよって成り立っている経済をモノカルチャー経済という。モノカルチャー経済は、天候や景気により取引価格が大きく変動するため、毎年安定した収入を得ることができないという問題をかかえている。近年、発展途上国でつくられた農産物などを適正な価格で取引するフェアトレードの考え方が重視されるようになっている。

※出題頻度「モノカルチャー経済◎」「少ない種類の商品作物や鉱産資源の生産や輸出にたよる経済○」「天候や景気によって取引価格が変化しやすいことにより、収入が安定しない○」「ナイジェリア・コートジボワール・南アフリカ共和国の輸出品のグラフ○」「フェアトレード△」

[問題]

次の文章中の①～⑦に適語を入れよ。

アフリカ諸国の多くは工業化が進んでおらず、特定の商品作物や鉱産資源の輸出にたよっている国が多い。たとえば、コートジボワールは(①)、ナイジェリアは(②)、ガーナは金と石油、ザンビアは銅、ケニアは茶の輸出に頼っている。(③)共和国だけは、工業化が進んでいるため、自動車、機械類、鉄鋼などの工業製品の輸出も多い。

このように、少ない種類の商品作物や鉱産資源の輸出にたよって成り立っている経済を(④)経済という。(④)経済は、天候や(⑤)により(⑥)が大きく変動するため、毎年安定した収入を得ることができないという問題をかかえている。近年、発展途上国でつくられた農産物などを適正な価格で取引する(⑦)トレードの考え方が重視されるようになっている。

[解答欄]

①	②	③	④
⑤	⑥	⑦	

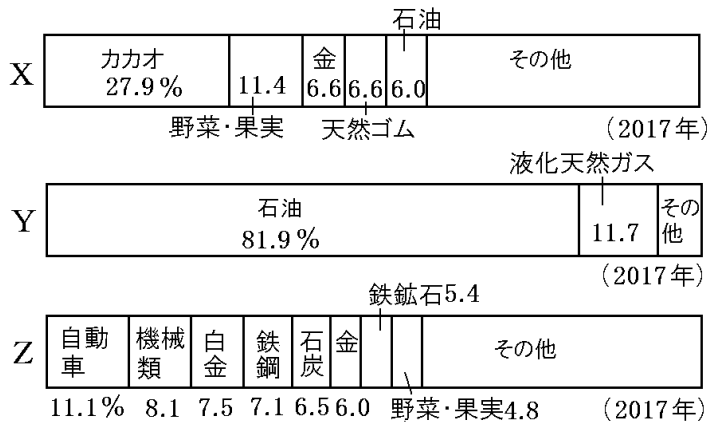
[解答]① カカオ ② 石油 ③ 南アフリカ ④ モノカルチャー ⑤ 景気 ⑥ 取引価格
⑦ フェア

[問題]

次の各問いに答えよ。

- (1) 次のグラフは、[]内の国のそれぞれの輸出品の割合を示したグラフである。X～Z 国の名前をそれぞれ答えよ。

[ナイジェリア コートジボワール 南アフリカ共和国]



- (2) アフリカでは限られた特定の(①)作物や鉱産資源の生産や輸出にたよっている国が多い。このような経済を(②)経済という。

[解答欄]

(1)X	Y	Z
(2)①	②	

[解答](1)X コートジボワール Y ナイジェリア Z 南アフリカ共和国 (2)① 商品

② モノカルチャー

[問題]

次の各問いに答えよ。

- (1) アフリカには、モノカルチャー経済の国が多い。モノカルチャー経済とは何か。「商品作物」「鉱産資源」の語句を使って簡単に説明せよ。
- (2) モノカルチャー経済は不安定になりやすいが、その理由を「天候や景気」「取引価格」という語句を使って簡単に説明せよ。

[解答欄]

(1)
(2)

[解答](1) 特定の商品作物や鉱産資源の輸出にたよって成り立っている経済。

(2) 天候や景気によって取引価格が変化しやすいことにより、収入が安定しないから。

[要点：アフリカの課題と展望]

アフリカでは、栄養状態が悪いため病気に対する抵抗力が弱く乳児死亡率が高い。また、エイズ感染者も多いため平均寿命が短い。

農村から都市への人口集中がおこっている。都市への移住者の多くは、賃金の安い単純労働の仕事をしており、スラムと呼ばれる劣悪な居住地区に住んでいる。

先進国の政府や政府機関は、発展途上国に対して資金協力や技術協力などのODA(政府開発援助)を行っている。また、もうけや利益を目的としないNGO(非政府組織)からの援助も行われている。アフリカ諸国は、共同で諸問題の解決に取り組むため、2002年にEUをモデルにしたAU(アフリカ連合)を結成した。

※出題頻度「乳児死亡率が高い○」「スラム○」「NGO○」「ODA○」「アフリカ連合(AU) ○」

[問題]

次の文章中の①～⑥に適語を入れよ。

アフリカでは、栄養状態が悪いため病気に対する抵抗力が弱く(①)死亡率が高い。また、(②)感染者も多いため平均寿命が短い。

農村から都市への人口集中がおこっている。都市への移住者の多くは、賃金の安い単純労働の仕事をしており、(③)と呼ばれる劣悪な居住地区に住んでいる。

先進国の政府や政府機関は、発展途上国に対して資金協力や技術協力などの(④)を行っている。また、もうけや利益を目的としない(⑤)からの援助も行われている。アフリカ諸国は、共同で諸問題の解決に取り組むため、2002年にEUをモデルにした(⑥)を結成した。

[解答欄]

①	②	③	④
⑤	⑥		

[解答]① 乳児 ② エイズ ③ スラム ④ ODA(政府開発援助) ⑤ NGO(非政府組織)
⑥ AU(アフリカ連合)

[問題]

次の各問いに答えよ。

(1) アフリカ諸国は現在も大きな困難をかかえている。次の[]内の言葉を使って、アフリカ諸国の困難な状況を説明せよ。

[食料 乳児死亡率 エイズ]

(2) 大都市での問題の 1 つである、賃金の安い単純労働の仕事をしている人々が簡単なつくりの家に住んでいる居住地区を何というか。

(3) アフリカの課題を共有し、お互いに解決の方法を考えるために結成された組織の名前を答えよ。

(4) アフリカなどの発展途上国の貧困を救うために、先進国の政府が発展途上国に対して行っている援助をアルファベットで何というか。

(5) アフリカでは、民間団体である非政府組織が環境保護や飢餓救済などの活動をしている。この組織の略称をアルファベットで何というか。

[解答欄]

(1)			
(2)	(3)	(4)	(5)

[解答](1) 食料不足によって栄養状態が悪いため乳児死亡率が高い。また、エイズ感染者も多い。(2) スラム (3) AU(アフリカ連合) (4) ODA (5) NGO