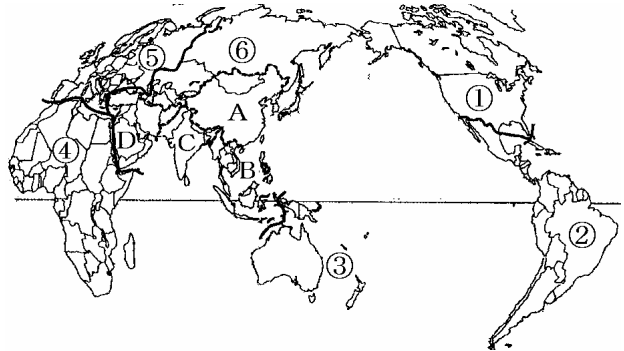


【】 中学社会地理：世界の国々(国名, 国の形, 国の特徴) [\[FdText：中学・塾用ワープロデータ教材\]](#)

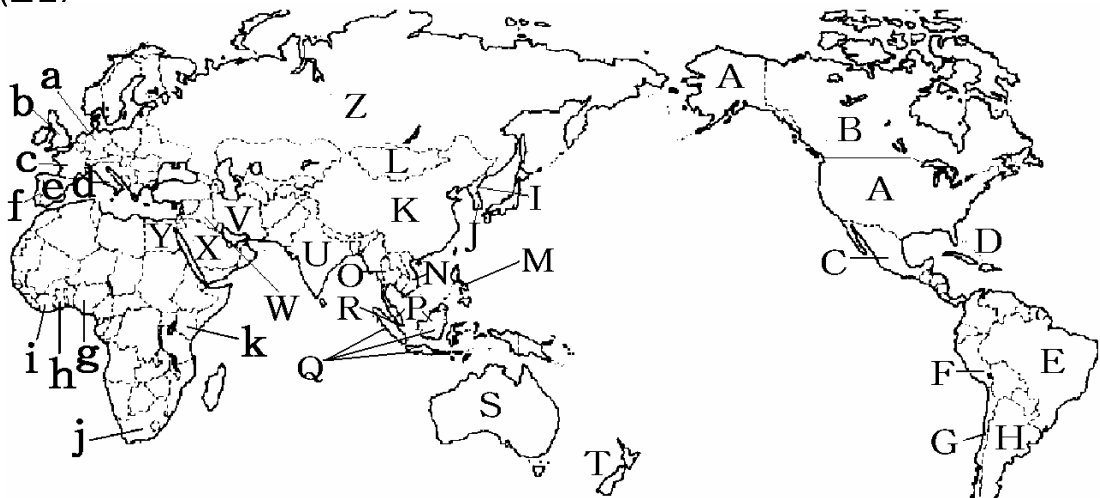
【】 世界の国々

[要点]

北アメリカ州 南アメリカ州
オセアニア州 アフリカ州
ヨーロッパ州
アジア州(A 東アジア B 東南アジア
C 南アジア D 西アジア)



(国名)



Aアメリカ合衆国 Bカナダ Cメキシコ Dキューバ Eブラジル Fペルー Gチリ
Hアルゼンチン I北朝鮮 J大韓民国 K中華人民共和国 Lモンゴル Mフィリピン
Nベトナム Oタイ Pマレーシア Qインドネシア Rシンガポール Sオーストラリア
Tニュージーランド Uインド Vイラン Wイラク Xサウジアラビア Yエジプト Zロシア連邦
aドイツ bイギリス cフランス dイタリア eスペイン fポルトガル gナイジェリア
hガーナ iコートジボアール j南アフリカ共和国 kケニア

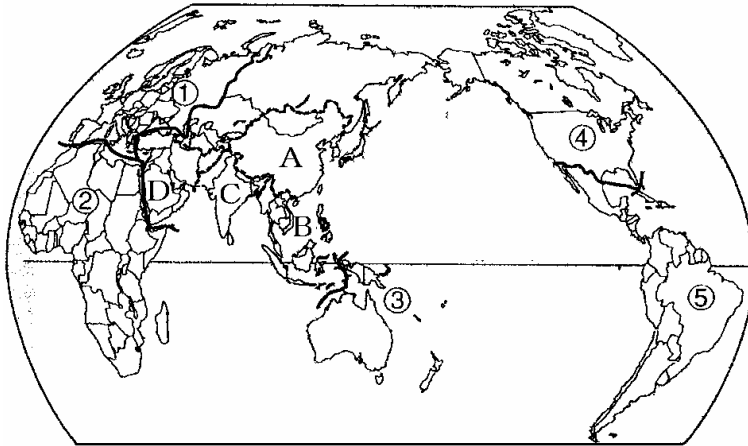
191ヶ国

面積 第1位：ロシア連邦 第2位：カナダ 第3位：中国 第4位：アメリカ合衆国
第5位：ブラジル 第6位：オーストラリア 第7位：インド

世界最小の国：バチカン市国(イタリアのローマ市内にある国)

国境が直線：経線や緯線を使って決めている(エジプト, アメリカ合衆国とカナダの国境)

[B 問題]



(1) 上の世界地図は、世界の地域区分を示したものである。地図中の ① の地域名を答えよ。

(2) アジア州についてさらに細かく区分した A~D の地域名をそれぞれ答えよ。

(3) 日本は()州の中の()に位置する。

[解答] (1) ヨーロッパ州 アフリカ州 オセアニア州 北アメリカ州
南アメリカ州 (2) A 東アジア B 東南アジア C 南アジア D 西アジア

(3) アジア州 , 東アジア

[C 問題]

次はそれぞれ何州か。

(1) 他の地域とは陸続きで接していない。

(2) 北半球に位置し、内陸国がない。

(3) 南極大陸に最も近い。

(4) 最も大きな大陸の東半分と、周辺の島々から成り立つ。

[解答] (1) オセアニア州 (2) 北アメリカ州 (3) 南アメリカ州 (4) アジア州

[B 問題]

(1) 現在、世界には約何ヶ国があるか。

(2) 面積が世界で第1~7位の国の名前を答えよ。

(3) 世界で一番面積の小さい国は何か。

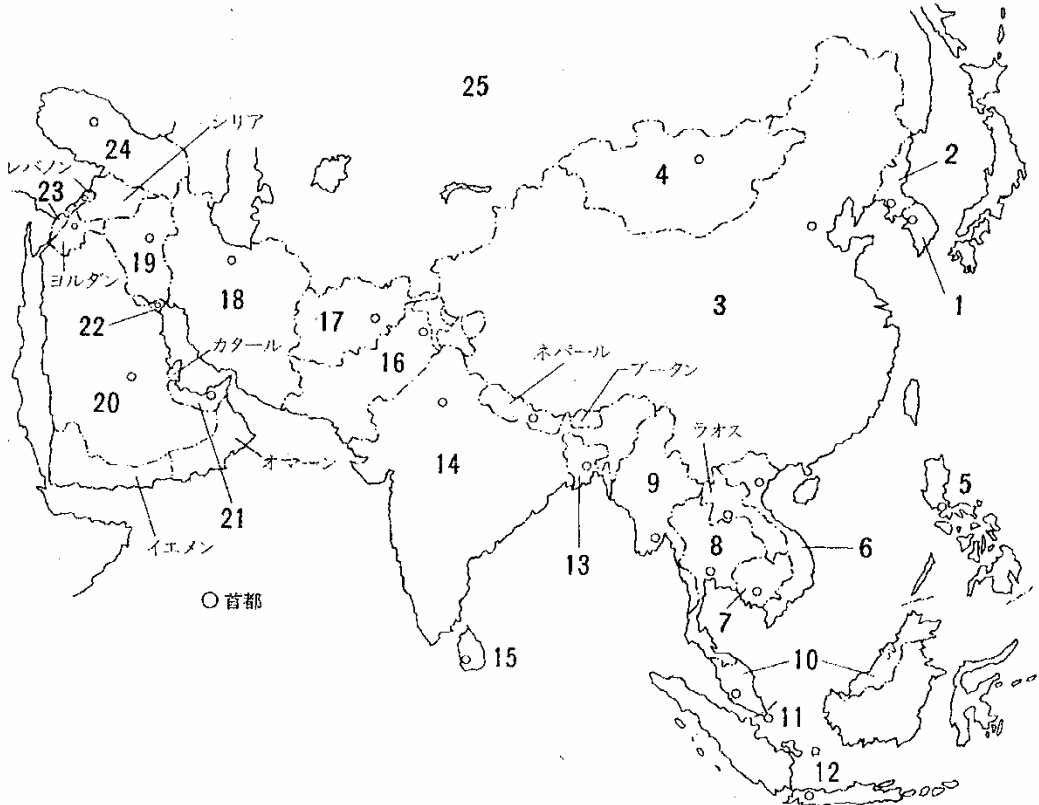
(4) (3)は何という国の何という首都の中にあるか。

(5) 中国は日本の約()倍の面積をもつ国である。

[解答] (1) 191ヶ国 (2) 第1位:ロシア連邦 第2位:カナダ 第3位:中国 第4位:アメリカ合衆国 第5位:ブラジル 第6位:オーストラリア 第7位:インド (3) パチカン市国 (4) イタリアのローマ (5) 25

[B問題]

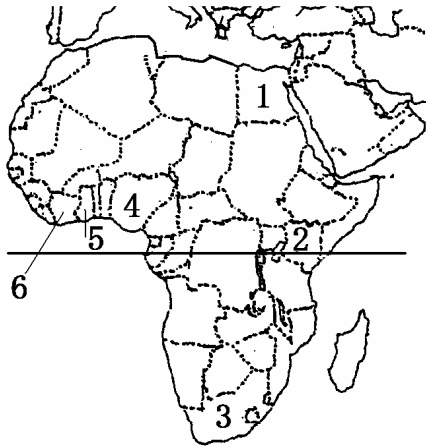
1~25の国名を答えよ。



[解答] 1 大韓民国 2 北朝鮮(朝鮮民主主義人民共和国) 3 中華人民共和国 4 モンゴル
 5 フィリピン 6 ベトナム 7 カンボジア 8 タイ 9 ミャンマー 10 マレーシア
 11 シンガポール 12 インドネシア 13 バングラデシュ 14 インド 15 スリランカ
 16 パキスタン 17 アフガニスタン 18 イラン 19 イラク 20 サウジアラビア
 21 アラブ首長国連邦 22 クウェート 23 イスラエル 24 トルコ 25 ロシア連邦

[B問題]

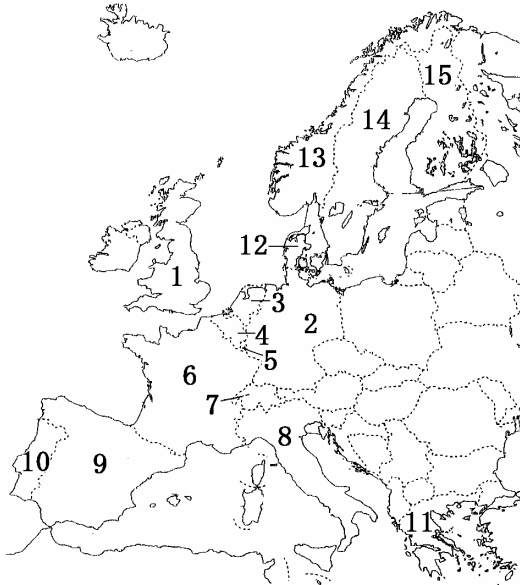
1~6の国名を答えよ。



[解答] 1 エジプト 2 ケニア 3 南アフリカ共和国
4 ナイジェリア 5 ガーナ 6 コートジボアール

[B問題]

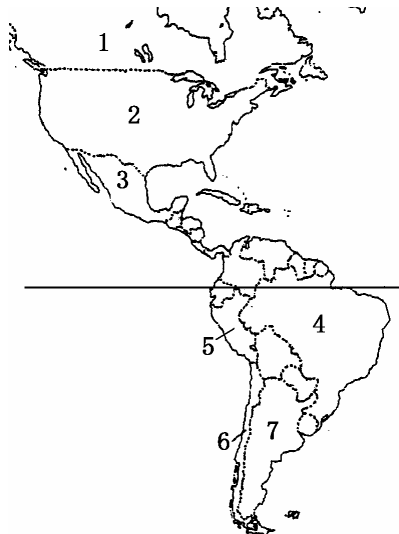
1~15の国名を答えよ。



[解答] 1 イギリス 2 ドイツ 3 オランダ 4 ベルギー 5 ルクセンブルク 6 フランス
7 スイス 8 イタリア 9 スペイン 10 ポルトガル 11 ギリシャ 12 デンマーク 13 ノルウェー
14 スウェーデン 15 フィンランド

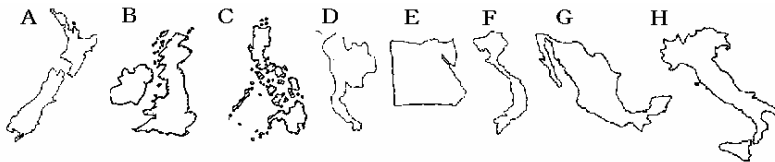
[B問題]

1~7の国名を答えよ。



[解答] 1 カナダ 2 アメリカ合衆国 3 メキシコ 4 ブラジル 5 ペルー 6 チリ
7 アルゼンチン

[C問題] 次のA~Hは何という国の形か。



[解答] A ニュージーランド B イギリス C フィリピン D タイ E エジプト F ベトナム G メキシコ H イタリア

[B問題]

- (1) エジプトの西側の国境，南側の国境は，まっすぐに切り取ったような形をしている。この国境はどのようにして決められたか。
- (2) アフリカ大陸ではエジプトのように国境線がまっすぐに切り取ったような形をしているが，その歴史的な背景は何か。説明せよ。
- (3) アメリカ合衆国とカナダの国境の一部で直線となっているところは，何を利用した国境線か。

[解答] (1) 経線と緯線を利用して決めた (2) かつてヨーロッパ列強が，これら土地を植民地とし，分割して支配したこと。 (3) 緯線

[C問題]

下のA, B, C, D, E, Fに適する国を語群から2つずつ選び記号で答えよ。

- A 東経135度の経線が通っている国
 - B 海に面していない内陸国
 - C 人口が1億人以上の国
 - D 島国
 - E 赤道が通っている国
 - F 国境が直線の国
- ア オーストラリア イ メキシコ ウ アルゼンチン エ リビア
オ ニューゼーランド カ ロシア キ フィリピン ク オーストリア
ケ ブラジル コ モンゴル サ エジプト シ ケニア

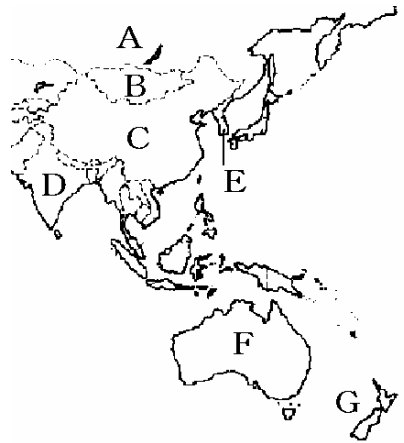
[解答]

A ア, カ B ク, コ C カ, ケ D オ, キ E ケ, シ F エ, サ

[C問題]

次は何という国の特色を説明したものか。国名と地図の記号を答えよ。

- (1) 世界一の面積をもつ国。この国には11もの地方時間があり、国のはしとはしとでは時間のずれが10時間にもなる。
- (2) 世界第三位の面積と世界第一位の人口をもつ国。万里の長城が有名。
- (3) 人口が世界第二位の国で国民の多くはヒンズー教徒である。ガンジス川には多くの人が身を清めるためにおとずれる。世界遺産のひとつ、タージマハルという美しい建物がある。多くの香辛料を使ったカレーでも有名。
- (4) 日本の真南に位置する国で、1つの大陸(一番小さい大陸)からなる国。カンガルーやコアラで有名。
- (5) 中国の北にある内陸国。国土の80%が草原で、羊の遊牧がさかん。
- (6) 九州から最も短い時間で行ける外国。NIESのひとつ。

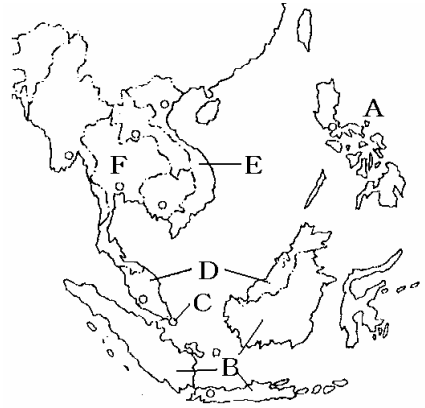


[解答] (1) ロシア連邦, A (2) 中華人民共和国(中国), C (3) インド, D
(4) オーストラリア, F (5) モンゴル, B (6) 大韓民国(韓国), E

[C問題]

次は何という国の特色を説明したものか。国名と地図の記号を答えよ。

- (1) マレー半島に接する非常に小さい島国であり、
しんこうぎょうけいぎちいき
新興工業経済地域(NIES)の一つとして、工業の発達がめざましい。
- (2) 東南アジアの国で、ゾウの鼻のような形をしている。東南アジア最大の米の輸出国でもある。仏教国。
- (3) この国は、マハティール首相によって近年きわめて積極的なルックイースト策がとられ、急速に近代化している。
- (4) アジアの中で赤道が通過している島国。人口は2億人をこえる。日本へは石油や天然ガスを輸出。
- (5) 東南アジアの国で、南北に細長い国土をもつ。南北に分かれていたが、内戦の後統一された。
- (6) かつてアメリカの植民地だった国で、キリスト教国である。サトウキビやバナナのプランテーションがある。

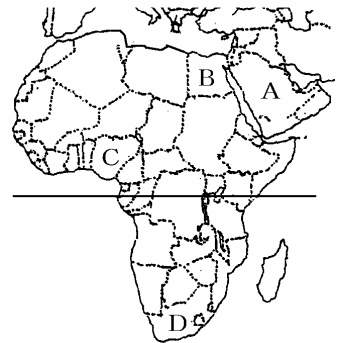


- [解答] (1) シンガポール, C (2) タイ, F (3) マレーシア D (4) インドネシア, B
(5) ベトナム, E (6) フィリピン, A

[C問題]

次は何という国の特色を説明したものか。国名と地図の記号を答えよ。

- (1) 四角い形をした国土をもち、西と南の国境が直線になっている。砂漠の多い国で、ピラミッドなどのむかしの遺跡がたくさんある。ナイル川は世界最長。首都はカイロ。
- (2) ペルシア湾に面した産油国で、世界一の石油輸出国である。国土の大部分は砂漠である。宗教はイスラム教。サウド王家が支配する国。
- (3) 人口がアフリカで最大の約1億人である。石油の産出国。
- (4) かつてはアパルトヘイトという人種差別政策がとられていた。
金の産出量が世界最大で、ダイヤモンドや石炭の産出量も世界有数。

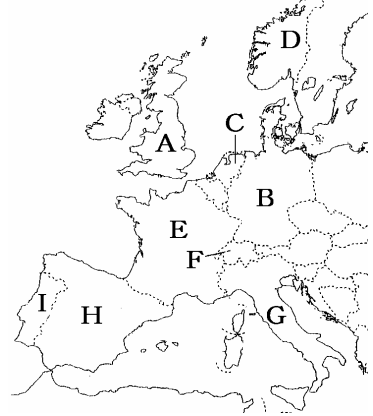


- [解答] (1) エジプト, B (2) サウジアラビア, A (3) ナイジェリア, C
(4) 南アメリカ共和国, D

[C問題]

次は何という国の特色を説明したものか。国名と地図の記号を答えよ。

- (1) この国の首都ロンドンには、本初子午線(経度0度の線)が通っている。国旗はユニオンジャックと呼ばれる。
- (2) 地中海に面している国で、国土の形が長ぐつに似ている。日本とほぼ同緯度。
- (3) ヨーロッパで最大の農業国で小麦の輸出国、首都はパリで観光客が多い。
- (4) 第二次世界大戦後、東西に分けられたが、1990年に統一された。ヨーロッパ最大の工業国。
- (5) 北極に近い国で、国名は「北への道」という意味がある。フィヨルド。
- (6) アルプス山脈のある永世中立国。
- (7) 海面より低い土地が多く、ポルダとよばれる干拓地では酪農がさかんである。ライン川出口のユーロポートはEU最大の貿易港。
- (8) バルセロナ、闘牛、フラメンコ。

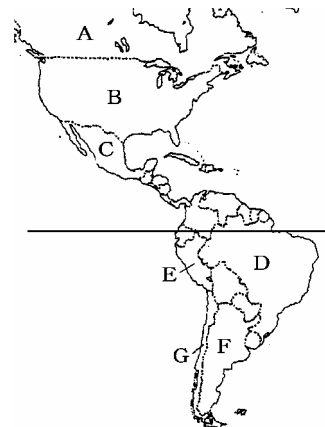


- [解答] (1) イギリス, A (2) イタリア, G (3) フランス, E (4) ドイツ, B
(5) ノルウェー, D (6) スイス, F (7) オランダ, C (8) スペイン, H

[C問題]

次は何という国の特色を説明したものか。国名と地図の記号を答えよ。

- (1) 世界第四位の面積の国で、世界一の工業国、世界一の農業国である。グランドキャニオンは世界遺産。自由の女神像。
- (2) 世界第二の面積をもっている国である。
- (3) ラテンアメリカの中で最も北にある国。500年前にアステカ帝国が栄えていた国。
- (4) 面積は世界第五位。日本のほぼ反対側にあり、日系移民の子孫の多い国である。リオデジャネイロのカーニバル。赤道が通過している。アマゾン川。
- (5) 海岸線が複雑で細長い国。
- (6) 500年ほど前に、インカ帝国が栄え、国土の中央をアンデス山脈が連なる国。



- [解答] (1) アメリカ合衆国, B (2) カナダ, A (3) メキシコ, C (4) ブラジル, D
(5) チリ, G (6) ペルー, E

[印刷/他の PDF ファイルについて]

このファイルは、FdText 社会(6,200 円)を PDF 形式に変換したサンプルで印刷はできないようになっています。製品版の FdText 社会は Word(または一太郎)の文書ファイルで、印刷・編集を自由に行うことができます。さらに、製品版には、この問題解答一体形式のほかに、問題解答分離形式を収録していますので、購入後、ただちに印刷して使うことができます。

FdText 社会の全 PDF ファイル、他の科目(数学・英語・理科・国語)の各 PDF ファイル、および製品版の購入方法は、<http://www.fdtype.com/txt/index.html> に掲載しております。

[参考資料]

[中間期末過去問集・社会地理：世界の国々(32 頁)]

下図のような、[FdData 無料閲覧ソフト(RunFdData)]を、お使いになっている Windows にインストールすれば、FdData 中間期末・FdData 入試の全 PDF ファイルを閲覧することができます。この PDF ファイルは、印刷・編集はできませんが、試験前に、画面を見ながら目で問題を解いていくだけでも一定の学習効果が期待できます。

[FdData 無料閲覧ソフト]ダウンロードのページ：<http://www.fdtype.com/lnk/dwn2.html>

The screenshot shows the RunFdData software interface. At the top, there are navigation buttons: 'フォルダ表示', '使用説明書', 'QandA説明', '製品購入方法', and 'バージョンアップ'. Below these are two rows of buttons for selecting different exam types and subjects. The first row includes 'FdData 中間期末' (selected), '社会地理', '社会歴史', '社会公民', '理科1年', '理科2年', '理科3年', '数学1年', '数学2年', and '数学3年'. The second row includes 'FdData 入試', '社会地理', '社会歴史', '社会公民', '理科1年', '理科2年', and '理科3年'. Below the buttons is a section titled '【FdData中間期末 社会歴史】'. This section contains a table with 15 rows of historical topics. Each row has a text description on the left and a 'PDF' button on the right. The topics listed are: 原始古代(原始/古代文明/縄文/弥生(筑国-邪馬台国)/古墳・大和王権/中国・朝鮮), 飛鳥(聖徳太子の政治/大化の改新/改新政治の浸透/大宝法令と律令国家), 奈良(平城京/班田収授法と税制/聖徳太子私財法/聖武天皇/天平文化/遣唐使), 平安(平安京/摂関政治/国風文化/浄土信仰/武士の発生/院政/平清盛), 鎌倉(鎌倉幕府/御恩と奉公/承久の乱/御成敗式目/元寇/鎌倉仏教・文化), 室町(建武の新政/南北朝/室町幕府/勘合貿易/土一揆/応仁の乱/文化/戦国時代), 安土桃山(地理上の発見/宗教改革/鉄砲・キリスト教伝来/信長/秀吉/桃山文化), 江戸1(幕藩体制/農民統制/朱印船貿易/鎖国/朝鮮・琉球/産業の発達/元禄文化), 江戸2(幕政の改革/化政文化/新しい学問/ペリーの来航/開国/幕府倒幕), 世界(市民革命/産業革命/19世紀のヨーロッパ/アジアへの進出), 明治1(明治維新/地租改正・学制・徴兵令/殖産興業/文明開化/領土の確定), 明治2(岩倉使節団/征韓論/西南戦争/自由民権運動/国会開設/憲法制定), 明治3(条約改正/日清戦争/日露戦争/韓国併合/日本の産業革命/明治の文化), 大正(帝国主義/第一次世界大戦/国際連盟/大正デモクラシー/大正の文化), 昭和(世界恐慌/満州事変/5・15事件/2・26事件/日中戦争/第二次世界大戦), 戦後(GHQ/日本国憲法/戦後の民主化/国際連合/朝鮮戦争/冷戦/日本の独立).