

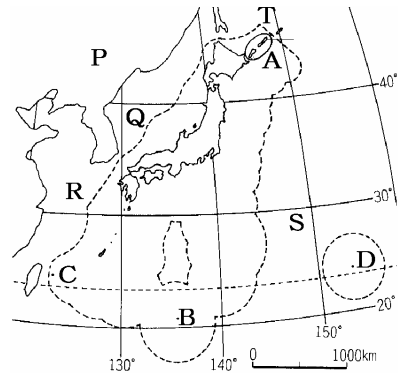
【】中学社会地理：日本のすがた(国土,領土の範囲,面積)

[FdText：中学・塾用ワープロデータ教材]

【】日本のすがた

[要点]

- ・日本の面積は約 38 万 km<sup>2</sup>,日本の位置は北半球の中緯度,ユーラシア大陸(P)の東,太平洋(S)の北西,日本海(Q),東シナ海(R),オホーツク海(T)に囲まれている  
オーストラリアから見ると真北,  
地球の裏側は南アメリカ大陸
- ・日本の北端：えとろふ 択捉島(A)  
日本はロシア連邦に北方領土の返還を要求している
- ・日本の南端：おきのとりしま 沖ノ鳥島(B)  
この島があることで広大な 200 海里経済水域を確保  
300 億円かけて護岸工事
- ・日本の西端：よなくにしま 与那国島(C) 日本の東端：みなみとりしま 南鳥島(D)
- ・国家の領域：領土,領海(12 海里),領空



[B 問題]

- (1) 日本の国土面積はおよそ何万 km<sup>2</sup>か。
- (2) 日本の範囲は(東経 西経)約 123~154 度,(北緯 南緯)約 20~46 度に位置している。
- (3) 日本は( )大陸の東に位置している
- (4) 日本と(3)の大陸の間にある海は何か。
- (5) 日本は( )という海の北西部に位置している。
- (6) この国から見ると日本は北の方向にある。季節が日本と反対である。日本へは石炭や鉄鉱石を輸出している。この国は何か。
- (7) 日本からもっとも遠い国々がある大陸はどこか。

[解答] (1) 38 万 km<sup>2</sup> (2) 東経,北緯 (3) ユーラシア (4) 日本海 (5) 太平洋  
(6) オーストラリア (7) 南アメリカ大陸

[C 問題]

- (1) 日本列島の四大島を,面積の広い順にあげよ。
- (2) 九州の西に広がる海は何か。
- (3) 北海道の北東部が面している海の名前は何か。
- (4) 日本は北緯 30 度から 50 度付近の( )に位置している。

(5) 日本と経度がほぼ同じ国を、下から1つ選べ。また緯度がほぼ同じ国を、下から3つ選べ。

[ カナダ タイ アメリカ合衆国 オーストラリア ブラジル スペイン 中国 イギリス ]

(6) 緯度も経度も近く、位置的にも近い国には( )や、拉致問題が大きく取り上げられている( )がある。

(7) 日本のちょうど地球の裏側にあり、人口が日本よりも多い国はどこか。

(8) 日本の標準時の基準になる(a )は<sup>ひょうご</sup>兵庫県の(b )市を通る<sup>とうけい</sup>東経(c )度の経線である。また、(b )市のすぐ北を北緯(d )度の緯線が走っている。

(9) <sup>あきた</sup>秋田<sup>あおがた</sup>の大瀧村では北緯(a )度の緯線と<sup>とうけい</sup>東経(b )度の経線が交差している。

[解答] (1) 本州, 北海道, 九州, 四国 (2) 東シナ海 (3) オホーツク海 (4) 中緯度

(5) オーストラリア/アメリカ合衆国, スペイン, 中国 (6) 韓国, 北朝鮮 (7) ブラジル

(8) a <sup>ひょうじゅんじ</sup>標準時子午線 b <sup>あかし</sup>明石 c 135 d 35 (9) a 40 b 140

### [B 問題]

(1) 日本は、Aの大陸の東に位置する島国である。Aは何という大陸か。

(2) 日本の北端はCの島である。何という島か。

(3) <sup>くなしりとう</sup>国後島, <sup>はほまい</sup>歯舞諸島, <sup>しこたんとう</sup>色丹島, C島の4つの島をあわせて何というか。

(4) (3)は現在ある国が占拠しており、日本はその返還を要求している。何という国が占拠しているか。


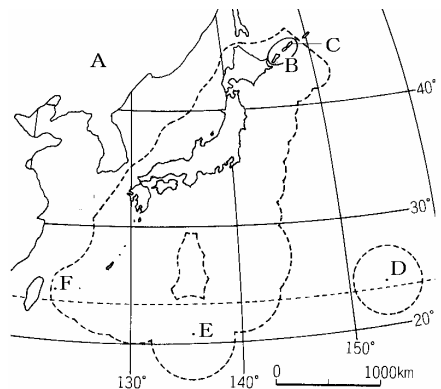
(5) 地図の点線で囲まれた部分はどのような水域を表しているか。

(6) 水没してしまうこの小さな島に300億円という莫大なお金をかけて右の写真のように保護する工事をした。日本の最南端に位置するEの島の名前を答えよ。

(7) このような護岸工事したのはなぜか。

(8) 日本の西端はFの島である。何という島か。

(9) 日本の東端はDの島である。何という島か。

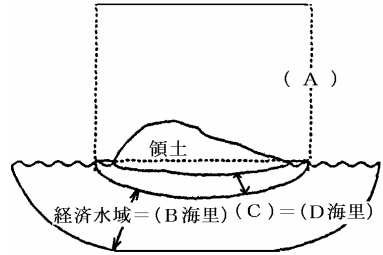


[解答] (1) ユーラシア大陸 (2) <sup>えとろふとう</sup>択捉島 (3) <sup>ほつぽうりょうど</sup>北方領土 (4) ロシア連邦

(5) 200<sup>かいり</sup>海里経済水域 (6) <sup>おきのとりしま</sup>沖ノ島 (7) この島があることによって200海里の経済水域を確保できるから (8) <sup>よなくにしま</sup>与那国島 (9) <sup>みなみとりしま</sup>南鳥島

[B問題]

- (1) 国家の領域は何からなるか。3つかけ。
- (2) 領海は沿岸から何海里か。
- (3) 沿岸から(a )海里以内ではその国が優先的に水産資源を利用することができるが、この区域のことを(b )という。



[解答] (1) 領土 ・ 領海 ・ 領空 (2) 12海里 (3) a 200 b 経済水域

