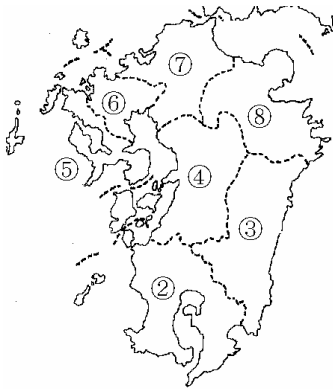


【】中学社会地理：日本の各県

[FdText：中学・塾用ワープロデータ教材]

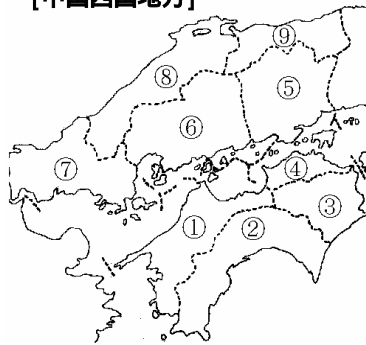
【】県名

[九州地方]



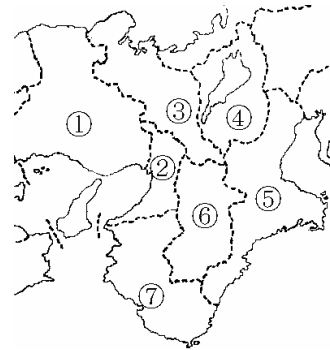
- おきなわ 沖縄県(那覇市)
- かごしま 鹿児島県(鹿児島市)
- みやざき 宮崎県(宮崎市)
- くまもと 熊本県(熊本市)
- ながさき 長崎県(長崎市)
- さが 佐賀県(佐賀市)
- ふくおか 福岡県(福岡市)
- おおいた 大分県(大分市)

[中国四国地方]



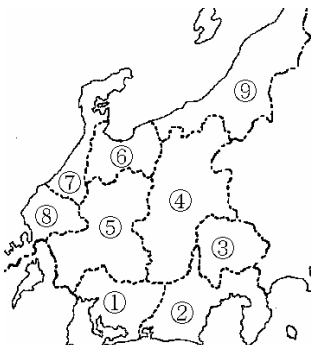
- えひめ 愛媛県(松山市)
- こうち 高知県(高知市)
- とくしま 徳島県(徳島市)
- かがわ 香川県(高松市)
- おokayama 岡山県(岡山市)
- ひろしま 広島県(広島市)
- やまぐち 山口県(山口市)
- しまね 島根県(松江市)
- とっとり 鳥取県(鳥取市)

[近畿地方]



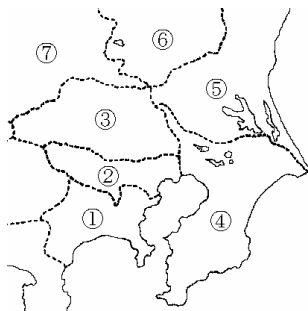
- ひょうご 兵庫県(神戸市)
- おおさか 大阪府(大阪市)
- きょうと 京都府(京都市)
- しず 滋賀県(大津市)
- みえ 三重県(津市)
- なら 奈良県(奈良市)
- わかやま 和歌山県(和歌山市)

[中部地方]



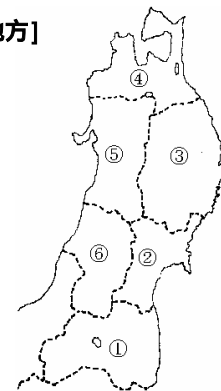
- あいち 愛知県(名古屋市)
- しずおか 静岡県(静岡市)
- やまなし 山梨県(甲府市)
- ながの 長野県(長野市)
- ぎふ 岐阜県(岐阜市)
- ふやま 富山県(富山市)
- いしかわ 石川県(金沢市)
- ふくい 福井県(福井市)
- にいがた 新潟県(新潟市)

[関東地方]



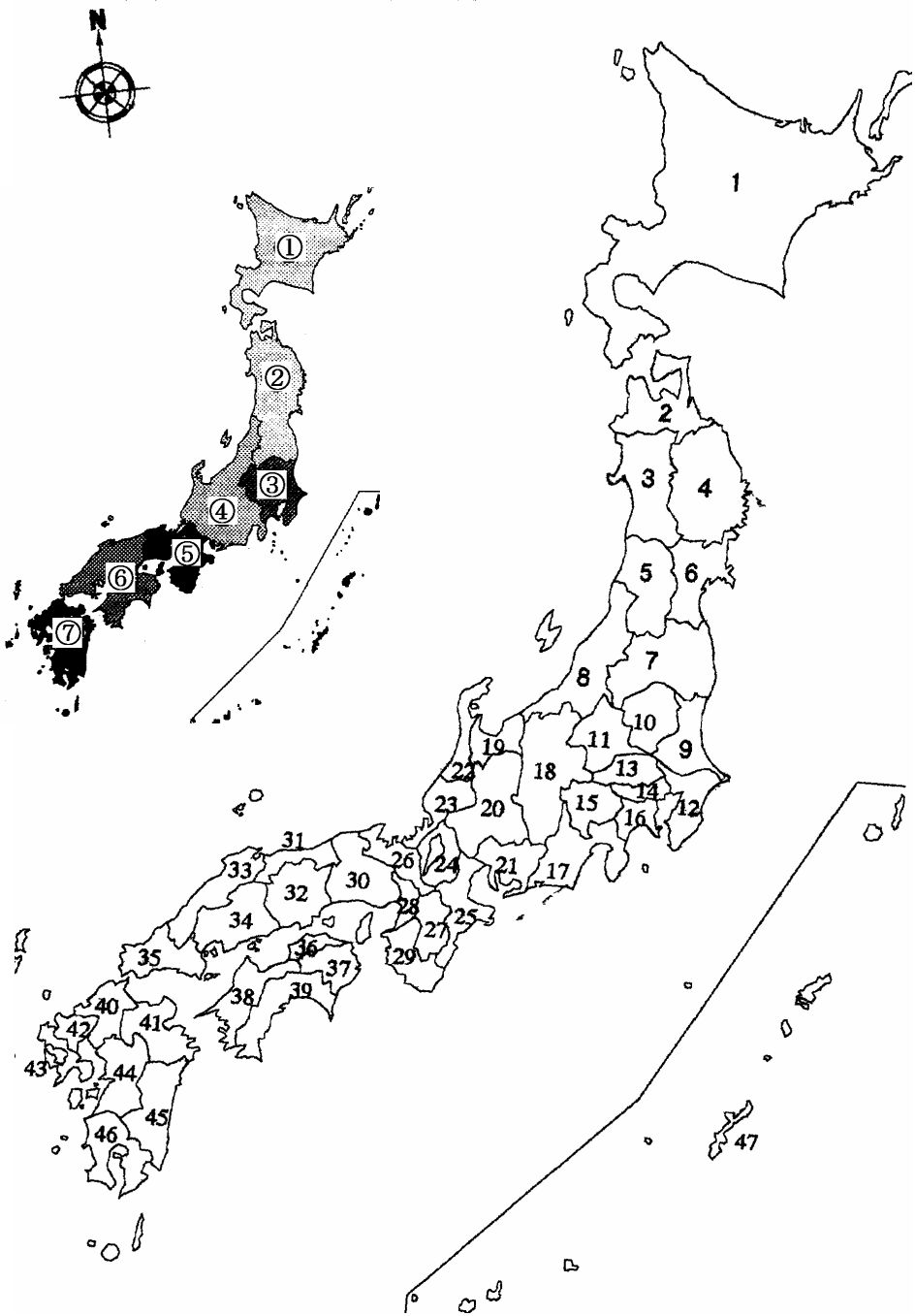
- かながわ 神奈川県(横浜市)
- とうきょう 東京都
- さいたま 埼玉県(さいたま市)
- ちば 千葉県(千葉市)
- いばらき 茨城県(水戸市)
- とちぎ 栃木県(宇都宮市)
- ぐんま 群馬県(前橋市)

[東北地方]



- ふくしま 福島県(福島市)
- みやぎ 宮城県(仙台市)
- いわて 岩手県(盛岡市)
- あおもり 青森県(青森市)
- あきた 秋田県(秋田市)
- やまがた 山形県(山形市)

[B 問題]



- (1) 左上図の7つに分けた地図を見て，～の地方の名称をそれぞれ書け。
- (2) 日本には全部でいくつの都道府県があるか。
- (3) 1～47のそれぞれについて，都道府県名と県庁所在都市名を答えよ。

[解答] (1) 北海道地方 東北地方 関東地方 中部地方 近畿地方 中国・四国地方 九州地方 (2) 47 (3) 1 北海道(札幌市) 2 青森県(青森市)
 3 秋田県(秋田市) 4 岩手県(盛岡市) 5 山形県(山形市) 6 宮城県(仙台市) 7 福島県(福島市)
 8 新潟県(新潟市) 9 茨城県(水戸市) 10 栃木県(宇都宮市) 11 群馬県(前橋市)
 12 千葉県(千葉市) 13 埼玉県(さいたま市) 14 東京都 15 山梨県(甲府市) 16 神奈川県(横浜市)
 17 静岡県(静岡市) 18 長野県(長野市) 19 富山県(富山市) 20 岐阜県(岐阜市) 21 愛知県(名古屋市)
 22 石川県(金沢市) 23 福井県(福井市) 24 滋賀県(大津市)
 25 三重県(津市) 26 京都府(京都市) 27 奈良県(奈良市) 28 大阪府(大阪市) 29 和歌山県(和歌山市)
 30 兵庫県(神戸市) 31 鳥取県(鳥取市) 32 岡山県(岡山市) 33 島根県(松江市) 34 広島県(広島市)
 35 山口県(山口市) 36 香川県(高松市) 37 徳島県(徳島市) 38 愛媛県(松山市)
 39 高知県(高知市) 40 福岡県(福岡市) 41 大分県(大分市) 42 佐賀県(佐賀市) 43 長崎県(長崎市)
 44 熊本県(熊本市) 45 宮崎県(宮崎市) 46 鹿児島県(鹿児島市) 47 沖縄県(那覇市)

[C問題]

次の問いに答えよ。ただし，地図は前問の地図を使うものとする。

- (1) 九州地方で，県名と県庁所在都市名が異なる県を1つあげ，県名・地図番号・県庁所在都市名を答えよ。
- (2) 中国四国地方で，県名と県庁所在都市名が異なる県を3つあげ，県名・地図番号・県庁所在都市名を答えよ。
- (3) 近畿地方で，県名と県庁所在都市名が異なる県を3つあげ，県名・地図番号・県庁所在都市名を答えよ。
- (4) 中部地方で，県名と県庁所在都市名が異なる県を3つあげ，県名・地図番号・県庁所在都市名を答えよ。
- (5) 関東地方で，県名と県庁所在都市名が異なる県を4つあげ，県名・地図番号・県庁所在都市名を答えよ。
- (6) 東北地方と北海道で，県名と県庁所在都市名が異なる県を3つあげ，県名・地図番号・県庁所在都市名を答えよ。

[解答] (1) 沖縄県, 47, 那覇市 (2) 島根県, 33, 松江市 / 香川県, 36, 高松市 / 愛媛県, 38, 松山市 (3) 兵庫県, 30, 神戸市 / 滋賀県, 24, 大津市 / 三重県, 25, 津市 / (4) 愛知県, 21, 名古屋市 / 山梨県, 15, 甲府市 / 石川県, 22, 金沢市 (5) 神奈川県, 16, 横浜市 / 茨城県, 9, 水戸市 / 栃木県, 10, 宇都宮市 / 群馬県, 11, 前橋市 (6) 宮城県, 6, 仙台市 / 岩手県, 4, 盛岡市 / 北海道, 1, 札幌市

[C 問題]

- (1) 近畿地方の内陸県を 2 つあげよ。
- (2) 中部地方の内陸県を 3 つあげよ。
- (3) 関東地方の内陸県を 3 つあげよ。
- (4) 周囲を海に囲まれている都道府県の名前を答えよ(2 つ)
- (5) 接している都府県の数が多い都道府県の名前を答えよ。

[解答] (1) 奈良県, 滋賀県 (2) 岐阜県, 長野県, 山梨県 (3) 埼玉県, 栃木県, 群馬県
(4) 北海道, 沖縄県 (5) 長野県

[C 問題]

- (1) もっとも面積が小さい都道府県の名前を答えよ。
- (2) もっとも面積が大きい都道府県の名前を答えよ。
- (3) もっとも人口が多い都道府県の名前を答えよ。
- (4) 県庁所在都市の人口が 100 万人をこえる都道府県の県名, 県庁所在都市をあげよ。

[解答] (1) 香川県 (2) 北海道 (3) 東京都 (4) 福岡県福岡市, 広島県広島市, 兵庫県神戸市, 大阪府大阪市, 京都府京都市, 愛知県名古屋市, 神奈川県横浜市, 東京都, 埼玉県さいたま市, 宮城県仙台市, 北海道札幌市

[印刷/他の PDF ファイルについて]

このファイルは、FdText 社会(6,200 円)を PDF 形式に変換したサンプルで印刷はできないようになっています。製品版の FdText 社会は Word(または一太郎)の文書ファイルで、印刷・編集を自由に行うことができます。さらに、製品版には、この問題解答一体形式のほかに、問題解答分離形式を収録していますので、購入後、ただちに印刷して使うことができます。

FdText 社会の全 PDF ファイル、他の科目(数学・英語・理科・国語)の各 PDF ファイル、および製品版の購入方法は、<http://www.fdtype.com/txt/index.html> に掲載しております。

下図のような、[FdData 無料閲覧ソフト(RunFdData)]を、お使いになっている Windows にインストールすれば、FdData 中間期末・FdData 入試の全 PDF ファイルを閲覧することができます。この PDF ファイルは、印刷・編集はできませんが、試験前に、画面を見ながら目で問題を解いていくだけでも一定の学習効果が期待できます。

[FdData 無料閲覧ソフト]ダウンロードのページ：<http://www.fdtype.com/lnk/dwn2.html>

