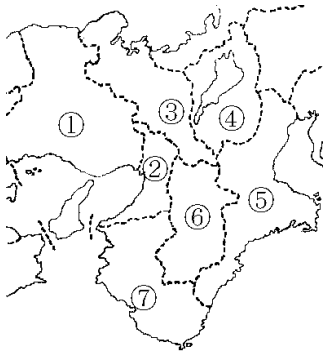


【】 中学社会地理：近畿（県名・自然）

[<http://www.fdtex.com/dat/>]

【問題】

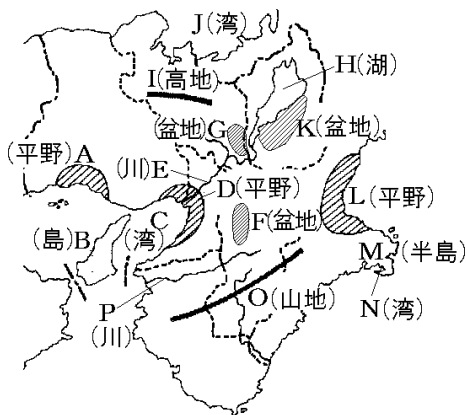
図の①～⑦の県名と県庁所在都市名を書け。



【解答】① ^{ひょうご}兵庫県, ^{こうべ}神戸市 ② ^{おおさか}大阪府, 大阪市 ③ ^{きょうと}京都府, 京都市 ④ ^{しが}滋賀県, 大津市 ⑤ ^{みえ}三重県, 津市 ⑥ ^{なら}奈良県, 奈良市 ⑦ ^{わかやま}和歌山県, 和歌山市

【問題】

図のA～Pの地形名を答えよ。

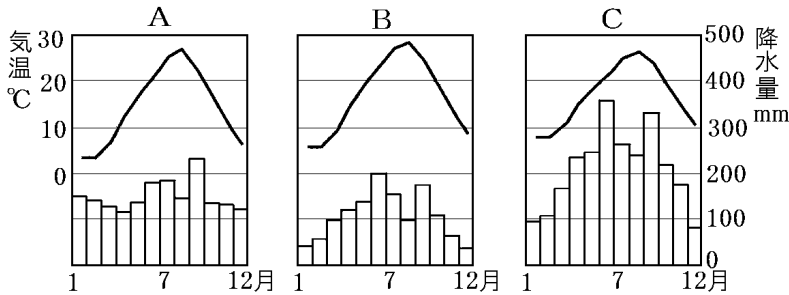
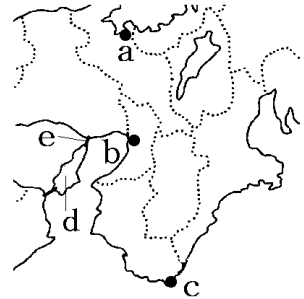


【解答】A ^{はりま}播磨平野 B ^{あわじしま}淡路島 C 大阪湾 D 大阪平野 E ^{よど}淀川 F 奈良盆地 G 京都盆地 H ^{びわこ}琵琶湖 I ^{たんば}丹波高地 J ^{わかさわん}若狭湾 K ^{おうみ}近江盆地 L ^{いせ}伊勢平野 M ^{しま}志摩半島 N ^{あご}英虞湾 O ^{きい}紀伊山地 P 紀ノ川

[問題]

次の各問いの()に適語をいれよ。(または()内より適語を選べ。)

- (1) 右図の a は(①)の気候で②(冬/夏)の降水量が多く、雨温図は下の(③)のようになる。b は(④)の気候で、年間を通して降水量が⑤(多く/少なく)、雨温図は下の(⑥)のようになる。c は(⑦)の気候で⑧(冬/夏)の降水量が多く、雨温図は下の(⑨)のようになる。



- (2) d は(①)島である。降水量が少なく大きな川もないことから水不足に悩まされてきた。(②)池の数が多いのはこのためである。しかし、e の(③)橋の完成によって、加古川から水を引くことができるようになった。

[解答](1)① 日本海側 ② 冬 ③ A ④ 瀬戸内 ⑤ 少なく ⑥ B ⑦ 太平洋側 ⑧ 夏 ⑨ C (2)① 淡路 ② ため ③ 明石海峡大

[印刷／他の PDF ファイルについて]

※ このファイルは、FdText 社会(6,600 円)の一部を PDF 形式に変換したサンプルで、印刷はできないようになっています。製品版の FdText 社会は Word(または一太郎)の文書ファイルで、印刷・編集を自由に行うことができます。

※ 弊社は、FdText のほかに FdData 中間期末過去問(社会・理科・数学)(各 18,900 円)(Word 版・一太郎版)を販売しております。PDF 形式のサンプル(全内容)は、

<http://www.fdtype.com/dat/> に掲載しております。

下図のような、[FdData 無料閲覧ソフト(RunFdData)]を、Windows のデスクトップ上にインストールすれば、FdData 中間期末・FdData 入試の全 PDF ファイル(各教科約 1500 ページ)を自由に閲覧できます。次のリンクを左クリックするとインストールが開始されます。

RunFdData(Word 版) 【 <http://fddata.deci.jp/lnk/instRunFdDataWDs.exe> 】

RunFdData(一太郎版) 【 <http://fddata.deci.jp/lnk/instRunFdDataTAs.exe> 】

※ダイアログが表示されたら、【実行】ボタンを左クリックしてください。インストール中、いくつかの警告が出ますが、[実行][許可する][次へ]等を選択します。

【イメージ画像】



【Fd 教材開発：URL <http://www.fdtype.com/dat/> Tel (092) 404-2266】