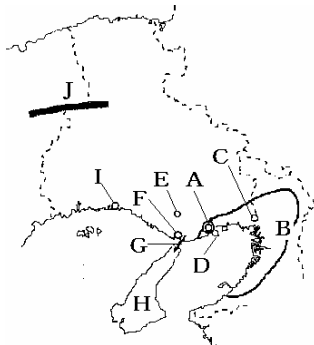


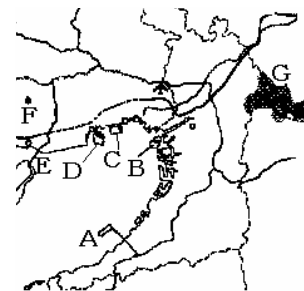
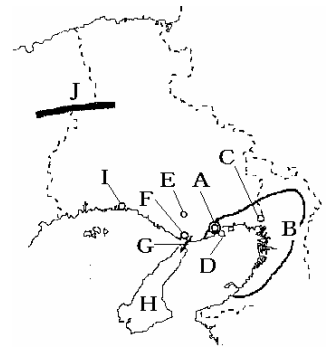
[要点]



- A こうべ 神戸 横浜につく国際貿易港，1995年  
ひょうごけんなんぶじしん 兵庫県南部地震
- B ほんしん 阪神工業地帯
- C あまがさき 尼崎 重化学工業
- D ポートアイランド ろっこう 六甲山の土砂でつくられた人工島  
世界最大のコンテナ港
- E せいしん 西神戸ニュータウン ろっこう 六甲山地をけずって作った
- F あかし 明石 日本の標準時子午線の東経135度が通る
- G 明石海峡大橋 ほんしれんらくきょう 本四連絡橋 神戸 - 鳴門ルート

[問題]

- (1) Aは(1 )で，(2 )につく国際貿易港である。
- (2) 1995年におこった大地震によってAの都市は大きな被害を受けた。何という地震か。
- (3) Bは何という工業地帯か。
- (4) Cの都市は( )で重化学工業がさかんである。
- (5) ろっこうさん 六甲山をけずり，その土砂でつくられた神戸沖の人工島で，世界最大のコンテナ港となっているのは何か。名称と地図記号を答えよ。
- (6) 六甲山をけずり，その土砂でつくられた神戸沖の人工島は，ポートアイランドと何か。名称と地図(下)記号を答えよ。
- (7) 大都市近郊に新しく建設されたベッドタウンのことを何と呼ぶか。
- (8) 神戸市は平地が少ないので，六甲山地をけずって，ニュータウンをつくり，そのとき掘り出した土砂はポートアイランドの埋め立てに使われた。何というニュータウンか。名称と地図記号(下)を答えよ。
- (9) 大都市の機能を分担する周辺都市を何というか。
- (10) Fは(1 )という都市で，日本の標準時子午線の東経(2 )度の経線が通っている。
- (11) Gは本四連絡橋の(1 )ルートの(2 )橋である。
- (12) Hは何という島か。
- (13) Iの都市は(1 )で，(2 )臨海工業地域の中心である。鉄鋼業がさかん。
- (14) Jは何という山地か。



**[解答]**

- (1) 1. こうべ神戸 2. よこはま横浜 (2) ひょうごけんなんぶじしん兵庫県南部地震 (3) はんしんこうぎょうちたい阪神工業地帯 (4) あまがさき尼崎 (5) ポートアイランドD  
(6) ろっこう六甲アイランドC (7) ニュータウン (8) せいしん西神ニュータウンF (9) えいせいとし衛星都市  
(10) 1. あかし明石 2. 135 (11) 1. こうべ神戸 - なると鳴門 2. あかしかいきょうおおはし明石海峡大(橋) (12) あわじしま淡路島 (13) 1. ひめじ姫路 2. はりま播磨  
(14) 中国山地

[印刷/他のPDFファイルについて]

このファイルは、FdText 社会(6,200 円)を PDF 形式に変換したサンプルで印刷はできないようになっています。製品版の FdText 社会は Word(または一太郎)の文書ファイルで、印刷・編集を自由に行うことができます。さらに、製品版には、この問題解答一体形式のほかに、問題解答分離形式を収録していますので、購入後、ただちに印刷して使うことができます。

FdText 社会の全 PDF ファイル、他の科目(数学・英語・理科・国語)の各 PDF ファイル、および製品版の購入方法は、<http://www.fdtype.com/txt/index.html> に掲載しております。

下図のような、[FdData 無料閲覧ソフト(RunFdData)]を、お使いになっている Windows にインストールすれば、FdData 中間期末・FdData 入試の全 PDF ファイルを閲覧することができます。この PDF ファイルは、印刷・編集はできませんが、試験前に、画面を見ながら目で問題を解いていくだけでも一定の学習効果が期待できます。

[FdData 無料閲覧ソフト]ダウンロードのページ：<http://www.fdtype.com/lnk/dwn2.html>

