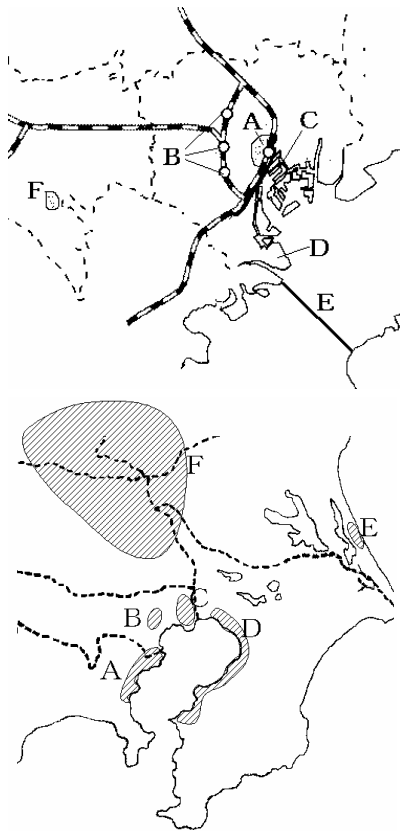


【】中学社会地理：都道府県の調査(関東：東京都) [\[FdText：中学・塾用ワープロデータ教材\]](#)

[要点]



東京大都市圏(首都圏)に日本の人口の4分の1の3000万人が集中  
過密 都市問題, 公害問題

A 都心 官庁や大企業の本社, 日本の政治経済の中心  
ドーナツ化現象

B 副都心 新宿や, 渋谷, 池袋

C 大川端リバーシティ-21 ウォーターフロントの再開発

D 東京国際空港(羽田) 国内航空路線の中心

E 東京湾アクアライン 海底トンネル

F 多摩ニュータウン

A 京浜工業地帯の中心部

B 印刷・出版業が集中(全国の生産額の半分)

C 京浜工業地帯はここから出発。中小工場。地盤沈下

D 京葉工業地域 埋立, 製鉄や石油化学

[問題]

- (1) 東京を中心とする大都市圏を, ( )という。ここには, 日本の人口の約4分の1の3000万人が集中している。その中心部は(2)とよばれ, 官庁や大企業の本社が集まり, 日本の政治経済の中心となっている。また, 都心から移転してきた東京都庁のある新宿や, 渋谷, 池袋は, (3)とよばれている。私鉄のターミナル駅があり, 繁華街やオフィスがあつまっている。
- (2) 都心部は地価の高騰や生活環境の悪化で人口が減少し, 周辺部で人口が増加する(1)現象がおこっている。都心部では, 昼間人口と夜間人口の差が大きく, 通勤, 交通の問題が深刻化している。過密が原因で, 住宅, 交通ゴミ処理などの(2)問題が深刻化している。また, 騒音, 振動, 大気汚染などの(3)問題も大きな問題として残されている。
- (3) 東京都の多摩や横浜市の港北の丘陵地には, ( )とよばれる大規模な住宅団地が建設されている。
- (4) 近年, 東京湾を横断する海底トンネルが完成し, ( )が開通した。

(5) ( ) 空港は、国内航空路線の中心となっている。輸送量の増大に伴い、東京湾を埋め立てて拡張されている。

(6) ( ) 港は、横浜港と並ぶ国際貿易港。コンテナ貨物など国内の海上貨物輸送の中心である。

(7) 隅田川下流で実施された( )の再開発は、大川端リバーシティー21とよばれている。

[解答] (1) 1. 東京大都市圏(首都圏), 2. 都心, 3. 副都心 (2) 1. ドーナツ化, 2. 都市, 3. 公害

(3) ニュータウン (4) 東京湾アクアライン (5) 東京国際空港(羽田) (6) 東京港 (7) ウォーターフロント

[問題]

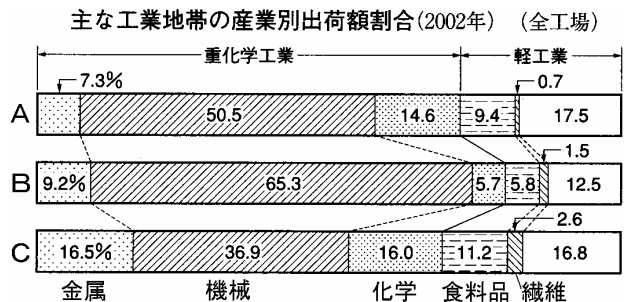
(1) 東京、川崎、横浜を中心とする日本最大の工業地帯は何か。

(2) 京浜工業地帯は、他の工業地帯にくらべ(機械、金属、化学)工業の割合が圧倒的に高い。

(3) 京浜工業地帯の出荷額が全国の半分近くを占めているものを、次のから一つ選べ。

(鉄鋼、出版・印刷、食料品、製紙)

(4) 表のA, B, Cは日本の三大工業地帯の工業製品出荷額割合を示している。それぞれ、どの工業地帯か。



[解答] (1) 京浜工業地帯 (2) 機械 (3) 出版・印刷 (4) A 京浜工業地帯 B 中京工業地帯 C 阪神工業地帯

[問題]

次の各文に当てはまる地域を図から選べ。

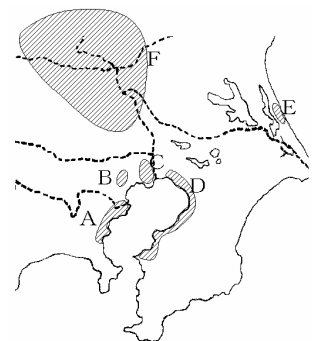
(1) 全国の生産額の半分を占める印刷・出版業が集中している。

(2) 京浜工業地帯の中心部となっている。

(3) かつては製糸業や絹織物業が盛んであったが、現在では機械工業が進出している。

(4) 戦後、東京湾の埋立が千葉県側にも広がり、製鉄や石油化学などの工業が発達している。

(5) 京浜工業地帯はここから出発。中小工場が多い。地下水の汲み上げによる地盤沈下の問題がある。(記号)



[解答] (1) B (2) A (3) F (4) D (5) C

**[問題]**

- (1) 京 浜工業地帯の出荷額は、三大工業地帯のうちで第何位か。また、戦前は第何位だったか。
- (2) 京 浜工業地帯の中心都市を3つあげよ。
- (3) 京 浜工業地帯の全出荷額のうち約半分を占める工業を、次から選べ。（石油化学，食料品，機械，  
金属，繊維）
- (4) 東 京が日本の文化・情報の中心であることから集中した工業は何か。
- (5) 印刷・出版における京 浜工業地帯の占める割合はどれくらいか。

**[解答]** (1)現在第1位 戦前は第2位 (戦前は阪 神工業地帯が第1位) (2)東 京，横 浜，川 崎  
(3)機械 (4)印刷・出版 (5)約半分

## [印刷/他のPDFファイルについて]

このファイルは、FdText 社会(6,200 円)を PDF 形式に変換したサンプルで印刷はできないようになっています。製品版の FdText 社会は Word(または一太郎)の文書ファイルで、印刷・編集を自由に行うことができます。さらに、製品版には、この問題解答一体形式のほかに、問題解答分離形式を収録していますので、購入後、ただちに印刷して使うことができます。

FdText 社会の全 PDF ファイル、他の科目(数学・英語・理科・国語)の各 PDF ファイル、および製品版の購入方法は、<http://www.fdtype.com/txt/index.html> に掲載しております。

下図のような、[FdData 無料閲覧ソフト(RunFdData)]を、お使いになっている Windows にインストールすれば、FdData 中間期末・FdData 入試の全 PDF ファイルを閲覧することができます。この PDF ファイルは、印刷・編集はできませんが、試験前に、画面を見ながら目で問題を解いていくだけでも一定の学習効果が期待できます。

[FdData 無料閲覧ソフト]ダウンロードのページ：<http://www.fdtype.com/lnk/dwn2.html>

