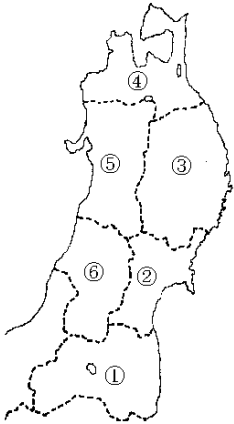


[問題]

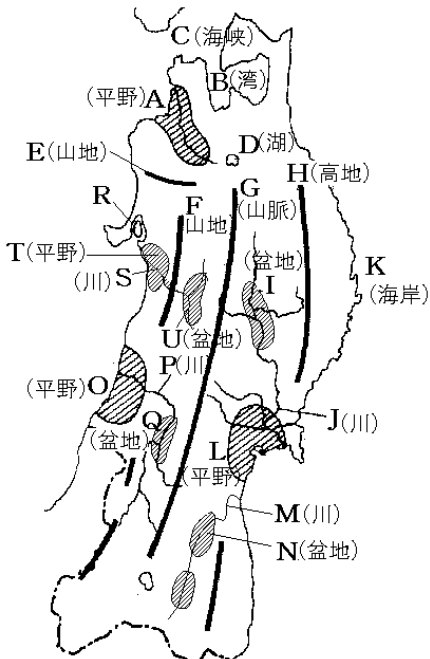
図の①～⑥の県名と県庁所在都市名を書け。



[解答]① ^{ふくしま}福島県, 福島市 ② ^{みやぎ}宮城県, ^{せんだい}仙台市 ③ ^{いわて}岩手県, ^{もりおか}盛岡市 ④ ^{あおもり}青森県, 青森市 ⑤ ^{あきた}秋田県, 秋田市 ⑥ ^{やまがた}山形県, 山形市

[問題]

図のA～Uの地形名を答えよ。

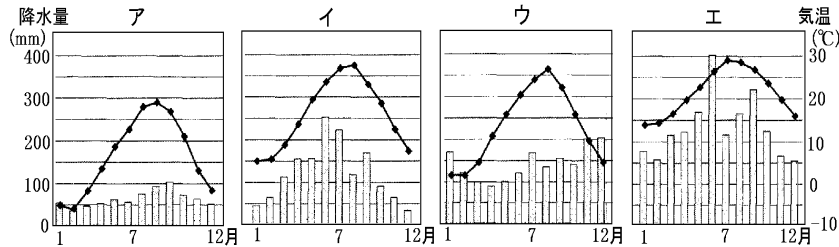
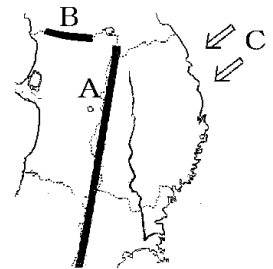


[解答]A ^{つがる}津軽平野 B ^{むつ}陸奥湾 C ^{かいきょう}津軽海峡 D ^{とわだこ}十和田湖 E ^{しらかみ}白神山 地 F ^{でわ}出羽山地 G ^{おう}奥羽山脈 H ^{きたかみ}北上高地 I ^{きたかみ}北上盆地 J ^{きたかみ}北上川 K ^{さんりく}三陸海岸 L ^{せんたい}仙台平野 M ^{あぶくま}阿武隈川 N ^{しやうない}福島盆地 O ^{しやうない}庄内平野 P ^{もがみ}最上川 Q ^{しやうない}山形盆地 R ^{はちろうがた}八郎潟(干拓地) S ^{おももの}雄物川 T ^{しやうない}秋田平野 U ^{しやうない}横手盆地

[問題]

次の各問いの()に適語をいれよ。(または()内より適語を選べ。)

- (1) Aは東北地方の中央部を南北に走っている()山脈である。
- (2) Bは(①)山地で、(②)の原生林が広がっており、1993年に世界(③)として登録された。
- (3) 冬には①(日本海/太平洋)からの湿った季節風が山地にぶつかり、(①)側の地方に雪をふらせる。(①)側の雨温図は、下の(②)のようになる。



- (4) 日本海側の盆地では、夏に()現象が発生して異常なほど高温になることがある。
- (5) Cは、①(夏/冬)に吹く(②)という冷たい風である。この風のために作物が不作になる(③)が発生することがある。

[解答](1) ^{おう}奥羽 (2)① ^{しらかみ}白神 ② ^{ぶな}ぶな ③ ^{しぜんざい}自然遺産 (3)① ^{にっぽんかい}日本海 ② ^うウ (4) ^{ふえん}フェーン (5)① ^{なつ}夏 ② ^{やませ}やませ ③ ^{れいがい}冷害

[印刷／他の PDF ファイルについて]

※ このファイルは、FdText 社会(6,600 円)の一部を PDF 形式に変換したサンプルで、印刷はできないようになっています。製品版の FdText 社会は Word(または一太郎)の文書ファイルで、印刷・編集を自由に行うことができます。

※ 弊社は、FdText のほかに FdData 中間期末過去問(社会・理科・数学)(各 18,900 円)(Word 版・一太郎版)を販売しております。PDF 形式のサンプル(全内容)は、

<http://www.fdtype.com/dat/> に掲載しております。

下図のような、[FdData 無料閲覧ソフト(RunFdData)]を、Windows のデスクトップ上にインストールすれば、FdData 中間期末・FdData 入試の全 PDF ファイル(各教科約 1500 ページ)を自由に閲覧できます。次のリンクを左クリックするとインストールが開始されます。

RunFdData(Word 版) 【 <http://fddata.deci.jp/lnk/instRunFdDataWDs.exe> 】

RunFdData(一太郎版) 【 <http://fddata.deci.jp/lnk/instRunFdDataTAs.exe> 】

※ダイアログが表示されたら、【実行】ボタンを左クリックしてください。インストール中、いくつかの警告が出ますが、[実行][許可する][次へ]等を選択します。

【イメージ画像】



【Fd 教材開発：URL <http://www.fdtype.com/dat/> Tel (092) 404-2266】