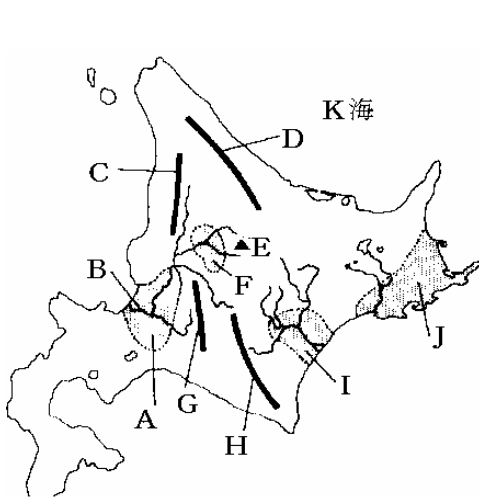


[要点]



- A. 石狩平野
- B. 石狩川
- C. 天塩山地
- D. 北見山地
- E. 大雪山
- F. 上川盆地
- G. 夕張山地
- H. 白高山脈
- I. 十勝平野
- J. 根釧台地
- k. オホーツク海

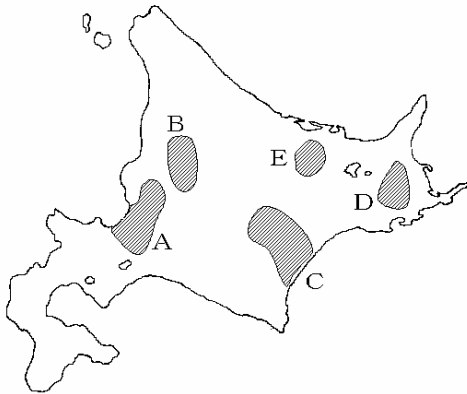
[問題]

- (1) 北海道は、かつて何と呼ばれていたか。
- (2) 北海道の先住民は(A)民族で、(B)などの口伝えの文芸など独自の文化をもっていた。
- (3) 明治のはじめ、北海道の開拓を行うために札幌におかれた役所は何か。
- (4) 開発から水鳥を守るため、(A)湿原は、1971年(B)条約に登録された。
- (5) 太平洋側には寒流の(A)が流れ、その上を吹いてくる「やませ」により(B)が発生して、日照不足になり、冷害が起こる
- (6) 冬から春にかけて、オホーツク海沿岸におしよせるものは何か。
- (7) 洞爺湖や摩周湖のように、火山活動でできた湖を何というか。

[解答](1)蝦夷地 (2)A アイヌ B ユーカラ (3)開拓使 (4)A 釧路 B ラムサール (5)A 千島海流(親潮) B 濃霧 (6)流氷 (7)カルデラ湖

【】北海道の農業

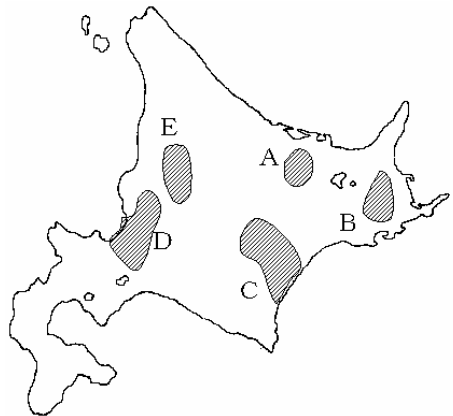
【要点】



- A 石狩平野 客土によって泥炭地を水田にかえ、
現在では北海道の稲作の中心
- B 上川盆地 稲作，中心地は旭川
- C 十勝平野 北海道の畑作の中心，火山灰地，
あずきやだいずなどの豆類，
てんさい，じゃがいも
- D 根釧台地 火山灰地，パイロットファーム，
新酪農村(別海町)，酪農の中心
- E 北見盆地 かつては「はっか」で有名
現在は，全国一のたまねぎ産地

【問題】

- 火山灰地で、しかも夏も低温であるため稲作や畑作ができなかった。戦後、実験農場(パイロットファーム)がつくられ、酪農が始められた。また、1973年から別海町を中心として新酪農村がつけられた。(地域名・記号)
- 火山灰地のこの平野は、北海道の畑作の中心である。ここでは機械を使った大規模な畑作が行われ、あずきやだいずなどの豆類、てんさい、じゃがいもが栽培されている。(地域名・記号)
- 戦後、石狩川流域の泥炭地を客土によって水田に変えた。北海道の稲作の中心である。(地域名・記号)
- 旭川を中心地とするこの盆地では、夏の気温が高いことを利用して稲作が行われている。石狩平野とともに北海道の稲作の中心地となっている。(地域名・記号)
- この盆地は、かつては「はっか」で有名であったが、現在は、全国一のたまねぎの産地となっている。(地域名・記号)



- 【解答】 (1)根釧台地(B) (2)十勝平野(C) (3)石狩平野(D) (4)上川盆地(E) (5)北見盆地(A)

[問題]

- (1) 石狩平野や上川盆地の農業の中心は畑作か稲作か。
- (2) 北海道中部の、近年、メロンの生産で有名になった都市を上げよ。
- (3) 十勝平野の農業の特色を説明せよ。
- (4) 十勝平野でとれる農作物をあげよ。
- (5) 十勝平野で多く栽培され、帯広などの精糖工場で加工される農産物は何か。また、この作物の北海道の生産割合は全国の何%をしめるか。
- (6) 根釧台地ではどのような農業が行われているか。
- (7) 1973年からは、別海町を中心に、国の事業によって、1戸平均50haの農地と70頭ほどの乳牛を持つ酪農家をモデルにした、機械化された大規模な酪農の村が建設された。この村を何とよぶか。
- (8) 農家が冬の飼料を保存する建物は何か。
- (9) 北見盆地は、かつては「はっか」で有名であったが、現在は全国一の()の産地。

[解答] (1)稲作 (2)夕張 (3)北海道の畑作の中心で、機械を使った大規模な畑作が行われている。
(4)あずきやだいずなどの豆類、てんさい、じゃがいも (5)てんさい 100% (6)酪農 (7)新酪農村 (8)サイロ (9)たまねぎ

[問題]

- (1) 石狩平野は何という川の下流に開けた平野か。
- (2) 石狩平野の中心都市はどこか。
- (3) 石狩平野は、石狩川流域に開けた平野で、かつては泥炭地で農業にはむかなかった。戦後、土地改良を行って、泥炭地を水田に変えたが、この土地改良は何か。
- (4) 石狩平野とともに北海道の稲作の中心地となっている上川盆地の中心都市はどこか。
- (5) 十勝平野の土地の特色を説明せよ。
- (6) 十勝平野でとれるてんさいは何の原料になるか。また、そのしぼりかすは何に利用されているか。
- (7) 十勝平野の中心都市はどこか。また、その都市でさかんな工業は何か。
- (8) 十勝平野で生産されない農産物を、次のア～エから一つ選べ。
ア てんさい イ あずき ウ 茶 エ じゃがいも
- (9) 根釧台地は、畑作や稲作には不向きであるが、それはなぜか。
- (10) 根釧台地は稲作や畑作ができなかつた。戦後、実験農場がつくられ、酪農が始められた。この実験農場をカタカナで何というか。

[解答] (1)石狩川 (2)札幌 (3)客土 (4)旭川 (5)火山灰地 (6)砂糖 飼料 (7)帯広 精糖 工業 (8)ウ (9)火山灰地で、しかも夏も低温であるため。 (10)パイロットファーム

[印刷/他のPDFファイルについて]

このファイルは、FdText 社会(6,200 円)を PDF 形式に変換したサンプルで印刷はできないようになっています。製品版の FdText 社会は Word(または一太郎)の文書ファイルで、印刷・編集を自由に行うことができます。さらに、製品版には、この問題解答一体形式のほかに、問題解答分離形式を収録していますので、購入後、ただちに印刷して使うことができます。

FdText 社会の全 PDF ファイル、他の科目(数学・英語・理科・国語)の各 PDF ファイル、および製品版の購入方法は、<http://www.fdtype.com/txt/index.html> に掲載しております。

下図のような、[FdData 無料閲覧ソフト(RunFdData)]を、お使いになっている Windows にインストールすれば、FdData 中間期末・FdData 入試の全 PDF ファイルを閲覧することができます。この PDF ファイルは、印刷・編集はできませんが、試験前に、画面を見ながら目で問題を解いていくだけでも一定の学習効果が期待できます。

[FdData 無料閲覧ソフト]ダウンロードのページ：<http://www.fdtype.com/lnk/dwn2.html>

