

[要点]

- ・航空交通 速い,大量輸送ができない。IC,生鮮食料品,花など軽い荷物。貿易額の約4分の1。

新東京国際空港(成田空港,千葉県,わが国最大の貿易港),

東京国際空港(羽田空港,国内便),関西国際空港(24時間離着陸),新千歳空港。

海上交通 遅い,大量輸送ができる,石油(タンカー),鉄鉱石,自動車(専用船)など重い荷物。

- ・日本人の海外旅行先のベスト3:アメリカ合衆国,中国,韓国の順(2003年)。

- ・国内貨物輸送:鉄道 トラック(9割以上)

- ・青函トンネル(d)

- ・東京湾アクアライン(神奈川県と千葉県を結ぶ)

- ・本州四国連絡橋

a 尾道(広島県) - 今治(愛媛県) しまなみ海道

b 児島(岡山県) - 坂出(香川県) 瀬戸大橋,最初に開通

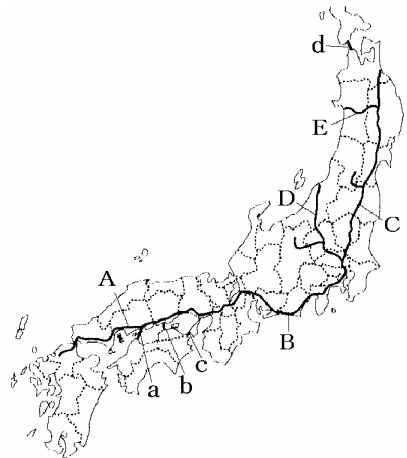
c 明石(兵庫県) - 鳴門(徳島県) 明石海峡大橋
大鳴門橋

A 山陽新幹線 B 東海道新幹線

C 東北新幹線 D 上越新幹線 E 秋田新幹線

- ・新潟県:上越新幹線と関越自動車道の開通 湯沢町へのスキー客が増加,農産物や水産物の東京への出荷。

- ・情報化:国民の70%以上が携帯電話を保有し,インターネットという世界的規模の通信網が普及。



[B 問題]

量的にみて,ものの国際間移動の中心となっている輸送手段は海上輸送である。ペルシア湾沿岸の中東諸国から専用の ()船で輸入されている (),主としてオーストラリアから輸入している鉄鉱石や ()などの原燃料,名古屋港などからアメリカなどにむけて輸出されている ()など,値段の割に重いものの輸送に海上輸送が使われている。

これとともに近年は航空輸送が伸びてきており,貿易額の約 ()分の1をしめるまでになっている。航空機で輸送されるものは宅配便のほかに ()(集積回路)などの軽い電気機器やすばやく輸送する必要のある ()や生花などがある。金額面でのわが国最大の貿易港は ()となっている。

[解答] タンカー 石油 石炭 自動車 4 IC 生鮮食料品 新東京国際空港(成田空港)

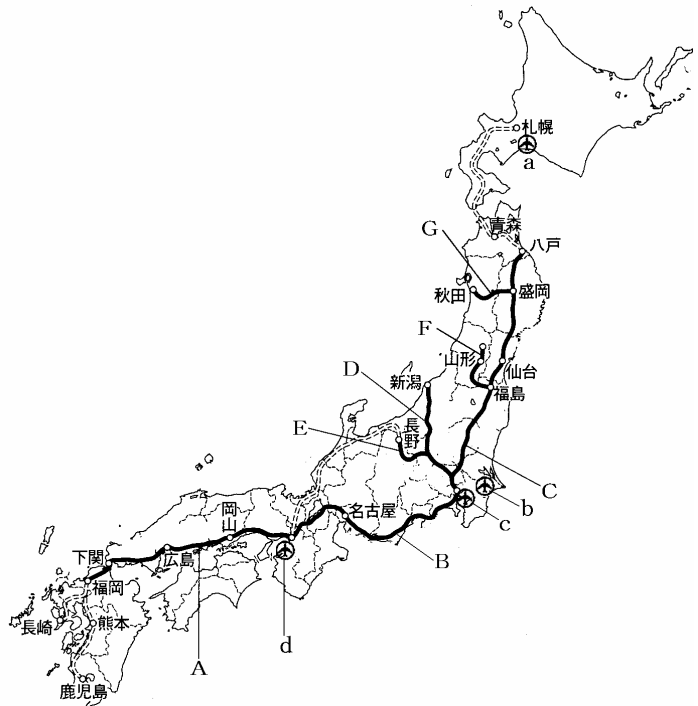
[B 問題]

- (1) 航空貨物の取扱量をもっとも多い空港は何か。また、何県にあるか。
- (2) 1988 年に本州と北海道を結ぶ(1)が完成したが、新幹線の北海道への延長が実現しないため、本州との間の交通の拠点は(2)空港に移ってきている。
- (3) 本州と四国を結ぶ3つの橋を総称して何というか。
- (4) (3)のうちもっとも早く開通した児島 - 坂出を結ぶルートにかかっている橋は何か。

[解答] (1) 新東京国際空港(成田空港) ^{なりた} , 千葉県 (2) 1.青函トンネル ^{せいこう} , 2.新千歳 ^{しんちとせ} (3) 本州四国連絡橋 (4) 瀬戸大橋

[C 問題]

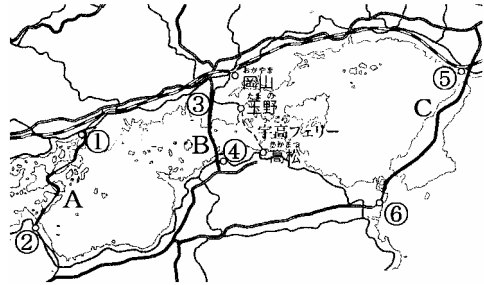
- (1) 東京にある国内線の空港 c は何か。
- (2) 大阪湾南部の人工島に建設された、24 時間離着陸できる空港 d の名を答えよ。
- (3) ロシアやヨーロッパ、アメリカへの国際路線が開かれている北海道の空港 a は何か。
- (4) さまざまな新幹線の始発駅になっている駅は何か。
- (5) 図の A~C の新幹線の名前を答えよ。
- (6) 図の D~G の新幹線の名前を答えよ。
- (7) 1997 年に開通した神奈川県と千葉県を結ぶ海底トンネルは何か。



[解答] (1) 東京国際空港(羽田空港) ^{はねだ} (2) 関西国際空港 (3) 新千歳空港 ^{しんちとせ} (4) 東京駅 (5) A 山陽新幹線, B 東海道新幹線, C 東北新幹線 (6) D 上越新幹線 ^{じょうえつ}, E 長野新幹線, F 山形新幹線, G 秋田新幹線 (7) 東京湾アクアライン

[C問題]

- (1) A, B, Cのうち最も早く開通したのはどれか。
- (2) Bのルートは本州側, 四国側, それぞれの何県の何という都市どうしを結んでいるか。
- (3) Bルートの完成で, 香川県と岡山県間の通勤・通学者や買い物客はどう変化したか。
- (4) Bルートの完成で, 四国側では地元の買い物客数はどのように変化したか。
- (5) Cのルートの のところにかかっている橋は何か。
- (6) Cのルートの は何県の何という都市か。
- (7) Cのルートの のところにかかっている橋は何か。
- (8) Cのルートの は何県の何という都市か。
- (9) Aルートを瀬戸内()という。
- (10) Aルートの , は何県の何という都市か。



[解答] (1) B (2) 岡山県の児島(倉敷), 香川県の坂出 (3) 増加した (4) 減少した (5) 明石海峡大橋 (6) 兵庫県の明石 (7) 大鳴門橋 (8) 徳島県の鳴門 (9) しまなみ海道 (10) 広島県の尾道, 愛媛県の今治

[C問題]

1960年頃は, 国内貨物の中心は (鉄道, 自動車)であったが, 現在では (鉄道, 自動車)が9割以上を占めるに至っている。これは, ()道路網の整備と, 積み替えなしに生産地と消費地を直結できるという 輸送の特性によっている。たとえば, 高知平野において, 促成栽培で作られた野菜は, トラックに積み込まれ, 高速道路, ()(または本州四国連絡橋)をつかって関西や関東へ比較的短時間で輸送されている。


新潟県では ()新幹線と ()道が開通したことで, 湯沢町への東京からの観光客(スキーなど)が増加し, また県内の農産物や水産物の東京への出荷額が増加し, さらには 道ぞいに電気機械工場が進出し雇用の増大をもたらしている。

[解答] 鉄道 自動車 高速 フェリー 上越 関越自動車

[B 問題]

- (1) 右のグラフ中の X, Y, Z の国名を書け。
- (2) コンピューターの利用で, 国際間の情報交換ができるようになった世界的規模の通信網を何というか。
- (3) 国内情報通信で近年国民の 70%以上が所持しているものは何か。
- (4) 現在, 大陸をこえた通信は()や()によって支えられている。
- (5) 現在, 日本に住んでいる外国人の国籍でもっとも多い国を, 次のア~エから 1つ選び, 記号で答えよ。

日本人のおもな海外旅行先



ア アメリカ イ フィリピン ウ ブラジル エ 韓国・朝鮮

- [解答] (1) X アメリカ合衆国 , Y 中国, Z 韓国 (2) インターネット (3) 携帯電話
(4) 海底ケーブル, 通信衛星 (5) エ

[印刷/他のPDFファイルについて]

このファイルは、FdText 社会(6,200 円)を PDF 形式に変換したサンプルで印刷はできないようになっています。製品版の FdText 社会は Word(または一太郎)の文書ファイルで、印刷・編集を自由に行うことができます。さらに、製品版には、この問題解答一体形式のほかに、問題解答分離形式を収録していますので、購入後、ただちに印刷して使うことができます。

FdText 社会の全 PDF ファイル、他の科目(数学・英語・理科・国語)の各 PDF ファイル、および製品版の購入方法は、<http://www.fdtype.com/txt/index.html> に掲載しております。

下図のような、[FdData 無料閲覧ソフト(RunFdData)]を、お使いになっている Windows にインストールすれば、FdData 中間期末・FdData 入試の全 PDF ファイルを閲覧することができます。この PDF ファイルは、印刷・編集はできませんが、試験前に、画面を見ながら目で問題を解いていくだけでも一定の学習効果が期待できます。

[FdData 無料閲覧ソフト]ダウンロードのページ：<http://www.fdtype.com/lnk/dwn2.html>

