

[要点]

- (1) 家族は、人が最初に出会う社会集団であり、その中で、社会生活に必要なルールを身につけていく。かつては大家族が多かったが、現在では夫婦と子供だけによって構成される核家族が全体の約6割をしめるようになった。また、夫婦のみの世帯や一人世帯も増加しているが、将来的に少子化をいっそう進行させるおそれがある。
- (2) 民法は「家族生活は個人の尊厳と両性の本質的平等を基本にして営まなければならない」と定めている。また、男女の人権の尊重、男女平等の社会制度や慣行の確立をめざして、1999年に男女共同参画社会基本法が施行された。また、結婚しても以前の姓のままでもよいとする夫婦別姓への希望が強くなっている。

[要点]

- (1) 家族は、人が最初に出会う( )集団であり、その中で、社会生活に必要な( )を身につけていく。かつては大家族が多かったが、現在では夫婦と子供だけによって構成される( )家族が全体の約6割をしめるようになった。また、夫婦のみの世帯や( )世帯も増加しているが、将来的に( )化をいっそう進行させるおそれがある。
- (2) 民法は「家族生活は個人の( )と両性の( )を基本にして営まなければならない」と定めている。また、男女の人権の尊重、男女平等の社会制度や慣行の確立をめざして、1999年に( )基本法が施行された。また、結婚しても以前の姓のままでもよいとする( )への希望が強くなっている。

[B問題]

- (1) 社会集団が、人々の共同生活の場としてその役割を果たしていくためには、集団としての何が必要になるか。
- (2) 次はそれぞれ、ア：生まれながらに所属している社会集団、イ：目的をもって自分で参加する社会集団のどちらか。

家族      会社      学校      部活動      地域社会

- (3) 人は家族という(A )集団の中で、社会生活に必要な(B )を身につけていく。

[解答]

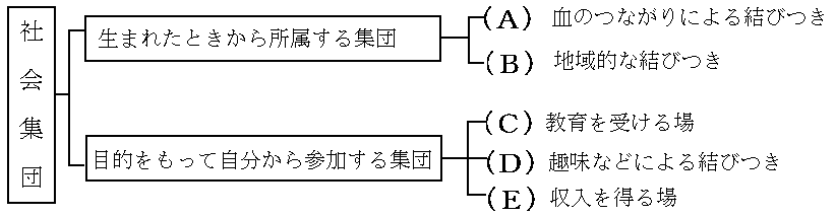
- (1) ルール    (2) ア    イ    イ    イ    ア    (3) A 社会 , B 基本的ルール

[C問題]

- (1) お互いに共通の目的や仲間意識などをもった人間の集まりを何というか。  
(2) 人間は、(A )の一員としてでなくては生きていくことはできない。そのため、人間は(B )  
であるといわれる。

(語群)ア 家族 イ 社会的存在 ウ 個人的存在 エ 社会 オ 民主 力 共同

- (3) 下の図は、社会集団を分類したものである。図のA~Eにあてはまる社会集団を、次から選べ。  
(会社、部活動、地域社会、学校、家族)



[解答]

- (1) 社会集団 (2) A エ B イ (3) A 家族 B 地域社会 C 学校 D 部活動 E 会社

[B問題]

- (1) 現代は、(A )の低下で子供の数は減少し、一方、(B )の割合は増えており、(C )社会とよばれる。  
(2) 夫婦と子供だけによって構成される家族を何というか。

[解答]

- (1) A 出生率 , B 高齢者 , C 少子高齢 (2) 核家族

[C問題]

- (1) 一世帯あたりの子供の数が減少することを何というか。  
(2) 老年人口が増加することを何というか。  
(3) 少子高齢社会とは何か、説明せよ。

[解答]

- (1) 少子化 (2) 高齢化 (3) 子どもの数が少なくなり、高齢者の割合が大きくなっている社会

[C問題]

- (1) 人が最初に出会うもっとも身近な社会集団は何か。
- (2) 祖父母、両親、子供などいくつかの世代が同居する家族を何というか。
- (3) 核家族を「夫婦」「子ども」の言葉を使って説明せよ。
- (4) 高齢者や未婚のままで、一人で生活している世帯を何というか。
- (5) 夫婦のみの世帯や一人世帯が増加していくことは、将来的にどのような問題を引き起こすか。
- (6) おさない子どもや高齢者が安心して暮らせるようにするためには( )の考え方が大切である。

[解答]

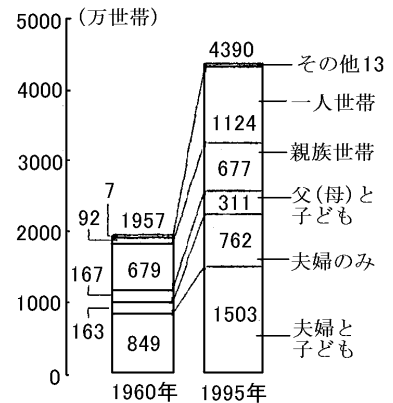
- (1) 家族 (2) 大家族 (3) 夫婦, 夫婦と子ども, 父(母)と子どもで構成される家族 (4) 一人世帯 (5) 子供が減少して, 少子化がいつそう進む (6) コミュニティーケア

[C問題]

右のグラフを見て、各問いに答えよ。

- (1) 1960年と1995年を比べたとき、増加した割合が大きい世帯を2つ答えよ。
- (2) (1)のような現象が発生した理由を2つ、簡単に述べよ。
- (3) 1960年と1995年を比べたとき、ほとんど世帯数が変わっていない世帯は何か。
- (4) 核家族世帯にあたるものをすべて答えよ。
- (5) 1960年と1995年を比べたとき、核家族世帯は約何倍になっているか。(整数で答えよ)

家族類型別世帯数の推移



[解答]

- (1) 一人世帯, 夫婦のみの世帯 (2) 子供をもたない夫婦や結婚しない人が増えた (3) 親族世帯 (4) 父(母)と子ども, 夫婦のみ, 夫婦と子ども (5) 2倍

[B問題]

- (1) 家族生活は個人の(A )と両性の(B )を基本にして営まなければならない。
- (2) 男女の区別なく、個人としての能力を生かすことのできる社会を何というか。
- (3) 1999年に施行された法律で、男女の人権の尊重、男女平等の社会制度や慣行の確立について定めている法律は何か。
- (4) 現行の民法では、結婚すると夫婦は同じ姓を名のるきまりになっているが、結婚しても以前の姓のままでもよいとする( )への希望が強くなっている。
- (5) 家族関係や遺産の相続などについて定めている法律は何か。

【解答】

- (1) A 専断せんげん B 本質的平等 (2) 男女共同参画社会きんかく (3) 男女共同参画社会基本法 (4) 夫婦別姓ふうふべつせい (5) 民法みんぽう

【C問題】

- (1) 男女共同参画社会とは、(A )の区別なく、個人として(B )を十分に発揮できる社会のことである。
- (2) 1986年に施行された男女雇用機会均等法だんじょこようきかいきんとうぽうとは何を目的とした法律か。下の文の空欄に当てはまる語句を書け。  
就職における男女( )をなくすことを目的としている。
- (3) 女性は、25歳を過ぎると仕事をやめる人が多く、30~34歳では、女性の有業率は非常に低くなっている。そして35歳を過ぎると再び職に就く女性が増えてくるが、このような傾向になるのはなぜか。女性の年齢との関連から答えよ。

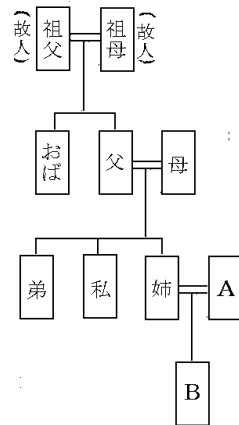
【解答】

- (1) A 男女 B 能力 (2) 差別 (3) 子供が生まれると仕事をやめ、子どもがある程度大きくなると再び職に就くから

【問題】(1学期中間)

右の図を見て、各問いに答えなさい。

- (1) 図の中のAは、私から見て何にあたりますか。次の . にあてはまる語や数字を書きなさい。  
( )族 ( )親等
- (2) 父母が年老いたとき、民法上の規定で、通常、これを扶養する義務を負わないのは誰か。図の中から一人選びなさい。
- (3) 父が死去して、遺産が1500万円あったとする。母と3人の子どもで相続する場合、私の相続分はいくらになりますか。
- (4) 私から見て、Bは何にあたりますか。次から選びなさい。



ア おい・めい イ おじ・おば ウ いとこ エ いとこの子

【解答】

- (1) 姻 2 (2) A (3) 250万円 (4) ア

[印刷 / 他のPDFファイルについて]

このファイルは、FdText社会の一部をPDF形式に変換したサンプルで、印刷はできないようになっています。製品版のFdText社会はWord(または一太郎)の文書ファイルで、印刷・編集を自由に行うことができます。

弊社は、FdTextのほかにFdData中間期末過去問(社会・理科・数学)(各18,000円)(Word版・一太郎版)を販売しております。PDF形式のサンプル(全内容)は、

<http://www.fdtype.com/dat/> に掲載しております。

下図のような、[FdData無料閲覧ソフト(RunFdData)]を、Windowsのデスクトップ上にインストールすれば、FdData中間期末・FdData入試の全PDFファイル(各教科約1500ページ)を自由に閲覧できます。次のリンクを左クリックするとインストールが開始されます。

RunFdData(Word版) 【 <http://www.fdtype.com/lnk/instRunFdDataWDs.exe> 】

RunFdData(一太郎版) 【 <http://www.fdtype.com/lnk/instRunFdDataTAs.exe> 】

ダイアログが表示されたら、【実行】ボタンを左クリックしてください。インストール中、いくつかの警告が出ますが、[実行][許可する][次へ]等を選択します。

【イメージ画像】



【Fd教材開発 : URL <http://www.fdtype.com/dat/> Tel (092) 404-2266】