

[要点]

- (1) 商品が生産者から消費者に販売されるまでの間の流れを流通といい、これに携わる仕事を商業という。卸売業および小売業がある。スーパーマーケットなどが商品を生産者から直接仕入れて流通経費の削減をはかったり、流通センターを設けたりする流通の合理化がはかられている。
- (2) 買おうとする量である需要と、売ろうとする量である供給が一致するところで決まる市場価格という。一般に需要が増加すると価格は上昇し、供給が増加すると価格は下落する。市場を支配する企業が決める価格を独占価格という。独占の規制を行うために、わが国では独占禁止法にもとづいて、公正取引委員会が監視を行っている。電気、ガス、鉄道、バス料金など国や地方公共団体の承認によって決められる価格を公共料金という。

[A問題：要点確認]

- (1) 商品が生産者から消費者に販売されるまでの間の流れを()といい、これに携わる仕事を()という。()業および()業がある。()などが商品を生産者から直接仕入れて流通経費の削減をはかったり、流通センターを設けたりする()の合理化がはかられている。
- (2) 買おうとする量である()と、売ろうとする量である()が一致するところで決まる価格を()価格という。一般に需要が増加すると価格は()し、供給が増加すると価格は()する。市場を支配する企業が決める価格を()価格という。独占の規制を行うために、わが国では()法にもとづいて、()委員会が監視を行っている。電気、ガス、鉄道、バス料金など国や地方公共団体の承認によって決められる価格を()という。

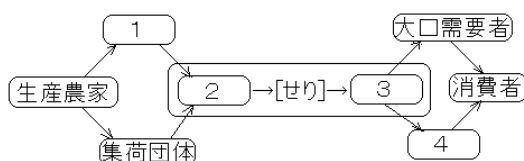
[B問題]

- (1) 商品が生産者から消費者に販売されるまでの間の流れを何というか。
- (2) 商品の流通に携わる仕事を何というか。
- (3) (2)の仕事には生産者から商品を買う(A)と、商品を消費者に売る(B)がある。

[解答] (1) 流通 (2) 商業 (3) A 卸売業 , B 小売業

[C問題]

図の1～4に適語を入れよ



【解答】

- 1.産地出荷業者 ^{おろしうり} 2.卸売業者 3.仲卸業者 ^{なかおろし} 4.小売業者

【C問題】

- 流通の仕組みが複雑になりすぎると、どのような問題が生じるか。
- 商品を生産者から直接仕入れて流通経費の削減をはかったり、流通センターを設けたりして商品の流れをスムーズにすることを何というか。
- 流通経費を省くために、セルフサービスのしくみを取り入れた大規模な小売店は何か。
- 24時間営業を行う小売店は何か。

【解答】

- よけいな費用がかかり商品の価格が高くなる。また消費者に商品が届くまでの時間がかかる。
- 流通の合理化 (3) スーパーマーケット (4) コンビニエンスストア

【B問題】

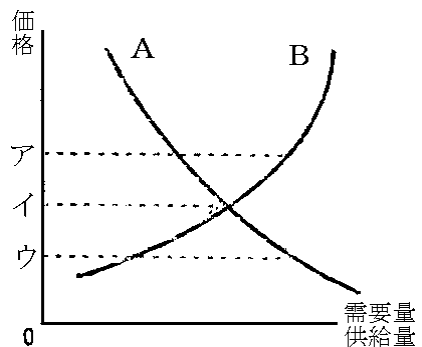
- ものやサービスが売買される場を何というか。
- (1)の場において、買手が買おうとする量を何というか。
- (1)の場において、売り手が売ろうとする量を何というか。
- (2)と(3)の関係によって決まる価格を何というか。

【解答】

- 市場 ^{しじょう} (2) 需要 ^{じゅよう} (3) 供給 ^{きょうきゅう} (4) 市場価格 ^{しじょうかかく}

【C問題】

- 価格が上がると人々が買おうとする商品の量(需要)は増えるか、減るか。
- 価格が上がると人々が売ろうとする商品の量(供給)は増えるか、減るか。
- グラフで、需要量を表しているのは、A、B のどちらか。
- 需要量と供給量が一致したときに決まる価格を何というか。また、その価格はグラフのア～ウのどれか。
- 実際の商品の価格は上がったたり、下がったりする。次の表を完成せよ。



	価格はどうなる	企業の対応策は
需要量 < 供給量	価格は()	生産を()
需要量 > 供給量	価格は()	生産を()

【解答】

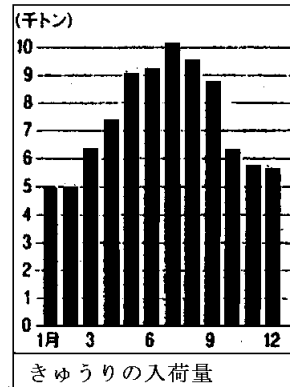
- (1) 減る (2) 増える (3) A (4) 市場価格, イ (5) 下がる 減らす 上がる
増やす

【C問題】

右のグラフと表から「キュウリの入荷量と価格の動き」についてまとめた文の ~ に正しい語を, 次の語群より選び, 記号で答えよ。

1月 650円	7月 185円
2月 400円	8月 250円
3月 445円	9月 275円
4月 330円	10月 500円
5月 255円	11月 360円
6月 170円	12月 395円

キュウリの入荷量の少ない()にかけては, ()量より, ()量が多いので価格は()くなり, 逆に入荷量が多い()にかけては()量が, ()量より多いので価格は()くなる。このようにして決まる価格を()価格と言う。
[ア 需要 イ 市場 ウ 供給 エ 春から夏
オ 秋から冬 カ 安 キ 高]



【解答】

- オ ウ ア キ エ カ イ

【B問題】

- (1) 力をもつ企業が定める価格を何というか。
 (2) 市場において, いくつかの企業が協定を結んで, 製品の価格を一定以上の水準に維持する行為を何というか。
 (3) 企業どうしが価格や生産量について協定を結んだり合併したりすることを制限し, 公正な取引を確保したりして, 国民経済の健全な発達をはかることを目的として制定された法律は何か。またその法律を運用して企業を監視する機関は何か。
 (4) 政府や地方公共団体の承認によって決まる価格は何か。
 (5) (4)を次からすべて選び記号で答えよ。

ア 電気料金 イ 新聞代 ウ 雑誌の料金 エ 鉄道運賃 オ ガス代 カ 水道

【解答】

- (1) 独占価格 (2) カルテル (3) 独占禁止法, 公正取引委員会 (4) 公共料金
 (5) ア, エ, オ, カ

[C問題]

- (1) 市場において、一つのものやサービスを一つの企業が供給している状態を何というか。
- (2) 少数の企業が市場を支配することを何というか。
- (3) 「市場占有率」のことをカタカナで何というか。
- (4) 適正な企業の競争は、なぜ必要か。価格の面から説明せよ。
- (5) 市場において、企業がライバルの企業よりもより安くて品質のよいものを供給することをうながすためには何が必要か。
- (6) 公共料金には、A国会や政府が決定するもの、B政府が認可するもの、C 地方公共団体が決めるものなどがある。つぎのものは、どこで決定されるか。A~Cの記号で答えよ。

公立学校授業料 鉄道運賃 公営水道料金 たばこの小売り価格

[解答]

- (1) 独占 (2) 寡^{かせん}占 (3) シェア (4) 競争がないと価格が安くならないから (5) 自由競争
(6) A B C B

[印刷 / 他のPDFファイルについて]

このファイルは、FdText社会の一部をPDF形式に変換したサンプルで、印刷はできないようになっています。製品版のFdText社会はWord(または一太郎)の文書ファイルで、印刷・編集を自由に行うことができます。

弊社は、FdTextのほかにFdData中間期末過去問(社会・理科・数学)(各18,000円)(Word版・一太郎版)を販売しております。PDF形式のサンプル(全内容)は、

<http://www.fdtype.com/dat/> に掲載しております。

下図のような、[FdData無料閲覧ソフト(RunFdData)]を、Windowsのデスクトップ上にインストールすれば、FdData中間期末・FdData入試の全PDFファイル(各教科約1500ページ)を自由に閲覧できます。次のリンクを左クリックするとインストールが開始されます。

RunFdData(Word版) 【 <http://www.fdtype.com/lnk/instRunFdDataWDs.exe> 】

RunFdData(一太郎版) 【 <http://www.fdtype.com/lnk/instRunFdDataTAs.exe> 】

ダイアログが表示されたら、【実行】ボタンを左クリックしてください。インストール中、いくつかの警告が出ますが、[実行][許可する][次へ]等を選択します。

【イメージ画像】



【Fd教材開発 : URL <http://www.fdtype.com/dat/> Tel (092) 404-2266】