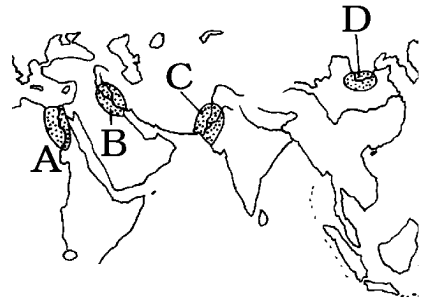


[要点]

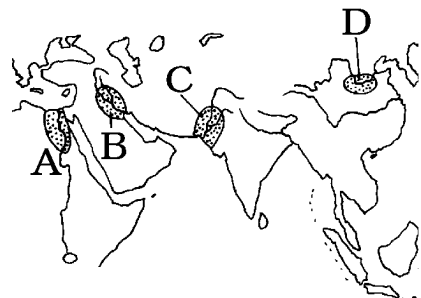
- (1) 地図Aのエジプト文明はナイル川の流域で、地図Bのメソポタミア文明はチグリス川とユーフラテス川の流域で、地図Cのインダス文明はインダス川の流域で発達した。地図Dの中国文明は黄河流域で発達し、紀元前1600年頃に 殷 という国が作られ、甲骨文字 が使われた。



- (2) 分裂していた中国を紀元前 221年に統一したのは 秦の始皇帝 で、遊牧民族 の侵入を防ぐために万里の長城 を築いた。秦が滅亡した後、漢 が中国を統一し、朝鮮半島の北部を征服して楽浪郡 などをおいた。

[A問題：要点確認]

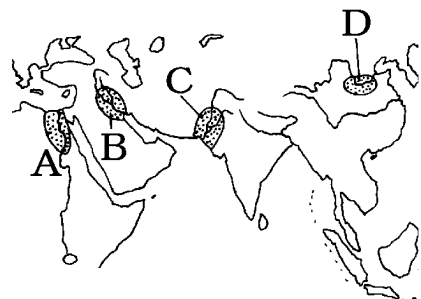
- (1) 地図Aの()文明は()川の流域で、地図Bの()文明は()川と()川の流域で、地図Cの()文明は()川の流域で発達した。地図Dの()文明は()流域で発達し、紀元前1600年頃に 殷 という国が作られ、()文字が使われた。



- (2) 分裂していた中国を紀元前 221年に統一したのは()の()で、遊牧民族 の侵入を防ぐために()を築いた。秦が滅亡した後、()が中国を統一し、朝鮮半島の北部を征服して楽浪郡 などをおいた。

[C問題]

- (1) A, B, C, D はそれぞれ何という文明か。
 (2) なぜこれらの地域に早くから文明が発達したのか、主な理由をかけ。
 (3) A の文明でつくられた、石づくりの巨大な王の墓を何というか。
 (4) B の地域で、紀元前 18 世紀ごろにつくられた法典を何というか。
 (5) C の文明では、()の遺跡が有名である。



[解答]

- (1) A: エジプト文明 B: メソポタミア文明 C: インダス文明 D: 中国文明 (2) 大きな川の流域にあり, 農業が発達したから (3) ピラミッド (4) ハンムラビ^{ほうてん}法典
(5) モヘンジョ・ダロ

[B問題]

- (1) 中国では, (A)という川の流域で(B)文明が栄えた。
(2) 中国の文明で紀元前 1600 年ころ^{しん}殷という国がおこり, 右図のような漢字のもとになった文字がつくられた。この文字を何というか。
(3) 紀元前 3 世紀に中国を統一して^{しん}秦という国を成立させた人物はだれか。
(4) (3)の人物が, 北方の遊牧民の侵入を防ぐために築いたものを何というか。



[解答]

- (1) A ^{こうが}黄河 B 中国 (2) ^{こうこつ}甲骨文字 (3) ^{しこうてい}始皇帝 (4) ^{ばんり}万里の^{ちようじょう}長 城

[C問題]

- (1) 黄河流域に殷という国ができたのは紀元前何年ごろか。
(2) 紀元前 3 世紀, 始皇帝は中国を統一して, 何という王朝をはじめたか。
(3) 始皇帝は万里の長城を, 何のために作ったか。
(4) 始皇帝が中国を統一したころの日本は, 何時代か。
(5) 紀元前 3 世紀に, (2)にかわって中国をまとめ, 大帝国をつくりあげた王朝の名を書け。

[解答]

- (1) 紀元前1600年 (2) 秦 (3) 北方の^{遊ぼくみん}遊牧民の侵入を防ぐため (4) ^{きよい}弥生時代
(5) 漢