

【FdData 高校入試：中学社会地理：アフリカ州・オセアニア州】

[アフリカ：[地形・気候](#)／[歴史](#)／[各国](#)／[農業・鉱業](#)／[モノカルチャー経済・フェアトレード](#)／  
[課題と展望](#)

オセアニア：[地域・位置・気候](#)／[歴史など](#)／[農牧業](#)／[鉱業](#)／[貿易の変化](#)／

[FdData 入試製品版のご案内](#)]

[【FdData 入試ホームページ】](#)掲載の pdf ファイル(サンプル)一覧]

※次のリンクは[Shift]キーをおしながら左クリックすると、新規ウィンドウが開きます

社会：[\[社会地理\]](#)，[\[社会歴史\]](#)，[\[社会公民\]](#)

理科：[\[理科 1 年\]](#)，[\[理科 2 年\]](#)，[\[理科 3 年\]](#)

数学：[\[数学 1 年\]](#)，[\[数学 2 年\]](#)，[\[数学 3 年\]](#)

※全内容を掲載しておりますが、印刷はできないように設定しております

【】 アフリカ州

【】 地形・気候

[地形]

[問題]

右の略地図に●で示したあたりに広がる、世界最大の砂漠を何というか。

(三重県)

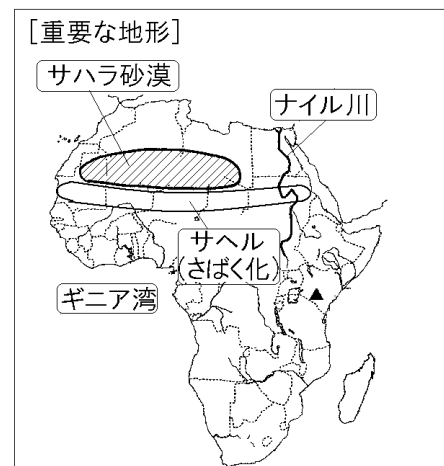
[解答欄]

[解答]サハラ砂漠

[解説]

アフリカ大陸北部に広がるサハラ砂漠<sup>さばく</sup>は世界最大である。サハラ砂漠の南側を東西に細長くのびる乾燥<sup>かんそうちいき</sup>地域をサヘルという。サヘルでは、地球規模<sup>きぼ</sup>での気候変動<sup>きこうへんどう</sup>に加え、人口増加<sup>かちく</sup>にともなう家畜<sup>かじゅう</sup>の過剰放牧<sup>かじょうほうぼく</sup>、ゆきすぎた焼畑<sup>やきはた</sup>や過剰耕作<sup>こうさく</sup>などにより、緑の生育<sup>せいよく</sup>を上回るスピードで人間や家畜が緑を消費<sup>しょうひ</sup>してしまうことで、大地が不毛<sup>ふもう</sup>の土地になる砂漠化<sup>さばくか</sup>が進行している。

エジプトを流れるナイル川は長さが世界一の河川である。その流域<sup>りゅういき</sup>では、かつて、エジプト文明が栄えた。



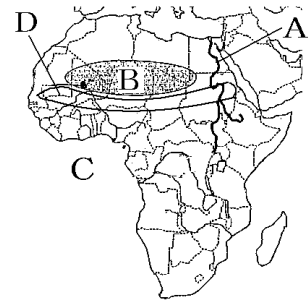
ギニア湾<sup>わん</sup>の沿岸部ではかつて、ヨーロッパ人が進出し、<sup>どれい</sup>奴隷・<sup>きん</sup>金・<sup>ぞうげ</sup>象牙・<sup>こくもつ</sup>穀物などが取り引きされた。

※入試出題頻度：「サハラ砂漠○」「サヘル(砂漠化)○」「ナイル川○」「ギニア湾○」  
 (頻度記号：◎(特に出題頻度が高い), ○(出題頻度が高い), △(ときどき出題される))

[問題]

次の各問いに答えよ。

- (1) 地図の A の川, B の砂漠, C の湾の名前を答えよ。  
 (2) B の砂漠の南側の D では砂漠化が進行している。



この地域を何というか。

(補充問題)

[解答欄]

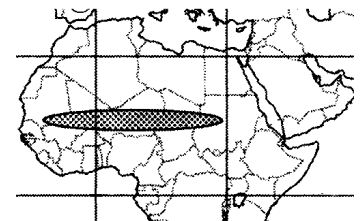
(1)A	B	C	(2)
------	---	---	-----

[解答](1)A ナイル川 B サハラ砂漠 C ギニア湾 (2) サヘル

[問題]

次の文章中の①～③に適語を入れよ。

右の地図中の●印で示した区域は、( ① )砂漠の南の縁に位置し、( ② )と呼ばれている。(②)では、人口増加による、たきぎやまきの採りすぎ、放牧する家畜の増加などにより、植物が育たないやせた土地になる( ③ )化が進んでいる。



(愛媛県改)

[解答欄]

①	②	③
---	---	---

[解答]① サハラ ② サヘル ③ 砂漠

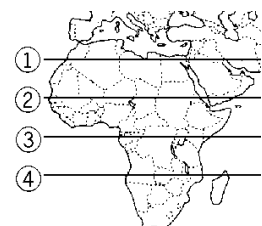
[赤道・本初子午線]

[問題]

略地図中の①～④の緯線のうち、赤道にあたるものを1つ選び、番号で答えよ。

(山形県)

[解答欄]



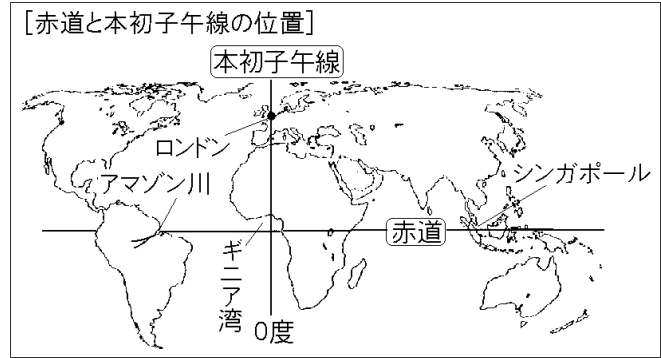
[解答]③

【解説】

赤道<sup>せきどう</sup>は南アメリカ大陸のアマゾン川<sup>アマゾン川</sup>流域<sup>りゅういき</sup>、アフリカ大陸のギニア湾<sup>ギニア湾</sup>、東南アジアのシンガポール付近を通過している。経線<sup>けいせん</sup>の基準となる経度<sup>けいど</sup>0度の線(本初子午線<sup>ほんしよしごせん</sup>)は、アフリカでは、ギニア湾を通過している。

※入試出題頻度：「赤道の位置○」

「本初子午線の位置○」



【問題】

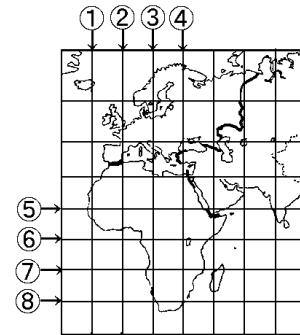
右図で赤道と本初子午線を示している線はどれか。図中の①～⑧のうちから、最も適当なものをそれぞれ1つずつ選び、その番号を書け。

(千葉県)

【解答欄】

赤道：	本初子午線：
-----	--------

【解答】赤道：⑥ 本初子午線：②



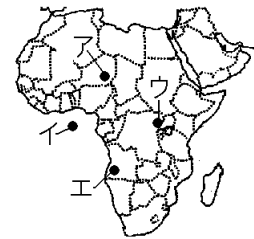
【問題】

本初子午線と赤道が交わる点を、右の地図中のア～エから1つ選べ。

(補充問題)

【解答欄】

【解答】イ





[気候]

[問題]

右の地図中の [ ] で示した地域が属する気候帯は、次のどれか。

[ 熱帯 温帯 冷帯 乾燥帯 ]

(長崎県)

[解答欄]

[解答]乾燥帯

[解説]

アフリカの気候帯は赤道を中心として南北に対称に、  
 熱帯(赤道付近)→乾燥帯(サハラ砂漠など)→温帯(地中海沿岸など)と分布している。アフリカではギニア湾付近を赤道が通っている。赤道周辺の気候は熱帯である。赤道直下では、強い日射であたためられた空気が上昇気流となるため、雲が発生しやすく、年中雨が多い。

赤道付近で上昇した空気は高緯度に向かって移動し、北回帰線(南回帰線)付近(23.4度)で下降する。

下降気流があるところでは雲は消えて雨はほとんど降らない。そのため回帰線付近では砂漠になっている。アフリカでは北回帰線付近にはサハラ砂漠が広がっている。アフリカ北西部の地中海沿岸は温帯(地中海性気候)である。また、アフリカの南端は温帯の気候になっている。

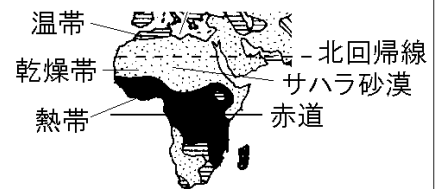
※入試出題頻度：「熱帯(赤道付近)→乾燥帯(サハラ砂漠など)→温帯(地中海沿岸など)○」



[アフリカの気候]


赤道を中心に、南北に

熱帯→乾燥帯→温帯の順に分布



[問題]

太郎さんは、右の写真のピラミッド付近の様子を調べて、この付近で人々が生活していることに気づいた。太郎さんは、このことについて、次のようにまとめた。太郎さんのまとめの中の①、②の( )内からそれぞれ適語を選べ。



ピラミッドの付近は、①(地中海性/砂漠)気候にもかかわらず、資料のように植物が見られ、人々が生活できるのは、②(ナイル川/コンゴ川)の水を利用することができるためと考えられる。

(広島県)

[解答欄]

①	②
---	---

[解答]① 砂漠 ② ナイル川

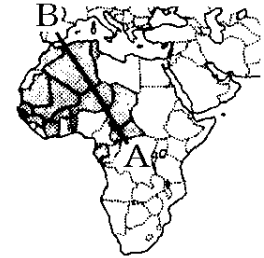
**【解説】**

ピラミッドが近郊にあるカイロは砂漠気候で、雨はほとんど降らないが、ナイル川が流れているため、その水を利用できる。



**【問題】**

右の略地図中のAからBに向かって直進するときに見られる気候を、順に並べるとどうなるか。次のア～エの中から正しいものを1つ選び、その記号を書け。



- ア 乾燥帯→熱帯→温帯
- イ 熱帯→温帯→乾燥帯
- ウ 熱帯→乾燥帯→温帯
- エ 温帯→熱帯→乾燥帯

(和歌山県)

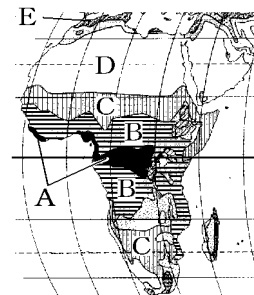
**【解答欄】**

**【解答】**ウ

**【問題】**

右図のA～Eの示す気候区を次からそれぞれ選べ。

- [ サバナ気候 ステップ気候 地中海性気候 熱帯雨林気候  
砂漠気候 温帯湿潤気候 ]



(補充問題)

**【解答欄】**

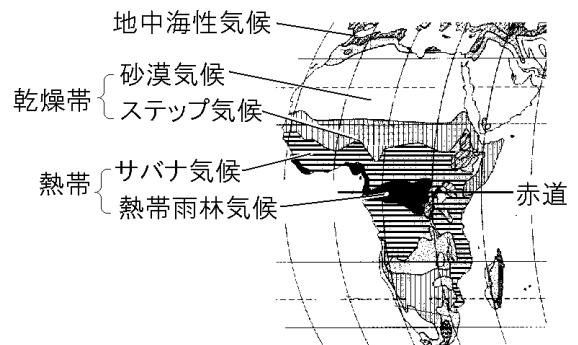
A	B	C
D	E	

**【解答】**A 熱帯雨林気候 B サバナ気候 C ステップ気候 D 砂漠気候 E 地中海性気候

**【解説】**

赤道直下は、熱帯の中でも1年中雨が多い熱帯雨林気候になっている。その周辺の熱帯の地域は、雨季と乾季があるサバナ気候となっている。乾燥帯には、サヘルのようにわずかに雨が降り草原が広がるステップ気候と、雨がほとんど降らない砂漠気候がある。

※入試出題頻度: この単元はたまに出題される。

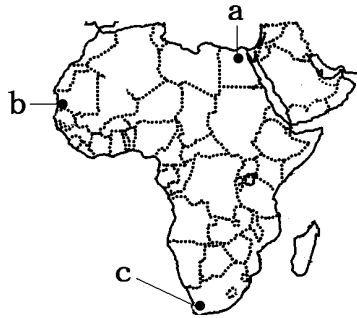


[問題]

次の写真は、サバナ気候の景観である。①この気候がみられる場所は略地図中 a～c のどれか。②また、この気候の降水の特徴を説明せよ。



(鹿児島県)



[解答欄]

①	②	
---	---	--

[解答] ① b ② 雨の多い雨季と少ない乾季がある。

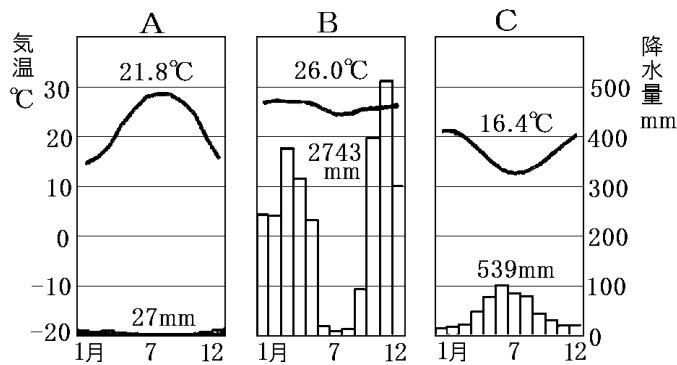
[解説]

a は乾燥帯, b は熱帯(サバナ気候), c は温帯に属する。熱帯には1年中雨が多い熱帯雨林気候と、雨の多い雨季と少ない乾季があるサバナ気候に分けられる。

[雨温図]

[問題]

次の A～C のグラフは、略地図中の X～Z の都市のものである。A～C のグラフは、それぞれ X～Z のどの都市にあてはまるか。



(補充問題)

[解答欄]

A :	B :	C :
-----	-----	-----

[解答] A : X B : Y C : Z

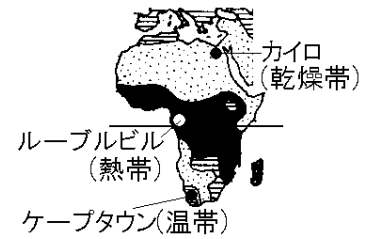
[解説]

X のカイロは乾燥帯(砂漠気候)で雨温図は A である。

Y は赤道直下なので熱帯である。年平均気温が 20℃台である

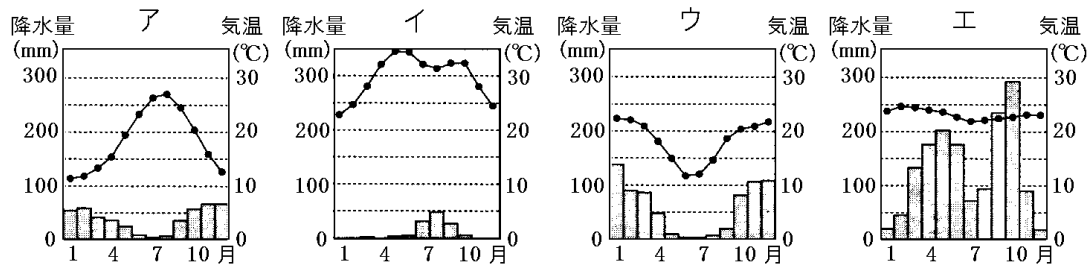
B が熱帯の雨温図である。Z のケープタウンは温帯(地中海性気候)で、平均気温が 10℃台である C がその雨温図である。

※※出題頻度：「雨温図：熱帯○，乾燥帯○，温帯○」



[問題]

次のア～エのグラフは、地図中の a～d のいずれかの都市の気温と降水量の変化を表したものである。このうち、a, c の都市のものはどれか。それぞれ 1 つずつ選び、その記号を書け。



(岩手県)

[解答欄]

a :	c :
-----	-----

[解答] a : ア c : エ

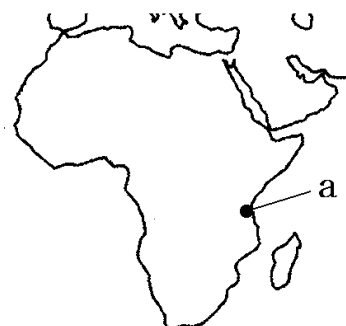
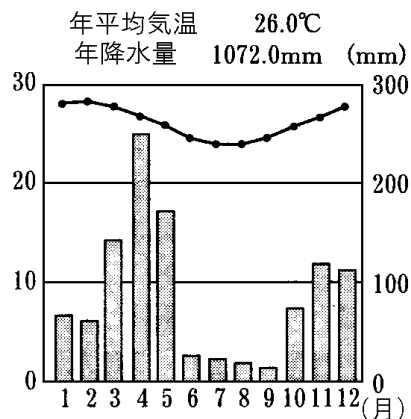
[解説]

ウの気温は U 字型になっており 7 月ごろが気温が低いので南半球のものと判断できる。a は温帯(地中海性気候)で雨温図はア, b は乾燥帯で雨温図はイ, c は赤道直下の熱帯で雨温図はエ, d は温帯で雨温図はウ。



[問題]

次の資料は、略地図中の都市 a の気温と降水量を表している。この都市の自然環境の特徴について述べた文として正しいものはどれか、ア～エから 1 つ選べ。



- ア 低木がまばらに生えるサバナとよばれる草原が広がっている。
- イ 草木がほとんど育たず砂や岩の砂漠が広がっている。
- ウ 緑の葉が一年中しげる熱帯林が広がっている。
- エ タイガとよばれる針葉樹林が広がっている。

(徳島県)

[解答欄]

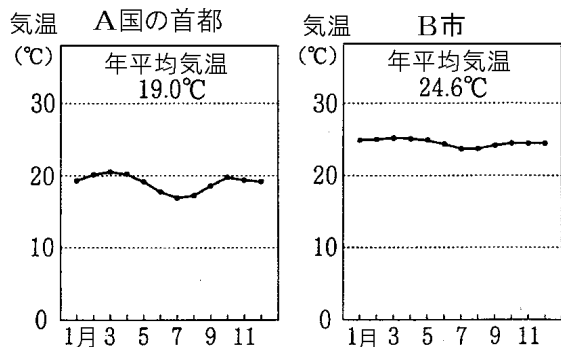
[解答]ア

[解説]

雨温図の気温より、a は熱帯に属することがわかる。熱帯は 1 年中雨が多い熱帯雨林気候(ウ)と、雨の多い雨季と少ない乾季があるサバナ気候(ア)に分けられる。雨温図で、雨が少ない乾季(6～9 月)があるのでサバナ気候と判断できる。イは砂漠気候、エは冷帯である。

[問題]

下のグラフは、A国の首都(略地図中の○)と、そことほぼ同緯度にあるB市(略地図中の●)の月別平均気温を示している。A国の首都の気温がB市の気温よりも低い理由を、簡潔に説明せよ。ただし、どちらの都市にも海流や風の影響はないものとする。



(宮城県)

[解答欄]

[解答]A国の首都の標高が、B市よりも高いため。

[解説]

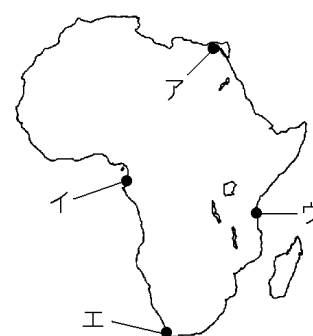
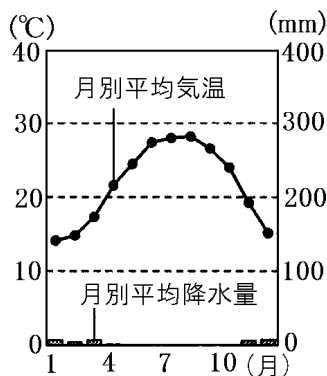
A国はケニアであり、国土の大部分は標高1000m~1800mの高原になっている。

[問題]

右の資料は、ア~エで示したいずれかの都市における雨温図である。資料はいずれの都市の雨温図か、ア~エから最も適当なものを1つ選び、その記号を書け。

(三重県)

[解答欄]



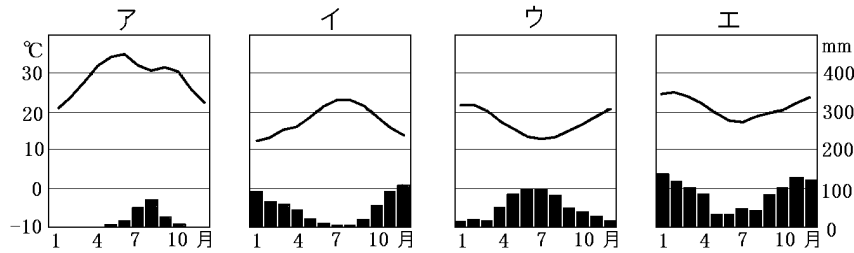
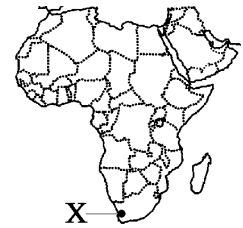
[解答]ア

[解説]

地図のアは乾燥帯、イとウは熱帯、エは温帯である。資料の雨温図は降水量が極端に少ないことから、乾燥帯(砂漠気候)と判断できる。

[問題]

次のア～エのうち、右の地図の地点 X の気温と降水量をあらわしたグラフはどれか、1つ選び、その符号を書け。



(石川県)

[解答欄]

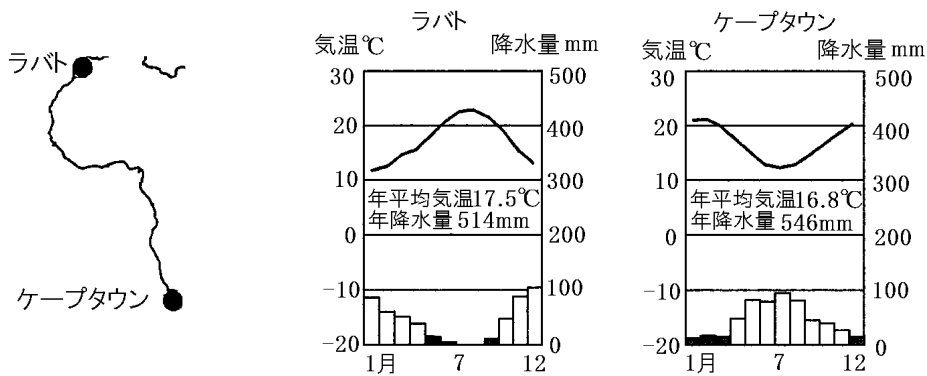
[解答]ウ

[解説]

Xは南半球にあるので1月ごろが夏で、気温のグラフはU字型になる。したがって、グラフはウかエになる。ケープタウンは温帯の地中海性気候なので、夏(1月ごろ)の降水量が少ない。よって、ケープタウンの雨温図はウと判断できる。

[問題]

次のグラフは、略地図のラバトとケープタウンの気温と降水量を表している。次の文章中の①、②の( )内からそれぞれ適語を選べ。



アフリカの北西端と南端は温帯で、過ごしやすい気候である。ラバトとケープタウンの共通点は、①(夏/冬)に雨が少ないことである。これは②(西岸海洋性気候/地中海性気候)の特徴であり、ぶどうなどの果樹の栽培が行われている。

(岐阜県)

[解答欄]

①	②
---	---

[解答]① 夏 ② 地中海性気候

[解説]

夏に雨が少ないのが地中海性気候の特色である。ラバトは北半球にあるので7月は夏であり、夏の降水量が少ない。ケープタウンは南半球なので1月や12月が夏であり、夏の降水量が少ない。

[問題]

右の略地図中のローマとケープタウンは、同じ気候に属しており、次の文は、ケープタウンの気温と降水量の特色について説明したものである。正しい文になるように、文中の①、②の( )内からそれぞれ適語を選べ。

ケープタウンの1月と7月の平均気温を比較すると、7月の平均気温の方が、1月の平均気温より①(低く／高く)なる。また、1月と7月の降水量を比較すると、7月の降水量の方が、1月の降水量より②(少なく／多く)なる。

(徳島県)

[解答欄]

①	②
---	---

[解答]① 低く ② 多く

[解説]

ケープタウンは南半球にあるので7月は冬で、1月が夏である。また、「ローマとケープタウンは、同じ気候に属しており」とあることから、温帯の地中海性気候で、夏(1月)の降水量が少ない。



[問題]

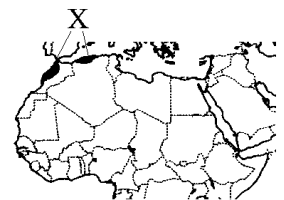
右の地図中のXの地域では、夏は高温で乾燥し、冬は温暖で雨が多いため、オリーブや小麦を栽培している。ここで行われている農業を何というか。

(富山県)

[解答欄]

--

[解答]地中海式農業



[問題]

次の資料の a～d は、アフリカ、北アメリカ、南アメリカ、ユーラシアのいずれかの大陸の気候帯の割合を示したものである。アフリカ大陸に当たるものを、a～d から選べ。

(資料)大陸別の気候帯の割合(%)

	a	b	c	d
熱帯	7.4	5.2	38.6	63.4
乾燥帯	26.1	14.4	46.7	14.0
温帯	17.5	13.5	14.7	21.0
亜寒帯	39.2	43.4	0.0	0.0
寒帯	9.8	23.5	0.0	1.6

(群馬県)

[解答欄]

[解答]c

[解説]

乾燥帯と熱帯の割合が大きいことから c がアフリカ大陸と判断できる。

[問題]

次のア～エは、アフリカ州、北アメリカ州、南アメリカ州、アジア州のいずれかの気候や地形などの特徴を述べたものである。このうち、アフリカ州について述べたものはどれか。1 つ選び、その記号を書け。

- ア 北部を通る赤道付近には大規模な熱帯雨林が広がり、州の面積に対して森林の占める割合が最も大きい。
- イ 面積、人口とも最大で、寒帯から熱帯まですべての気候が分布し、世界で最も高くけわしい山々がみられる。
- ウ ほぼ中央を通る赤道付近では熱帯気候の地域が広がり、北部には世界最大の砂漠がみられるなど、熱帯、乾燥帯、温帯の気候がみられる。
- エ 中央に広大な平原が広がり、寒帯から熱帯まですべての気候がみられ、南東部の熱帯や温帯の地域では、ハリケーンの被害をたびたび受ける。

(岩手県)

[解答欄]

[解答]ウ

[解説]

アは南アメリカ州、イはアジア州、ウはアフリカ州、エは北アメリカ州である。

## 【】 歴史

[奴隷・植民地]

[問題]

次の文中の①、②にあてはまる語句を答えよ。

16世紀以後、ヨーロッパ人は、多くの人々を北アメリカ大陸や南アメリカ大陸に( ① )として連れ去った。そして、19世紀末までに、エチオピアとリベリアを除くアフリカのほぼ全域が、ヨーロッパ諸国の( ② )地となった。

(補充問題)

[解答欄]

①	②
---	---

[解答]① 奴隷 ② 植民

[解説]

アフリカは、古代にエジプト文明が栄えたように古い歴史を持っている。しかし、16世紀以後、ヨーロッパ人が千数百万人ともいわれる多くの人々を奴隷として北アメリカ大陸と南アメリカ大陸に連れ去った。

19世紀末までに、エチオピアとリベリアを除くアフリカのほぼ全域が、ヨーロッパ諸国の植民地となった。とくに、イギリスとフランスは広大な地域を植民地とした。第二次世界大戦後、ほとんどの国が独立した。特に、1960年は17か国が独立したので、この年は「アフリカの年」と呼ばれた。

※入試出題頻度：「植民地○」「奴隷△」

[アフリカの歴史]

古代:エジプト文明

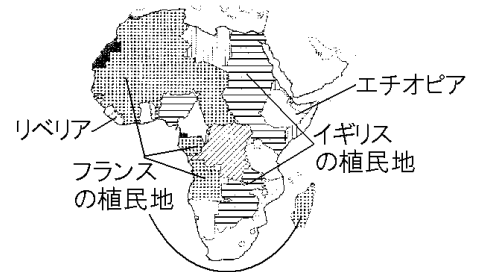


16世紀以降、ヨーロッパ人が黒人を奴隷として連れ去る

アフリカの全域がヨーロッパの植民地に  
(とくに、イギリスとフランス)



1950年代以降に独立



[植民地時代の影響①：国境線]

[問題]

エジプトには、まっすぐな国境線がみられる。これは、かつてこの土地を植民地としていたヨーロッパの国が、緯線や( X )を利用して引いた境界線が、今も国境線として使われているからである。文中の X に適語を入れよ。

(岐阜県)

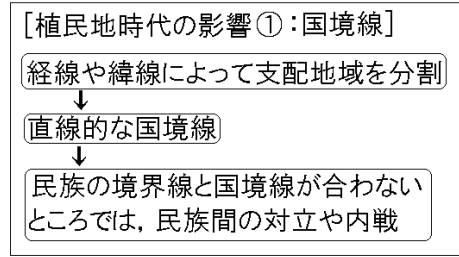
[解答欄]

--

[解答]経線

【解説】

アフリカ大陸には直線的な国境線が多いが、これは、かつて植民地としてアフリカを支配していたヨーロッパの国々が、経線や緯線によって支配地域を分割したなごりである。この境界線は、民族のまとまりを無視して引かれたため、1つの民族がいくつかの国に分かれたり、いくつかの民族が1つの国にまとめられたりした。このように民族の境界線と国境線が合わないところでは民族間の対立や内戦が起きることもある。内戦で難民の問題も発生している。



※入試出題頻度：「経線や緯線によって支配地域を分割○」「直線的な国境線○」「民族の境界線と国境線が合わないところでは、民族間の対立や内戦○」

【問題】

下の資料は、太郎さんが右の地図中のA国について調べたことを書いたメモの一部である。メモの①～③にあてはまる語句として最も適当なものを、(語群)からそれぞれ1つずつ選んで書け。



(資料)

- ・紀元前 3000 年頃、地中海に向かって流れる( ① )川周辺に古代文明が栄えていた。
- ・19 世紀末までに、A 国を含め周辺の多くの地域が( ② )諸国の植民地となり、(②)諸国が緯線や経線を使って引いた境界線を、今も国境線として使っているため、A 国と隣国との国境線の大部分は( ③ )的になっている。

(語群)[ 南アメリカ 直線 メコン ナイル ヨーロッパ 曲線 ]

(福井県)

【解答欄】

①	②	③
---	---	---

【解答】① ナイル ② ヨーロッパ ③ 直線

【問題】

みのるさんは、アフリカ大陸の国境は直線で表されている箇所が見られることについて調べた。その理由として最も適当なものを、次のア～エの中から1つ選び、記号を書け。

- ア 同じ言語や習慣を持つ民族が暮らす地域にそって国境線を引いたため。
- イ 山脈や河川だけではなく、湖や滝などの自然の地形にそって国境線を引いたため。
- ウ 第一次世界大戦前に独立国が次々と誕生し、隣国との話し合いで国境線を引いたため。
- エ 緯線や経線などを使って引いた境界線を、今も国境線として使っているため。


(佐賀県)

[解答欄]

[解答]エ

[問題]

右図で示された国が位置する大陸には、経線や緯線などを利用してまっすぐに引かれた国境線が多く見られるが、それはなぜか。歴史的な背景をふまえて書け。



(岡山県)

[解答欄]

[解答]かつて植民地としてアフリカを支配していたヨーロッパ諸国が、経線や緯線によって支配地域を分割したから。

[問題]

次の文中の X に入る適切な内容を、「民族」の語を用いて書け。

アフリカ州に直線的な国境が多く見られるのは、植民地支配した国々が緯線や経線などをもとにして決めたからである。その結果、( X )国境線となり、紛争となった国がある。

(秋田県)

[解答欄]

[解答]民族の分布を無視した

[問題]

アフリカ州の国々において、民族間の対立が多く起こっている理由を、「民族」「国境線」の2つの言葉を用いて簡単に書け。

(愛媛県)

[解答欄]

[解答]民族の境界線と国境線が一致していないから。



[植民地時代の影響②：公用語・宗教]

[問題]

A国では、英語を公用語としている。A国で英語を公用語としているのはなぜか、歴史的な背景をふまえて、書け。

(山形県)

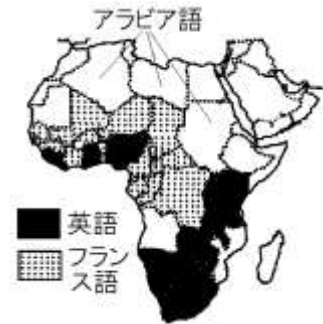
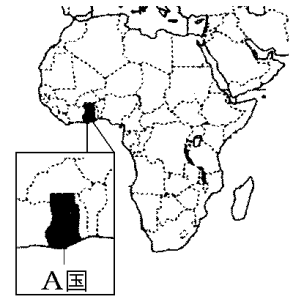
[解答欄]

[解答]A国がかつてイギリスの植民地であったから。

[解説]

アフリカの言語や宗教は、サハラ砂漠の北と南で大きく異なる。北アフリカではアラビア語が使われているが、それ以外の地域では多くの民族が独自の言語を持っている。同じ国内でたがいに言葉が通じないと困るので、現在でも英語やフランス語など植民地時代の旧本国の言語を公用語とし

[植民地時代の影響②]  
公用語：英語やフランス語も使われている  
宗教：一部の地域でキリスト教（北アフリカはイスラム教）



ている国が多くある。宗教の面では、北アフリカではおもにイスラム教が信仰されているが、それ以外の地域では伝統的な宗教を信仰しており、植民地時代の影響でキリスト教も広がっている。

※入試出題頻度：「公用語△」「英語・フランス語△」「イスラム教△」「キリスト教△」

[問題]

下の資料は、右図中のマリに関することがらをまとめたものである。多くのアフリカ州の国々にみられるように、マリがかつての支配国の言語を現在も公用語として使用している理由と考えられることを、資料から読み取って説明せよ。



(資料)

- 独立：1960年にフランスから独立
- 民族構成：バンバラ人 30.6%，セヌフォ人 10.5%，フラ人 9.6%，ソニンケ人 7.4%，トゥアレグ人 7.0%など
- 主な言語：フランス語(公用語)，バンバラ語，フラ語，ソングアイ語，タマシェク語，セヌフォ語，ソニンケ語，トゥアレグ語など

(熊本県)

[解答欄]

[解答]マリでは、民族それぞれの言語があり、民族間で共通の言語が必要なため。

[問題]

20世紀初め、略地図中の○で示した地域を統治していた国はどこか。

(和歌山県)

[解答欄]

[解答]フランス

[解説]

アフリカ大陸の西アフリカから中央アフリカにかけては、きゅうそうしゅこく旧宗主国がフランスの国が多い。



[問題]

右の地図中のA、Bの範囲の国の公用語は何か。

次の[ ]から1つずつ選べ。

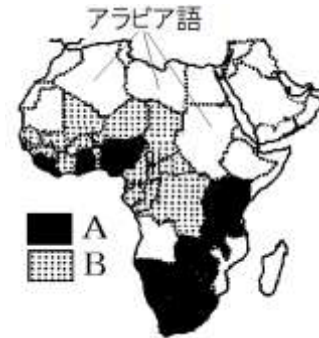
[ スペイン語 英語 フランス語 ポルトガル語 ]

(補充問題)

[解答欄]

A	B
---	---

[解答]A 英語 B フランス語



[問題]

略地図の●で示された国々において、共通して公用語となっている言語名を書け。



(福岡県)

[解答欄]

[解答]フランス語

[問題]

右の図中の■で示した国で、人口の60%以上が信仰している宗教を、次の[ ]から1つ選べ。

[ ヒンドゥー教 イスラム教 仏教 キリスト教 ]

(山口県)

[解答欄]

[解答]キリスト教

[解説]

宗教の面では、北アフリカではおもにイスラム教が信仰されているが、それ以外の地域では伝統的な宗教を信仰しており、植民地時代の影響でキリスト教も広がっている。



[問題]

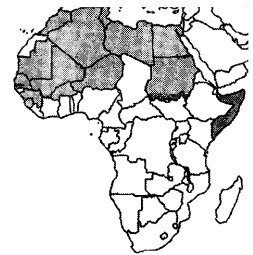
右図の、■で示したアフリカの国々では、人口の6割以上の人々がある宗教を信仰している。この宗教を、次の[ ]の中から1つ選べ。

[ イスラム教 ヒンドゥー教 キリスト教 仏教 ]

(茨城県)

[解答欄]

[解答]イスラム教



[問題]

右の略地図中のアフリカ州における■で示した国々で、人口の8割以上が信仰している宗教について述べた文として最も適切なものを、次のア～エから1つ選び、その記号を書け。

ア インドでおこり、東南アジアや東アジアで信仰され日本には、朝鮮半島から伝わった。

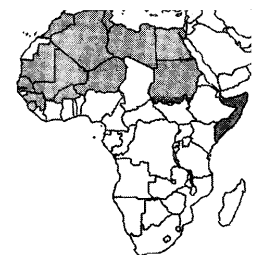
イ パレスチナでおこり、ヨーロッパ州で信仰され、その後、移民や布教によって各地に広まった。

ウ 南アジアにおいて特定の民族や地域と結びつき、信仰されるようになった。

エ アラビア半島のメッカでおこり、主に交易や領土の拡大を通して各地に広まった。


(奈良県)

[解答欄]



[解答]エ

[解説]

アは仏教，イはキリスト教，ウはヒンドゥー教，エはイスラム教である。  
アフリカ北部ので示した国々では主にイスラム教が信仰されている，

【】 各国

[南アフリカ共和国]

[問題]

次の文は、アフリカのある国について説明したものである。この国を下の【 】から選べ。

この国では、長い間、人口の大多数をしめる先住民などに対して、人種隔離政策が行われてきた。しかし、1994年、全国民が参加するはじめての選挙の結果、先住民の大統領が誕生し、この政策は廃止された。

[ エジプト ナイジェリア ガーナ 南アフリカ共和国 ]

(山口県)

[解答欄]

[解答]南アフリカ共和国

[解説]

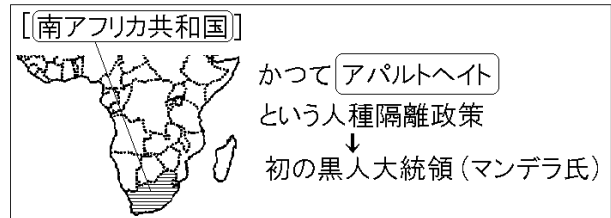
南アフリカ共和国は、少数の白人が黒人などの有色人種を差別するアパルトヘイトという人種隔離政策を行っていた。

1994年に全人種が参加する選挙が行われ、黒人のマンデラ氏(右の写真)が大統領になると、ようやくアパルトヘイトは廃止された。

現在では工業化が進んで、アフリカ最大の経済大国になった。

※「アパルトヘイト」「マンデラ」の語句が出てこない教科書もある。

※入試出題頻度：「南アフリカ共和国○」「アパルトヘイト○」「マンデラ△」



[問題]

次の各問いに答えよ。

- (1) 工業化が進んで、アフリカ最大の経済大国になった国はどこか。
- (2) (1)の国でかつて行われていた人種隔離政策を何というか。
- (3) (2)の政策が廃止された後、黒人初の大統領に就任した右図の人物は誰か。

(兵庫県改)

[解答欄]

(1)	(2)	(3)
-----	-----	-----

[解答](1) 南アフリカ共和国 (2) アパルトヘイト (3) マンデラ



[問題]

南アフリカ共和国について述べた文として適当でないものを，ア～エから1つ選べ。

- ア 大航海時代にバスコ＝ダ＝ガマが通過した喜望峰がある。
- イ かつてはアパルトヘイトを行っていたが，現在は廃止されている。
- ウ 温暖な気候を利用して，カカオやコーヒーのプランテーション農業が盛んである。
- エ 金や鉄鉱石，レアメタルなどの鉱産資源が豊富である。

(大分県)

[解答欄]

[解答]ウ

[エジプト]

[問題]

略地図中の X 国の国名を書け。

(徳島県)

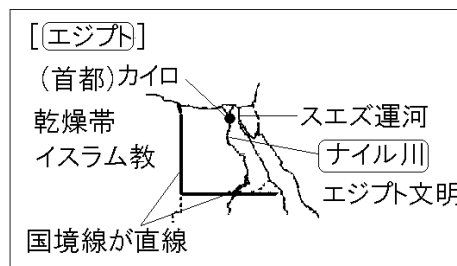
[解答欄]

[解答]エジプト

[解説]

エジプトの<sup>しゅと</sup>首都はカイロである。人口は1億233万人(2020年)で，北アフリカ・西アジアでは最大である。国民の大部分は<sup>きやうと</sup>イスラム教徒である。国土の大部分は<sup>かんそうたい さばく</sup>乾燥帯(砂漠)で，中央部を南北に流れる<sup>かこう</sup>ナイル川が農業・居住の中心になっている。ナイル川河口に<sup>さんかくす ひよく</sup>発達した三角州は肥沃な土地となっており，かつてエジプト文明が栄えた。ピラミッドなどの<sup>いせき</sup>遺跡が残っており，世界有数の観光地となっている。

※入試出題頻度：「エジプト○」「ナイル川○」



[問題]

次の文はアフリカのある国について述べたものである。この国名を答えよ。

この国は，アフリカ大陸の北東部に位置し，地中海に面している。世界最長の川の流域には，古代文明の遺跡があり，世界各地から多くの観光客が訪れている。

(栃木県)

[解答欄]

[解答]エジプト

[問題]

A エジプトと B 南アフリカ共和国について述べた文を次のア～エから 1 つずつ選べ。

- ア 金やダイヤモンドなどの鉱産資源が豊富にある。
- イ 一年中雨が多く、熱帯林が広がっている。
- ウ 世界最長の川が流れ沿岸では農業が営まれている。
- エ 世界有数のカカオの生産地となっている。

(山梨県改)

[解答欄]

A :	B :
-----	-----

[解答]A : ウ B : ア

[問題]

アフリカ大陸では、紀元前 3000 年頃、地図の A の河川の下流域で古代文明が生まれた。この河川の名称を何というか。次の[ ]から 1 つ選べ。

[ チグリス・ユーフラテス川 黄河 ナイル川 インダス川 ]

(山口県)

[解答欄]

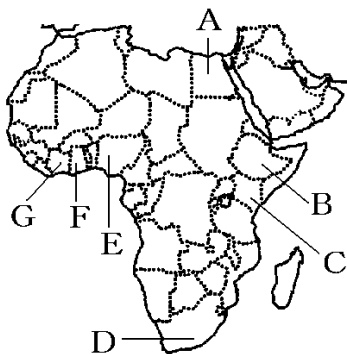
[解答]ナイル川



[その他]

[問題]

次の地図中の A～G の国名を答えよ。



(補充問題)

[解答欄]

A	B	C
D	E	F
G		

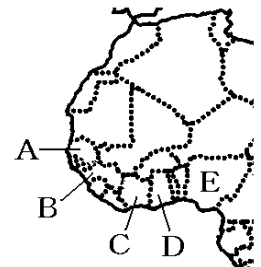
[解答]A エジプト B エチオピア C ケニア D 南アフリカ共和国 E ナイジェリア  
F ガーナ G コートジボワール

※入試出題頻度：この単元はときどき出題される。

[問題]

次の説明にあてはまる国を、地図の A～E から 1 つ選べ。

イギリスの植民地支配から独立したが、たびたび内戦を経験し、混乱をくりかえしてきた。ニジェール川下流の森林地帯の人々は、もろこし、とうじんびえなどの穀物やヤムいもなどの芋類を主食用作物として栽培しており、河口には、東南アジアに見られるものとよく似た水上家屋がある。また、石油はこの国の最大の輸出品である。



(鳥取県)

[解答欄]

[解答]E

[解説]

説明文の国は E のナイジェリアである。

[問題]

右の図中の A～G の国のうち、第一次世界大戦の開戦時にヨーロッパ諸国の植民地とならず、独立国であった国が 1 つだけある。その国はどれか。最も適当なものを 1 つ選べ。

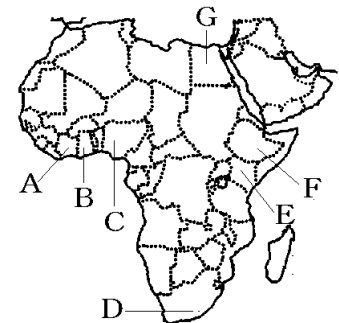
(千葉県)

[解答欄]

[解答]F

[解説]

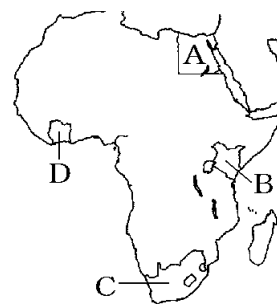
ヨーロッパ諸国の植民地とならず、独立国であった国は F のエチオピアである。





[問題]

次の資料は、右の略地図に示した A～D のいずれかの国の特徴についてまとめたものの一部である。資料は、どの国の特徴についてまとめたものか、略地図の A～D から最も適当なものを1つ選び、その記号を書け。



(資料)

標高が 5000m を超える高い山や、標高が 2000m 以上ある高原が広がり、高山気候に属するすずしい気候であることを利用して、茶や切り花が栽培され、多くが輸出されている。

(三重県)

[解答欄]

[解答]B

[解説]

A はエジプト、B はケニア、C は南アフリカ共和国、D はコートジボワールである。

アフリカ大陸の東部のケニアやエチオピアには、キリマンジャロ山やケニア山などの標高が 5000m をこえる高山や、平均の標高が 2000m 以上ある高原があり、赤道付近でも、高山気候に属するすずしい地域である。

[問題]

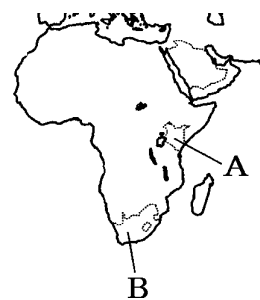
右の略地図中の A 国と、B 国について述べた文として最も適当なものはどれか。それぞれ 1 つずつ選べ。

ア 牧草がよく育つことから牧畜が盛んであり、特に羊の飼育頭数は人口よりも多いことで知られている。

イ サバナが広く分布し、内陸の高地では、茶や切り花の生産が盛んである。

ウ サンベルトとよばれる地域では、先端技術産業が発達している。

エ 過去にはアパルトヘイトとよばれる政策が行われていた国であり、鉱産資源に恵まれている。



(鹿児島県改)

[解答欄]

A 国 :	B 国 :
-------	-------

[解答]A 国 : イ B 国 : エ

[解説]アはオーストラリアまたはニュージーランドである。イは A のケニア、ウはアメリカ合衆国、エは B の南アフリカ共和国である。

【】 農業・鉱業

[農業]

[問題]

ガーナでは、カカオなどを生産する植民地時代に開かれた大農園が見られる。主に熱帯地方で見られる、植民地時代に開かれた大農園を何というか、その名称を書け。

(三重県)

[解答欄]

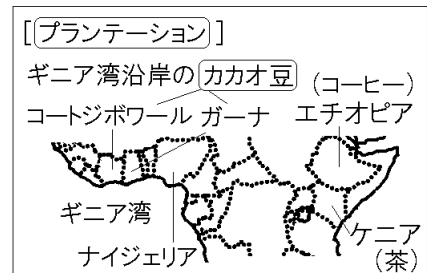
[解答]プランテーション

[解説]

植民地時代のアフリカでは、ヨーロッパ人によってプランテーションという大農園が開かれた。プランテーションでは、特定の輸出用の農作物を大量に生産しヨーロッパに輸出した。 ギニア湾沿岸のガーナやコートジボワールなどでは、チョコレートの原料になるカカオ豆のプラ

ンテーション農業が行われた。

また、ケニアでは茶のプランテーションが、エチオピアではコーヒーのプランテーションが開かれた。



カカオ豆の国別生産割合 (2022年)

コートジボワール 38.0%	ガーナ 18.9	11.4	その他
-------------------	-------------	------	-----

インドネシア

(統計出典)「世界国勢図会 2024/2025」 P224

※入試出題頻度：「プランテーション○」「特定の輸出用の商品作物を大量に生産△」

「カカオ豆○(チョコレートの原料△)：ギニア湾沿岸△(ガーナ△・コートジボワール△)」

「ケニアの茶△」「エチオピアのコーヒー△」

[問題]

図中に X で示した地域では、大規模な農園で特定の農作物が大量に栽培されている。この地域の代表的な農作物を次の[ ] から選べ。

[ 米 カカオ さとうきび ]

(兵庫県)

[解答欄]

[解答]カカオ



[問題]

次の文中の①，②の( )内より適語を選べ。

ガーナはカカオの世界的な産地である。このカカオは，ヨーロッパの植民地時代に形成された①(プランテーション/サンベルト)と呼ばれる大農園で，②(輸出/自給)用の作物として生産された。

(岩手県)

[解答欄]

①	②
---	---

[解答]① プランテーション ② 輸出用

[問題]

次の資料は，カカオ豆のおもな生産国の割合をまとめたものである。A 国の国名を書け。

カカオ豆の国別生産割合 (2022年)

コートジボワール 38.0%	A 国 18.9	11.4	その他
-------------------	-------------	------	-----

インドネシア

(山形県)

[解答欄]

[解答]ガーナ

[問題]

地図の X 国では，プランテーションでカカオがさかんに生産されている。このようにカカオの生産が行われるようになった，歴史的背景を簡潔に説明せよ。

(石川県)



[解答欄]

[解答]植民地時代に，輸出用のカカオが大規模に生産されるようになったこと。

[問題]

次の文の①にあてはまる語を書き，②，③の( )内からそれぞれ適語を選べ。

アフリカ州では，19世紀末までに多くの地域がヨーロッパ諸国による( ① )となり，プランテーション農業が行われるようになった。現在でも，コートジボワールの②(カカオ／とうもろこし)，ケニアの③(小麦／茶)，など，プランテーション農業に由来する農作物が，輸出額の中で高い割合を占める国がみられる。

(秋田県)

[解答欄]

①	②	③
---	---	---

[解答]① 植民地 ② カカオ ③ 茶

[問題]

次の統計の①～③はアフリカ大陸の多くの国で生産されているコーヒー，カカオ豆，茶の上位生産国とその生産量(2022年)を示したものである。①～③と農産物は何か。

- ① コートジボワール(223万t)，ガーナ(111万t)，インドネシア(67万t)
- ② ブラジル(317万t)，ベトナム(195万t)，インドネシア(80万t)，コロンビア(67万t)，エチオピア(50万t)
- ③ 中国(1453万t)，インド(597万t)，ケニア(233万t)

(補充問題)

[解答欄]

①	②	③
---	---	---

[解答]① カカオ豆 ② コーヒー ③ 茶

(統計修正)「世界国勢図会 2024/2025」P224

[問題]

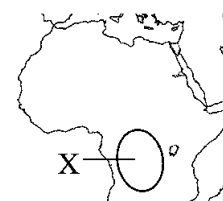
右の地図中のXの区域において，伝統的に，主食とするために栽培されている作物として最も適当なものを，次の[ ]から1つ選べ。

[ 米 小麦 とうもろこし いも類 ]

(愛媛県)

[解答欄]

[解答]いも類



[問題]

次の文章中の①，②に適語を入れよ。

アフリカ北部や西アジアの一部の地域では、水や草を求めて季節的に移動し、牛やラクダなどを飼育する牧畜が行われている。このような牧畜を( ① )という。また、森林を焼いてその灰を肥料にして農作物を育てる( ② )農業も行われている。

(青森県改)

[解答欄]

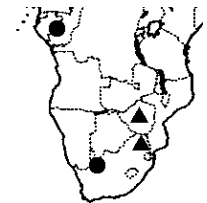
①	②
---	---

[解答]① 遊牧 ② 焼畑

[鉱業]

[問題]

右の略地図の▲はクロム，●はマンガンの産出地をそれぞれ示している。クロムやマンガン，他にもガリウムやコバルトなどの金属は，埋蔵量が非常に少なかったり，経済的・技術的に純粋なものを取り出すのが難しかったりするため，( X )といわれ，携帯電話などの最新の電子機器に多く使われるなど，近年重要性を増している。文中の X に適語を入れよ。



(福井県)

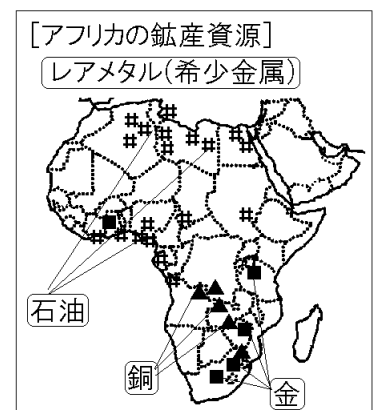
[解答欄]

[解答]レアメタル

[解説]

レアメタル(希少金属)は、埋蔵量が非常に少ない金属や、量はあっても経済的・技術的に純粋なものを取り出すのが難しい金属の総称である。携帯電話やコンピューター、自動車などの生産に欠かせない。

石油はギニア湾沿岸のナイジェリアや、北アフリカ諸国で産出される。金は南アフリカ共和国やガーナなどで産出される。このほか、銅、鉄鉱石、ダイヤモンドなども採掘されている。21世紀になり、アフリカ全体として見ると経済成長率が高くなっているが、これは豊かな鉱産資源を輸出できるからである。



※入試出題頻度：「レアメタル◎」「石油○」「金○」「銅△」「ダイヤモンド△」

[問題]

アフリカには、地下資源の豊富な国がある。例えば、ナイジェリアや北アフリカ諸国などでは、おもに右の略地図に▲で示した地点で( X )が多く産出され輸出されている。文中の X に適する地下資源名を次の [ ] から 1 つ 選べ。



[ 石炭 銅 金 石油 ]

(岐阜県)

[解答欄]

[解答]石油

[問題]

次の各問いに答えよ。

(1) 右の地図中の#，■，▲は、ある鉱産資源の産出地を示している。それぞれの資源名を、次の [ ] から選べ。

[ 金 銅 石油 ]

(2) アフリカや南アメリカで豊富な、コバルトなどの産出量の少ない金属を何というか。

(3) 21 世紀になり、アフリカ全体として見ると経済成長率が高くなっている。その理由を、「鉱産資源」の語句を使って書け。



(補充問題)

[解答欄]

(1)# :	■ :	▲ :	(2)
(3)			

[解答](1)# : 石油 ■ : 金 ▲ : 銅 (2) レアメタル(希少金属)

(3) 豊かな鉱産資源を輸出できるから。

【】モノカルチャー経済・フェアトレード

[モノカルチャー経済]

[問題]

アフリカの多くの国では、情報技術製品に不可欠なレアメタルなど特定の鉱産資源の産出や、特定の農産物の生産が行われ輸出されている。このような特定の鉱産資源や農産物の輸出にたよる経済は何と呼ばれているか。

(大阪府)

[解答欄]

[解答]モノカルチャー経済

[解説]

アフリカ諸国の多くは、少ない種類の  
のうさくもつ こうさんしげん ゆしゆつ  
 農作物や鉱産資源の輸出にたよっている。

このような経済をモノカルチャー経済と

いう。少ない種類の輸出品にたよっている場合、天候や景気による取引価格の変動の影響  
てんこう けいき とりひきかかく へんどう えいきやう  
 を強く受けるため、収入が安定しないという問題をかかえている。

※入試出題頻度：「モノカルチャー経済◎：少ない種類の農作物や鉱産資源の輸出に頼る経済◎」「天候や景気によって取引価格が変動しやすいことにより、収入が安定しない◎」

[モノカルチャー経済]  
 少ない種類の農作物や鉱産資源の輸出にたよる経済  
 天候や景気で価格変動→収入が安定しない

[問題]

表は、右の地図中のナイジェリア、ガーナのそれぞれの国における輸出総額に占める輸出額の割合が高い上位3品目の割合を示したものである。表の( )には同じ輸出品が当てはまる。①( )に当てはまる輸出品として正しいものを、下の[ ]から1つ選べ。②また、アフリカ州の多くの国々でみられる、特定の農産物や鉱産資源の生産と輸出にたよる経済を何というか、書け。



国名	ナイジェリア(2022年)	ガーナ(2022年)
輸出額上位3品目と輸出総額に占める割合(%)	( ) 78.7%	金 37.6%
	液化天然ガス 10.7	( ) 29.9
	化学肥料 3.0	カカオ豆 7.3

[ 綿花 コーヒー 原油 ダイヤモンド ]

(熊本県)

[解答欄]

①	②
---	---

[解答]① 原油 ② モノカルチャー経済

[解説]

(各国の輸出品)

コートジボワール(2022年):カカオ豆(19.6%),石油製品(12.9%),金(11.7%),天然ゴム(11.4%)

ガーナ(2022年):金(37.6%),石油(29.9%),カカオ豆(7.3%)

ナイジェリア(2022年):石油(78.7%),液化天然ガス(10.7%)

ザンビア(2022年):銅(69.5%),鉄鋼(2.9%)

ボツワナ(2022年):ダイヤモンド(86.9%)

ケニア(2022年):茶(18.8%),花(8.5%),野菜果実(8.2%)

南アフリカ共和国(2022年):白金(13.7%),石炭(11.0%),自動車(9.1%),機械類(7.0%),  
鉄鋼(5.5%),鉄鉱石(5.3%),野菜果実(4.4%),金(4.3%)

(統計修正)「世界国勢図会 2024/2025」P312~314, 327

[問題]

次は、アフリカ州の産業についてまとめたものである。文中の①~③に適語を入れよ。

アフリカ州では、19世紀末までに多くの地域がヨーロッパ諸国による植民地となり、(①)と呼ばれる大農園で作物が作られるようになった。多くの国は、特定の鉱産資源や農作物を輸出して成り立つ(②)経済の国となっている。コートジボワールでは、(③)が主要な輸出品目となっており、その生産量は、2022年現在で世界第1位となっている。(茨城県改)

[解答欄]

①	②	③
---	---	---

[解答]① プランテーション ② モノカルチャー ③ カカオ豆

(統計修正)「世界国勢図会 2024/2025」P224

[問題]

次の資料は、ガーナ、ナイジェリア、ザンビアの輸出品を表している。資料を参考にして、アフリカ州の多くの国で見られるモノカルチャー経済の特色を、「商品作物」「鉱産資源」の2語を用いて書け。

ガーナ(2022年):金(37.6%),石油(29.9%),カカオ豆(7.3%)

ナイジェリア(2022年):石油(78.7%),液化天然ガス(10.7%)

ザンビア(2022年):銅(69.5%),鉄鋼(2.9%)

(青森県改)

[解答欄]

--



[解答]わずかな種類の商品作物や鉱産資源の輸出によって成り立つ経済。

[問題]

次の文章中の①、②の( )内からそれぞれ適語を選べ。

アフリカ州には、モノカルチャー経済の国が多くみられる。これらの国のおもな輸出品は、国際価格の変動が①(大きい/小さい)ため、国の収入が②(安定しやすい/不安定になりやすい)傾向がある。

(福岡県)

[解答欄]

①	②
---	---

[解答]① 大きい ② 不安定になりやすい

[問題]

アフリカの多くの国の貿易は、輸出額の多くがわずかな種類の商品作物や鉱産資源で占められている。こうした商品作物や鉱産資源は、工業製品に比べ、( X )しやすいために、これらの輸出にたよる国では、毎年安定した収入を得ることが難しいという問題をかかえている。文中の X に適語を入れよ。

(大分県改)

[解答欄]

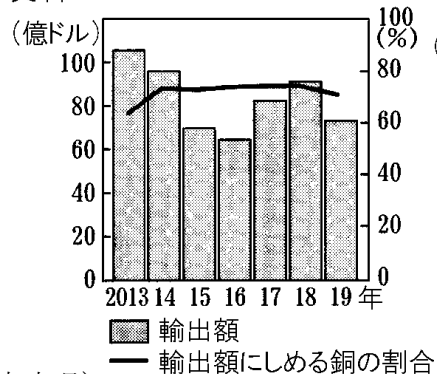
--

[解答]価格が変動

[問題]

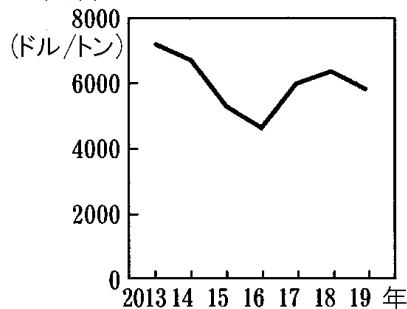
資料1は、ザンビアの輸出額と輸出額にしめる銅の割合の推移を、資料2は、銅の国際価格の推移を表している。資料1、資料2から読み取ることができるザンビアの経済の課題を、「国際価格」「収入」の2語を用いて書け。

資料1



(青森県)

資料2



[解答欄]

[解答]銅の輸出に頼っているため、国際価格の変動の影響を受けて、輸出によって得られる収入が安定しない。

[問題]

アフリカ州の多くの国で見られる、特定の農産物や鉱産資源の生産と輸出にたよった経済をモノカルチャー経済という。天候や世界経済の影響を受けることによって、これらの農産物や鉱産資源の( X )ことがモノカルチャー経済の国を悩ませている。文中の X にあてはまる内容を「価格」「収入」という語句を使って書け。

(佐賀県)

[解答欄]

[解答]価格が変動しやすいために収入が安定しない

[問題]

ある国がモノカルチャー経済かどうかを確かめるために必要な、その国に関する資料として最も適切なものを、次のア～エから1つ選び、記号で答えよ。

- ア 農業産出額と工業出荷額
- イ 輸入総額に占める輸入相手国の割合
- ウ 貿易額と経済成長率
- エ 輸出総額に占める輸出品目の割合

(山形県)

[解答欄]

[解答]エ

[解説]

少ない種類の商品作物や鉱産資源の輸出にたよっている経済をモノカルチャー経済という。

[フェアトレード]

[問題]

発展途上国でつくられた農作物や製品を、その労働に見合う公正な価格で取り引きをすることは( X )とよばれ、生産者の生活を支える取り組みとして注目されている。Xに入る語句をカタカナで書け。

(富山県)

[解答欄]

[解答]フェアトレード

[解説]

近年、<sup>はってんとじょうこく</sup>発展途上国でつくられた農産物などを<sup>てきせい</sup>適正な価格で<sup>とりひき</sup>取引するフェアトレードの考え方が重視されるようになっている

※入試出題頻度：「フェアトレード○」

[問題]

近年フェアトレードが世界で広がっている。フェアトレードの説明として、最も適当なものを次のア～エのうちから1つ選べ。

- ア パスポートなしで地域内を自由に移動でき、国境を越えて買い物や通勤をする人や旅行をする人が増えること。
- イ 発展途上国の農産物や製品を適正な価格で取引することにより、人々の自立を支えること。
- ウ 先端技術を研究する大学や研究機関、IT産業の企業が集まりソフトウェアの開発などで世界をリードしていること。
- エ インターネットを利用して、穀物の国際価格や気象などの情報を入手し、効率的な作付けや出荷を行うこと。

(沖縄県)

[解答欄]

[解答]イ

[問題]

次の文中の①～③の( )内からそれぞれ適語を選べ。

フェアトレードは、①(先進国／発展途上国)でつくられた農作物や製品を②(適正な／安い)価格で取り引きし、人々がそれを購入することで、③(生産者／消費者)の生活を支えようとする取り組みのことである。

(山梨県)

[解答欄]

①	②	③
---	---	---

[解答]① 発展途上国 ② 適正な ③ 生産者

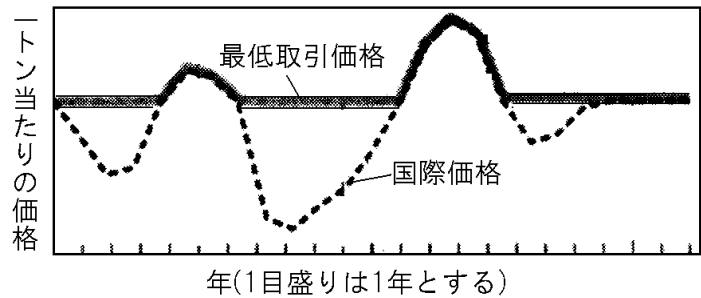
[問題]

コートジボワールなど、アフリカの多くの国の経済がかかえる課題とその対応に関する以下の問いに答えよ。

(1) 次の文中の X に入る語句を、カタカナで書け。

アフリカには、特定の農産物や鉱産資源の輸出に頼った( X )経済の国が多く、貿易相手国から、より安い価格で農産物などを売るように求められることがあり、生産者の利益が少なくなるという課題がある。

(2) 近年、(1)に示された課題への対応として、農産物などを、その労働に見合う価格で取り引きするフェアトレードの取り組みが広がっている。右の資料は、カカオ豆の取引にフェアトレードを導入した際の国際価格と最低



取引価格の関係をモデル化したものである。最低取引価格について、資料から読み取ることができるものとして適切なものを、あとのア～エから 2 つ選び記号を書け。

- ア 国際価格にかかわらず、一定に設定されている。
- イ 国際価格を下回らないように設定されている。
- ウ 過去 10 年の国際価格の平均値になっている。
- エ 国際価格が下落しても決められた価格以上を維持している。

(富山県)

[解答欄]

(1)	(2)
-----	-----

[解答](1) モノカルチャー (2) イ, エ

## 【】 課題と展望

### [問題]

資料のように、アフリカの都市部で見られる、水道や電気がなく、衛生状態のよくない狭い住宅が集まる地区を何というか。次の[ ]の中から選べ。

[ インフラ スラム ハバナ スラブ ]

(補充問題)

[解答欄]

[解答]スラム

[解説]

アフリカでも、中国やインド、東南アジアの国々と同じように、農村から都市への人口集中がおこっている。これは、農村に比べて、都市は仕事が多く、高い収入が得られるからで

ある。このような急激な都市化に対し、上下水道や電気などのインフラの整備が追いついていない。都市への移住者の多くは、賃金の安い単純労働の仕事をしており、スラムと呼ばれる劣悪な居住地区に住んでいる。

※入試出題頻度：この単元はときどき出題される。

[スラム]  
仕事を求めて農村から都市へ  
↓  
急激な都市化→スラム



[問題]

先進国の政府や政府機関は、発展途上国に対して資金協力や技術協力などの援助を行っている。このような援助の略称として、最も適切なものを、次の[ ]から1つ選べ。

[ EU ODA ASEAN NGO ]

(宮城県)

[解答欄]

[解答]ODA

[解説]

アフリカの課題を解決するためには生活環境の向上が欠かせない。そのために道路や水道などのインフラと呼ばれる社会設備を整備しようとしている。ただ、貧しい国が多いアフリカでは国がそれを成しとげるのが難しい。

そのため、先進国の政府や政府機関は、発展途上国に対して資金協力や技術協力などのODA(政府開発援助)を行っている。また、もうけや利益を目的としないNGO(非政府組織)からの援助も行われている。

[諸問題解決への取り組み]  
2002年、アフリカ連合(AU)を結成  
ODA, NGOの援助

アフリカ諸国は、共同で諸問題の解決に取り組むため、2002年にEUをモデルにしたアフリカ連合(AU)を結成した。

※入試出題頻度：「アフリカ連合(AU)△」「NGO△」「ODA△」

[問題]

政府だけでなく、日本の非政府組織もアフリカで技術指導などの支援をおこなっている。この非政府組織のアルファベットの略称を答えよ。

(補充問題)

[解答欄]

[解答]NGO

[問題]

アフリカの国々の課題に対しては、国際協力の取り組みが必要である。その取り組みとして最も適当なものを、次のアからエまでのの中から選んで、そのかな符号を書け。

- ア モノカルチャー経済をさらに後押しする。
- イ 経済発展のために砂漠を広げていく。
- ウ 不当な価格で継続的に取り引きするフェアトレードを広げる。
- エ ODAや非政府組織(NGO)を通して自立を支援する。

(補充問題)

[解答欄]

[解答]エ

[問題]

アフリカ諸国の自立のため、先進国が行う支援や開発援助として、正しいものを次のア～エから2つ選び、記号で答えよ。

- ア 道路・水道・電気などのインフラを整備する。
- イ 紛争地への軍事介入を積極的に行い、紛争を強制的にやめさせる。
- ウ 稲作技術などの伝承を行い、人材育成などを行う。
- エ 鉱産資源の輸出を行い、資源の輸出にたよって経済を活性化させる。

(補充問題)

[解答欄]

[解答]ア, ウ

[問題]

アフリカ州の国や地域が、紛争や貧困問題の解決策を協力して考えるために、2002年に発足させた地域機構を何というか。

(福島県)

[解答欄]

[解答]アフリカ連合(AU)

【】 オセアニア州

【】 地域・位置・気候

[オセアニア州]

[問題]

世界の地域は海や山脈などによって大きく 6 つの州に区分でき、オーストラリア大陸は、( X )州に属している。X に当てはまる語を書け。

(熊本県)

[解答欄]

[解答]オセアニア

[解説]

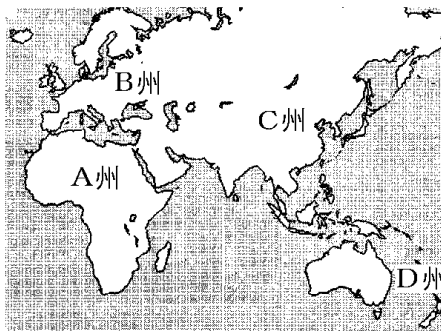
オセアニア州は、オーストラリア大陸と太平洋に広がる島々で構成されている。オセアニア州の人口は約 4600 万人(2023 年)で、6 つの州の中でもっとも少ない。

※入試出題頻度：「オセアニア州◎」「オーストラリア大陸○」

(統計出典)「日本国勢図会 2024/2025」 P15

[問題]

次の各問いに答えよ。



	人口 (百万人)	人口密度 (人/km <sup>2</sup> )
ア	4753	153
イ	1460	49
ウ	742	34
エ	46	5

(1) 地図の D 州の名称を書け。

(2) 表のア～エは、それぞれ地図の A 州～D 州のいずれかを示している。D 州を示すものを、1 つ選べ。

(秋田県)

[解答欄]

(1)	(2)
-----	-----

[解答](1) オセアニア州 (2) エ

[解説]

人口が 4600 万人のエがオセアニア州である。アは C のアジア州、イは A のアフリカ州、ウは B のヨーロッパ州である(2023 年)。



[問題]

右の略地図中の a の都市があるのは何大陸か。

(岩手県)

[解答欄]

[解答]オーストラリア大陸



[国名・地域名]

[問題]

次の各問いに答えよ。

- (1) 地図中の A の国名とその首都 a の名前を答えよ。
- (2) A の国で人口が最も多い c の都市の名前を答えよ。
- (3) 地図中の B の国名とその首都 b の名前を答えよ。
- (4) 地図中の C の国名を答えよ。

(補充問題)

[解答欄]

(1)A	a	(2)
(3)B	b	(4)

[解答](1)A オーストラリア a キャンベラ (2) シドニー (3)B ニュージーランド  
b ウェリントン (4) パプアニューギニア

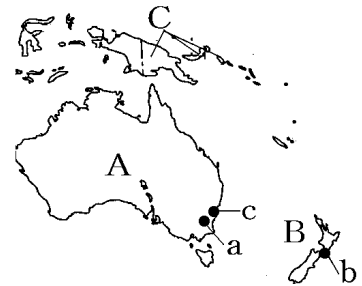
[解説]

オーストラリアの首都はキャンベラであるが、人口が最も多いのはシドニーである。

ニュージーランドの首都はウェリントンである。

そのほか、オセアニア州にある国としては、パプアニューギニアなどがある。

※入試出題頻度：「オーストラリア○」「キャンベラ△」「シドニー△」「ニュージーランド○」「ウェリントン△」「パプアニューギニア△」

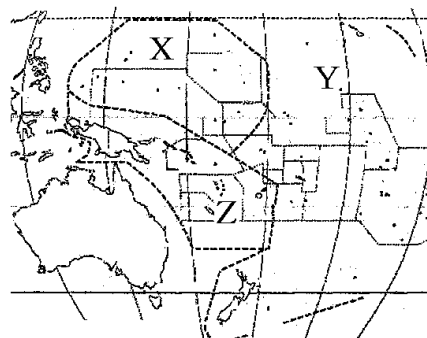


[問題]

右の地図の X~Z にあてはまる地域名を[ ]よりそれぞれ選べ。

[メラネシア ミクロネシア ポリネシア]

(補充問題)



[解答欄]

X	Y	Z
---	---	---

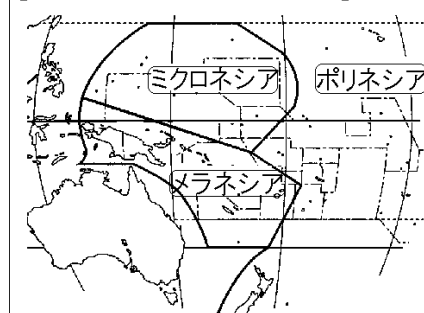
[解答]X ミクロネシア Y ポリネシア Z メラネシア

[解説]

オセアニア州は、オーストラリアと太平洋に広がる島々で構成されている。太平洋の島々がある地域は、メラネシア、ミクロネシア、ポリネシアに分けられる。

※入試出題頻度：「メラネシア△」「ミクロネシア△」「ポリネシア△」

[オセアニアの島々の地域名]



[赤道・東経 13 度]

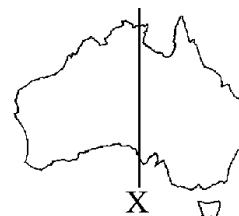
[問題]

経線 X は兵庫県を通る。X の経度にあたるものを次の[ ]から選べ。

[ 東経 120 度 東経 135 度 東経 150 度 ]

(兵庫県)

[解答欄]



[解答]東経 135 度

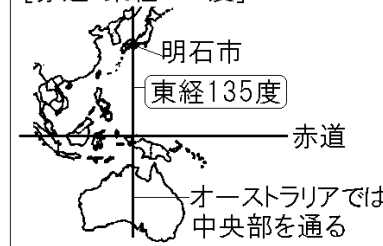
[解説]

オーストラリアは日本の真南に位置しており、経度はほぼ同じである。明石市を通る日本の標準時子午線(東経 135 度)は、オーストラリアの中央部を通る。

赤道は、右図のようにパプアニューギニア北部を通る。オーストラリアは太平洋とインド洋に面している。

※入試出題頻度：「東経 135 度(地図)○」「赤道(地図)△」

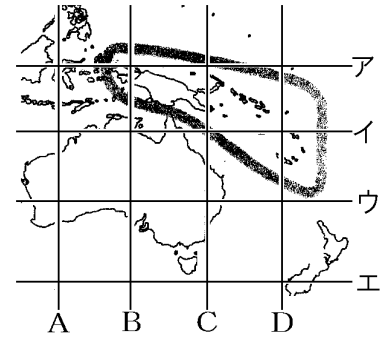
[赤道・東経 135 度]



[問題]

次の各問いに答えよ。

- (1) 赤道を示している緯線を地図中のア～エから選べ。  
 (2) 日本の標準時子午線の東経 135 度の経線を地図中の  
 A～D から選べ。



(兵庫県)

[解答欄]

(1)	(2)
-----	-----

[解答](1) ア (2) B

[問題]

右の略地図中にア～エで示した●のうち、赤道と日本標準時子午線の交点を、ア～エから 1 つ選べ。

(福岡県)

[解答欄]

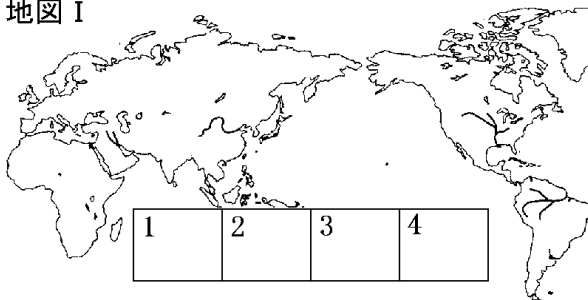
[解答]ア



[問題]

地図Ⅱは地図Ⅰの一部を切り取ったものである。この地図Ⅱがあてはまる場所としてふさわしいのは地図Ⅰの 1～4 に示したうちのどこか。

地図Ⅰ



地図Ⅱ



(神奈川県)

[解答欄]

[解答]2

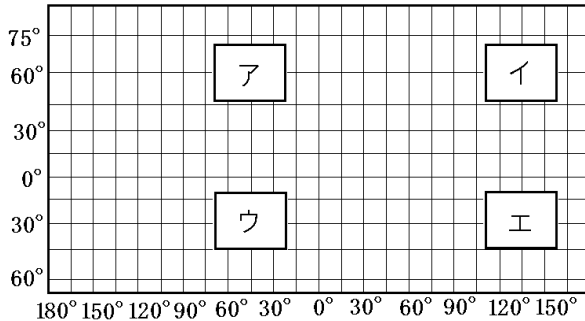
[解説]

日本の標準時子午線(兵庫県明石市を通る)である東経 135°の経線が国土の中央部を通過しているので、2 の位置にあると判断できる。



[問題]

下の図は、北を上にして表した世界地図中の、大陸などを消し、緯線と経線だけを残したものである。図中のア～エのうち、右の地図の大陸の位置として適当なものを1つ選び、その記号を書け。ただし、右の地図と下の図の縮尺は同一でない。



(愛媛県)

[解答欄]

[解答]エ

[解説]

オーストラリアは南半球にあり、東経 135° の経線が国土の中央部を通っているのので、エの位置にあると判断できる。

[問題]

ニュージーランドに関する説明として、最も適切なものを次のア～エから1つ選べ。

ア 南北に細長い国で、南の方が暖かく、北の方が寒い。

イ 南半球にある国で、首都のウェリントン地球上では東京のほぼ正反対にある地点(対せき点)にある。

ウ オーストラリア大陸の南東に位置する国で、島国(海洋国)である。

エ アルプス・ヒマラヤ造山帯に属する国で、地震の多い国である。

(富山県)

[解答欄]

[解答]ウ

[解説]

イ：ニュージーランドの首都はウェリントンであるのは正しいが、東京のほぼ正反対にある地点(対せき点)ではない。東京の対せき点は南アメリカのアルゼンチンの東側の大西洋上である。エ：ニュージーランドは環太平洋造山帯に属する国である。

[地形]

[問題]

次の各問いに答えよ。

- (1) 世界最大のサンゴ礁である右の略地図中の A を何というか。
- (2) 略地図中の B の山脈の名を答えよ。
- (3) 略地図中の C の地域に広がっている地形を、次から 1 つ選べ。



[ 森林 砂漠 湿地 山地 ]

(補充問題)

[解答欄]

(1)	(2)	
(3)		

[解答](1) グレートバリアリーフ (2) グレートディバイディング山脈 (3) 砂漠

[解説]

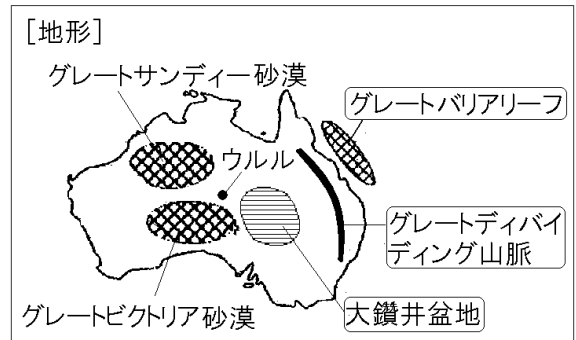
オーストラリアは国土の大部分が乾燥帯になっているため、乾燥大陸と呼ばれている。

グレートディバイディング山脈より西側には、大鑽井盆地(グレートアーテジアン盆地)、グレートビクトリア砂漠、グレートサンディー砂漠など、乾燥地帯が広がっており、人口密度は非常に低い。

北部とグレートディバイディング山脈より東

側は比較的に降水量が多く、人口は山脈の南東部に集中している。グレートバリアリーフは 2000km 以上も続く世界最大のサンゴ礁である。

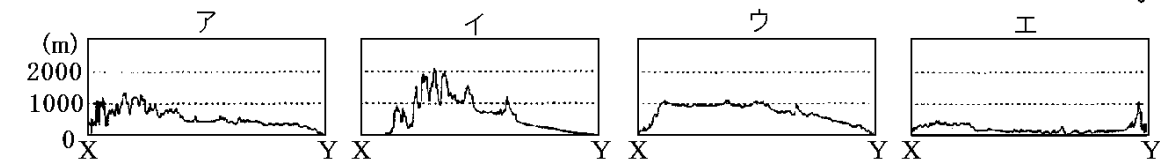
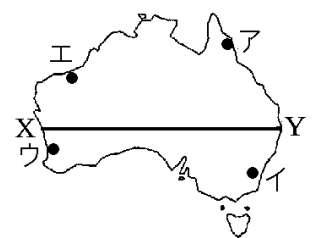
※入試出題頻度：この単元はときどき出題される。



[問題]

オーストラリアの都市や地形について、次の各問いに答えよ。

- (1) オーストラリアの首都であるキャンベラの位置を、図中のア～エから選べ。
- (2) 図中の X-Y の断面の模式図として最も適切なものを、次のア～エから選べ。



(群馬県)

[解答欄]

(1)	(2)
-----	-----

[解答](1) イ (2) エ

[解説]

オーストラリア東部にはグレートディバイディング山脈が南北に走っているため、断面図はエと判断できる。

[気候]

[問題]

図のア～ウは熱帯、温帯、乾燥帯のいずれかである。乾燥帯と熱帯にあたるものをア～ウからそれぞれ選び、記号で答えよ。

(群馬県改)

[解答欄]

乾燥帯：	熱帯：
------	-----

[解答]乾燥帯：イ 熱帯：ア

[解説]

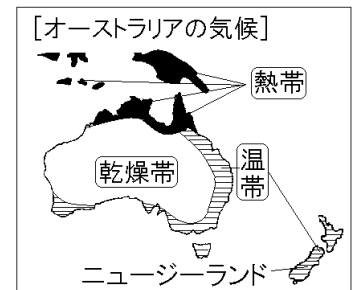
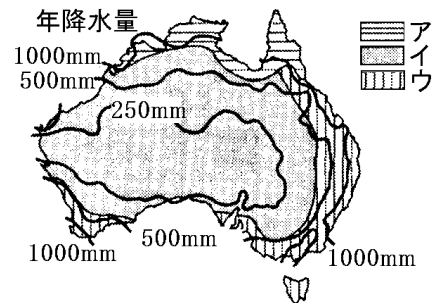
オーストラリア大陸は、年降水量500mm未満の乾燥帯が全体の3分の2を占めており、乾燥大陸と呼ばれている。特に、内陸では降水量が極めて少なく、乾燥した草原や砂漠が広がっているため、人口が非常に少ない地域となっている。

大陸の東部や南西部は、比較的降水量が多い温帯(温暖湿润気候や地中海性気候)の地域となっており、農業もさかんに行われている。そのため、人口の大部分はこうした緑豊かな地域

に集まっている。ニュージーランドは、温帯の西岸海洋性気候となっており、一年中適度な雨が降る。このため、牧草がよく育ち、羊や牛などの牧畜がさかんな国となっている。

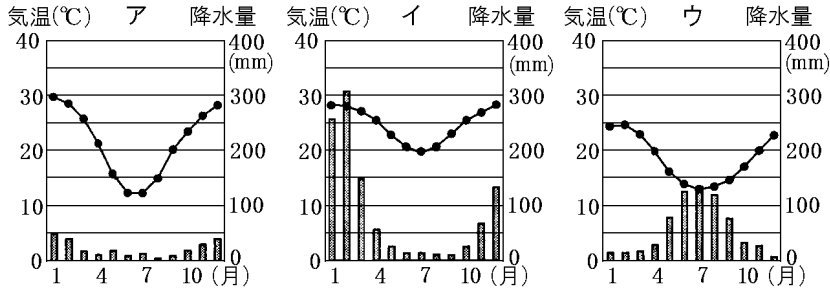
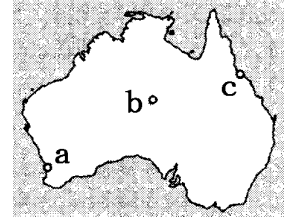
オーストラリア北部やパプアニューギニアは熱帯である。(南半球にあるオーストラリアでは、北に行くほど赤道に近づくことになり、気温が高くなる。)

※入試出題頻度：「大部分が乾燥帯○」「温帯○」「熱帯○」



[問題]

美樹さんは、オーストラリアの気候について調べた。略地図中の a, b, c の都市の雨温図を表したグラフとして適切なものを、次のア～ウからそれぞれ1つずつ選び、記号で答えよ。



(山形県)

[解答欄]

a :	b :	c :
-----	-----	-----

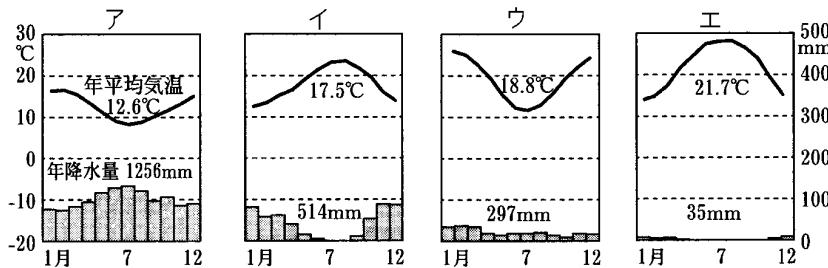
[解答] a : ウ b : ア c : イ

[解説]

a は温帯, b は乾燥帯, c は熱帯である。雨温図アは降水量が少ないので乾燥帯である。イは年中気温が高いため熱帯, ウは温帯である。

[問題]

次のア～エは、右の略地図中のラバト、カイロ、カルゲーリー、ウェリントンのいずれかの都市の雨温図を表している。ウェリントンの雨温図として適切なものを1つ選び、その記号を書け。



(青森県)

[解答欄]

[解答] ア

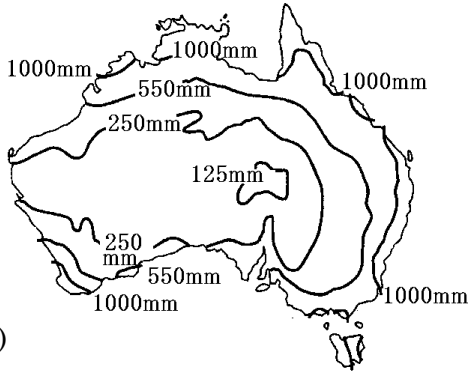
【解説】

北半球にあるラバトとカイロは7月が夏なので気温のグラフは凸型で、イかエである。ラバトは地中海性気候なのでイ、カイロは乾燥帯(砂漠気候)なのでエである。

南半球にあるカルグーリーとウェリントン7月が冬なので気温のグラフは凹型で、アかうである。カルグーリーは乾燥帯なのでウ、ウェリントンは温帯なのでアである。

【問題】

オーストラリアの年間降水量について、資料からいえる特色を書け。



(山形県)

【解答欄】

【解答】海岸部から内陸部に向かって降水量がしだいに少なくなる。

【問題】

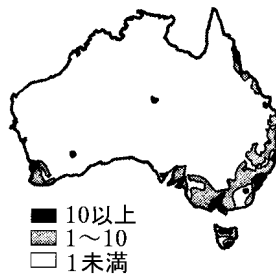
右の地図から読み取ることができるオーストラリア大陸の人口分布の特徴を、年間降水量と関連づけて次のように考えた。文中のXにあてはまる内容を書け。

オーストラリア大陸では、( X )。ただし、北部については、その関連は説明できない。

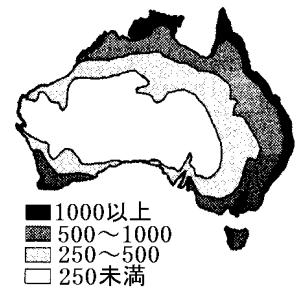
(鳥取県)

【解答欄】

人口密度(人/km<sup>2</sup>)



年間降水量(mm)



【解答】人口は比較的降水量の多い東部と南西部の海岸部に集中している。

【解説】

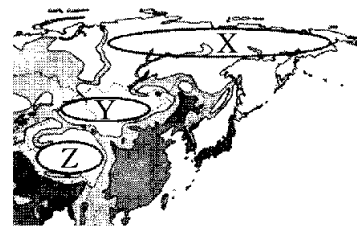
人口は東部の温帯(温暖湿潤気候と西岸海洋性気候)の地域と南西部の温帯(地中海性気候)の地域に集中している。



[問題]

太郎さんは、世界の人口分布について調べ、人口密度に違いがあることを知った。①オーストラリアの人口密度が1人/km<sup>2</sup>未満の地域の大部分にみられる気候帯を書け。

②また、その気候帯と同じ気候帯にある地域を、右の資料のX～Zから1つ選んで、その記号を書け。



(福井県)

[解答欄]

①	②
---	---

[解答]① 乾燥帯 ② Y

[解説]

オーストラリア大陸は「乾燥大陸」と呼ばれ、国土の半分以上(約57%)は乾燥帯である。この乾燥帯は人口密度が1人/km<sup>2</sup>未満の地域になっている。地図のX～Zのうち、乾燥帯であるのはY(モンゴル高原)である。

[問題]

次の表は、世界の陸地を6つの大陸に分けた場合の各大陸の面積にしめる熱帯、乾燥帯、温帯、亜寒帯、寒帯の面積の割合を示したものである。オーストラリア大陸にあてはまるものを、表のア～カから1つ選べ。

(世界の六大陸の面積にしめる5つの気候帯の面積の割合(単位：％))

	熱帯	乾燥帯	温帯	亜寒帯	寒帯
ア	5.2	14.4	13.5	43.4	23.5
イ	7.4	26.1	17.5	39.2	9.8
ウ	63.4	14.0	21.0	—	1.6
エ	38.6	46.7	14.7	—	—
オ	16.9	57.2	25.9	—	—
カ	—	—	—	—	100.0

(鳥取県)

[解答欄]

[解答]オ

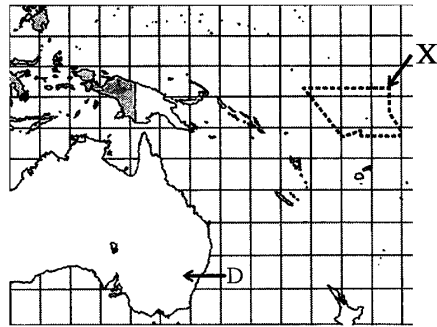
[解説]

乾燥帯の割合が大きいエとオは、オーストラリア大陸か、サハラ砂漠などが広がるアフリカ大陸である。アフリカ大陸の中央部には赤道が走っているため、アフリカ大陸は熱帯の割合も大きい。したがって、エがアフリカ大陸、オがオーストラリア大陸と判断できる。

[サンゴ礁の島・火山島]

[問題]

次の写真は、Xの点線で領域が示された国の様子を示したものである。この国について述べた文として最も適するものを、次のア～エから1つ選べ。



- ア 国土がサンゴ礁でできているため標高が低く平たんで、波による海岸の侵食が進んでいる。
- イ フィヨルドとよばれる地形がみられ削られた谷に海水が深く入り込んでいる。
- ウ 夏に永久凍土が解けることで、建物が傾くなどの問題がおこっている。
- エ 梅雨による大雨の影響で、土砂くずれによる被害がもたらされることがある。

(神奈川県)

[解答欄]

[解答]ア

[解説]

オセアニアの島々には、サモアやハワイ諸島のような海底からふき出した火山が海面に山頂部分を出している火山島と、サンゴ礁が堆積してできた島がある。サンゴ



[オセアニアの島々]

- ・火山島
- ・サンゴ礁の島：標高が低い  
地球温暖化→海水面の上昇  
→水没の危機

礁でできた島国であるツバルでは、標高が低いため、地球温暖化の影響で海水面が上昇して、島が水没する危機にある。(写真は、それまで陸地だったところに、満潮時に海水が入り込んでいるようすを表している。)

※入試出題頻度：「火山島△」「サンゴ礁の島△：ツバルでは地球温暖化が進み海面が上昇→水没する危機△」

[問題]

次の文章中の①，②に適語を入れよ。

オセアニアの島々は、海底からふき出した( ① )が海面に山頂部分を出しているサモアやハワイ諸島のような(①)島と、ツバルなど( ② )が堆積してできた島がある。(②)でできた島々は、標高が低いため地球温暖化によって影響で海水面が上昇して、島が水没する危機にある。

(補充問題)

[解答欄]

①	②
---	---

[解答]① 火山 ② サンゴ礁

【】 歴史など

[先住民]

[問題]

右の資料は、オーストラリアの硬貨である。この硬貨に描かれているオーストラリアの先住民を何というか。

(青森県)

[解答欄]



[解答]アボリジニ

[解説]

オーストラリアの先住民はアボリジニである。大陸のほぼ中央にある世界で2番目に大きい一枚岩のウルル(エアーズロック)(右下の図)はアボリジニの聖地になっている。アボリジニは、文字を持たず、絵や音楽を通して文化を伝えてきた。ニュージーランドの先住民はマオリである。上の図は出陣前におどるハカという勇壮なおどりである。




[先住民]  
オーストラリア: アボリジニ  
ウルル(エアーズロック)  
ニュージーランド: マオリ  
ハカという勇壮なおどり



※入試出題頻度: 「アボリジニ○: ウルル(エアーズロック)△」「マオリ○: ハカ△」

[問題]

右の資料は、世界最大級の一枚岩で、世界遺産に登録されている。この岩は、周辺に住む先住民の聖地といわれている。この世界遺産がある国と先住民の組み合わせとして正しいものを、次のア～エから1つ選び、記号で答えよ。



- ア カナダ—イヌイット
- イ カナダ—アボリジニ
- ウ オーストラリア—イヌイット
- エ オーストラリア—アボリジニ

(山口県)

[解答欄]

[解答]エ

[問題]

次の文章中の①，②に適語を入れよ。

オーストラリアの先住民は( ① )である。大陸のほぼ中央にある世界で 2 番目に大きい一枚岩のウルル(エアーズロック)は(①)の聖地になっている。ニュージーランドの先住民は( ② )で、出陣前におどるハカという勇壮なおどりで有名である。

(補充問題)

[解答欄]

①	②
---	---

[解答]① アボリジニ ② マオリ

[植民地時代]

[問題]

右の地図は、ある大陸を描いたものである。地図の大陸をかつて植民地にして支配した国として適当なものを、次の[ ]から 1 つ選べ。

[ ポルトガル スペイン イギリス フランス ]



(愛媛県)

[解答欄]

[解答]イギリス

[解説]

18 世紀にイギリス人が移住<sup>いじゅう</sup>してきて、オーストラリアやニュージーランドなどのオセアニアの<sup>しよくみんち</sup>一帯を植民地とした。これらの国の<sup>こっき</sup>国旗にイギリスの国旗が<sup>えが</sup>描かれているのは、それらの国がイギリスの植民地だったなごりである。また、オーストラリアの主要な言語が英語であることやキリスト教徒が多いのも同じ理由からである。

[植民地]  
かつてイギリスの植民地  
↓  
・国旗にイギリス国旗  
・英語が主要な言語  
・キリスト教徒が多い



オーストラリア



ニュージーランド



ツバル



フィジー

※入試出題頻度：「かつてイギリスの植民地○→イギリスの国旗が描かれている△，英語が主要な言語△，キリスト教徒が多い△」

[問題]

右の資料は、現在のオーストラリアの国旗と 1965 年  
まで使用されていたカナダの国旗である。資料からわか  
る、両国に共通する関係の深い国の名称を書け。



(1965年まで使用)

(群馬県)

[解答欄]

[解答]イギリス

[問題]

次の文は、1955 年にイギリスがオーストラリア最大の輸出相手国  
であった理由の 1 つについて述べている。X に入る適切な語を、右  
の資料を参考にして答えよ。

オーストラリア国旗



オーストラリアは、かつてイギリスの( X )であったため、  
イギリスとの結びつきが強かったから。

(山口県)

[解答欄]

[解答]植民地

[問題]

右の資料 1 は、オーストラリアの国旗を示したもの、資料 2 は、イギ  
リスの国旗を示したものである。資料 1 に示したように、オーストラ  
リアの国旗にイギリスの国旗が入っているのは、かつて、オーストラ  
リアとイギリスがどのような関係にあったからか。

資料1



資料2



(三重県)

[解答欄]

[解答]かつてオーストラリアがイギリスの植民地であったから。

[問題]

次の文を読んで、後の各問いに答えよ。

- ・オーストラリアは、ニュージーランドやフィジーなどとともに( ① )州を構成する国の1つである。
- ・ニュージーランドの山は、日本の山と同様に、新しい造山帯の1つである( ② )造山帯に属し、高くけわしい山が多い。
- ・オーストラリアの先住民は( ③ )と呼ばれている。



(1) ①, ②にあてはまることばを、それぞれ書け。

(2) ③にあてはまることばを、次の[ ]から1つ選べ。

[ マオリ アボリジニ メスチソ イヌイット ]

(3) オーストラリアとフィジーの国旗をみて、次の文の( )にあてはまる国名を書け。

国旗のデザインから、両国は、ヨーロッパ州にある( )との関係が深いことがわかる。

[オーストラリアの国旗]



[フィジーの国旗]



(岐阜県)

[解答欄]

(1)①	②	(2)	(3)
------	---	-----	-----

[解答](1)① オセアニア ② 環太平洋 (2) アボリジニ (3) イギリス

[問題]

右の資料は、ニュージーランドの国旗であり、次の文は、ニュージーランドにおける移民の歴史と多文化に配慮した取り組みについて述べたものの一部である。正しい文になるように、文中の①には国名を、②には先住民の名称をそれぞれ書け。



資料からわかるように、ニュージーランドは( ① )の植民地だった。そのため、おもに(①)からの移民によって国づくりが進められたが、英語と共に、( ② )とよばれる先住民の言語が公用語とされるなど、多文化に配慮した取り組みが進められている。

(徳島県)

[解答欄]

①	②
---	---

[解答]① イギリス ② マオリ

[白豪主義→多文化社会]

[問題]

オーストラリアでは、1970年代まで、ヨーロッパ系以外からの移民を厳しく制限する( X )と呼ばれる政策が行われていた。文中の X に適語を入れよ。

(群馬県)

[解答欄]

--

[解答]白豪主義

[解説]

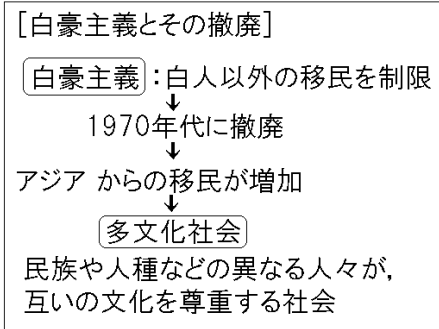
オーストラリアには、18世紀後半にイギリス人が入植し、イギリスの植民地となった。19世紀後半からは中国系の移民が増加し、イギリス系の移民との間で対立が生じた。そのため、20世紀に入ってまもなく移民制限法を制定し、白人以外の移民を制限する政策をとった。このような白人優先の政策を白豪主義という。

しかし、アジアとの結びつきが強まったため、1970年代

に白豪主義を撤廃して白人以外の移民を受け入れるようになり、その結果、アジアからの移民が増加している。現在のオーストラリアは、民族や人種などの異なる人々が、互いの文化を尊重する社会を築こうとしている。このような社会を多文化社会という。こうした中で、1993年には先住民であるアボリジニの先住権が認められ、もともと住んでいた土地の所有権も認められた。

※入試出題頻度：「白豪主義○」「アジアからの移民が増加△」「多文化社会○」

「民族や人種などの異なる人々が、互いの文化を尊重する社会△」



[問題]

次の文章中の①、②の( )内からそれぞれ適語を選べ。

オーストラリアでは、1970年代以降、①(白豪主義／地域主義)と呼ばれる政策をやめ、近年では、インドやフィリピン、ベトナムなどアジアからの移民が増えたことにより、多文化主義の社会(多文化社会)を築くことが進められている。移民だけでなく、②(マオリ／アボリジニ)を中心とする先住民の伝統を守ることにもつながり、「多様な人々に開かれた社会」になっている。

(茨城県)

[解答欄]

①	②
---	---

[解答]① 白豪主義 ② アボリジニ



[問題]

オーストラリアは、( )ことで、さまざまな文化を互いに尊重する多文化社会へと変化していった。次のア～エのうち、文中の( )に入る内容として最も適しているものはどれか。1つ選び、記号で答えよ。

- ア 16世紀にポルトガルやスペインからの移民が進出し、先住民族がつくったインカ帝国が滅び、20世紀になると日本などアジア諸国からの移民が増加した
- イ 17世紀にイギリスからの移民によって最初の植民地がつくられ、その後大西洋岸の13の植民地が独立し、20世紀後半からメキシコやカリブ海諸国からの移民が増加した
- ウ 20世紀初めからとられていた白豪主義と呼ばれる移民政策が、20世紀後半に廃止されアジア諸国からの移民が増加した
- エ 20世紀後半以降、植民地として支配していた北アフリカ諸国からの移民や外国人労働者が増加した

(大阪府)

[解答欄]

[解答]ウ

[問題]

次の資料は、オーストラリアとカナダ両国の社会の特色をまとめたものである。資料からわかる、両国がめざしている社会を何というか。

- ・両国では、それぞれ先住民など200以上の民族が生活しており、テレビやラジオが多くの言語で放送されている。
- ・オーストラリアでは、同じ学校で、さまざまな民族の子どもたちが学び、お互いに受け入れる態度を養うことを教育方針としている。
- ・カナダでは、法律によって、人種や民族の違いに関係なく、社会への平等な参加を推進している。

(群馬県)

[解答欄]

[解答]多文化社会

[問題]

次の説明文は、右の地図の X 国のことを説明したものである。



①、②の( )内からそれぞれ適語を選べ。

X 国には、かつて先住民の①(アボリジニ／イヌイット)などが住んでいたが、18 世紀後半ごろから移住したイギリス系の人々を中心とした国づくりが行われた。1970 年代以降は、アジアなどから移民を受け入れている。現在は、多様な民族が共存しており、さまざまな文化を互いに尊重する②(循環型社会／多文化社会)を築こうとしている。

(佐賀県)

[解答欄]

①	②
---	---

[解答]① アボリジニ ② 多文化社会

[問題]

次の文章は、オーストラリアについて説明したものである。①～③の( )内より適する語をそれぞれ選べ。

降水量がきわめて少ない草原や砂漠地域が内陸部に広がっているオーストラリアは、先住民である①(イヌイット／アボリジニ)などの人々が住んでいたが、18 世紀末にイギリスからの移住が始まり、植民地化された。現在は、ヨーロッパに次いで②(アフリカ／アジア)からの移民が多い。こうした中で、この国は、さまざまな文化をたがいに尊重しあう③(情報社会／多文化社会)を築こうとしている。

(福井県)

[解答欄]

①	②	③
---	---	---

[解答]① アボリジニ ② アジア ③ 多文化社会

[問題]

和男さんは、オーストラリアの多文化社会を次のようにまとめた。X に当てはまる適切な言葉を、「文化」という語を使って、5 字以上 10 字以内で書け。

現在、オーストラリアでは、先住民とともに、さまざまな地域からの移民が暮らしており、人々が共存し、それぞれの( X )ことで多文化社会を築いている。

(長野県)

[解答欄]

--

[解答]文化を尊重する

[問題]

オーストラリアは、多文化社会をめざしている。多文化社会とはどのような社会か、説明せよ。

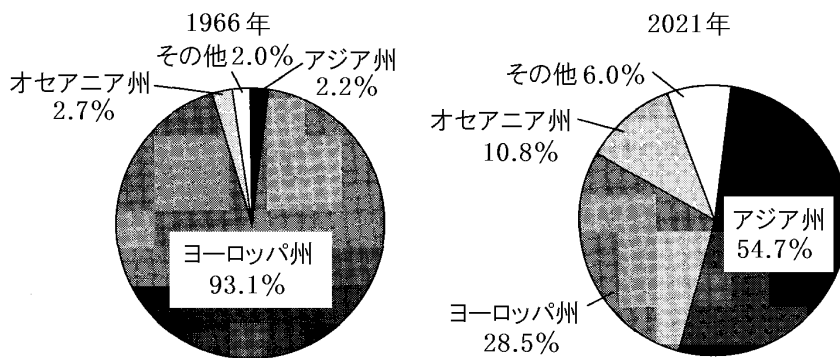
(青森県)

[解答欄]

[解答]民族や人種などの異なる人々が、互いの文化を尊重する社会。

[問題]

オーストラリアについて、次の図は 1966 年と 2021 年のオーストラリアに暮らす移民の出身州の傾向を示したものである。図から読み取れることを、「白豪主義」という語を用いて説明せよ。



(山口県)

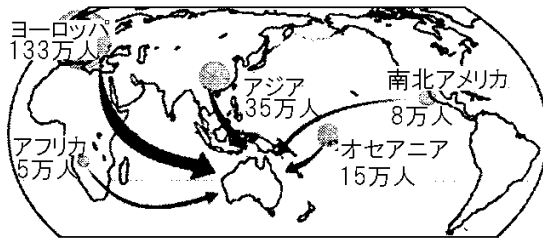
[解答欄]

[解答]白豪主義が実施されていた 1966 年は、ヨーロッパ州からの移民の割合が大きかったが、白豪主義が廃止された後の 2021 年は、アジア州などからの移民の割合が大きくなっている。

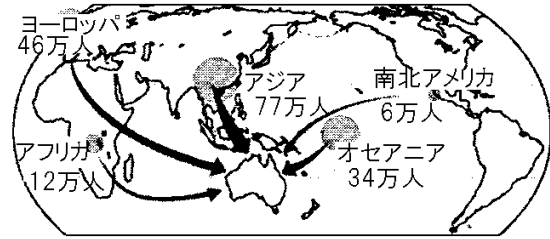
[問題]

次の各問いに答えよ。

資料1 1965年～1984年



資料2 1985年～2004年



- (1) オーストラリアへの移住者の出身地域について、資料1と資料2を比較して読み取れる主な変化の特徴を書け。
- (2) オーストラリアは多文化社会をめざしている。多文化社会とはどのような社会かを書け。ただし、文化ということばを使うこと。

(鹿児島県)

[解答欄]

(1)

(2)

[解答](1) ヨーロッパからの移住者が減少し、アジアなどからの移住者が増加した。

(2) 民族や人種などの異なる人々が、互いの文化を尊重する社会。

【】 農牧業

[農牧業]

[問題]

地図中の X の国は、衣服の原料となる( )の世界第 2 位の生産国であり、世界最大の輸出国である。( )に適語を入れよ。



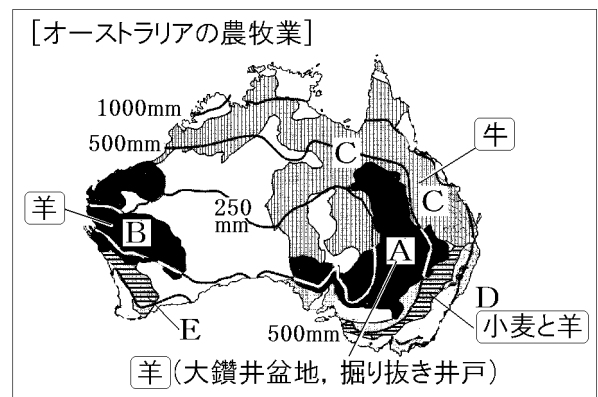
(栃木県)

[解答欄]

[解答]羊毛

[解説]

オーストラリアでは、小麦の栽培のほかに、牛(牛肉用)と羊(羊毛用)の飼育がさかんである。右図の A と B の地域では羊が飼育されている。羊は乾燥に強いので、乾燥した地域でも飼育することができる。大鑽井盆地では掘り抜き井戸をつかって水をくみ上げて、羊の飲み水として利用している。やや降水量の多い C の地域では牛の放牧が行われている。また、D と E の地域では小麦の栽培と羊の放牧が行われている。



ニュージーランドでも羊の飼育がさかんで、オーストラリアとともに羊毛の生産が多い。なお、羊毛の生産が世界 1 位なのは中国である。

※入試出題頻度：「羊・牛・小麦の分布図○」

[問題]

オーストラリアでは、内陸の乾燥地域において、ある家畜の飼育がさかんである。その家畜を、次のア～エの中から 1 つ選び、記号を書け。



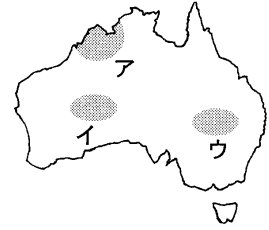
(佐賀県)

[解答欄]

[解答]ウ

[問題]

ある家畜が大規模に飼育されている地域を図中のア～ウから選んで、①その符号を書け。また、②この地域の牧畜業について気候との関係にふれながら説明せよ。



(兵庫県)

[解答欄]

①	②
---	---

[解答]① ウ ② 乾燥に強い羊の放牧が行われている。

[問題]

右の略地図中の■は、ある農作物のおもな栽培地域を示している。この農作物を次の[ ]から1つ選べ。

[ 小麦 大豆 綿花 とうもろこし ]

(山口県改)



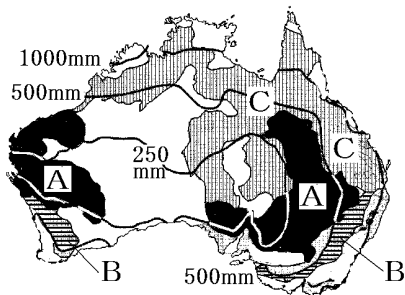
[解答欄]

[解答]小麦

[問題]

下の地図中におけるオーストラリアの農業地域A, B, Cは、それぞれ次の[ ]中のどれか。

[ 牛 羊 酪農 小麦と羊 ]



(補充問題)

[解答欄]

A	B	C
---	---	---

[解答]A 羊 B 小麦と羊 C 牛

[問題]

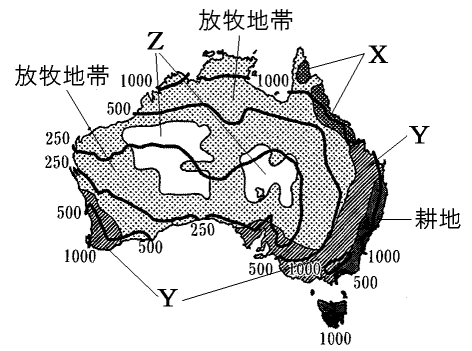
右の図は、オーストラリアの農業地域と年間降水量線(等降水量線)を示したものである。X, Y, Zに当たる農業地域として最も適当なものを、次の

[ ]からそれぞれ選べ。

[ 荒地・砂漠 森林地帯 小麦や牧羊地帯 ]

(熊本県)

[解答欄]



X	Y	Z
---	---	---

[解答]X 森林地帯 Y 小麦や牧羊地帯 Z 荒地・砂漠

## 【】 鉱業

### 【問題】

右図はオーストラリアの鉱山の写真である。この鉱山では、鉄鉱石を直接地表から削り取る方法で採掘が行われている。このような採掘方法を何というか。



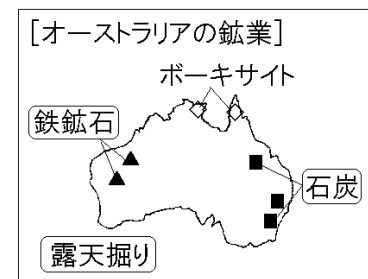
(山口県)

### 【解答欄】

【解答】露天掘り

### 【解説】

石炭は東部にあるグレートディバイディング山脈の東側で多く産出する。鉄鉱石は西部で多く産出する。これらの鉱山や炭鉱では、地面を直接けずっていく露天掘りという方法で、大規模で効率のよい採掘が行われている。



鉄鉱石と石炭は産出量、輸出量ともに世界有数で、日本への輸出も多い。

その他に、ボーキサイト(アルミニウムの原料)、金、銅、石油、天然ガスなども産出する。

内陸部で採掘された石油や天然ガスはパイプラインで港へ運ばれる。

※入試出題頻度：「分布図(鉄鉱石・石炭)○」「露天掘り○」

### 【問題】

右図のX付近で主に産出される資源は、日本へも輸出されている。日本は、この資源の輸入の5割以上をオーストラリアに依存している。この資源を次の[ ]から選べ。

[ ずず鉱 銅鉱 鉄鉱石 ]

(兵庫県)

### 【解答欄】

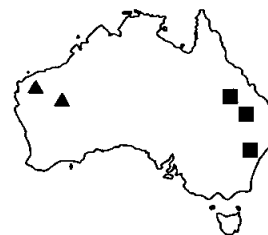
【解答】鉄鉱石





[問題]

右図は、オーストラリアで産出する資源の産地を示したものである。図中の■、▲で表示された資源は何か。次の[ ]からそれぞれ選べ。



[ ボーキサイト 石油 鉄鉱石 石炭 ]

(沖縄県)

[解答欄]

■ :	▲ :
-----	-----

[解答] ■ : 石炭 ▲ : 鉄鉱石

[問題]

わが国における、天然ガスの最大の輸入相手国はオーストラリアである。次の文は、オーストラリアの鉱産資源について述べたものである。次の文中の①、②の( )内からそれぞれ適語を選べ。

オーストラリアは鉱産資源にめぐまれており、オーストラリアの東部ではおもに①(石炭／ダイヤモンド)が、北西部ではおもに②(鉄鉱石／ボーキサイト)が採掘されている。

(大阪府)


[解答欄]

①	②
---	---

[解答] ① 石炭 ② 鉄鉱石

[問題]

次の A, B は日本の鉱産資源の輸入先を示している。それぞれ何という鉱産資源を示しているか。



(富山県改)

[解答欄]

A	B
---	---

[解答] A 鉄鉱石 B 石炭

(統計修正)「日本国勢図会 2024/2025」 P274

[問題]

略地図の X の国とわが国との関係について述べた次の文の①、②のそれぞれにあてはまることばを、( )内から選べ。



X の国は、わが国の主要な貿易相手国であり、例えば、X の国は、わが国が輸入する①(石油／石炭)の輸入先の第1位となっているなど、わが国にとって資源の重要な輸入先となっている。このほかに、②(機械類／食料品)についても、X の国からの輸入額が多く、わが国と X の国との経済的な結びつきは、近年さらに強まっている。

(北海道)

[解答欄]

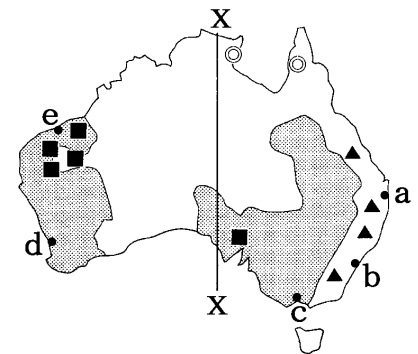
①	②
---	---

[解答]① 石炭 ② 食料品

[問題]

右の地図を見て、各問いに答えよ。

- (1) 地図中の経線 X は、日本では明石市を通り、日本の標準時子午線となっている。経線 X は東経何度か。
- (2) 地図中の は、ある家畜が飼育されている地域を表している。その家畜名を書け。
- (3) 地図中の ▲ ◎ ■ は、それぞれある鉱産資源のおもな産地を表している。▲ ◎ ■ の鉱産資源名をそれぞれ次の [ ] から選べ。



[ 石炭 鉄鉱石 ボーキサイト ]

- (4) オーストラリア最大の都市シドニーは、地図中の a～e のどの位置か。

(鳥取県)

[解答欄]

(1)	(2)	(3)▲ :	◎ :
■ :	(4)		

[解答](1) 東経 135 度 (2) 羊 (3)▲ : 石炭 ◎ : ボーキサイト ■ : 鉄鉱石 (4) b

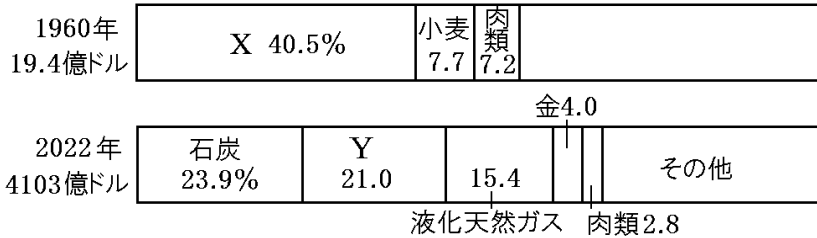
【】 貿易の変化

[輸出品目の変化]

[問題]

次のグラフ中の X, Y にあてはまる貿易品を答えよ。

オーストラリアの輸出品目



(静岡県)

[解答欄]

X	Y
---	---

[解答] X 羊毛 Y 鉄鉱石

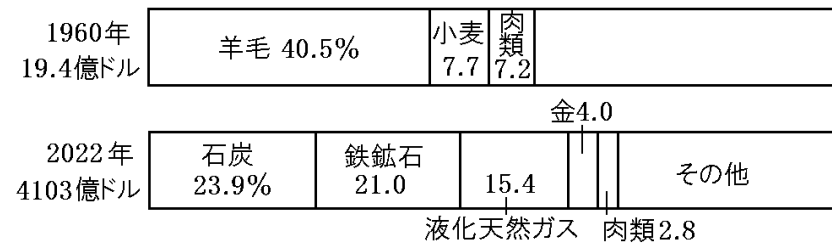
[解説]

オーストラリアの輸出品は大きく変わった。1960年には輸出品の約4割を羊毛がしめていたが、現在では鉄鉱石、石炭、液化天然ガスなどの鉱産資源が中心になっている。

輸入品は、1960年当時も現在も機械類がもっとも多い。

[オーストラリアの輸出]  
1960年:羊毛が4割  
現在:鉄鉱石, 石炭

オーストラリアの輸出品目



(統計修正) 「世界国勢図会 2024/2025」 P326

※入試出題頻度: 「輸出品の変化: 羊毛→鉄鉱石や石炭などの鉱産資源○」

[問題]

次の文章中の①~③に適語を入れよ。

オーストラリアの輸出品については、1960年は約4割を占める( ① )が中心であったが、近年は( ② )や石炭、液化天然ガスなどの鉱産資源が中心になってきている。おもな輸入品は大きな変化はなく( ③ )である。

(補充問題)

[解答欄]

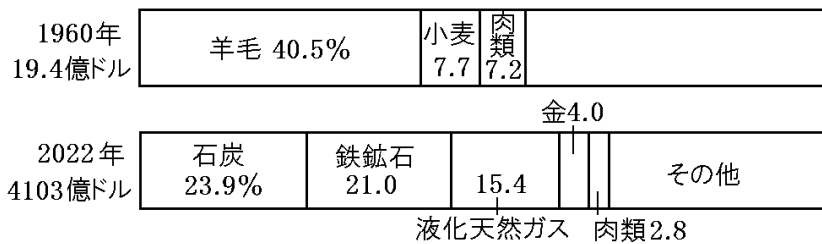
①	②	③
---	---	---

[解答]① 羊毛 ② 鉄鉱石 ③ 機械類

[問題]

次の資料は、オーストラリアの輸出品目について、1960年と2019年を比較して示したものである。1960年と2019年を比較して分かる、オーストラリアの輸出品目の変化について、簡潔に書け。

オーストラリアの輸出品目



(群馬県)

[解答欄]

[解答]かつては農産物中心であったが、現在では鉱産資源が中心になっている。

[貿易相手国の変化]

[問題]

オーストラリアに関して述べた次の文の①，②にあてはまる国名をそれぞれ答えよ。

1960年代の中ごろまで、オーストラリアの最大の輸出相手国は、かつてこの国を植民地としていた( ① )であった。現在では、( ② )が最大の輸出相手国となっている。

(補充問題)

[解答欄]

①	②
---	---


[解答]① イギリス ② 中国

[解説]

オーストラリアはかつてイギリスの植民地しよくみんちであったため、1960年代の中ごろまでは、イギリスが最大の輸出相手国ゆしゅつあいてこくであった。近年、貿易相手国は、欧米中心からアジアの国々へ変化した。現在では、中国が最大の輸出相手国となっている。

[オーストラリアの輸出相手国]  
かつて:イギリスなど欧米の国  
現在:中国などアジア州の国

オーストラリアの輸出相手国



(統計出典)「世界国勢図会 2024/2025」 P301

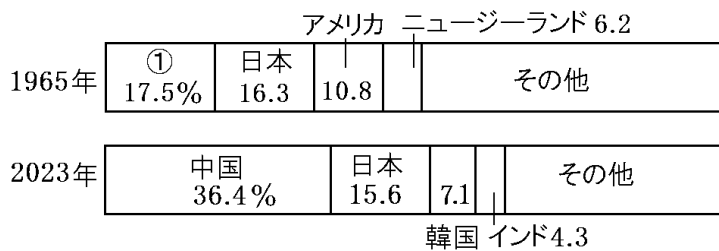
※入試出題頻度(貿易相手国の変化):「ヨーロッパ州(イギリス)→アジア州(中国)○」

[問題]

国旗のデザインにも表現されているように、オーストラリアは、歴史的に(①)との結びつきが強かった。しかし、図に示されるように、貿易では1965年と2022年の輸出を比べると、(①)にかわり(②)。



オーストラリアの輸出相手国



- (1) ①にはいる国名を書け。  
 (2) ②にあてはまる文を、図を参考にして書け。

(群馬県)

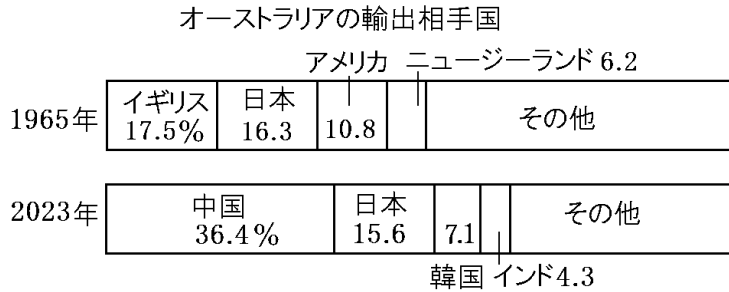
[解答欄]

(1)
(2)

[解答](1) イギリス (2) アジアの国々との結びつきが強くなっている

[問題]

次のグラフは、オーストラリアの1965年と2023年の輸出先の上位国とその割合をあらわしている。グラフを参考にして、オーストラリアの輸出先の上位国とその割合の変化について、「アジア」という語句を用いて、「かつてオーストラリアを植民地としていた」の書き出しに続けて書け。



(福島県)

[解答欄]

[解答]かつてオーストラリアを植民地としていたイギリスの割合が減り、中国などアジアの国の割合が増えた。

[問題]

日本やオーストラリアなどの太平洋の国々は、アジア太平洋経済協力会議に参加している。アジア太平洋経済協力会議のアルファベットの略称を答えよ。

(補充問題)

[解答欄]

[解答]APEC

## 【FdData 入試版のご案内】

詳細は、[\[FdData 入試ホームページ\]](#)に掲載 ([Shift]+左クリック→新規ウィンドウ)

姉妹品：[\[FdData 中間期末ホームページ\]](#) ([Shift]+左クリック→新規ウィンドウ)

### ◆印刷・編集

この PDF ファイルは、FdData 入試を PDF 形式に変換したサンプルで、印刷はできないように設定しております。製品版の FdData 入試は Windows パソコン用のマイクロソフト Word(Office)の文書ファイルで、印刷・編集を自由に行うことができます。

### ◆FdData 入試の特徴

FdData 入試は、公立高校入試問題の全傾向を網羅することを基本方針に編集したワープロデータ(Word 文書)です。入試理科・入試社会ともに、過去に出題された公立高校入試の問題をいったんばらばらに分解して、細かい單元ごとに再編集して作成しております。

### ◆サンプル版と製品版の違い

ホームページ上に掲載しておりますサンプルは、製品の Word 文書を PDF ファイルに変換したもので印刷や編集はできませんが、製品の全内容を掲載しており、どなたでも自由に閲覧できます。問題を「目で解く」だけでもある程度の効果をあげることができます。

しかし、FdData 入試がその本来の力を発揮するのは印刷や編集ができる製品版においてです。また、製品版は、すぐ印刷して使える「問題解答分離形式」、編集に適した「問題解答一体形式」、暗記分野で効果を発揮する「一問一答形式」の 3 形式を含んでいますので、目的に応じて活用することができます。

※[FdData 入試の特徴\(QandA 方式\)](#) ([Shift]+左クリック→新規ウィンドウ)

### ◆FdData 入試製品版(Word 版)の価格(消費税込み)

※以下のリンクは[Shift]キーをおしながら左クリックすると、新規ウィンドウが開きます

[社会地理](#)、[社会歴史](#)、[社会公民](#)：各 6,800 円(統合版は 16,200 円) ([Shift]+左クリック)

[理科 1 年](#)、[理科 2 年](#)、[理科 3 年](#)：各 6,800 円(統合版は 16,200 円) ([Shift]+左クリック)

※Windows パソコンにマイクロソフト Word がインストールされていることが必要です。(Mac の場合はお電話でお問い合わせください)。

◆ご注文は、メール([info2@fdtext.com](mailto:info2@fdtext.com))、または電話(092-811-0960)で承っております。

※[注文→インストール→編集・印刷の流れ](#) ([Shift]+左クリック)

※[注文メール記入例](#) ([Shift]+左クリック)

【Fd 教材開発】 Mail : [info2@fdtext.com](mailto:info2@fdtext.com) Tel : 092-811-0960