

【FdData 中間期末：中学社会公民：選挙・政党】

[\[政治と民主主義／選挙の基本原則／日本の選挙制度／当選者数の計算／政党の役割／マスメディアと世論／選挙の課題と政治参加／総合問題／FdData 中間期末製品版のご案内\]](#)

[\[FdData 中間期末ホームページ\]](#) 掲載の pdf ファイル(サンプル)一覧

※次のリンクは[Shift]キーをおしながら左クリックすると、新規ウィンドウが開きます

社会：[\[社会地理\]](#)，[\[社会歴史\]](#)，[\[社会公民\]](#)

理科：[\[理科 1 年\]](#)，[\[理科 2 年\]](#)，[\[理科 3 年\]](#)

数学：[\[数学 1 年\]](#)，[\[数学 2 年\]](#)，[\[数学 3 年\]](#)

※全内容を掲載しておりますが、印刷はできないように設定しております

【】政治と民主主義

[民主主義とは]

[問題](2 学期期末改)

対立や争いを解消するために決まりを定め解決に導くことを、広い意味で政治と呼んでいる。みんなで話し合い、決定する政治のやり方を(X)主義という。(X)主義の政治を行うためには、国民が政治のあり方を最終的に決定する国民主権が必要である。また、(X)主義は個人の尊重を基本としている。リンカンの「人民の、人民による、人民のための政治」という言葉は(X)主義の原理を端的に表現している。文中の X にあてはまる語句を答えよ。

[解答欄]

[解答]民主

[解説]

社会生活を営む上で多くの問題が生じ、対立や争いが起こることがある。このような対立や争いを^{かいしょう}解消するために決まりを定め、解決に導くことを、広い意味で^{せいじ}政治と呼んでいる。政治には、一人または少数の指導者がすべてを決定する^{どくさい}独裁政治もあるが、こうした指導者が良い政治を行うとは限らない。そこで、みんなで話し合い、決定する

[民主主義]
対立や争い→政治
民主主義の政治の前提は、
国民主権と個人の尊重

という方法が、今日多くの国で採られている。これが^{みんしゆしゆぎ}民主主義である。民主主義の政治(民主政治)を行うためには、国民が政治のあり方を最終的に決定する国民主権が必要である。また、民主主義は個人の^{そんちよう}尊重を基本としている。リンカンの「人民の、人民による、人民のための政治」という言葉は民主主義の原理を^{たんでき}端的に表現している。

※出題頻度：「政治△」「民主主義△」「国民主権△」「個人の尊重△」「リンカン△」

「人民の、人民による、人民のための政治△」

(頻度記号：◎(特に出題頻度が高い)、○(出題頻度が高い)、△(ときどき出題される))

[問題](1 学期期末)

次の文を読み、各問いに答えよ。

社会生活を営む上で多くの問題が生じ、対立や争いが起こることがある。このような対立や争いを解消するために決まりを定め解決に導くことを、広い意味で(A)と呼んでいる。(A)には、a 一人または少数の指導者がすべてを決定するやり方もあるが、みんなで話し合い決定するというやり方もあり、この考え方を(B)主義という。(B)主義は一人ひとりを尊重する(C)を基本としている。

- (1) 文中の A~C にあてはまる語句を書け。
- (2) 下線部 a のような政治のやり方を何というか。
- (3) 国民が政治のあり方を最終的に決定する権利を持っていることを何というか。

[解答欄]

(1)A	B	C	(2)
(3)			

[解答](1)A 政治 B 民主 C 個人の尊重 (2) 独裁政治 (3) 国民主権

[問題](前期期末)

「人民の、人民による、人民のための政治」を行うべきだと演説したアメリカ合衆国 16 代大統領の名前を書け。

[解答欄]

[解答]リンカン

[問題](前期期末)

民主主義の原理を端的に表現したとされるのリンカンの言葉を答えよ。

[解答欄]

[解答]人民の、人民による、人民のための政治

[直接民主制と間接民主制]

[問題](前期期末改)

住民全員が話し合いに参加する、スイスの一部の州などで伝統的に行われている政治のやり方を直接民主制という。これに対し、多くの国では、代表者を選挙で選び、代表者が議会で話し合っ^て決めるという政治のやり方を採用している。この政治のやり方を何というか。

[解答欄]

--

[解答]間接民主制(議会制民主主義)

[解説]

民主政治には、住民全員が直接話し合いに参加する直接民主制と、代表者を選挙で選び、その代表者が議会で話し合う間接民主制(議会制民主主義)の2つがある。

スイスの一部の州では、人々が集まって討議し、挙手でものごとを決める直接民主制をとっているところがある。

直接民主制は、人口がよほど少ない場合は可能であるが、普通の場合は、多くの人々が一か所に集まって話し合うことは困難であり現実的ではない。

通常、選挙を通じて選ばれた代表者が議会で話し合っ^て決める間接民主制(議会制民主主義)によって政治が行われている。

※出題頻度：「直接民主制○」「間接民主制(議会制民主主義)◎」

[民主主義による政治]

- ・直接民主制
- ・間接民主制(議会制民主主義)
代表者を選挙で選ぶ→議会

[問題](2学期中間)

政治を行うしくみについて、次の①、②のやり方を何というか。

- ① 住民全員が直接話し合いに参加するやり方。
- ② 代表者を選挙で選び、代表者が議会で話し合っ^て決めるやり方。

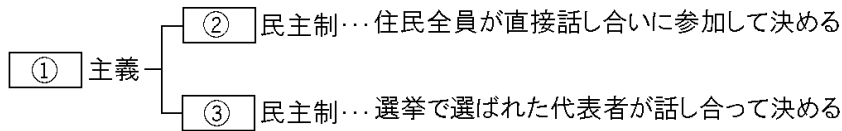
[解答欄]

①	②
---	---

[解答]① 直接民主制 ② 間接民主制(議会制民主主義)

[問題](前期期末)

次の図の①～③にあてはまる語句を書け。



[解答欄]

①	②	③
---	---	---

[解答]① 民主 ② 直接 ③ 間接

[問題](2学期中間)

次の文章中の①～⑤に適語を入れよ。

住民全員が話し合いに参加するやり方で、スイスの一部の州などで伝統的に行われている政治のやり方を(①)民主制という。これに対し、多くの国では、代表者を(②)で選び、代表者が(③)の場で話し合って決めるという政治のやり方を採用している。このような政治を(④)民主制、または(⑤)制民主主義という。わが国の政治も、このやり方で行われている。

[解答欄]

①	②	③	④
⑤			

[解答]① 直接 ② 選挙 ③ 議会 ④ 間接 ⑤ 議会

[問題](後期中間)

次の文の①, ②にあてはまるものを下のア～エからそれぞれ選べ。

社会が大規模になり、人々の願いや利害がさまざまに分かれていると、(①)を政治のすべてにおいて行うことはできない。そこで、(②)が必要になる。

ア 選挙で自分たちの意思を代表する人を選び、法律を定める力をゆだねる間接民主制

イ 憲法に従って君主が統治権を行使する立憲君主制

ウ 内閣が国会に連帯して責任を負う議院内閣制

エ 国民の意思を直接政治に反映させる直接民主制

[解答欄]

①	②
---	---

[解答]① エ ② ア

[多数決と少数意見の尊重]

[問題](前期期末改)

民主政治において、話し合っても意見が一致しないときは、多数の意見に従うことが一般的である。これを(X)の原理という。その場合、反対の意見を持つ人も多数の意見に従うことになるため、結論を出す前に少数意見も十分に聞いて、できるだけ尊重することが必要である。これを少数意見の尊重という。文中の X に適語を入れよ。

[解答欄]

--

[解答]多数決

[解説]

話し合っても意見が一致しないときは、多数の意見に従うことが一般的である。これを^{たすうけつ げんり}多数決の原理という。その場合、反対の意見を持つ人も多数の意見に従うことになるため、結論を出す前に^{しょうすういけん}少数意見も十分に聞いて、できるだけ^{そんちよう}尊重することが必要である。これを^{しょうすういけん}少数意見の尊重という。
※出題頻度：「多数決の原理○」「少数意見の尊重○」

多数決の原理
少数意見の尊重

[問題](1 学期期末)

議会制民主主義の場合、①話し合いで意見が一致しないときは、どのような方法で決定を行うか。漢字 3 字で答えよ。②また、そのときに気をつけなければならないのは、何を尊重することか。漢字 4 字で答えよ。

[解答欄]

①	②
---	---

[解答]① 多数決 ② 少数意見

[民主主義と政治全般]

[問題](2 学期中間)

次の文章中の①～⑤に適語を入れよ。

民主主義には、住民が直接話し合いに参加する(①)制と、選挙によって代表者を選びその代表者が議会で話し合っ決めて(②)制がある。(②)制は(③)民主主義ともいう。話し合っても意見が一致しない場合は、(④)の原理を用いることが一般的であるが、結論を出す前に(⑤)意見も十分に聞いて、できるだけ尊重することが必要である。

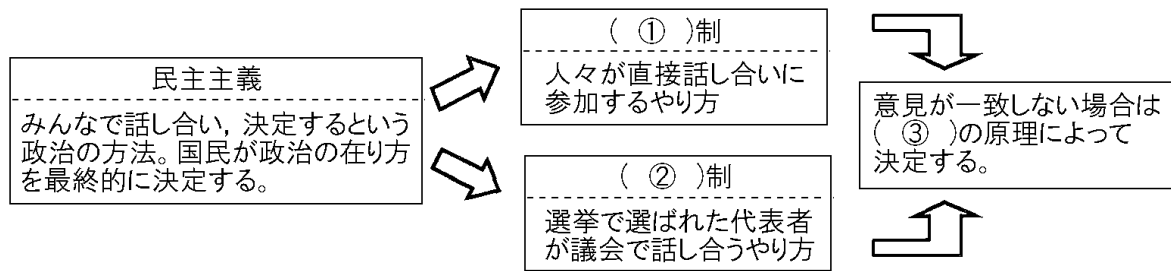
[解答欄]

①	②	③	④
⑤			

[解答]① 直接民主 ② 間接民主 ③ 議会制 ④ 多数決 ⑤ 少数

[問題](後期中間)

次の図を見て、後の各問いに答えよ。



(1) 図中の①～③に当てはまる語句を、それぞれ漢字で答えよ。

(2) 図中③の原理に従って結論を出す場合、どのような配慮が必要となるか。簡単に述べよ。

[解答欄]

(1)①	②	③
(2)		

[解答](1)① 直接民主 ② 間接民主 ③ 多数決 (2) 少数意見を尊重すること

[問題](2 学期期末)

選挙と政治について、各問いに答えよ。

わたしたちが生活する社会には、景気対策や医療・年金改革、雇用対策などの多くの課題がある。このような問題を解決に導くことを(①)とよんでいる。(①)を行う上で、みんなで話し合い決定するやり方を(②)主義という。(②)主義は、一人ひとりを尊重することを基本にしている。多くの国では代表者を選挙で選び、代表者が議会で話し合って決めている。

(1) 文中①, ②にあてはまる語句を答えよ。

(2) 文中下線部のやり方を何というか。

(3) 話し合いをしても意見が一致しない場合は、一般的にはどのような原理に従って決定するか。

(4) (3)の場合、少数意見はどのようにしたらよいか。次のア～エより 1つ選べ。

ア 少数意見は少数の意見であるから、多数の意見に従い、少数意見は無視した方がよい。

イ 少数意見は少数の意見ではあるが、結論を出す前に少数の意見も十分聞いてできるだけ尊重した方がよい。

ウ 少数意見は少数の意見ではあるが、貴重な意見なので少数の意見に従った方がよい。

エ 少数意見は少数の意見であるから、多数の意見に従い、少数意見は結論を出してから十分聞いた方がよい。

[解答欄]

(1)①	②	(2)	(3)
(4)			

[解答](1)① 政治 ② 民主 (2) 間接民主制(議会制民主主義) (3) 多数決の原理 (4) イ

[問題](1 学期期末)

次の資料をみて、後の各問いに答えよ。

ある西部の集会で数人の役人が人ごみをおしわけて演壇に近づこうとしていた。彼らは、「そこをどけ、われわれは人民の代表だぞ」とどなった。ところがすかさず群衆の中から返答があった。「てめえたちこそどけ！おれたちが人民だぞ！」

(「アメリカ人民の歴史」(上)岩波新書)

- (1) この資料では、国の政治の主人公は誰だと言っているのか。文中の語句から抜き出せ。
- (2) この集会に集まった人たちが、自分たち自身でじかに物事を決めて政治を行えば、そのやり方を何民主制というか。
- (3) 人々が選挙で代表者を選び、その人たちに自分たちのための政治をすすめてもらえば、何民主制というか。
- (4) 多数の意見に従うという原理を何の原理というか。

[解答欄]

(1)	(2)	(3)	(4)
-----	-----	-----	-----

[解答](1) 人民 (2) 直接民主制 (3) 間接民主制 (4) 多数決の原理

【】 選挙

【】 選挙の基本原則

[普通選挙]

[問題](2 学期中間改)

一定の年齢以上のすべての国民が選挙権を得るという原則を(X)選挙という。日本における選挙権は、「直接国税 15 円以上を納める 25 歳以上の男子」(1889 年)→「25 歳以上のすべての男子」(1925 年)と選挙資格が制限されていたが、戦後、「20 歳以上のすべての男女」となって(X)選挙が実現した。さらに、2015 年に公職選挙法が改正されて、選挙権は、18 歳以上に引き下げられた。文中の X に適語を入れよ。

[解答欄]

[解答]普通

[解説]

一定の年齢以上の全ての国民が選挙権を得るとい
う原則を 普通選挙 という。

明治時代に帝国議会が開設されたときの衆議院議員の選挙権は、直接国税 15 円以上を納める 25 歳以上の男子に限られており、総人口のわずか 1.1% にすぎなかった。1925 年に普通選挙法が成立し、25 歳以上のすべての男子に選挙権が与えら

れた。しかし、この普通選挙法は男子についてのみの普通選挙であり、女性には選挙権は認められていなかった。第二次世界大戦後、日本国憲法の成立によって、20 歳以上のすべての男女に選挙権が与えられた。これによって、ほんとうの普通選挙が実現した。2015 年に公職選挙法が改正されて、選挙権は、18 歳以上に引き下げられた。

※出題頻度：「普通選挙○」

[普通選挙]

一定の年齢以上の全ての国民に選挙権

1889年:直接国税15円以上を納める
25歳以上の男子のみ

1925年:25歳以上のすべての男子

1945年:20歳以上のすべての男女

2015年:18歳以上に引き下げ

[問題](1 学期期末)

次の文章中の①、②に適語を入れよ。

国民が政治に参加する重要な機会が選挙である。選挙権は憲法で保障されており、国会議員の選挙などでは、投票できるのは満(①)歳以上のすべての国民とされている。それ以外の制限はないため、誰にでも選挙権が与えられている。このような選挙の原則を(②)選挙という。

[解答欄]

①	②
---	---

[解答]① 18 ② 普通

[問題](2 学期中間)

普通選挙とは、どのような原則か。説明せよ。

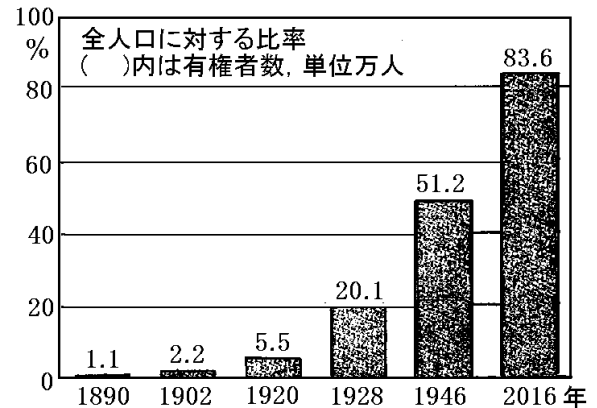
[解答欄]

[解答]一定の年齢以上のすべての国民が選挙権を得るという原則。

[問題](前期期末)

右の資料で、①1928年、②1946年に有権者数が大幅に増加している理由を、次のア～エからそれぞれ1つずつ選び記号で答えよ。

- ア 女性に選挙権が認められた。
- イ 財産などによる制限が撤廃された。
- ウ 投票終了時刻が延長された。
- エ 年齢による制限が撤廃された。



[解答欄]

①	②
---	---

[解答]① イ ② ア

[解説]

1925年に普通選挙法が成立して、^{のうぜいがく}納税額の制限がなくなり25歳以上のすべての男子に選挙権が与えられることになったので、1928年の有権者数が増加した。さらに、1945年に20歳以上のすべての男女に選挙権が与えられ、婦人参政権が認められた。1946年に有権者の数が大きく増加したのはそのためである。

[問題](前期期末)

1925年の普通選挙法で定められた選挙権の条件と、戦後に定められた条件で、変わった点を説明せよ。

[解答欄]

[解答]1925年は、25歳以上の男子が条件であったが、戦後は20歳以上の男女となった。

[選挙の4つの基本原則]

[問題](2学期中間)

選挙に関し、次の①、②の原則を何というか。下の[]からそれぞれ選べ。

- ① 「無記名で投票する」という原則。
- ② 「一人一票で投票の価値は同じである」という原則。

[普通選挙 平等選挙 秘密選挙 直接選挙]

[解答欄]

①	②
---	---

[解答]① 秘密選挙 ② 平等選挙

[解説]

現在の選挙の4つの基本原則は、普通選挙、平等選挙、秘密選挙、直接選挙である。

無記名で投票を行う選挙を秘密選挙という。もし、投票用紙に自分の名前を書かなければならないとしたら、どうなるだろうか。例えば、会社の上司から会社が推薦するA候補に投票するように言わ

れていた場合、記名投票(公開選挙)であったら、後から誰に投票したかわかるので、不利益を受けることをおそれて、しぶしぶこれに従わざるを得なくなるであろう。記名投票の場合、自分の自由な意志で投票を行うことができなくなるおそれがある。無記名で投票を行う秘密選挙が原則とされるのはそのためである。

一人一票の投票権が与えられている選挙を平等選挙という。

議員などを直接選ぶ選挙を直接選挙という。民主主義国家では、直接選挙が一般的であるが、アメリカ大統領選挙のように、まずそれぞれの地域で選挙人を選び、その選挙人による選挙で大統領を選ぶ間接選挙が行われている国もある。

※出題頻度：「普通選挙○」「平等選挙○」「秘密選挙◎」「直接選挙○」

[選挙の4つの原則]
<ul style="list-style-type: none"> ・ <u>普通選挙</u>：一定年齢以上の国民に選挙権 ・ <u>平等選挙</u>：一人一票 ・ <u>秘密選挙</u>：無記名投票 ・ <u>直接選挙</u>

[問題](2学期中間)

次の文章中の①～④に適語を入れよ。

日本の選挙では、満 18 歳以上の誰にでも選挙権が与えられる(①)選挙、一人一票の(②)選挙、議員を直接選出する(③)選挙、無記名で投票する(④)選挙の4つが基本原則である。

[解答欄]

①	②	③	④
---	---	---	---

[解答]① 普通 ② 平等 ③ 直接 ④ 秘密

[問題](2 学期中間)

次の選挙の原則をそれぞれ何というか。

- ① 一人につき、一票の投票権を持つ。
- ② 無記名で投票を行う。
- ③ 一定の年齢に達していれば、誰にでも選挙権が与えられる。
- ④ 議員を直接選挙する。

[解答欄]

①	②	③	④
---	---	---	---

[解答]① 平等選挙 ② 秘密選挙 ③ 普通選挙 ④ 直接選挙

[問題](前期期末)

次の各問いに答えよ。

- (1) 秘密選挙とは何か。簡潔に説明せよ。
- (2) 平等選挙とは何か。簡潔に説明せよ。

[解答欄]

(1)	(2)
-----	-----

[解答](1) 無記名で投票を行う選挙 (2) 一人一票の選挙

[問題](前期期末)

次の文章中の①～⑨に適する語句を下の[]からそれぞれ選べ。

わが国では、民主主義の政治が行われている。民主主義の政治には、全員が決定に参加する(①)と代表者による政治、いわゆる(②)があり、わが国では(②)がとられている。このため、国民にとって第一の政治参加となるのが(③)である。現在は、満(④)歳になれば、だれでも(③)権が与えられる(⑤)が行われているが、かつては、一定額以上の納税者に(③)権が与えられる(⑥)が行われていた。また、現在の選挙については(⑤)に加え、一人一票の(⑦), 無記名で投票を行う(⑧), 議員を直接選ぶ(⑨)の4原則で行われている。

[制限選挙 普通選挙 秘密選挙 間接選挙 直接選挙 公開選挙 平等選挙

直接民主制 間接民主制 18 20 選挙 25 30]

[解答欄]

①	②	③	④
⑤	⑥	⑦	⑧
⑨			

【解答】① 直接民主制 ② 間接民主制 ③ 選挙 ④ 18 ⑤ 普通選挙 ⑥ 制限選挙
⑦ 平等選挙 ⑧ 秘密選挙 ⑨ 直接選挙

【】日本の選挙制度

[選挙区制の種類]

[問題](前期期末)

次の文の①，②に適語を入れよ。

今日の選挙は、大きく分けると、1つの選挙区から1名を選出する(①)制、1つの選挙区から2人以上を選ぶ大選挙区制、政党の名前を書いて投票を行い政党の得票率に応じて議席を配分する(②)制がある。

[解答欄]

①	②
---	---

[解答]① 小選挙区 ② 比例代表

[解説]

今日、世界各国で行われている選挙は、1選挙区から1名を選ぶ小選挙区制と、政党に投票して、政党の得票率に応じて議席を配分する比例代表制が中心である。そのほかに 1選挙区から2名以上を選ぶ大選挙区制もある。

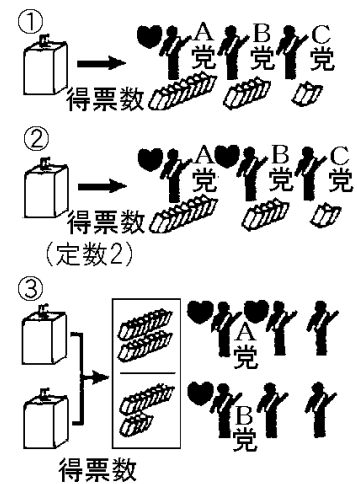
[選挙区制の種類]
小選挙区制と大選挙区制
比例代表制

※出題頻度：「小選挙区制○」「比例代表制○」

[問題](1学期期末)

次の①～③の各文は、右の選挙制度の図について述べたものである。この①～③の選挙制度をそれぞれ何というか。

- ① 1つの選挙区から最も多くの票を獲得した1人を代表者として選出する選挙制度。
- ② 1つの選挙区から2人以上を得票の多い順に代表者として選出する選挙制度。
- ③ 政党に投票して、政党の得票率に応じて議席を配分する選挙制度。



[解答欄]

①	②	③
---	---	---

[解答]① 小選挙区制 ② 大選挙区制 ③ 比例代表制

[問題](2 学期中間)

比例代表制とはどのような制度か。「政党」「議席」の 2 つの語句を使って説明せよ。

[解答欄]

[解答]政党に投票して、政党の得票率に応じて議席を配分する制度。

[問題](2 学期期末)

選挙制度には、①小選挙区制、②大選挙区制、③比例代表制の 3 つがある。それぞれの選挙制度を簡単に説明せよ。

[解答欄]

①
②
③

[解答]① 1 つの選挙区から 1 人を選出する制度。 ② 1 つの選挙区から 2 人以上を選出する制度。 ③ 政党に投票して、政党の得票率に応じて議席を配分する制度。

[衆議院と参議院の選挙区]

[問題](前期期末)

衆議院議員の選挙は、小選挙区制と、全国を 11 のブロックに分けて行う比例代表制とを組み合わせた選挙制度が採られている。この選挙制度を合わせて何と呼んでいるか。

[解答欄]

[解答]小選挙区比例代表並立制

[解説]

衆議院	<small>しょうせんきょくせい</small> <u>小選挙区制</u>	定数 289
	<small>ひれいだいひょうせい</small> <u>比例代表制</u>	定数 176, 11 ブロック
参議院	選挙区制	定数 147, 47 選挙区(都道府県ごとの選挙区)
	比例代表制	定数 98, 全国を 1 ブロック

衆議院の選挙区を、小選挙区比例代表並立制という。

※出題頻度：「小選挙区制○」「比例代表制○」「小選挙区比例代表並立制◎」

[問題](1 学期期末)

次の文を読み、後の各問いに答えよ。

現在、衆議院議員の選挙では、1つの選挙区から1人の代表を選ぶ(①)制と、政党の得票率に応じて議席を配分する(②)制の2つの選挙制度を組み合わせた制度がとられている。

(1) 上の文中の①, ②に適語を入れよ。

(2) 現在の衆議院議員の選挙でとられている選挙制度を合わせて何と呼んでいるか。

[解答欄]

(1)①	②	(2)
------	---	-----

[解答](1)① 小選挙区 ② 比例代表 (2) 小選挙区比例代表並立制

[問題](2 学期中間)

次の文の①～④に適語を入れよ。

衆議院議員選挙の選挙制度は、(①)制(定数 289)と(②)制(定数 176)を組み合わせたものである。また、参議院議員選挙では、都道府県を選挙区とする(③)制(定数 147)と、全国を1つの単位とした(④)制(定数 98)で行われている。

[解答欄]

①	②	③	④
---	---	---	---

[解答]① 小選挙区 ② 比例代表 ③ 選挙区 ④ 比例代表

[問題](2 学期期末)

右の図を見て、次の各問いに答えよ。

- 図1のしくみで選挙が行われたとき、当選するのは、どの政党の候補者か。A～Cから1つ選び、記号を書け。
- 図2のしくみでは、各政党に対する議席の割り当ては、何に比例して行われるか。
- 図1と図2のしくみを並立して行っている選挙を、次から選べ。

[参議院議員選挙 衆議院議員選挙
地方議会議員選挙 知事選挙]

選挙制度の比較

図1 候補者に対して投票が行われ、一つの選挙区から1名の代表者を選出。

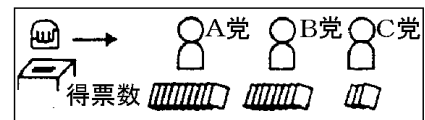
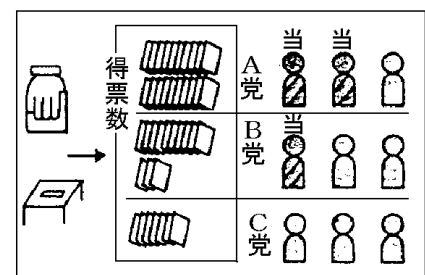


図2 投票は政党に対して行われ、政党に議席数が割り当てられる。



[解答欄]

(1)	(2)	(3)
-----	-----	-----

[解答](1) A (2) 得票率(得票数) (3) 衆議院議員選挙

[問題](後期中間)

表 I, II はある衆議院総選挙において, A~E 党が得た票数と議席の全体に対する割合を表している。表 I, II はそれぞれ別の選挙制度の結果である。表を見て, 次の各問いに答えよ。

表 I

政党	A	B	C	D	E
得票率(%)	35.0	37.4	7.8	5.1	14.8
議席割合(%)	38.3	40.0	5.0	2.8	13.9

表 II

政党	A	B	C	D	E
得票率(%)	43.9	36.7	8.1	2.9	1.5
議席割合(%)	56.0	35.0	0	0.3	3.0

(1) 比例代表制を示している表は, 表 I, 表 II のどちらか。

(2) (1)のように判断した理由について, 次の文中の

①, ②にあてはまる語句を, それぞれ漢字 2 字で書け。

(①)ごとの得票率と, 獲得した(②)の割合が近いから。

[解答欄]

(1)	(2)①	②
-----	------	---

[解答](1) 表 I (2)① 政党 ② 議席

[解説]

表 I は比例代表制の選挙結果である。比例代表制は, 政党ごとの得票率に応じて議席数が配分されるため, 表 I のように得票率と獲得議席の割合は近い値になる。表 II は小選挙区制の結果である。小選挙区制では得票数が 1 位にならないと当選できないため, 1~2 位の大政党がほとんどの議席を獲得することになる。

[小選挙区制の長所と短所]

[問題](前期期末)

小選挙区制では, 大政党の候補者が当選することが多く, 議会で多数派が作られやすく, 政局が安定するという特徴がある。しかし, 当選者以外に投じられた()の割合が大きくなり, 少数意見を反映しにくいという問題点がある。()に当てはまる語句を漢字 2 字で書け。

[解答欄]

[解答]死票

【解説】

1選挙区から1名を選ぶのが小選挙区制である。例えば、ある選挙区でA党の候補者が40%、B党の候補者が35%、その他の候補者が25%の得票であったとき、小選挙区制の場合、当選するのはA党の候補者1名のみとなる。仮に、すべての選挙区が小選挙区で、かつ一律にA党が40%、B党が35%、その他が25%の得票であったとすれば、A党が全議席を獲得することになる。

【小選挙区制の長所と短所】

- ・大政党の候補者が当選→政局が安定
- ・死票が出て少数意見を反映しにくい

このように、小選挙区制では、大政党の候補者が当選することが多く、議会で多数派が作られやすく、政局が安定するという特徴がある。裏を返せば、小さな政党の候補者が選出されにくくなるという特徴がある。

議席を獲得できなかった政党や候補者に投じられた票を死票という。ある選挙区でA党の候補者が10万票、B党の候補者が7万票、その他の候補者が8万票の得票であったとき、死票は7万+8万=15万票になる。このように、小選挙区制では、死票の割合が大きくなり、少数意見を反映しにくいという特徴がある。

※出題頻度：「大政党に有利で、政局が安定△」「死票○」

【問題】(2学期中間)

小選挙区制の特徴として、正しいものを次のア～エの中から2つ選べ。

- ア 小さな政党の候補者が選出されやすくなる。
- イ 大政党に有利で、政局が安定しやすくなる。
- ウ 落選者に投票された死票が多い。
- エ 落選者に投票された死票が少ない。

【解答欄】

【解答】イ，ウ

【問題】(2学期期末)

次の各問いに答えよ。

- (1) 小選挙区制の長所を「大政党」「政局」という語句を使って説明せよ。
- (2) 小選挙区制の短所を「死票」「少数意見」という語句を使って説明せよ。

【解答欄】

(1)
(2)

【解答】(1) 大政党の候補者が当選することが多く、議会で多数派が作られやすく、政局が安定する。(2) 死票が出て少数意見を反映しにくい。

[比例代表制の長所と短所]

[問題]

比例代表制では、小政党も得票分に応じて議席を得ることができるので、死票が(多く／少なく)なる傾向がある。しかし、議会が多数の小政党によって構成される多党化が進み、政局の不安定化をもたらすおそれがある。文中の()内から適語を選べ。

[解答欄]

[解答] 少なく

[解説]

比例代表制は政党名を書いて投票し、得票率に応じて各政党に議席を配分する制度である。小政党も得票分に応じて議席を得ることができるので、死票が少なくなる傾向がある。

[比例代表制の長所と短所]

- ・少数意見も代表されやすく、死票も少ない
- ・多党化→決定がしづらくなる

しかし、議会が多数の小政党によって構成される多党化が進み、政局の不安定化をもたらすおそれがある。

※出題頻度：「死票が少ない△」「多党化△」

[問題](2 学期期末)

比例代表制の選挙でみられる特色を次から 1 つ選べ。

- ア 小政党の候補者は不利になる。
- イ 多党化をまねく傾向がある。
- ウ 2 大政党制を維持するのに適している。

[解答欄]

[解答] イ

[問題](2 学期期末)

次のア～エのうち比例代表制の特徴を述べているものを 2 つ選べ。

- ア 大政党の候補者が当選しやすく、議会で多数派が形成されることが多い。
- イ 少数意見も代表されやすい反面、議会が小党乱立になることがある。
- ウ 死票が多くなりやすい。
- エ 死票が少なくなる。

[解答欄]

[解答] イ, エ

[問題](後期中間)

次の文のような特徴があるのは、小選挙区制と比例代表制のどちらか。それぞれ答えよ。

- ① 死票が出て少数意見が反映されないおそれがある。
- ② 多党化が生じやすく、政局が安定しない。
- ③ 多数党による単独政権が成立しやすい。

[解答欄]

①	②	③
---	---	---

[解答]① 小選挙区制 ② 比例代表制 ③ 小選挙区制

[問題](後期中間)

現在の衆議院議員選挙は、小選挙区制と比例代表制を組み合わせて行われている。次のア～エは小選挙区制と比例代表制のどちらの制度と関係が深いか、分類せよ。

- ア 有権者は候補者個人に投票する。
- イ 有権者は政党に投票する。
- ウ 多くの政党が乱立し、政治が不安定になるおそれがある。
- エ 少数意見が反映されないおそれがある。

[解答欄]

小選挙区制：	比例代表制：
--------	--------

[解答]小選挙区制：ア，エ 比例代表制：イ，ウ

[問題](2 学期期末)

現在の日本の選挙制度を規定している法律の名前を答えよ。

[解答欄]

--

[解答]公職選挙法

【】 当選者数の計算

[問題](後期中間)

次の表は、ある地域の比例代表制選挙の結果を示したものである。この表を見て各問いに答えよ。

政党名		A 党	B 党	C 党	D 党
名簿の 順位	1位	アさん	エさん	キさん	コさん
	2位	イさん	オさん	クさん	サさん
	3位	ウさん	カさん	ケさん	シさん
得票数		500	400	180	100

- (1) 日本の比例代表制選挙の議席の計算方法を何というか。
 (2) この地域の定数が5人の場合、当選する人を表からすべて選び、記号で答えよ。

[解答欄]

(1)	(2)
-----	-----

[解答](1) ドント式 (2) ア, エ, イ, オ, キ

[解説]

現在、日本ではドント式という^{ひれいはいぶん}比例配分の方法をとっている。これは、各党の得票数を1, 2, 3...の自然数で割っていき、その^{しょう}商(割った答え)の大きい順に定員まで数え、決めていく方法である。(ドント式では小数点以下は切り捨て)

各政党の当選者数は次の表のようにして算出できる。

政党名		A 党	B 党	C 党	D 党
名簿の 順位	1位	ア 500①	エ 400②	キ 180⑤	コ 100
	2位	イ 250③	オ 200④	ク 90	サ 50
	3位	ウ 166	カ 133	ケ 60	シ 33
得票数		500	400	180	100

A 党の得票数 500 を 1 で割ると 500, 2 で割ると 250, 3 で割ると 166,
 B 党の得票数 400 を 1 で割ると 400, 2 で割ると 200, 3 で割ると 133,
 C 党の得票数 180 を 1 で割ると 180, 2 で割ると 90, 3 で割ると 60,
 D 党の得票数 100 を 1 で割ると 100, 2 で割ると 50, 3 で割ると 33 である。

これらの数を大きい方から選ぶと、

①500(A 党のア), ②400(B 党のエ), ③250(A 党のイ), ④200(B 党のオ), ⑤180(C 党のキ) である。したがって、当選者は A 党が 2 名(ア, イ), B 党が 2 名(エ, オ), C 党が 1 名(キ), D 党が 0 名である。

※出題頻度: 「比例代表制の当選者の算出◎」「小選挙区制の当選者の算出○」

[問題](2学期中間)

次の文章を読み、①～⑤にあてはまる語句や数字を答えよ。

選挙制度には、1つの選挙区で1人の代表を選ぶ(①)制と、政党の得票数に応じて議席を配分する(②)制がある。

(②)制のドント式という方法について説明する。A党が1000票、B党が550票、C党が350票の得票があったとする。定員が6名とすると、A党の獲得議席は(③)、B党の獲得議席は(④)、C党の獲得議席は(⑤)となる。

以前は参議院選挙のみ(②)制が実施されていたが、公職選挙法の改正により衆議院でもこの制度が採用された。

[解答欄]

①	②	③	④
⑤			

[解答]① 小選挙区 ② 比例代表 ③ 3議席 ④ 2議席 ⑤ 1議席

[解説]

A党の得票数1000を2で割ると500、3で割ると333、
B党の得票数550を2で割ると275、3で割ると183、
C党の得票数350を2で割ると175、3で割ると116である。

割る数	A党	B党	C党
1	①1000	②550	④350
2	③500	⑥275	175
3	⑤333	183	116
当選	3人	2人	1人

これらの数(1000, 500, 333, 550, 275, 183, 350, 175, 116)を大きい方から選ぶと、図のようになる。

[問題](後期中間)

次の資料は小選挙区制で行われた選挙の結果である。後の各問いに答えよ。

1区	Aさん(90票)	Bさん(170票)	Cさん(150票)	Dさん(120票)
2区	Eさん(70票)	Fさん(55票)	Gさん(100票)	Hさん(85票)
3区	Iさん(110票)	Jさん(160票)	Kさん(150票)	Lさん(125票)

- 1区で当選した人は誰か。
- 2区の死票は何票か。
- 3区の有権者は750人である。投票率として最も近いのは次の[]のどれか。

[72.7% 64.3% 81.1% 59.1%]

[解答欄]

(1)	(2)	(3)
-----	-----	-----

[解答](1) Bさん (2) 210票 (3) 72.7%

[解説]

(1) 小選挙区制では、各選挙区とくひょうさうの得票数が第1位である者のみが当選する。したがって、1区はBさん、2区はGさん、3区はJさんが当選する。

(2) 議席を獲得できなかった(落選した)候補者に投じられた票を死票しひょうという。2区で落選したのは、Eさん(70票)、Fさん(55票)、Hさん(85票)なので、死票は、 $70+55+85=210$ (票)である。

(3) 3区の投票者数は、 $110+160+150+125=545$ (人)である。有権者数は750人なので、

$$(\text{投票率}) = \frac{(\text{投票者数})}{(\text{有権者数})} \times 100 = \frac{545}{750} \times 100 = \text{約 } 72.7\%$$

[問題](2 学期中間)

右の図を見て、次の各問いに答えよ。

(1) 図の選挙が小選挙区制として、①、②の各問いに答えよ。

- ① 当選者となる条件を簡単に書け。
- ② A党とD党の当選者は、合計でそれぞれ何人か。

(2) 図の選挙でA党とD党の全選挙区の合計の得票数はそれぞれ何票か。

(3) 図の8つの選挙区すべてあわせて比例代表制で当選者を8人出す場合、A党、B党、C党、D党の当選者はそれぞれ何人か。

A,B,C,Dの政党から8つの選挙区に1人ずつ立候補した。選挙の結果の得票数は次の通りである。

1区	a a a a a a	b b	c	d
2区	a a a a	b b b b b	c	d
3区	a a a a a a	b	c c	d
4区	a a a	b	c c c c	d d
5区	a a a a a a	b b		d
6区	a a a	b b b b	c	d
7区	a a a a a a	b b b b	c	d
8区	a a a a a a	b		d d

aはA党, bはB党, cはC党, dはD党への投票

全選挙区の各党の得票数

A党	B党	C党	D党
	20	10	

[解答欄]

(1)①			
②A党 :	D党 :	(2)A党 :	D党 :
(3)A党 :	B党 :	C党 :	D党 :

[解答](1)① その選挙区での得票数が第1位であること。 ② A党 : 5人 D党 : 0人

(2) A党 : 40票 D党 : 10票 (3) A党 : 4人 B党 : 2人 C党 : 1人 D党 : 1人

[解説]

(1) 小選挙区制では、各選挙区の得票数が第1位である者のみが当選する。表の各選挙区の当選者の政党は次のようになる。

1区	2区	3区	4区	5区	6区	7区	8区
A	B	A	C	A	B	A	A

したがって、各党の当選者数は、A党が5人、B党が2人、C党が1人、D党が0人である。

(2)(3) 表から各党の得票数を数えると、A党は40票、B党は20票、C党は10票、D党は10票である。右図のようにして、ドント式で各党の当選者数を求めることができる。

割る数	A党	B党	C党	D党
1	①40	②20	④10	④10
2	②20	④10	5	5
3	③13	6	3	3
4	④10	5	2	2
当選	4人	2人	1人	1人

[問題](2学期中間)

次の資料を見て、各問いに答えよ。

I

II

III

1区 a a a b b c c d	2区 a a a a a b b b c d	3区 a a a a b b b c c d	4区 a a a a b b b c c d	5区 a a a a a a b b c d
6区 a a a b b b b c c c d	7区 a a a a a a b b b c c d	8区 a a b b b c c c c d	9区 a a a a b b b c c d	10区 a a a b b b b c d

A, B, C, Dの政党から10の選挙区に1人ずつ立候補した。それぞれの政党の得票数は上の通りである。(aはA党、bはB党、cはC党、dはD党への立候補者の投票とする。)

- (1) I, IIの選挙制度をそれぞれ何というか。
- (2) IIIの選挙結果から1区から10区の選挙区をまとめて1つの選挙区とし、各政党の得票数を出し、10人の当選者数を選出することとする。B党は何人当選するか。選挙制度としては、IIの方法である。
- (3) IIIの選挙結果から1区から10区の各選挙区で1名の当選者を出した場合のB党の当選者数を答えよ。選挙制度としては、Iの方法である。

[解答欄]

(1) I	II	(2)	(3)
-------	----	-----	-----

[解答](1) I 小選挙区制 II 比例代表制 (2) 3人 (3) 2人

[解説]

(2) IIは比例代表制である。1区～10区を1つの選挙区とすると、A党は合計で40票、B党は30票、C党は20票、D党は10票を獲得している。右図のように、ドント式で各党の当選者数を求めることができる。

割る数	A党	B党	C党	D党
1	① 40	② 30	③ 20	⑦ 10
2	③ 20	⑤ 15	⑦ 10	5
3	⑥ 13.3	⑦ 10	6	3
4	⑦ 10	7	5	2
当選	4人	3人	2人	1人

表より、A党が4議席、B党が3議席、C党が2議席、D党が1議席となる。

※単純な比例計算で算出すると次のようになる。

得票数の比率は、 $A : B : C : D = 40 : 30 : 20 : 10 = 4 : 3 : 2 : 1$ で、得票数に比例して、10議席を配分すると、A党が4議席、B党が3議席、C党が2議席、D党が1議席となる。

(3) Iは1選挙区から1名を選ぶ小選挙区制である。IIIのような投票結果の場合、1区では最も多く票を獲得したA党の候補者が当選する。同様に、2区ではA党、3区ではA党、4区ではA党、5区ではA党、6区ではB党、7区ではA党、8区ではC党、9区ではA党、10区ではB党の候補者がそれぞれ当選する。全体では、A党が7名、B党が2名、C党が1名当選する。

【】 政党の役割

[与党と野党]

[問題](後期中間改)

同じ政治的考えや政策を持つ人々が、その実現を目指して作った組織を政党という。選挙に勝って議会で多数を占め、政権をになう政党を(X)という。現在の(X)は自由民主党と公明党である。(X)以外の政党を野党といい、党や政府の行う政策を批判・監視する役割をはたす。

[解答欄]

--

[解答]与党

[解説]

同じ政治的考え(主義)や政策を持つ人々が、その実現を目指して作った組織を政党せいとうという。一般に、衆議院議員選挙で第一党となった政党の党首とうしゅが、国会で内閣総理大臣に指名され、内閣を組織することが多い。内閣を組織

する政党を与党よとうという。現在(2021年)の与党は自由民主党(自民党)と公明党である。与党以外の政党を野党やとうという。野党は、与党や政府の行う政策を批判・監視ひはん かんしする役割をはたす。

※出題頻度：「政党○」「与党◎」「現在の与党は自由民主党と公明党△」「野党○」

[政党]

与党：政権をになう
(現在は、自由民主党と公明党)

野党：与党以外の政党

[問題](2学期中間)

次の各文は、与党と野党のどちらにあてはまるか。それぞれ答えよ。

- ① 政府に対して、批判・監視などをおこなう。
- ② 国民の少数意見を、国の政治に反映する努力をする。
- ③ 選挙で第一党となった政党の党首が国会で内閣総理大臣に指名され、内閣をつくる。

[解答欄]

①	②	③
---	---	---

[解答]① 野党 ② 野党 ③ 与党

[問題](1学期期末)

次の文中の①～④にあてはまる語句を、下の[]からそれぞれ選べ。

日本では、国の政治は(①)によって運営されるため、(①)政治と呼ばれている。一般に、選挙で衆議院の議席を最も多く獲得した政党が(②)を組織し、(③)党と呼ばれる。それに対し、政府を批判・監視する他の政党を(④)党と呼ぶ。

[内閣 国民 政党 野 与]

[解答欄]

①	②	③	④
---	---	---	---

[解答]① 政党 ② 内閣 ③ 与 ④ 野

[問題](1 学期期末)

次の各問いに答えよ。

- (1) 政権を担当する政党を何というか。
- (2) ふつう、政権を担当する政党の党首は国会で何に指名されるか。
- (3) 日本で 1955 年以来、1990 年はじめまで政権を担当し、現在も政権を担当している政党は何か。
- (4) 政権を担当する政党以外の政党を何というか。

[解答欄]

(1)	(2)	(3)	(4)
-----	-----	-----	-----

[解答](1) 与党 (2) 内閣総理大臣 (3) 自由民主党(自民党) (4) 野党

[問題](後期中間)

次の各問いに答えよ。

- (1) 政党が中心となって運営される政治を何というか。
- (2) 与党とはどのような政党をいうか。簡潔に説明せよ。
- (3) 現在の与党を 2 つあげよ。
- (4) 野党の役割を簡単に述べよ。

[解答欄]

(1)	(2)	(3)
(4)		

[解答](1) 政党政治 (2) 政権を担当する政党 (3) 自由民主党(自民党), 公明党
(4) 与党の政策を批判・監視する。

[連立政権]

[問題](1 学期期末)

政権を担当する政党が複数ある場合、このような政権を何というか。

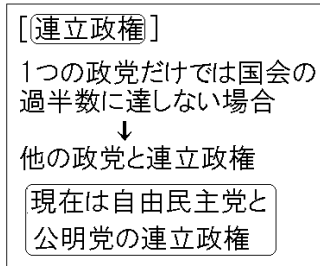
[解答欄]

--

[解答]連立政権

【解説】

最近では、内閣が1つの政党ではなく複数の政党から組織されることが多くなったが、このような政権を連立政権れんりつせいけんという。予算や法律案を国会でスムーズに可決させるためには、衆議院と参議院の両方で過半数の議席をしめていることが望ましい。仮に、衆議院で第一党となっても、参議院で過半数をしめていない場合は、衆議院で可決した法律案が参議院で否決されてしまうことになる。



このように1つの政党だけでは国会の過半数に達しない場合には、他の政党と結んで連立政権を組むことが多い。現在(2021年)は、自由民主党と公明党の連立政権である。

※出題頻度：「連立政権◎」「現在は自由民主党と公明党の連立政権○」

【問題】(2学期中間)

政党について答えよ。

- (1) 内閣を組織し、政権を担う政党を何というか。
- (2) 最近では、内閣が1つの政党ではなく複数の政党から組織されることが多くなった。現在の内閣は、どのような政党によって組織されているか。内閣を組織している政党名をすべて答えよ。
- (3) (2)のような複数の政党で組織される政権を何というか。

【解答欄】

(1)	(2)	(3)
-----	-----	-----

【解答】(1) 与党 (2) 自由民主党(自民党), 公明党 (3) 連立政権

【問題】(2学期中間)

次の各問いに答えよ。

- (1) 国会で多数の議席をしめ、政権を担当する政党を何というか。
- (2) 政権に加わらず、内閣に対して批判・監視を行う政党を何というか。
- (3) 内閣が、1つの政党ではなく、複数の政党で組織された場合、このような政権を何というか。

【解答欄】

(1)	(2)	(3)
-----	-----	-----

【解答】(1) 与党 (2) 野党 (3) 連立政権

[問題](1 学期期末)

複数の政党による連立政権は、どのような場合にとられるか。簡単に書け。

[解答欄]

--

[解答]1つの政党だけでは国会の過半数に達しない場合。

[問題](2 学期中間)

政治について、次のイラストを参考に次の各問いに答えよ



- (1) A党, B党のうち, 与党はどちらか。
- (2) 与党以外の政党を何というか。
- (3) 連立政権をつくる目的を簡潔に書け。

[解答欄]

(1)	(2)
(3)	

[解答](1) A党 (2) 野党 (3) 国会の議席の過半数を確保する目的

[問題](前期期末)

以下の各問いに答えよ。

同じ政治的考え(主義)や政策を持つ人々が、その実現を目指して作った組織を(①)という。選挙のときにはその考えや政策を訴え、できるだけ多くの当選者を出そうと運動する。衆議院議員選挙で最大多数を占めると、ふつう、その党首が国会で(②)に指名され、内閣を組織することになることが多い。

- (1) 文中①, ②にあてはまることばを書け。
- (2) A党は単独で過半数に達しなかったため、主義や政策が似ているB党とともに内閣を組織したとする。こうした政権を何政権というか。
- (3) ①政権を担当する政党, ②批判・監視する政党を、それぞれ何と呼ぶか。

[解答欄]

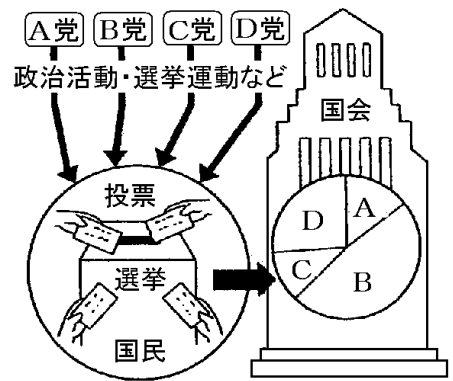
(1)①	②	(2)	(3)①
②			

[解答](1)① 政党 ② 内閣総理大臣 (2) 連立政権 (3)① 与党 ② 野党

[問題](2 学期中間)

右の図を見て、次の各問いに答えよ。

- (1) 政権を担当するのは、ふつう、図中の A～D 党のうち、どの政党か。1つ答えよ。
- (2) (1)以外で、政権に加わらない政党を何というか。
- (3) (1)の党と C 党が協力して政権を担当した場合、このような政権を何というか。
- (4) 次の文の①、②にあてはまる語句を書け。
一般に、(①)院議員選挙で第一党となった政党の党首が、国会で(②)に指名され、内閣を組織する。



- (5) 議会で多数党を形成して政権を担当する立場にある政党を何というか。

[解答欄]

(1)	(2)	(3)	(4)①
②	(5)		

[解答](1) B 党 (2) 野党 (3) 連立政権 (4)① 衆議 ② 内閣総理大臣 (5) 与党

[問題](2 学期中間)

内閣と政党の関係について正しいものを次のア～エから 1つ選べ。

- ア 国会において多数の議席をしめる第一党の党首が必ず内閣総理大臣になる。
- イ 国会において少数の議席しか持たない党は与党になれない。
- ウ 複数の政党が政策協定などを結んで連立して内閣をつくることもある。
- エ 野党の中にも国務大臣となる人がいる。

[解答欄]

[解答]ウ

[問題](後期中間)

次の文について、後の各問いに答えよ。

多くの国の政治は、a 政党が中心となっていて行われている。日本では、1955年から、(①)
党が政権を担ってきた。しかし1993年の総選挙の結果、(①)党以外のb 複数の政党による政
権が誕生した。2009年には(②)党を中心とすると政権が誕生し、その後2012年には再
び(①)党が政権を獲得した。

- (1) 文中の①, ②に適する政党名を答えよ。
- (2) 下線部 a のような政治を何というか。
- (3) 下線部 b のような政権を何というか。

[解答欄]

(1)①	②	(2)	(3)
------	---	-----	-----

[解答](1)① 自由民主(自民) ② 民主 (2) 政党政治 (3) 連立政権

[その他]

[問題](後期中間)

各政党は選挙前に政権を担当したときに実施する政策などを示したものを発表する。これ
を何というか。漢字4字で答えよ。

[解答欄]

--

[解答]政権公約

[解説]

選挙のときに政党や候補者が、「選挙で当選すれば、このような政策を実行します」という
約束を表明するが、この約束を公約という。その中で、政権をとったときに実行する公約を、
特に政権公約という。

※出題頻度：「政権公約◎」

[問題](後期中間)

次の文中の①, ②に適語を入れよ。

選挙のとき、政治家が有権者に行う約束のことを(①)といい、政権をとったときに実
現する約束のことを(②)という。

[解答欄]

①	②
---	---

[解答]① 公約 ② 政権公約

[問題](2 学期中間改)

現在の日本では、特定の個人や企業・団体からの政治献金は厳しく制限されている。その見返りとして、政党への交付金が国から支給されている。

- (1) 特定の個人や企業・団体からの政治献金を制限している法律は何か。
- (2) この交付金の名前を答えよ。

[解答欄]

(1)	(2)
-----	-----

[解答](1) 政治資金規正法 (2) 政党交付金

[解説]

企業や団体が政治家に対してお金をわたすことによって不正な結び付きをしないように、こうした政治献金^{けんきん}は、政治資金規正法によって厳しく制限されている。代わりに、政党助成法に基づいて、国から毎年約 320 億円(国民 1 人あたり 250 円)の政党交付金が、得票や議席に応じてそれぞれの政党に交付されている。

【】 マスメディアと世論

[問題](1 学期期末)

次の文章中の①，②に適語を入れよ。

マスメディアなどを通じて形成される，国民の意思や考えを(①)という。しかし，マスメディアの報道をうのみにすることには問題がある。マスメディアなどから発信される情報をさまざまな角度から批判的に読み取る力を(②)という。

[解答欄]

①	②
---	---

[解答]① 世論 ② メディアリテラシー

[解説]

政治や社会の問題についての国民の意見を^{せろん/よろん}世論という。

新聞やテレビなどマスメディアは世論の形成に大きな役割をはたしている。また，近年は，インターネットを通じて，情報を得る人が増えている。しかし，マスメディアの報道^{ほうどう}やインター

ネットの情報をうのみにすることには問題がある。マスメディアなどから^{はっしん}発信される情報をさまざまな角度から批判的に読み取る力をメディアリテラシーという。

※出題頻度：「マスメディア△」「世論○」「メディアリテラシー○」

[マスメディアと世論]

マスメディア：世論の形成

メディアリテラシー

[問題](2 学期期末)

次の各問いに答えよ。

- (1) 政治のさまざまな問題に対する国民の意見を何というか。
- (2) 政治の世界のできごとを情報として国民に伝える役割をはたしている新聞，テレビ，ラジオなどをカタカナで何というか。
- (3) (2)などから発信される情報をさまざまな角度から批判的に読み取る力を何というか。

[解答欄]

(1)	(2)	(3)
-----	-----	-----

[解答](1) 世論 (2) マスメディア (3) メディアリテラシー

[問題](2 学期期末)

次の各問いに答えよ。

- (1) 社会のさまざまな問題について、多くの人々に共有されている意見のことを何というか。
- (2) メディアのうち、不特定多数の人に情報を伝達するものを何というか。
- (3) (2)に当てはまるものを 3 つあげよ。
- (4) 社会や政治の問題について、人々の意見や考えの動向を知るために(2)などが行う調査を何というか。
- (5) メディアリテラシーとはどのような意味か。次の文中の()に当てはまる語句を書け。
(2)などから発信される情報をさまざまな角度から()的に読み取る力。

[解答欄]

(1)	(2)	(3)
(5)	(4)	

[解答](1) 世論 (2) マスメディア (3) 新聞, テレビ, ラジオ (4) 世論調査 (5) 批判

[問題](後期中間)

メディアリテラシーとはどのような意味か。「マスメディアなどから発信される情報を」に続けて簡単に説明せよ。

[解答欄]

--

[解答]マスメディアなどから発信される情報をさまざまな角度から批判的に読み取る力。

【】 選挙の課題と政治参加

[棄権の増加]

[問題](後期中間改)

今日の選挙の課題として、選挙に行かない棄権が増え、投票率が低下していることが挙げられる。多くの有権者が選挙を棄権すると、一部の有権者によって政治の大切なことが決められてしまうことになり、その結果、主権者である国民全体の意思が、政治に正しく反映されなくなる。投票率の低下をくいとめるために、近年では、有権者が投票しやすいように、告示の翌日から投票日の前日までの期間に(X)投票ができるようになった。また、投票時間の延長も行われた。Xに当てはまる語句を漢字3字で答えよ。

[解答欄]

[解答]期日前

[解説]

今日の選挙の課題として、選挙に行かない^{きけん}棄権が増え、^{とうひょうりつ}投票率が低下していることが^あ挙げられる。
多くの有権者が選挙を棄権すると、一部の有権者によって政治の大切なことが決められてしまうことになり、その結果、主権者である国民全体の意思が、政治に正しく反映されなくなる。

[棄権の増加]

無関心→棄権→投票率の低下

→ **期日前投票**、投票時間の延長

投票率の低下をくいとめるために、近年では、有権者が投票しやすいように、告示の翌日から投票日の前日までの期間に前もって投票できる^{きじつまえとうひょう}期日前投票の制度も整えられている。また、投票時間の延長も行われた。

※(補足)極端な仮想例をあげて説明しよう。

政治的無関心が広がり、投票率が非常に低くなってしまった20××年の衆議院総選挙で、^{せいけんだつかん}政権奪還をめざしたX党は、^{こうれいか}高齢化に伴って増加したお年寄り層の票に注目した。X党は「新しい福祉国家づくり!」をスローガンに、「60歳以上の医療費完全無料化」「年金支給額的大幅アップ」を政権公約として選挙戦に^{のぞ}臨んだ。選挙の結果はX党の歴史的な大勝利であった。一般の投票率は30%と低い水準のままであったが、高齢者層の投票率は80%を超え、しかもそのほとんどがX党へ投票したためであった。

政権獲得後、公約に掲げた政策を実施するために、改めて必要な費用を算出したX党は^{がくぜん}愕然とした。税収が50兆円前後なのに、公約を実現するために新たに必要になる金額は20兆円を超えるのだ。「ここで、公約を破れば、次の選挙で敗れてしまう。」と考えたX党は、消費税を10%から20%に引き上げることを決め、圧倒的多数を背景に法案を成立させた。この仮想例で問題なのは、「高齢者層の投票率が非常に高く、若年層などの投票率が極端に低い」ので、国民の一部の層の意思がかたよって選挙に反映されてしまったことである。

※出題頻度：「棄権→投票率の低下△」「期日前投票○」「投票時間の延長△」

[問題](2 学期期末)

今日の選挙の問題点として、選挙に行かずに棄権する人が多いことがあげられるが、投票率を上げるために日本ではどんな工夫を行っているか。次のア～エの中から正しいものを 2 つ選べ。

ア インターネットでの投票をできるようにした。

イ 投票時間を延長した。

ウ 期日前投票ができるようにした。

エ 代理で投票できるようにした。

[解答欄]

--

[解答]イ, ウ

[問題](後期中間)

次の各問いに答えよ。

(1) 選挙区における 1 票の格差のほかにも、()の低下が民主政治への危険信号であると心配されている。文中の()に適語を入れよ。

(2) (1)に対して、投票しやすくするためにどのような対策がとられているか。2 つあげよ。

[解答欄]

(1)	(2)
-----	-----

[解答](1) 投票率 (2) 期日前投票, 投票時間の延長

[問題](前期期末)

近年、日本における選挙に関する課題の 1 つとして、棄権が多いことが挙げられている。このように、多くの人が選挙を棄権して投票率が低くなると、どのような問題がおこると考えられるか。「一部」「大切」「主権者である国民の意思」という語句を使って説明せよ。

[解答欄]

--

[解答]一部の人たちによって政治の大切なことが決められてしまうことになり、その結果、主権者である国民の意思が、政治に正しく反映されなくなること。

[問題](2 学期中間)

次の会話について、後の各問いに答えよ。

A さん：昨日の授業で先生が、近年投票率が(①)ことは、大きな問題だと言っていたよ。
どうしてかな？

B さん：それは、日本の政治は、間接民主制を採用しているからだと思うんだ！

A さん：ああ、少し前に授業で習ったよね。(②)が、議会で話し合っ
て政治の方針を決めることだった。

B さん：そうだね。でも、投票を棄権する人が多くなって、一部の人だけで代表者が選ば
れたとしたら、(③)。だから、問題だと思うんだ。

A さん：このようなことから考えると、民主主義を実現するには、国民一人ひとりが政治に
関心を持ち、積極的に政治に参加していくことが必要です。

B さん：私もそう思う。また、選挙ではよりよい政治にするために、候補者や政党の考えを
よく知って投票することが大切ですね。

A さん：④投票を棄権する人を減らすには、どのような対策が採られているのかな？

(1) 文中(①)にあてはまる語句を書け。

(2) 文中(②)にあてはまる文章を、「選挙」「代表者」「国民」の語句を使って書け。

(3) 文中(③)にあてはまる文章として適切なものを、次の中から選び記号で答えよ。

ア 国民の意見や要望を反映した政治が行われる。

イ 国民が政治のあり方を決定しているといえる。

ウ 一部の国民の要望や意見しか政治に反映されない。

エ 棄権した人の意見も政治に反映される。

(4) 下線部④に関し、棄権者を減らすためにどのような対策がとられているか。2つ書け。

[解答欄]

(1)	(2)	(3)
(4)		

[解答](1) 低下している (2) 選挙で選ばれた国民の代表者 (3) ウ

(4) 期日前投票, 投票時間の延長

[1 票の格差]

[問題](前期期末)

次の表は、ある衆議院議員選挙におけるある小選挙区の有権者数を示している。表中の A～D のうち、1 票の価値が最も高い選挙区はどれか。その記号を書け。

衆議院小選挙区	A	B	C	D
有権者数(人)	467,610	380,284	312,081	214,764

[解答欄]

[解答]D

[解説]

Aの選挙区は約 47 万人で 1 人の衆議院議員を、Dの選挙区は約 21 万人で 1 人の衆議院議員を選出する。仮にDと同じ有権者をもつD' という選挙区があったとすると、DとD'で合計 42 万人で合計 2 人の議員を選出することになる。Aの選挙区は 47 万人で 1 人しか選出しないので、DやD'のほうが有利である。言いかえれば、DやD'の有権者1人当たりの議員数はAの 2 倍以上である。議席数あたりの有権者数が少ない選挙区ほど 1 票の価値が高い。このような 1 票の価値(1 票の重み)の違いが生じたのは、人口の都市への集中によって都市部の人口が増大し、農村部の人口が減少したためである。法の下に平等に反するということで、何度か訴訟がおこされ、最高裁判所も 3 倍を越すような格差は違憲であるとの判決を下している。

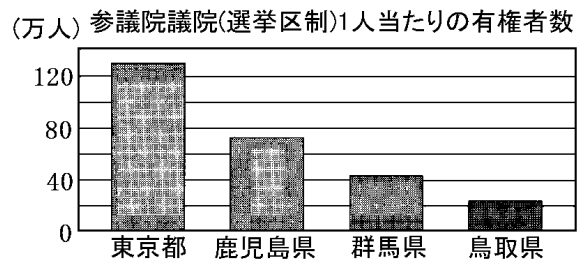
[[1票の格差]
法の下に平等に反する

※出題頻度：「1 票の格差○」

[問題]

次の各問いに答えよ。

- (1) 右の資料は、4 都県の参議院議員 1 人当たりの有権者数である。このうち 1 票の価値が最も高い都県名を書け。
- (2) 1 票の価値の格差が大きいことが、憲法問題として争われる理由を簡潔に書け。



[解答欄]

(1)	(2)
-----	-----

[解答](1) 鳥取県 (2) 法の下に平等に反するから。

[問題](後期中間)

衆議院の選挙区の有権者数が最小であるのは徳島 1 区の 214,577 人、最大は東京 6 区の 464,622 人である。「1 票の格差」は最大で何倍になっているか。小数第 2 位を四捨五入して答えよ。

[解答欄]

[解答]2.2 倍

[問題](1 学期期末)

有権者の多い選挙区と少ない選挙区の差が大きいことが問題とされている。なぜ問題とされているのか、その理由を「1 票の価値」の語句を使って簡単に書け。

[解答欄]

[解答]1 票の価値に大きな差があることは法の下での平等に反するから。

[私たちの政治参加]

[問題]

次の文章中の①～③に適語を入れよ。

選挙での投票以外にも、さまざまな政治参加の方法がある。立場や得る利益が同じ人々の集まりである(①)団体に加わることや、身近な地域でまちづくりや(②)運動などに加わることも政治参加である。選挙運動の手伝いをしたり、自分が選挙に立候補して政治家として活動したりすることも政治参加といえる。最近では、情報(③)制度を利用して、国や地方公共団体の仕事の仕方を調べたり、監視したりすることも行われている。また、インターネットを使って、政策を調べたり、政治に関する問題を話し合ったり、政治家に自分の意見を伝えたりすることも、新しい政治参加の方法として広がっている。

[解答欄]

①	②	③
---	---	---

[解答]① 利益(圧力) ② 住民 ③ 公開

【】 総合問題

[問題](要点整理)

次の表中の①～⑱に適語を入れよ。

民主主義と政治	<ul style="list-style-type: none"> ・(①)民主制：住民全体が話し合いに参加 (②)民主制(議会制民主主義)：代表者を選挙で選ぶ ・話し合いで意見が一致しないとき→(③)の原理 (④)を尊重することが必要
選挙	<ul style="list-style-type: none"> ・選挙の4つの基本原則 (⑤)選挙(一定年齢以上のすべての国民に選挙権) (⑥)選挙(一人一票), (⑦)選挙(無記名投票), 直接選挙 ・選挙区 (⑧)制：1選挙区から1人, 政局が安定, 死票が多く出る (⑨)制：政党の得票率に応じて議席を配分 衆議院は(⑩)並立制, 参議院は選挙区制と(⑨)制 ・選挙の課題：棄権が多く投票率が低下→(⑪)投票, 投票時間の延長 1票の(⑫)の問題
政党と政治	<ul style="list-style-type: none"> ・(⑬)(政権をになう政党), (⑭)((⑬)以外の政党) (⑮)政権((⑬)が複数の場合) ・(⑯)(政権を担当したときに実施する政策を明記した公約)
(⑱)と(⑰)	<ul style="list-style-type: none"> ・(⑰)：政治のさまざまな問題に対する国民の意見 ・(⑱)：新聞, テレビ, ラジオなど, (⑰)に影響を与える →(⑱)からの情報を批判的に読み取る力を(⑲)という

[解答欄]

①	②	③	④
⑤	⑥	⑦	⑧
⑨	⑩	⑪	
⑫	⑬	⑭	⑮
⑯	⑰	⑱	
⑲			

[解答]① 直接 ② 間接 ③ 多数決 ④ 少数意見 ⑤ 普通 ⑥ 平等 ⑦ 秘密
 ⑧ 小選挙区 ⑨ 比例代表 ⑩ 小選挙区比例代表 ⑪ 期日前 ⑫ 格差 ⑬ 与党
 ⑭ 野党 ⑮ 連立 ⑯ 政権公約 ⑰ 世論 ⑱ マスメディア ⑲ メディアリテラシー

[問題](1 学期期末など)

次の各問いに答えよ。

- (1) 国民全体が直接政治の話し合いに参加するやり方を何というか。
- (2) 代表者を選挙で選び、その代表者が議会で話し合っ決めてというやり方を何というか。
- (3) 話し合っても意見が一致しない場合は、(①)の原理を用いることが一般的であるが、結論を出す前に(②)意見も十分に聞いて、できるだけ尊重することが必要である。①, ②に適語を入れよ。

[解答欄]

(1)	(2)	(3)①	②
-----	-----	------	---

[解答](1) 直接民主制 (2) 間接民主制(議会制民主主義) (3)① 多数決 ② 少数

[問題](前期期末など)

次の各問いに答えよ。

- (1) 現在の選挙の原則となっている次の①～④を何というか。
 - ① 一人一票の選挙。
 - ② 無記名で投票を行う選挙。
 - ③ 一定年齢以上の全ての人に選挙権が与えられる選挙。
 - ④ 有権者が直接投票する選挙。
- (2) 一つの選挙区から一人の代表者を選出する選挙制度を何というか。
- (3) (2)では得票のもっとも多い候補者が当選するが、当選者以外に投じられた票のことを何というか。
- (4) 政党の名前を書いて投票を行い、政党の得票率に応じて議席を配分する選挙制度を何というか。
- (5) 現在、衆議院議員選挙でとられている選挙制度を何というか。
- (6) 定数 4 名の(4)の選挙区で、各政党の得票数が A 党 1200 票, B 党 720 票, C 党 600 票であるとき、各政党の当選者はそれぞれ何名になるか。
- (7) 選挙について定めた法律を何というか。
- (8) 棄権者を減らすためには、どのような対策がとられているか。投票時間の延長以外で 1 つあげよ(漢字 5 字)。
- (9) 議員一人あたりの有権者数に違いがあるため、一票のもつ価値が異なることを何というか。

[解答欄]

(1)①	②	③	④
(2)	(3)	(4)	
(5)		(6)A 党 :	B 党 :
C 党	(7)	(8)	(9)

[解答](1)① 平等選挙 ② 秘密選挙 ③ 普通選挙 ④ 直接選挙 (2) 小選挙区制
 (3) 死票 (4) 比例代表制 (5) 小選挙区比例代表並立制 (6)A 党 : 2 名 B 党 : 1 名
 C 党 : 1 名 (7) 公職選挙法 (8) 期日前投票 (9) 一票の格差

[解説]

(6) 次の表から、A 党 2 名 B 党 1 名 C 党 1 名の当選者となる。

政党	A	B	C
得票数÷1	1200 ①	720 ②	600 ③
得票数÷2	600 ③	360	300
得票数÷3	400	240	200

[問題](2 学期中間)

次の各問いに答えよ。

- (1) 政権を担当している政党を何というか。
- (2) (1)以外の政党を何というか。
- (3) 内閣が、1 つの政党ではなく複数の政党で組織された場合、このような政権を何というか。
- (4) 各政党は選挙前に政権を担当したときに実施する政策などを示したものを発表する。これを何というか。漢字 4 字で答えよ。
- (5) 政治のさまざまな問題に対する国民の意見を何というか。
- (6) 政治の世界のできごとを情報として国民に伝える役割をはたしている新聞・テレビなどをカタカナで何というか。
- (7) (6)からの情報をうのみにせず、批判的に読み取る力を何というか。

[解答欄]

(1)	(2)	(3)	(4)
(5)	(6)	(7)	

[解答](1) 与党 (2) 野党 (3) 連立政権 (4) 政権公約 (5) 世論 (6) マスメディア
 (7) メディアリテラシー

【FdData 中間期末製品版のご案内】

詳細は、[\[FdData 中間期末ホームページ\]](#)に掲載 ([Shift]+左クリック→新規ウィンドウ)

◆印刷・編集

この PDF ファイルは、FdData 中間期末を PDF 形式に変換したサンプルで、印刷はできないように設定しております。製品版の FdData 中間期末は Windows パソコン用のマイクロソフト Word(Office)の文書ファイルで、印刷・編集を自由に行うことができます。

◆FdData 中間期末の特徴

中間期末試験で成績を上げる秘訣は過去問を数多く解くことです。FdData 中間期末は、実際に全国の中学校で出題された試験問題をワープロデータ(Word 文書)にした過去問集です。各教科(社会・理科・数学)約 1800~2100 ページと豊富な問題を収録しているため、出題傾向の 90%以上を網羅しております。

FdData 中間期末を購入いただいたお客様からは、「市販の問題集とは比べものにならない質の高さですね。子どもが受けた今回の期末試験では、ほとんど同じような問題が出て今までにないような成績をとることができました。」「製品の質の高さと豊富な問題量に感謝します。試験対策として、塾の生徒に FdData の膨大な問題を解かせたところ、成績が大幅に伸び過去最高の得点を取れました。」などの感想をいただいております。

◆サンプル版と製品版の違い

ホームページ上に掲載しておりますサンプルは、印刷はできませんが、製品の全内容を掲載しており、どなたでも自由に閲覧できます。問題を「目で解く」だけでもある程度の効果をあげることができます。しかし、FdData 中間期末がその本来の力を発揮するのは印刷ができる製品版においてです。印刷した問題を、鉛筆を使って一問一問解き進むことで、大きな学習効果を得ることができます。さらに、製品版は、すぐ印刷して使える「問題解答分離形式」、編集に適した「問題解答一体形式」、暗記分野で効果を発揮する「一問一答形式」(理科と社会)の 3 形式を含んでいますので、目的に応じて活用することができます。

※[FdData 中間期末の特徴\(QandA 方式\)](#) ([Shift]+左クリック→新規ウィンドウ)

◆FdData 中間期末製品版(Word 版)の価格(消費税込み)

※以下のリンクは[Shift]キーをおしながら左クリックすると、新規ウィンドウが開きます

[社会地理](#)、[社会歴史](#)、[社会公民](#)：各 7,800 円(統合版は 18,900 円) ([Shift]+左クリック)

[理科 1 年](#)、[理科 2 年](#)、[理科 3 年](#)：各 7,800 円(統合版は 18,900 円) ([Shift]+左クリック)

[数学 1 年](#)、[数学 2 年](#)、[数学 3 年](#)：各 7,800 円(統合版は 18,900 円) ([Shift]+左クリック)

※Windows パソコンにマイクロソフト Word がインストールされていることが必要です。(Mac の場合はお電話でお問い合わせください)。

◆ご注文は、メール(info2@fdtext.com)、または電話(092-811-0960)で承っております。

※[注文→インストール→編集・印刷の流れ](#)、[※注文メール記入例](#) ([Shift]+左クリック)

【Fd 教材開発】 Mail : info2@fdtext.com Tel : 092-811-0960