

【FdData 中間期末：中学社会公民：地球社会】

[\[国際社会における国家／領土をめぐる問題／国際連合／地域主義／新興国の台頭と経済格差／地球環境問題／資源・エネルギー問題／貧困問題／新しい戦争・難民問題・核軍縮／これからの地球社会と日本／総合問題／FdData 中間期末製品版のご案内\]](#)

[\[FdData 中間期末ホームページ\]](#) 掲載の pdf ファイル(サンプル)一覧

※次のリンクは[Shift]キーをおしながら左クリックすると、新規ウィンドウが開きます

社会：[\[社会地理\]](#)、[\[社会歴史\]](#)、[\[社会公民\]](#)

理科：[\[理科 1 年\]](#)、[\[理科 2 年\]](#)、[\[理科 3 年\]](#)

数学：[\[数学 1 年\]](#)、[\[数学 2 年\]](#)、[\[数学 3 年\]](#)

※全内容を掲載しておりますが、印刷はできないように設定しております

【】 国際社会の仕組み

【】 国際社会における国家

[主権国家]

[問題](後期期末改)

世界には 197 の国家がある。国家は、国民、領域、(X)によって成り立っている。(X)は、他国から支配や干渉を受けない権利(内政不干渉の原則)、他の国々と対等である権利((X)平等の原則)からなっている。(X)の確立した国を(X)国家という。X に適語を入れよ。

[解答欄]

[解答]主権

[解説]

世界には 197 の国がある(2022 年現在)。国家は、国民、^{りょういき}領域、^{しゅけん}主権によって成り立っている。

主権は、他国から支配や干渉^{かんしょう}を受けない権利(内政不干渉^{ないせいふかんしょう}の原則)、他の国々と対等である権利(主権平等の原則)からなっている。

主権の確立した国を主権国家という。主権国家は、国の象徴^{しょうちょう}として国旗(日本では「日章旗^{にっしょうき}」)や国歌(日本では「君が代」)を持っている。

※出題頻度：「主権○」「内政不干渉の原則○」「主権平等の原則○」

(頻度記号：◎(特に出題頻度が高い)、○(出題頻度が高い)、△(ときどき出題される))

[主権]

内政不干渉の原則

主権平等の原則

[問題](3 学期)

次の各問いに答えよ。

- (1) 国家が成り立つためには、領土と国民と(X)の3つの要素が必要であるといわれている。Xにあてはまる適語を答えよ。
- (2) 次の文にあてはまる国際社会の原則をそれぞれ何というか。
- ① ある国が他国に支配されたり、干渉されたりしない権利。
 - ② 他の国々と対等である権利。

[解答欄]

(1)	(2)①	②
-----	------	---

[解答](1) 主権 (2)① 内政不干涉の原則 ② 主権平等の原則

[問題]

次の各問いに答えよ。

- (1) 他国から支配されたり干渉されたりすることを拒む国家としての権利を何というか。漢字2字で答えよ。
- (2) (1)が確立した国家を何というか。
- (3) 国家は何によって成り立っているか。(1)以外で2つ答えよ。
- (4) 次の文にあてはまる国際社会の原則をそれぞれ何というか。
- ① 他国に支配されたり、干渉されたりしない権利。
 - ② 他の国々と対等である権利
- (5) 1999年に法律で定められた、①日本の国旗、②日本の国歌は何か。
- (6) 世界にはいくつの国があるか。次の[]から選べ。

[97 157 197 297 397]

[解答欄]

(1)	(2)	(3)
(4)①	②	(5)①
②	(6)	

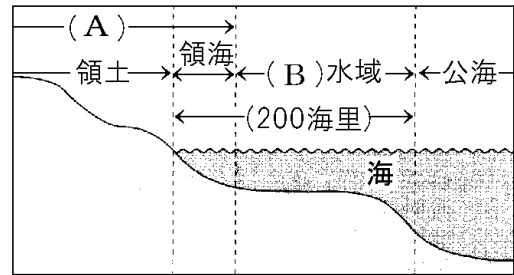
[解答](1) 主権 (2) 主権国家 (3) 国民, 領域 (4)① 内政不干涉の原則
② 主権平等の原則 (5)① 日章旗 ② 君が代 (6) 197

[領域]

[問題](2 学期期末改)

次の文の①, ②に適語を入れよ。

国家の主権がおよぶ範囲を領域といい, 領土, 領海, (①)(右図の A)からなる。領海のまわりの領土沿岸から 200 海里以内は, その水域の漁業資源や海底の鉱産資源などの権利が沿岸国に認められている(②)水域(右図の B)になっている。



[解答欄]

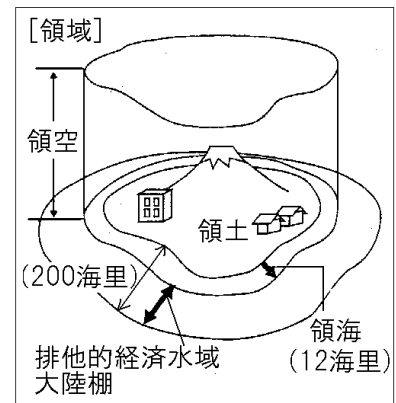
①	②
---	---

[解答]① 領空 ② 排他的経済

[解説]

国家の主権がおよぶ範囲を領域という。国家の領域は, 領土・領海(領土沿岸から 12海里)・領空(領土と領海の上空)である。(1 海里は 1852m)

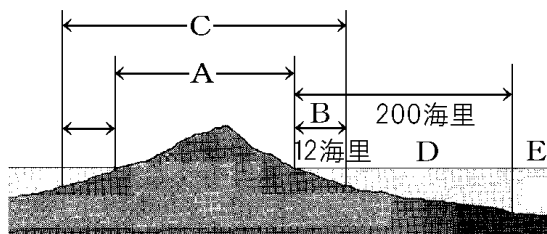
さらに, 領海の外側の領土沿岸から 200 海里までの排他的経済水域と大陸棚では, 水産資源や海底の鉱産資源を沿岸国の権利として認めている。排他的経済水域の外側の水域は公海で, どの国の船でも自由に航行できる。これを公海自由の原則という。南極大陸は, どの国の領域にもなっておらず, 人類の共通資産となっている。



※出題頻度: 「領土○」「領海○」「12 海里△」「領空○」「排他的経済水域○」「200 海里○」

[問題](3 学期)

次の図の A~E にあてはまる語句を答えよ。



[解答欄]

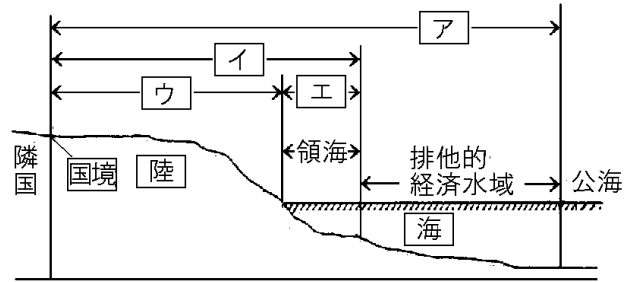
A	B	C	D
E			

[解答]A 領土 B 領海 C 領空 D 排他的経済水域 E 公海

[問題](後期中間)

次の各問いに答えよ。

- (1) 右図は国家の領域を示している。図中のア～エのうち、領空の範囲を正しく示しているものはどれか。記号で答えよ。
- (2) 図中の領海の範囲は、沿岸から何海里とされているか。



- (3) 図中の排他的経済水域の範囲は、沿岸から何海里とされているか。
- (4) 排他的経済水域では沿岸国に2つの資源の優先的な利用権が与えられている。その2つの資源とは何か。
- (5) 図中の公海について、正しいことがらを1つ選び、記号で答えよ。
- ア 他国の船は、その国の指示に従わなければならない。
- イ いかなる船も自由に航海することができる。
- ウ 海底の鉱産資源の開発では、沿岸国に優先権がある。
- エ まわりの国が協議をして、許可を受けた船のみが航海できる。
- (6) どこの国の領域にもなっていない、人類の共通資産となっている大陸はどこか。

[解答欄]

(1)	(2)	(3)	
(4)	(5)	(6)	

[解答](1) イ (2) 12 海里 (3) 200 海里 (4) 水産資源, 海底の鉱産資源 (5) イ (6) 南極大陸

[問題](3 学期)

今日、世界の国々の多くは相互に外交関係を保ち、国際社会を形成している。国際社会は(A)(①)国家をその基本的な構成単位として成立しており、国家の(①)が及ぶ範囲を(②)という。(②)は、領土・領海・領空からなり、日本の領海は、(③)海里である。排他的経済水域の外側が(④)で、(B)どの国の船でも自由な航行が保障されている。

- (1) 文中の①～④に適語を入れよ。
- (2) 近年、排他的経済水域と呼ばれる水域が設定されているが、これは一般に領土沿岸から何海里以内の範囲か。
- (3) 下線部(A)について、他国に一切干渉されない権利があるが、この原則を何というか。
- (4) 下線部(B)のような原則を何というか。

[解答欄]

(1)①	②	③	④
(2)	(3)	(4)	

[解答](1)① 主権 ② 領域 ③ 12 ④ 公海 (2) 200 海里 (3) 内政不干渉の原則
(4) 公海自由の原則

[沖ノ鳥島の護岸工事]

[問題](3 学期)

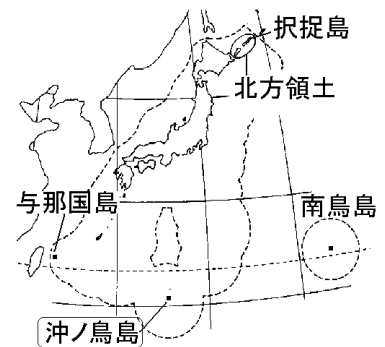
約 300 億円をかけて水没から守るための工事が行われた、日本の最南端の領土である島の名前を答えよ。

[解答欄]

[解答]沖ノ鳥島

[解説]


日本は離島りとうが多く、細長い国なので、排他的経済水域はいたてきけいぎすいいきが非常に広く、国土面積の 10 倍以上もある。日本の南端の沖ノ鳥島おきのとりしまは、満潮まんちょうのときは 2 つの岩が海面上に 30~50cm 出ただけであった。日本は、1989 年に約 300 億円の費用をかけて水没すいぼつを防ぐための工事を行った。これは、この島があることによって、その周辺 43 万km² という日本の国土面積を上回る広大な排他的経済水域を確保するためであった。



※出題頻度：「沖ノ鳥島○」

[問題](3 学期)

右図は日本の最南端にある沖ノ鳥島である。工事が行われた理由を「沖ノ鳥島が水没すると」という書き出しで簡潔に答えよ。



[解答欄]

[解答]沖ノ鳥島が水没するとそのまわりの 200 海里の排他的経済水域が失われてしまうから。

[国際法]

[問題](3 学期)

国際社会には守らなければならないルールがある。このルールは、国と国とが結ぶ条約と長い間の慣行から法となった国際慣習法からなりたっている。このルールを何というか。

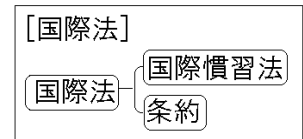
[解答欄]

--

[解答]国際法

[解説]

国家がたがいに主権^{しゅけん}を尊重し合っていくために、国際社会には守らなければならないルール^{こくさいほう}がある。国際法は、国と国とが結ぶ^{じょうやく}条約や、長い間の慣行から法となった^{かんしゅうほう}国際慣習法(例えば、^{こうかいじゆう}公海自由の原則)からなりたっている。



※出題頻度：「国際法○」「条約○」「国際慣習法○」

[問題](3 学期)

次の各問いに答えよ。

- (1) 国際社会には守らなければならないルールがある。このルールを何法というか。
- (2) (1)は、大きく 2 つのものに分けられる。次の①，②にあてはまるものを答えよ。
 - ① 国家間で話し合わせ、正式な取り決め(約束)として成立する。
 - ② 「公海自由の原則」のように、国際社会における「ならわし」としての決まり。

[解答欄]

(1)	(2)①	②
-----	------	---

[解答](1) 国際法 (2)① 条約 ② 国際慣習法

[問題](3 学期)

国際法にはどのようなものがあるか。 2 つ答えよ。

[解答欄]

--

[解答]条約，国際慣習法

[国際司法裁判所]

[問題](後期期末改)

国と国との間の争いを法に基づいて解決するために、国際連合には(X)裁判所が置かれている。本部はオランダのハーグにある。(X)裁判所で裁判を始めるには争っている当事国の同意が必要である。文中の X に適語を入れよ。

[解答欄]

[解答]国際司法

[解説]

国と国との間の争いを法に基づいて解決するために、国際連合には^{こくさいしほうさいばんしよ}国際司法裁判所が置かれている。本部はオランダのハーグにある。国際司法裁判所で裁判を始めるには争っている当事国の同意が必要なため、全ての争いが裁判によって解決されるわけではない。(国内の裁判所であれば、当事者一方の訴えで裁判を始めることができる。)

[国際司法裁判所]

本部:(オランダのハーグ)

当事国の同意が必要

※出題頻度：「国際司法裁判所○」「オランダのハーグ○」「当事国の同意が必要△」

[問題](2 学期期末)

国際司法裁判所の本部は何という国の何という都市にあるか。

[解答欄]

国名：	都市：
-----	-----

[解答]国名：オランダ 都市：ハーグ

[問題](入試問題)

次の文中の()に当てはまる内容を、「争っている当時国」という語句を使って、簡潔に書け。

国際司法裁判所で裁判を始めるには、()が必要であるため、裁判にならないことがある。

(山梨県)

[解答欄]

[解答]争っている当事国の同意

【】領土をめぐる問題

[問題](2学期中間改)

最近領土問題が表面化して、日本と近隣諸国との関係が悪化している。次にあげる①、②の地域はどの国との問題か。下の【】からそれぞれ選べ。

- ① 竹島 ② 北方領土

【ロシア 北朝鮮 中国 韓国 フィリピン】

[解答欄]

①	②
---	---

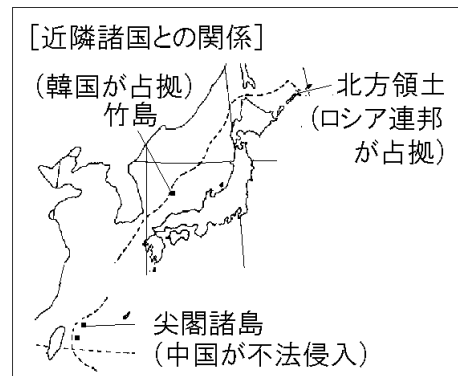
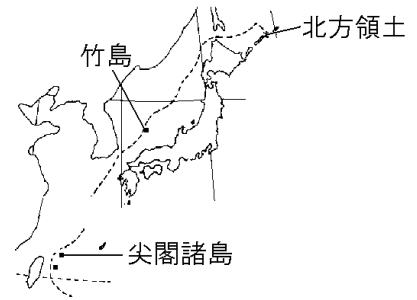
[解答]① 韓国 ② ロシア

[解説]

領土をめぐる問題としては次の3つがある。

- ・ 北方領土ほっぽうりょうど：ロシアが不法に占拠せんきょ。
- ・ 竹島たけしま：日本固有の領土。韓国が不法に占拠。
- ・ 尖閣諸島せんかく：日本が実効支配じつこうしはいしている島であるが、近年、中国が島の領海内じゅんしせんに巡視船による不法侵入をくり返している。

※出題頻度：この単元はしばしば出題される。



[問題](2学期中間)

次の①～③の国が領有権を主張している日本の領土を、それぞれすべて漢字で答えよ。

- ① ロシア
② 韓国
③ 中華人民共和国

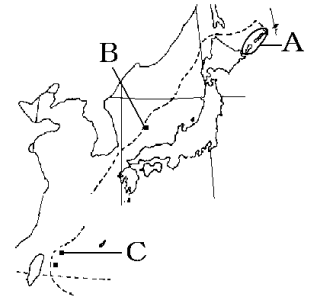
[解答欄]

①	②	③
---	---	---

[解答]① 北方領土 ② 竹島 ③ 尖閣諸島

[問題]

右図の A, B, C は日本の領土であるにもかかわらず、外国が不法占拠、あるいは領海内への不法侵入をくり返している地域である。これについて、次の各問いに答えよ。



(1) ①図の A の島々を何というか。②A を不法占拠している国はどこか。

(2) ①図の B の島を何というか。②B を不法占拠している国はどこか。

(3) 図の C の島は日本が実効支配しているが、ある国が、領有権を主張して島の領海内に巡視船による不法侵入をくり返している。①この島を何というか。②不法侵入をくり返している国の名前を答えよ。

[解答欄]

(1)①	②	(2)①	②
(3)①	②		

[解答](1)① 北方領土 ② ロシア (2)① 竹島 ② 韓国 (3)① 尖閣諸島 ② 中国

【】 国際連合

[国際連合の発足]

[問題](後期期末)

国際連盟が第二次世界大戦を防げなかった反省から、もっと強力な国際組織を作って世界の平和と安全を実現するために、1945年に51か国が(X)憲章を採択し、(X)が成立した。本部はアメリカのニューヨークに置かれている。文中のXに適語を入れよ。

[解答欄]

--

[解答]国際連合

[解説]

国際連盟が第二次世界大戦を防げなかった反省から、世界の平和と安全を実現するため、1945年に51か国が国際連合憲章を採択し、国際連合が成立した。国際連合は総会・安全保障理事会・経済社会理事会・事務局などからなり、本部はアメリカのニューヨークに置かれている。

[国際連合の発足]

国際連盟:第二次世界大戦を防げなかった

↓
国際連合

国際連合憲章

本部は(ニューヨーク)

※出題頻度:「国際連合○」「国際連合憲章○」「ニューヨーク○」

[問題](2 学期期末)

次の各問いに答えよ。

- (1) 右図は、第二次世界大戦後の世界平和を維持するためにつくられた組織のマークである。この組織を何というか。
- (2) (1)が発足する際に採択されたものは何か。
- (3) (1)の本部は、アメリカの何という都市にあるか。



[解答欄]

(1)	(2)	(3)
-----	-----	-----

[解答](1) 国際連合 (2) 国際連合憲章 (3) ニューヨーク

[問題](3 学期)

次の文章中の①～⑤に適語を入れよ。

1920 年に設立された(①)が第二次世界大戦を防げなかった反省にもとづいて組織されたのが国際連合である。(②)年、(③)が採択されて国際連合が生まれた。国際連合は、本部を(④)(国名)の(⑤)(都市名)に置き、すべての加盟国からなる総会と理事会に異なった権限が与えられ、議決方式も全会一致制を取らず、決議の円滑化をはかった。

[解答欄]

①	②	③	④
⑤			

[解答]① 国際連盟 ② 1945 ③ 国際連合憲章 ④ アメリカ ⑤ ニューヨーク

[問題]

国際連合が発足した理由を、次の3つの語句を用いて説明せよ。

[国際連盟 反省 平和]

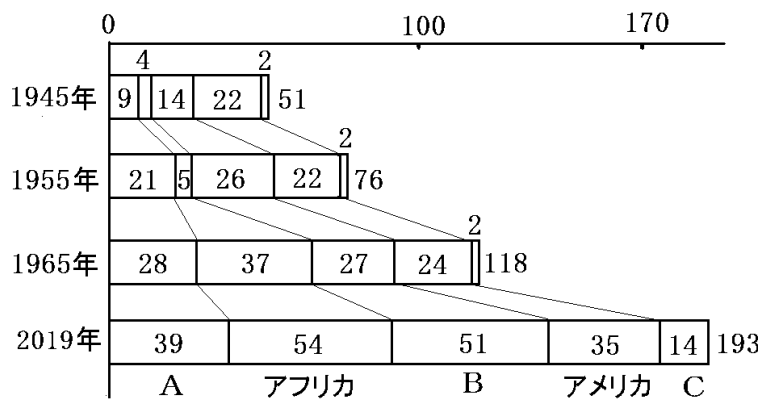
[解答欄]

[解答]国際連盟が第二次世界大戦を防ぐことができなかつた反省から、世界の平和と安全を実現するために発足した。

[加盟国数の変化]

[問題](2 学期中間)

国際連合の設立当初の加盟国は 51 か国であった。次のグラフはその後の加盟国数の移り変わりを表している。これについて、後の各問いに答えよ。



(1) アフリカの加盟国数が、1955年に比べ1965年には大きく増えている。その理由を答えよ。

(2) グラフの A～C は次の[]のいずれかである。このうち B にあてはまる地域を次の[]から選べ。

[オセアニア ヨーロッパ アジア]

[解答欄]

(1)	(2)
-----	-----

[解答](1) 多くの国が独立したから。 (2) ヨーロッパ

[解説]

図の A はアジアで、第二次世界大戦後、多くの国が独立したために 1945～1955 年間の国連加盟国数が増加している。

1960 年は「アフリカの年」といわれ、多くの独立国が生まれた。これによって、1955～1965 年間のアフリカ諸国の国連加盟国数が増加している。

B はヨーロッパで、1965～2011 年に加盟国数が増加しているのは、1991 年にソ連が崩壊し、多くの国が生まれたためである。

スイスは永世中立国の立場から国際協調重視へと方針を転換し、2002 年に国際連合に新しく加盟した。2022 年現在の国連加盟国数は 193 か国である。

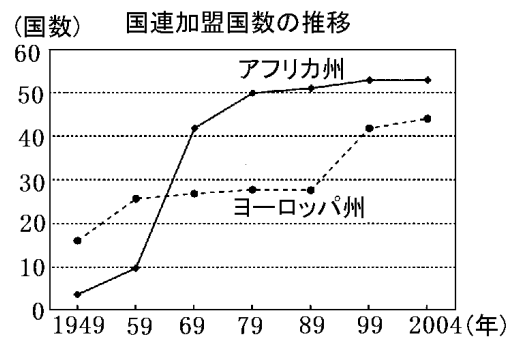
※出題頻度:「各年代における加盟国数増加の要因(アジア諸国の独立、アフリカ諸国の独立、ソ連の崩壊)○」

[加盟国数の変化]
 発足時:51か国
 1945～55年:独立した(アジアの国々)が加盟
 60年代:独立した(アフリカの国々)が加盟
 90年代:(ソ連崩壊)→多くの国が独立→加盟
 現在:193か国

[問題](入試問題)

右の資料で、アフリカ州の加盟国数は 1959 年から 1969 年の間に、ヨーロッパ州の加盟国数は 1989 年から 1999 年の間に大幅に増えていることがわかる。それはなぜか。当時の国際情勢をふまえ、それぞれの州について、簡潔に書け。

(和歌山県)



[解答欄]

アフリカ州 :
ヨーロッパ州 :

[解答]アフリカ州 : 多くの国が独立したから。

ヨーロッパ州 : ソ連が崩壊して多くの国が生まれたから。

[問題](後期期末)

次の各問いに答えよ。

- (1) 現在、国連に加盟しているのは何か国か。
- (2) 永世中立国の立場から国際協調重視へと方針を転換し、2002年9月、国際連合に新しく加盟した国の名前を答えよ。

[解答欄]

(1)	(2)
-----	-----

[解答](1) 193 か国 (2) スイス

[国際連合の仕組み]

[問題](2 学期中間)

次の表中の A, B にあてはまる国際連合の機関の名前を書け。

A	全加盟国で構成され、年に 1 回定期的に開かれる。
B	15 の理事国で構成され、世界の平和と安全の確保を目的とする。
経済社会理事会	経済・社会・文化・人権などに関する問題を処理する。

[解答欄]

A	B
---	---

[解答]A 総会 B 安全保障理事会

[解説]

国際連合には次のような機関が設けられている。

- ・ 総会：そうかい 全加盟国で構成されており、年 1 回定期的に開かれる。1 国 1 票の投票権をもっている。議決には、通常の問題では、出席し投票する国の過半数の賛成が必要。

重要事項については、出席し投票する国の 3 分の 2 以上の賛成が必要である。

- ・ 安全保障理事会：あんぜんほしょうりじかい 国際社会の平和と安全の維持をはかる機関。じょうにんりじこく 5 常任理事国と 10 非常任理事国からなる。
- ・ 経済社会理事会：経済・社会・文化・人権などに関する問題を処理する。経済社会理事会の 専門機関として、国連教育科学文化機関(ユネスコ)(UNESCO)、国際労働機関(ILO)、世界保健機関(WHO)などがある。

そのほか、信託統治理事会(しんたくとうち 現在は活動を停止)、国際司法裁判所、事務局がある。

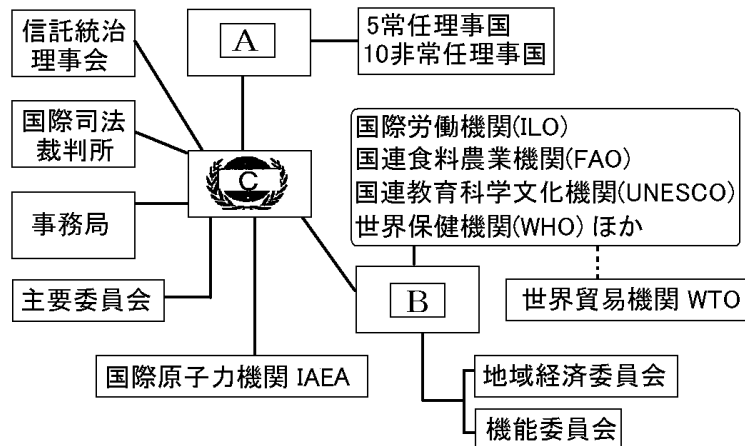
※出題頻度：「総会○」「安全保障理事会○」

[国際連合の仕組み]

総会：全加盟国で構成
安全保障理事会：15の理事国
 経済社会理事会 など

[問題](3 学期)

次の図中の A~C に適する組織名を答えよ。



[解答欄]

A	B	C
---	---	---

[解答]A 安全保障理事会 B 経済社会理事会 C 総会

[問題](入試問題)

国際連合の中の総会についての説明として誤っているものを、次のア~エから 1 つ選び、記号で答えよ。

- ア 5つの常任理事国がおかれており、これらの国々は決定に際して拒否権を持つ。
- イ 国際連合加盟国には 1 国 1 票の投票権がある。
- ウ 国際連合の中心的な機関で、全加盟国によって構成されている。
- エ 毎年 1 回、定期的で開催されている。

(鳥取県)

[解答欄]

[解答]ア

[解説]

アは安全保障理事会についての説明である。

[問題](2 学期中間)

国際労働機関(ILO)、世界保健機関(WHO)、国連教育科学文化機関(UNESCO)などの専門機関が置かれているのは、国連の何という理事会か。

[解答欄]

[解答]経済社会理事会

[安全保障理事会：常任理事国・非常任理事国]

[問題](入試問題)

国際連合の主要機関で、世界の平和と安全維持に責任をもち、アメリカ・ロシア・イギリス・フランス・中国の5つの常任理事国と10の非常任理事国から構成される理事会は何か。

(沖縄県)

[解答欄]

[解答]安全保障理事会

[解説]

国際連合は、国際連盟の失敗に対する反省から、侵略国に対して加盟国全体で武力制裁を含む制裁措置を行う集団安全保障のしくみがとられている。

平和と安全の維持にあたっているのは安全保障理事会で、アメリカ、ロシア、イギリス、フランス、

中国の5か国が常任理事国で、非常任理事国は10か国である(任期は2年)。

※出題頻度：「集団安全保障△」「安全保障理事会○」「常任理事国○」

「アメリカ・ロシア・イギリス・フランス・中国○」「非常任理事国△」

[安全保障理事会]

常任理事国: アメリカ, ロシア連邦, イギリス, フランス, 中国

非常任理事国: 10か国

[問題](2学期中間)

安全保障理事会において、現在5常任理事国ではない国を次の[]から2つ選べ。

[中国 ドイツ アメリカ 日本 フランス イギリス ロシア]

[解答欄]

[解答]ドイツ, 日本

[問題](後期期末)

次の各問いに答えよ。

- (1) 国際連合の加盟国は他国に侵略しないことを約束し、もし侵略が生じた場合には、加盟国が共同で制裁を行うという考えかたを何というか。漢字6字で答えよ。
- (2) 国連の主要機関で、世界の平和と安全の維持にあたっている理事会は何か。
- (3) (2)の理事会を構成する理事国のうち、①拒否権を持つ5か国を特に何というか。②また、その5か国の名前を答えよ。
- (4) (2)の理事会に2年間の任期で参加する国のことを何というか。

[解答欄]

(1)	(2)	(3)①
②		(4)

[解答](1) 集団安全保障 (2) 安全保障理事会 (3)① 常任理事国

② アメリカ, ロシア, イギリス, フランス, 中国 (4) 非常任理事国

[安全保障理事会の議決]

[問題](後期期末)

5 常任理事国のうち 1 国でも反対すれば, 国際紛争の処理など重要な議案について決定できない。この権利を何というか。

[解答欄]

[解答]拒否権

[解説]

あんぜんほしやうりじかい
安全保障理事会の議決は 9 理事国以上の多数決で行われるが, 重要問題の議決には, 5 常任理事国を含む 9 理事国以上の賛成が必要で, 常任理事国のうち 1 国でも反対すれば議決されない。これを きよひけん拒否権という。

れいせん
米ソの冷戦時代には, 国際紛争には米ソのいずれかまたは双方が関係している場合, 拒否権が発動されることが多く, 国際紛争に有効に対応できなかった。

※出題頻度:「拒否権◎」

[安全保障理事会の議決]

15の理事国のうち,
9理事国以上の賛成が必要
ただし, 常任理事国は **拒否権** を持つ

[問題](3 学期)

次の文章中の①, ②に適する数字を, ③には適語を入れよ。

安全保障理事会は, 常任理事国と非常任理事国で構成されている。重要事項の決議は, 常任理事国(①)か国のすべてを含む(②)理事国以上の賛成投票によるため, 常任理事国は, いわゆる(③)権を持っていることになり, 自国に不利な決議を否決するなどの大きな問題も現れた。特に米ソの対立時代には, 国際紛争に有効に対応できなかったが, 現在では(③)権の発動も少なくなっている。

[解答欄]

①	②	③
---	---	---

[解答]① 5 ② 9 ③ 拒否

[問題](2 学期期末)

安全保障理事会における、重要事項の議決の仕方を答えよ。

[解答欄]

[解答]5 常任理事国のすべてを含む 9 理事国以上の賛成投票によって可決される

[問題](入試問題)

平和への取り組みに主要な責任を負っているのが安全保障理事会である。次の表は、2017 年 4 月に安全保障理事会で否決となったある決議案に賛成した国と反対した国と棄権した国の内訳を示したものである。安全保障理事会を構成する 15 か国のうち、賛成した国が 10 か国であったにもかかわらずこの決議案が否決となった理由を簡潔に書け。

賛 成	反 対	棄 権
アメリカ合衆国, イギリス, イタリア, ウクライナ, ウルグアイ, エジプト, スウェーデン, セネガル, 日本, フランス	ボリビア, ロシア	エチオピア, カザフスタン, 中国

(大阪府)

[解答欄]

[解答]常任理事国であるロシアが拒否権を発動したから。

[問題](3 学期)

右の資料は、国際連合の安全保障理事会でのある重要事項の採決のようすを表したものである。この採決の結果をみて、この決議案が可決されたか、否決されたかを、その理由もふくめて説明せよ。

	常任理事国	非常任理事国
賛成票	4 表	6 票
反対票	1 票	4 表

[解答欄]

[解答]重要事項の決議は、5 常任理事国のすべてを含む 9 理事国以上の賛成投票によって可決されるが、この場合は、常任理事国の 1 つが反対しているため(拒否権を発動したため)、この決議案は否決された。

[PKO(平和維持活動)]

[問題](3 学期)

紛争地域の敵対する兵力の引き離しや停戦の監視などの活動を行っている国連の活動は何か。①名称(漢字 6 字)と、②略称(アルファベット 3 字)を記せ。

[解答欄]

①	②
---	---

[解答]① 平和維持活動 ② PKO

[解説]

国際平和の維持にあたる国連の機関は安全保障理事会である。

しかし、東西の対立がきびしかった冷戦期には、拒否権がひんぱんに発動されたため安全保障理事会は十分に機能しなかった。

これにかわって必要に応じた便宜的措置として生まれたのが、国

連の平和維持活動(PKO)である。当初は、紛争当事国の同意を前提として小規模の平和維持軍(PKF)を派遣し、停戦の監視、兵力分離、非武装地帯の維持、平和回復後の選挙監視などの任務にあたった。冷戦中は 5 大国の PKO 参加は控えられる傾向があった。

1989 年 12 月の米ソ首脳会談で冷戦終結宣言が行われてからは、冷戦の下でおさえられてきた地域的な民族・宗教・領土紛争などが頻発するようになり、国連の平和維持活動(PKO)は急増し、その性質も以前の PKO と異なるものになった。1991 年の湾岸戦争後に設置された国連イラク・クウェート監視団は、イラクの同意を得ずに派遣された。さらに、1993 年の国連ソマリア活動では、国連が平和を強制するために重火器で装備した平和執行部隊を派遣したが、失敗に終わっている。

※出題頻度：「PKO(平和維持活動)○」

[PKO](平和維持活動)
紛争地域へ
平和維持軍を派遣

[問題]

PKO の活動として適切なものはどれか。次のア～エから 1 つ選び、記号で書け。

- ア 紛争地域での停戦や選挙の監視などをおこなう活動
- イ 予防接種を広めたり、保健の大切さを伝えたりする活動
- ウ 発展途上国に小学校を建てるなど、教育を広める活動
- エ 青年海外協力隊員を派遣し、技術協力をおこなう活動

[解答欄]

--

[解答]ア

[解説]

国際連合は、紛争地域に平和維持軍(PKF)を派遣して、停戦の監視などの平和維持活動(PKO)を行っている。イは WHO、ウは UNESCO、エは ODA による活動である。

[問題](2 学期中間)

当事国の要請を受けた場合、安全保障理事会の決議に基づいて、紛争地域に軽装備の軍隊を送り、兵力の引き離しを行う活動をする。この際の軍隊 PKF を日本語で(漢字を用いて)答えよ。

[解答欄]


[解答]平和維持軍

[UNESCO]

[問題](入試問題)

国際機関等の活動について説明した次の文中の①について、()の中から適切なものを選び。また、②に入る適切な語句を書け。

右の資料の白川郷・五箇山の合掌造り集落群は、国連の専門機関である①(UNICEF/UNESCO/WHO)により、1995年に(②)として登録され保護が図られている。



(富山県)

[解答欄]

①	②
---	---

[解答]① UNESCO ② 世界遺産

[解説]

ユネスコ
UNESCO(国連教育科学文化機関)は、教育・科学・文化を通じて、各国間の相互理解や協力を推進する機関である。世界の文化遺産及び自然遺産の保護に関する条約に基づいて、世界遺産の保護や修復等も行っている。

[UNESCO]
世界遺産の保護や修復

※出題頻度：「UNESCO○」「世界遺産○」

[問題](入試問題)

ユネスコ(UNESCO)のおもな活動の説明として最も適当なものを次のア～エから1つ選べ。

- ア 武力紛争などで他国にのがれた難民を保護する活動をしている。
- イ おもに発展途上国で医療・衛生への取り組みをしている。
- ウ 子どもの心身の健やかな成長を守る活動をしている。
- エ 世界遺産の決定や文化財保護、識字教育などの活動をしている。

(福島県)

[解答欄]

[解答]エ

[解説]

アは国連難民高等弁務官事務所(UHCR)、イは世界保健機関(WHO)、ウは国連児童基金(UNICEF)、エは国連教育科学文化機関(UNESCO)の活動である。

[UNICEF]

[問題](後期期末)

国連児童基金は、主に、発展途上国において、児童に対する予防接種や、安全な水の供給などを行っている国際連合の機関である。国連児童基金の略称(アルファベット)を答えよ。

[解答欄]

[解答]UNICEF

[解説]

ユニセフ こくれんじどうききん
UNICEF (国連児童基金)は、総会によって設立された機関の1つで、本部がニューヨークにあり、戦争などで被害を受けた地域や発展途上国^{はってんとじょうこく}で、児童の生活向上(医療や食料)のために活動している。

[UNICEF]
発展途上国の
児童の生活向上

※出題頻度：「UNICEF○」

[問題](入試問題)

ユニセフについての説明として、正しいものを次のア～エから1つ選び、記号で答えよ。

- ア 紛争地域における停戦の監視など平和維持活動を行っている。
- イ 難民に国際的な保護を与える活動を行っている。
- ウ 子供たちの命と健康を守ることを中心とした活動を行っている。
- エ 教育・科学・文化の分野から国際平和を目指した活動を行っている。

(沖縄県)

[解答欄]

[解答]ウ

[解説]

アは平和維持活動(PKO)、イは国連難民高等弁務官事務所(UHCR)、エは国連教育科学文化機関(ユネスコ：UNESCO)の活動である。

[その他の専門機関]

[問題](3 学期)

次の①，②にあたる国連の組織名を答えよ。

- ① 労働条件と生活水準の改善を国際的に実現することを目的とする。
- ② 伝染病の撲滅をはじめ，麻薬取り扱いの規律を定めている。

[解答欄]

①	②
---	---

[解答]① 国際労働機関(ILO) ② 世界保健機関(WHO)

[解説]

世界保健機関(WHO)：保健に関する国際協力をはかる。

国際労働機関(ILO)：労働者の地位向上をはかる。

国際通貨基金(IMF)：為替の安定や貿易の拡大をはかる。

国連難民高等弁務官事務所(UNHCR)：難民の保護や支援を行う。

※出題頻度：この単元はときどき出題される。

[問題](後期中間)

次の①～⑥にあたる国連の組織名を略称(アルファベット)で答えよ。

- ① 労働者の地位の安定と労働条件の向上をはかる。
- ② 伝染病の撲滅などのために活動している。
- ③ 世界遺産の保護や修復等を行っている。
- ④ 発展途上国の児童の生活向上をはかる。
- ⑤ 国際通貨制度を整え，貿易を促進する。
- ⑥ 難民の国際的な保護を行う。

[解答欄]

①	②	③	④
⑤	⑥		

[解答]① ILO ② WHO ③ UNESCO ④ UNICEF ⑤ IMF ⑥ UNHCR

【】 地域主義

[問題](後期期末改)

経済や安全保障や環境問題などで、特定の地域の国どうしがまとまりをつくって、そこで協調や協力を強めようとする動きが出てきている。ヨーロッパの EU, 東南アジアの ASEAN, アジア・太平洋地域の APEC や TPP11, 北アメリカの NAFTA, などはその例である。このような動きを何と呼ぶか。カタカナで答えよ。

[解答欄]

[解答]リージョナリズム

[解説]

今日では、資源・エネルギー・人口と食料などの問題は、もはや 1 国だけでは解決ができない地球規模の問題になっている。こうした状況の下で、経済・環境・安全保障などで、同じ問題をかかえている一定地域の国家がまとまりをつくって、そこで協調や協力を強めようとする動きが出てきているが、これを地域主義(リージョナリズム)という。

その代表例は EU(ヨーロッパ連合)である。共通の通貨(ユーロ)が導入され、ヨーロッパ全体が 1 つの国内市場のようになってきている。また、外交や安全保障の分野においても、共通の政策をとる努力がなされている。さらに、EU に大統領、議会、政府において、1 つの国のようにしようという動きもすすみ、そのために EU の憲法をつくろうという努力も続けられている。

アジアにおいては、1967 年に ASEAN(東南アジア諸国連合)が東南アジア地域の経済、社会の発展につとめることを目的に設立された。現在では 10 か国が加盟しており、事務局はインドネシアのジャカルタに置かれている。近年、ASEAN に日本、中国、韓国を加えた「ASEAN + 3」という会合が開かれ協力を深めている。アジア太平洋地域には、1989 年にオーストラリアの提唱ではじまった APEC(アジア太平洋経済協力会議)があり、アメリカ、日本、オーストラリア、中国、韓国、ASEAN 諸国、ロシアなど 21 か国が参加している。アジア太平洋地域では、TPP11(環太平洋経済連携協定)が 2018 年に調印された。アメリカは 1994 年に、カナダ、メキシコとの間で NAFTA(北米自由貿易協定)を発足させ、関税撤廃や投資規制の解除などを進めている。

※出題頻度：「地域主義(リージョナリズム)○」「EU○」「ASEAN○」「APEC△」「NAFTA△」「TPP11△」

[地域主義(リージョナリズム)]

EU(ヨーロッパ連合)

ASEAN(東南アジア諸国連合)

APEC(アジア太平洋経済協力会議)

NAFTA(北米自由貿易協定)

TPP11(環太平洋経済連携協定)

[問題](3 学期)

次の各問いに答えよ。

- (1) 安全保障，食料，環境問題を抱える特定の地域の国がまとまりをつくり，国際的に協調を強める動きを何というか。
- (2) (1)のまとまりのうち，ヨーロッパでつくられている組織を何というか。アルファベットを使って表せ。
- (3) 東南アジアでは 1967 年に経済や政治の分野での協力を目的に組織がつけられた。この組織を何というか。アルファベットを使って表せ。

[解答欄]

(1)	(2)	(3)
-----	-----	-----

[解答](1) 地域主義(リージョナリズム) (2) EU (3) ASEAN

[問題](2 学期期末)

次の文の①～⑤に適語を入れよ。③，④，⑤はアルファベットで答えよ。

今日，世界各地で(①)と呼ばれる，同じ問題をかかえている国家がある特定の地域で，協調や協力を強めようとする動きが顕著になっている。現在，ヨーロッパ各国はたがいの結びつきを強め，経済面では EU の中央銀行をつくり，各国の通貨を廃止して共通の通貨(②)を使うことによって，ヨーロッパ全体が 1 つの国内市場のようになってきている。東南アジアでは，1967 年に地域内の安定と発展を求めて(③)が設立され，加盟国を増やしながら，経済と政治の分野で協力を進めてきている。アジア太平洋経済協力会議のことを(④)という。(④)は 1989 年より地域内の協力をはかる目的でつけられ，現在，アメリカ，日本，オーストラリア，韓国などが参加している。北米大陸では，1992 年にアメリカ，カナダ，メキシコが(⑤)を結んだ。

[解答欄]

①	②	③	④
⑤			

[解答]① 地域主義(リージョナリズム) ② ユーロ ③ ASEAN ④ APEC ⑤ NAFTA

[問題](後期期末)

次の①～⑤の地域的なつながりをもつ組織名を，アルファベットで答えよ。

- ① 1993 年に EC が発展した組織
- ② 北アメリカの貿易を発展させるために 1992 年に設立された組織
- ③ 太平洋に面した国々の貿易を活発にするために 1989 年に設立された組織
- ④ 1967 年に設立された東南アジアの国が経済面，政治面の協力をするための組織
- ⑤ 環太平洋経済連携協定の交渉が行われ，2018 年に成立した。

[解答欄]

①	②	③	④
⑤			

[解答]① EU ② NAFTA ③ APEC ④ ASEAN ⑤ TPP11

【】 新興国の台頭と経済格差

[問題](3 学期)

次の文章中の①，②に適語を入れよ。

先進工業国と発展途上国との間の経済格差から生まれるさまざまな問題を(①)問題といい、1960 年ころから国際社会の重要な課題とされるようになった。1970 年代以降になると、同じ発展途上国の中でも、工業化が進んできた国・地域や石油などの資源をもつ国と、資源や産業をもたず経済的な発展が遅れている国との間に新たな経済格差が生まれた。この経済格差を(②)問題という。

[解答欄]

①	②
---	---

[解答]① 南北 ② 南南

[解説]

地球の北側に多い、工業や経済が発展している国々を^{せんしんこうぎょうこく}先進工業国、地球の南側に多い、工業や経済の発展が遅れている国々を^{はってんとじょうこく}発展途上国といい、その間の経済格差を^{かくさ}南北問題という。

[南北問題・南南問題]

南北問題:先進工業国と発展途上国の経済格差

南南問題:発展途上国内の経済格差

発展途上国(または、かつての発展途上国)の中でも、1960 年代以降に急速に工業化した^{しんこう}新興工業経済地域^{ニース}(NIES)(韓国、台湾、ホンコン、シンガポール、ブラジル、メキシコ)、2000 年代以降に成長した^{ブリックス}BRICS(ブラジル、ロシア、インド、中国、南アフリカ共和国)などの新興国が現れている。こうした新興国は、国際社会での発言力を強めている。例えば、世界の政治や経済について話し合う^{サミット}主要国首脳会議(サミット)は、以前は先進国を中心とする 8 か国と EU とが開く G8(現在はロシアが排除されて G7)が中心であったが、1999 年以降は、新興国などの 11 か国が加わって開かれる G20 の影響力も大きくなっている。一方で、サハラ砂漠から南のアフリカでは、政治的に不安定な国や地域が多く、産業の発展や資源の開発が遅れている。このように、現在では「南北」だけでなく、途上国の間でも経済格差が広がっており、南南問題とよばれている。

※出題頻度:「南北問題△」「南南問題△」「発展途上国△」「NIES△」「BRICS△」

[問題](2 学期期末)

次の各問いに答えよ。

- (1) 地球の北側に多い、工業や経済が発展している国々を何というか。
- (2) 地球の南側に多い、工業や経済の発展が遅れている国々を何というか。
- (3) (1)と(2)の間の格差を何問題というか。
- (4) (2)の中でも急速に発展した新興国が現れており、(2)の間でも経済格差が見られる。この格差を何問題というか。

[解答欄]

(1)	(2)	(3)	(4)
-----	-----	-----	-----

[解答](1) 先進工業国 (2) 発展途上国 (3) 南北問題 (4) 南南問題

[問題](2 学期期末)

次の各問いに答えよ。

- (1) 1960年代以降に急速に工業化が進んだ韓国, 台湾, ホンコン, シンガポール, ブラジル, メキシコなどを何と呼ぶか。アルファベットで答えよ。
- (2) 2000年代に入って急速に発展したブラジル, ロシア, インド, 中国, 南アフリカ共和国を何と呼ぶか。アルファベットで答えよ。
- (3) 南北問題とはどのような問題か, 簡潔に説明せよ。
- (4) 南南問題とはどのような問題か。簡潔に説明せよ。

[解答欄]

(1)	(2)
(3)	
(4)	

[解答](1) NIES (2) BRICS (3) 先進工業国と発展途上国の間の経済格差の問題。

(4) 発展途上国における経済格差の問題。

【】 さまざまな国際問題

【】 地球環境問題

[地球温暖化]

[問題](後期期末改)

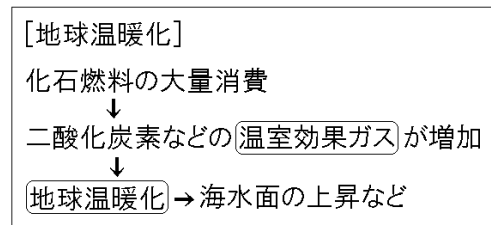
地球温暖化によって、北極圏や南極大陸の氷がとけて海水面が上昇し、海拔の低い島国が水没することが心配されている。地球温暖化の原因になっている二酸化炭素などのガスを何というか。

[解答欄]

[解答]温室効果ガス

[解説]

石油や石炭などの化石燃料かせきねんりょうの大量消費は、地球温暖化おんだんかにつながる温室効果ガスおんしつこうかの二酸化炭素を排出する。地球温暖化によって、多くの生物が生きていけなくなったり、農作物が育たなくなったり、干ばつや洪水などの自然災害が起きたりするなど、多くの被害が予想されている。



また、北極圏けんや南極大陸の氷がとけて海水面が上昇し、海拔かいぼつの低い島国(ツバルやモルディブなど)が水没すいぼつすることも心配されている。

※出題頻度：「温室効果ガス○」「地球温暖化○」「北極圏や南極大陸の氷がとけて海水面が上昇→海拔の低い島国が水没△」

[問題](3 学期)

次の各問いに答えよ。

- (1) 石油などの化石燃料から発生する二酸化炭素の増加が原因で、地球規模で問題になっていることは何か。
- (2) (1)の原因になっている二酸化炭素などのガスを何というか。
- (3) (1)によりどのような問題がおこるか。「氷」「水没」という語句を使って説明せよ。

[解答欄]

(1)	(2)
(3)	

[解答](1) 地球温暖化 (2) 温室効果ガス (3) 北極圏や南極大陸の氷がとけて海水面が上昇し、海拔の低い島国が水没するおそれがある。

[問題](3 学期)

ツバルやモルディブなどが海に沈むおそれがあるといわれるのはなぜか。

[解答欄]

[解答]地球温暖化によって、北極圏や南極大陸の氷がとけて海水面が上昇するから。

[環境問題への国際社会の取り組み]

[問題]

次の文章中の①，②に適語を入れよ。

1992年に国連環境開発会議(地球サミット)がブラジルで開催され、気候変動枠組条約や生物多様性条約などが調印された。1997年には、気候変動枠組条約の締約国会議(COP)として(①)で開催された地球温暖化防止(①)会議で、先進国に温室効果ガスの排出削減を義務づける(①)議定書が採択された。しかし、(①)議定書をめぐり、アメリカが離脱したり、先進国と発展途上国との間で利害対立が起きたりした。2015年に(②)協定が採択され、産業革命前からの気温上昇を2度より低くおさえるという目標に向けて、途上国をふくむすべての参加国がそれぞれ削減目標を立てて取り組むことになった。

[解答欄]

①	②
---	---

[解答]① 京都 ② パリ

[解説]

地球環境問題は1国だけでは解決できない問題であり、国際社会の協力が不可欠である。

1992年には国連環境開発会議(地球サミット)がブラジルのリオデジャネイロで開催され、地球環境を保全しながら、持続可能な開発のためにはどうすればよいかが討議された。すなわち、現在の世代の幸福と将来の世代の幸福とを両立させることのできる持続可能な社会を実現させるためにはどうすればよいかについて話し合い

が行われた。そして、気候変動枠組条約や生物多様性条約などが調印された。

1997年には、気候変動枠組条約の締約国会議(COP)として京都で開催された地球温暖化防止京都会議で、先進国に温室効果ガス(二酸化炭素)の排出削減を義務づける京都議定書が採択された。これによって、削減義務がある先進国では二酸化炭素の排出量が減少したが、削減義務のない発展途上国(特に中国)の排出量が大きく増加し、世界全体として増えた。

[環境問題への国際社会の取り組み]

1992年 国連環境開発会議(地球サミット)
持続可能な社会

1997年 地球温暖化防止京都会議
京都議定書
(先進国に温室効果ガスの排出削減を義務づけた)

2015年 パリ協定
(すべての参加国が自主的に削減目標を決める)

先進諸国側が「途上国の中にも急速な工業化でたくさんの温室効果ガスを排出している国があるので、これらの国も排出削減を行うべきである」と主張したのに対し、発展途上国側は「温室効果ガスを排出して温暖化の原因をつくったのは先進国だから、先進国が排出量を削減すべきである。私たち途上国も工業化して豊かになる権利があるはずだ」と主張し、先進国と発展途上国との間で利害対立が起きた。また、アメリカが京都議定書を離脱した。
2015年にはパリ協定が採択され、途上国を含むすべての参加国が自主的に削減目標を決め、平均気温の上昇をおさえる対策をすすめることで合意した。

※出題頻度：「国連環境開発会議(地球サミット)○」「持続可能な開発(社会)○」
「京都議定書○」「気候変動枠組条約△」「パリ協定○」

[問題](3 学期)

次の各問いに答えよ。

- (1) 国際的に協力して地球環境の保全をはかることを目的として、1992年にブラジルで開催された会議は何か。
- (2) 1997年、日本で地球温暖化防止のための国際会議が開かれたが、①何という会議か。
②また、そこで採択された文書は何か。
- (3) (2)の文書は、先進国と発展途上国との間で温室効果ガスの排出量の削減に対する考え方に違いがあるなど、課題が指摘されていた。この課題を解決するために、ある合意が2015年に多くの国家間で採択され、先進国も発展途上国も温室効果ガスの排出削減に取り組むことが決められた。この合意は何と呼ばれるか。

[解答欄]

(1)	(2)①	②
(3)		

[解答](1) 国連環境開発会議(地球サミット) (2)① 地球温暖化防止京都会議
② 京都議定書 (3) パリ協定

[問題]

次の文章中の①～⑦に適語を入れよ。

地球環境問題は1国だけでは解決できない問題であり、国際社会の協力が不可欠である。1992年には(①)サミットがブラジルで開催され、(②)条約や生物多様性条約などが調印された。1997年には、(2)条約の締約国会議(COP)として日本の(③)で国際会議が開かれ、(④)を防止するために、先進国に(⑤)ガスの排出削減を義務づける(⑥)書が採択された。2015年には(⑦)が採択され、産業革命前からの気温上昇を2度より低くおさえるという目標に向けて、途上国をふくむ197か国・地域がそれぞれ削減目標を立てて取り組むことになった。

[解答欄]

①	②	③	④
⑤	⑥	⑦	

[解答]① 地球 ② 気候変動枠組 ③ 京都 ④ 地球温暖化 ⑤ 温室効果 ⑥ 京都議定
⑦ パリ協定

[問題](入試問題)

右の表は、世界全体の二酸化炭素排出量について、京都議定書で二酸化炭素排出量の削減義務がある国の排出量の合計と、その他の国の排出量の合計とに分けて、1990年と2008年とを比較したものである。世界全体の二酸化炭素排出量を

	二酸化炭素排出量(百万 t)	
	1990年	2008年
削減義務がある国	8785	7980
その他の国	11567	20368
世界計	20352	28348

削減するには、京都議定書による取り組みだけでは不十分だと言われるのはなぜか。その理由を、表から二酸化炭素排出量の変化を読み取って、説明せよ。

(熊本県)

[解答欄]

[解答]二酸化炭素排出量は、削減義務がある国では減少しているが、その他の国では大きく増加しており、世界全体として増えているから。

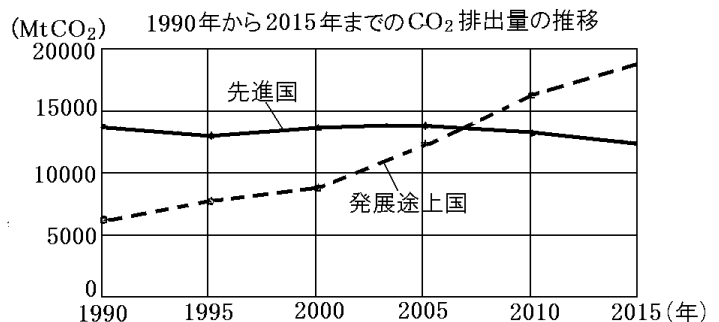
[問題](入試問題)

温室効果ガスの排出削減をめぐり、先進国と発展途上国の間には主張の対立が見られる。次の条件 1, 2 にしたがって、パリ協定が採択されるまでの対立について、先進国と発展途上国の立場から、相手がどうすべきと主張していたか説明せよ。

条件 1：グラフをふまえること。

条件 2：京都議定書の内容をふまえること。

(北海道)



*MtCO₂とは、二酸化炭素の排出量をメガトン(100万トン)単位で表したものである。

[解答欄]

先進国の立場：

発展途上国の立場：

[解答]先進国の立場：発展途上国はCO₂排出量が増加しているので、京都議定書のように先進国にだけ排出削減義務を課すのではなく、発展途上国にも削減義務を課すべきである。
発展途上国の立場：先進国はこれまでCO₂を多く排出してきたので、京都議定書のように先進国にだけ排出削減義務を課し、先進国は排出削減し続けるべきである。

[その他の地球環境問題]

[問題](2 学期期末)

次の各問いに答えよ。

- (1) 石油や石炭が燃えると大気中に窒素化合物などが放出され、雨に溶けて湖の生物や森林などに被害を与えることが問題になっている。この雨のことを何というか。
- (2) フロンガスが原因で、破壊されている大気層は何か。

[解答欄]

(1)

(2)

[解答](1) 酸性雨 (2) オゾン層

[解説]

現在、さまざまな地球環境問題が起きている。温室効果ガスによる地球温暖化のほかに次のような問題がある。

- ・ヨーロッパなどでは、窒素酸化物と硫黄酸化物による酸性雨によって森林が枯れる被害が出ている。
- ・フロンガスによるオゾン層の破壊も深刻な問題である。オゾン層は地球に降りそそぐ紫外線を吸収するという役割を果たしているが、これが破壊されると、生物体にとって非常に有害な紫外線が地上に降りそそぐことになる。
- ・アフリカのサヘル地域では砂漠化が深刻な問題になっている。
- ・アマゾン川流域などで、開発によって熱帯雨林の減少が起きている。

※出題頻度：この単元はときどき出題される。

[地球環境問題]

- ・地球温暖化←温室効果ガス
- ・酸性雨
- ・オゾン層の破壊←フロン
- ・砂漠化
- ・熱帯雨林の減少

[問題](3 学期)

次の文章中の①～⑤に適する語句を下の[]からそれぞれ選べ。

環境問題では、窒素酸化物と硫黄酸化物による(①)雨や、(②)といわれる地球の気温の上昇、フロンによる(③)破壊、アフリカのサヘル地域に代表される(④)などがあげられており、加えて熱帯気候のもとで生育する森林である(⑤)などの森林が破壊される現象も大きな問題である。

[電離層 公害 熱帯雨林 酸性 流星 地球温暖化 弱酸性 タイガ オゾン層 砂漠化]

[解答欄]

①	②	③	④
⑤			

[解答]① 酸性 ② 地球温暖化 ③ オゾン層 ④ 砂漠化 ⑤ 熱帯雨林

[問題](2 学期期末)

次の文章中の①～⑥に適語を入れよ。

石油や石炭などの(①)燃料の使用は、地球温暖化につながる(②)ガスの二酸化炭素を排出する。硫黄酸化物や窒素酸化物が、雨に混じった(③)は森林破壊の原因となる。伐採による森林の減少は、土壌流出の原因となり、(④)化につながる。冷蔵庫やスプレー缶などに使われていた(⑤)ガスは、(⑥)層を破壊し、大量の紫外線を地上にもたらす。

[解答欄]

①	②	③	④
⑤	⑥		

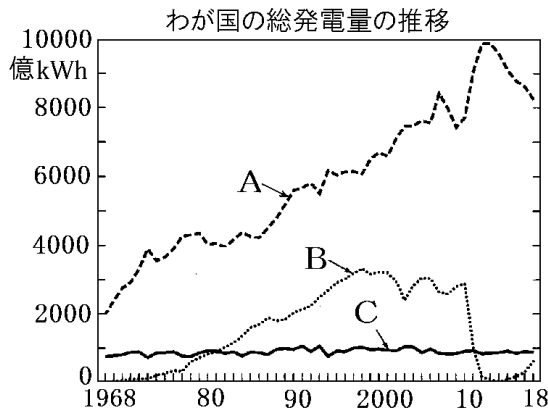
[解答]① 化石 ② 温室効果 ③ 酸性雨 ④ 砂漠 ⑤ フロン ⑥ オゾン

【】 資源・エネルギー問題

[火力・水力・原子力発電]

[問題](3 学期)

次のグラフは日本の発電量の推移を表している。グラフ中の A～C はそれぞれ何発電か。



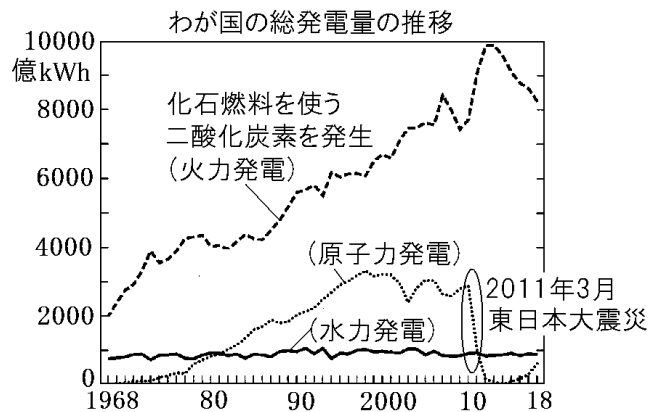
[解答欄]

A	B	C
---	---	---

[解答]A 火力発電 B 原子力発電 C 水力発電

[解説]

戦後すぐのころは、山が多く水資源の豊富なわが国の特色を生かした水力発電(図のC)が主力であった。しかし、水力発電のためのダムを建設できる場所には限りがあるため、その後、石油・石炭・天然ガスなどの化石燃料を使った火力発電(図のA)が主力になった。1966年に、最初に原子力発電所が茨城県東海村に建設されたが、原子力発電(図のB)が大きく



伸びるきっかけになったのは、70年代初めにおきた石油危機で石油価格が高騰したことである。原子力発電には、地球温暖化の原因となる二酸化炭素を排出しないという長所がある。しかし、事故が起きたときには放射能汚染を引き起こす危険性がある。2011年3月の東日本大震災による大津波で、東京電力の福島第一原子力発電所の原子炉が損傷して放射能物質の流失がおこった。図のBの原子力発電の発電量が2011年以降、大幅に減少したのは、この事故によって原子力発電の安全性に疑問が持たれ、全国の原子力発電所の運転が停止されたためである。

※出題頻度：この単元はときどき出題される。

[問題](3 学期)

次の各問いに答えよ。

- (1) 石油, 石炭, 天然ガスなどを何燃料というか。
- (2) (1)を燃料とする発電方法は何か。
- (3) 石油ショック後, 日本は石油にかわる代替エネルギーの中心を何においてきたか。

[解答欄]

(1)	(2)	(3)
-----	-----	-----

[解答](1) 化石燃料 (2) 火力発電 (3) 原子力

[問題](3 学期)

原子力発電の長所と短所を書け。

[解答欄]

長所:
短所:

[解答]長所: 二酸化炭素を排出しない。 短所: 放射能もれなど安全性に問題がある。

[再生可能エネルギーを使った発電]

[問題](入試問題)

太陽光と同じく再生可能エネルギーといわれるものとして最も適するものを, 次の[]
の中から 2 つ選べ。

[石油 地熱 天然ガス 風力 石炭]

(神奈川県)

[解答欄]

--

[解答]地熱, 風力

[解説]

現在のエネルギー源の中心は, 石油・石炭・天然ガスなどの化石燃料であるが, 数十年のうちに枯渇すると予想されている。また, 原子力発電の燃料となるウランも数十年で枯渇すると予想されている。

[再生可能エネルギー]を使った発電
太陽光発電, 風力発電, 地熱発電
長所: 資源が枯渇しない, 二酸化炭素を発生しない
短所: 費用が高い, 自然条件に左右される

これに対し、太陽光発電・風力発電・地熱発電・水力発電・バイオマス発電など再生可能エネルギーを利用した発電の場合、資源が枯渇することはない。しかも、石油などの化石燃料のように、地球温暖化をもたらす二酸化炭素を発生させることもない。しかし、現在の技術では発電などの費用が高い点や、太陽光発電や風力発電は電力の供給が自然条件に左右される点、地熱発電は周辺の自然や観光施設との共存といった点が課題である。

※出題頻度：「再生可能エネルギー○」「太陽光発電，風力発電，地熱発電○」

「枯渇しない，二酸化炭素を発生しない△」「費用が高い，自然条件に左右される△」

【問題】(1 学期期末)

再生可能エネルギーを利用した発電方法を 3 つあげよ。(ただし、水力発電は除く)

【解答欄】

【解答】太陽光発電，風力発電，地熱発電

【問題】

次の文章中の①～⑧に適語を入れよ。

現在のエネルギー源の中心は、石油・石炭・天然ガスなどの(①)燃料であるが、数十年のうちに枯渇すると予想されている。また、原子力発電の燃料となるウランも数十年で枯渇すると予想されている。これに対し、図 1 の(②)発電，図 2 の(③)発電，図 3 の(④)発電など(⑤)エネルギーを利用した発電の場合、資源が枯渇することはない。しかも、石油などの(①)燃料のように、地球温暖化をもたらす(⑥)を発生させることもない。しかし、現在の技術では発電などの(⑦)が高い点や、太陽光発電や風力発電は電力の供給が(⑧)条件に左右される点、地熱発電は周辺の自然や観光施設との共存といった点が課題になっている。

図1



図2



図3



【解答欄】

①	②	③	④
⑤	⑥	⑦	⑧

【解答】① 化石 ② 太陽光 ③ 風力 ④ 地熱 ⑤ 再生可能 ⑥ 二酸化炭素(温室効果ガス) ⑦ 費用 ⑧ 自然

[問題](前期中間)

太陽光発電の長所と短所について、それぞれ2つずつ答えよ。

[解答欄]

長所：
短所：

[解答]長所：地球温暖化の原因となる二酸化炭素を発生させない。枯渇の心配がない。

短所：費用が高い。自然条件に左右される。

【】 貧困問題

[人口増加と貧困]

[問題]

次の文中の①，②に適語を入れよ。

人口の増加は，アジアや(①)などの発展途上国で著しい。発展途上国では人口急増に経済の発展が追いつかず，多くの人々が貧困に直面している。貧困は，命の危険をもたらす。栄養不足が長く続き，生存に必要な最低限の生活が難しい状態を(②)という。

[解答欄]

①	②
---	---

[解答]① アフリカ ② 飢餓

[解説]

人口の増加は，アジアやアフリカなどの^{はってんとじょう}発展途上^{こく}国で著しい。発展途上国では人口急増に経済の発展が追いつかず，多くの人々が^{ひんこん}貧困に直面している(貧困とは，1日の生活に使える金額が1.9ドル未満の状態をいう)。貧困は，命の危険をもたらす。

栄養不足が長く続き，生存に必要な最低限の生活が難しい状態を^{きが}飢餓という。世界には，発展途上国を中心に飢餓の状態の人々が約8億人いる。

※出題頻度：「アジアやアフリカの発展途上国△」「貧困△」「飢餓△」

[人口増加と貧困]

人口増加:アジアやアフリカの発展途上国
人口増加に経済発展が追いつかない
↓
貧困 → 飢餓

[問題](3学期改)

次の各問いに答えよ。

(1) 人口増加率がいちじるしい地域を次の[]の中から2つ選べ。

[オセアニア アジア 南北アメリカ アフリカ ヨーロッパ]

(2) (1)の地域には，先進工業国，発展途上国のどちらが多いか。

(3) (2)などで，人口増加に経済発展が追いつかないために直面している深刻な問題は何か。

(4) (3)の根底には食糧問題がある。栄養不足の状態が長く続くことを何というか。

[解答欄]

(1)	(2)	(3)
(4)		

[解答](1) アジア，アフリカ (2) 発展途上国 (3) 貧困問題 (4) 飢餓

[問題](2 学期期末)

次の文の①～④にあてはまる語句を、下の[]からそれぞれ選べ。

栄養不足人口の割合が高い国は(①)に多く、たくさんの人が貧困や(②)に苦しんでいる。逆に、栄養不足人口の割合が低い国は(③)に多く、食べすぎで病気になる人が多いといわれる。このような経済格差から生じるさまざまな問題は、(④)と呼ばれている。

[先進工業国 発展途上国 環境問題 南北問題 飢餓 生活習慣病]

[解答欄]

①	②	③	④
---	---	---	---

[解答]① 発展途上国 ② 飢餓 ③ 先進工業国 ④ 南北問題

[貧困をなくすための取り組み]

[問題]

次の文章中の①, ②に適語を入れよ。

国連は、2015年、貧困と飢餓の撲滅などの17の目標をかかげた「持続可能な開発目標(略称は(①))」を採択した。また、発展途上国の貧困を解消するために、先進国の政府を中心に政府開発援助(ODA)が行われている。さらに民間の団体が中心となり、自立した生活を支える取り組みも行われている。例えば、発展途上国産の農作物や製品を適正な価格で取り引きする(②)や、社会的に弱い立場にある人々が起業するための資金を融資するマイクロクレジットなどが行われている。

[解答欄]

①	②
---	---

[解答]① SDGs ② フェアトレード

[解説]

国連は、2015年、貧困と飢餓の撲滅などの17の目標をかかげた「持続可能な開発目標(SDGs)」を採択した(SDGsは Sustainable Development Goals の略称)。発展途上国の貧困を解消するために、先進国の政府を中心に政府開発援助(ODA)が行われている。さらに民間の団体が中心となり、自立した生活を支える取り組みも行われている。

[貧困をなくすための取り組み]

持続可能な開発目標(SDGs)

政府開発援助(ODA)

フェアトレード

マイクロクレジット

例えば、途上国の人々が生産した農作物や製品を、その労働に見合う公正な価格で取り引きし、先進国の人々がそれを購入することで生産者の生活を支えるフェアトレード(公正貿易)が注目されている。また、貧しい人々に新しい事業を始めるための少額のお金を貸し出すマイクロクレジット(少額融資)の取り組みは、女性に現金収入を得る機会をあたえるなど、大きな成果を上げるようになっている。

※出題頻度：「持続可能な開発目標(SDGs)○」「政府開発援助(ODA)○」「フェアトレード○」「マイクロクレジット△」

[問題]

次の各問いに答えよ。

- (1) 国連は、2015年に貧困と飢餓の撲滅などの17の目標を定めた。この目標を何というか。アルファベット4文字で答えよ。
- (2) 発展途上国の貧困を解消するために、先進国の政府を中心に行われている経済的援助を何というか。アルファベット3文字で答えよ。
- (3) 途上国の人々が生産した農産物や製品を、その労働に見合う公正な価格で取引するという考え方を何というか。カタカナで答えよ。
- (4) 途上国で、貧しい人々に新しい事業を始めるための少額のお金を貸し出すことを何というか。カタカナで答えよ。

[解答欄]

(1)	(2)	(3)
(4)		

[解答](1) SDGs (2) ODA (3) フェアトレード (4) マイクロクレジット

[問題](入試問題)

次のア～エの文のうち、フェアトレードについて説明しているものはどれか。最も適切なものを1つ選び、その符号を書け。

- ア 発展途上国を中心として、世界各国の社会・経済発展に貢献するために、様々な技術指導や教育に従事する隊員を派遣する制度のことをいう。
- イ 一人一人の人間に着目し、人権侵害、貧困などの様々な問題から人々を守り、全ての人々が人間らしく安心して生きることができる社会を目指す考え方のことをいう。
- ウ 発展途上国でつくられた農作物や製品を公正な価格で取り引きし、先進国の人々が継続して購入することで、発展途上国の生産者の生活を支えようとするしくみのことをいう。
- エ 国際的な人権保障の実現など、様々な課題について、国境を越えて活動する非営利の民間組織のことをいう。

(千葉県)

[解答欄]

--

[解答]ウ

[解説]

アは日本の ODA の一環である「青年海外協力隊」、イは「人間の安全保障」、ウは「フェアトレード」、エは「NGO」のことである。

[問題](入試問題)

南北問題の解決に向けた活動として、「フェアトレード」が注目されている。このフェアトレードとはどのようなものか。「発展途上国」、「価格」の2つの語句を用いて書け。

(新潟県)

[解答欄]

[解答]発展途上国でつくられた商品を、公正な価格で取引すること。

【】新しい戦争・難民問題・核軍縮

[地域紛争・テロリズム]

[問題]

1990年代に起こった旧ユーゴスラビアの民族紛争に代表される地域紛争や、アメリカで2001年に起こった同時多発テロのようなテロリズムなどを総称して何戦争というか。

[解答欄]

--

[解答]新しい戦争

[解説]

冷戦終結後、従来とは異なる形の「新しい戦争」が見られるようになった。1つは、1990年代に起こった旧ユーゴスラビアの民族紛争などに代表される地域紛争である。もう1つの「新し

[新しい戦争]

地域紛争：旧ユーゴスラビアの民族紛争など
テロリズム：2001年に起きた同時多発テロなど

い戦争」は、アメリカで2001年に起こった同時多発テロのようなテロリズムである。

※出題頻度：「地域紛争△」「テロリズム△」

[問題]

次の各問いに答えよ。

- (1) 新しい戦争と呼ばれるものの1つで、旧ユーゴスラビアの民族紛争に代表されるような紛争を何というか。
- (2) その国の代表的な建物を破壊したり、自爆テロなどによって一般の人々を無差別に死傷させたりすることを何というか。カタカナ5文字で答えよ。
- (3) 2001年9月11日にアメリカでおきた(2)を何というか。

[解答欄]

(1)	(2)	(3)
-----	-----	-----

[解答](1) 地域紛争 (2) テロリズム (3) 同時多発テロ

[難民]

[問題](入試問題)

紛争地域では、住んでいた土地を離れて周辺国などへと逃げる(X)が発生している。そこで、国連(X)高等弁務官事務所(UNHCR)では、各国にそうした人々の受け入れを求める活動などを行っている。文中の X に当てはまる言葉を、漢字で書け

(岐阜県)

[解答欄]

--

[解答]難民

[解説]

紛争や迫害などにより、住んでいた土地を離れて周辺国などへ逃げこむ^{なんみん}難民が発生することがある。国連難民高等弁務官事務所(UNHCR)は難民の保護や支援を行っている。

[難民] 地域紛争など→難民の発生 国連の <u>UNHCR</u>
--

※出題頻度：「難民○」「UNHCR(国連難民高等弁務官事務所)○」

[問題]

次の各問いに答えよ。

- (1) 武力紛争や人権侵害からのがれるために国境を越えた人々を何というか。
- (2) 災害、内戦、経済上の理由で国外にのがれた(1)を保護する国連の機関は何か。①漢字で書け。②またその略称をアルファベットで書け。

[解答欄]

(1)	(2)①	②
-----	------	---

[解答](1) 難民 (2)① 国連難民高等弁務官事務所 ② UNHCR

【】 これからの地球社会と日本

[文化の多様性の尊重]

[問題]

世界各地にはさまざまな文化がある。この文化の()性を尊重し、異なる文化理解するように努めることが大切である。

[解答欄]

[解答]多様

[解説]

世界各地には、その地域の気候や歴史などに応じてさまざまな文化がある。これを文化の多様性という。(その反面、経済的な効率が重視されるようになった結果、世界の人々の価値観や生活が似通ったものになる文化の画一化も起こっているとの指摘もある。)

失われつつある文化もある。例えば、アフガニスタンでは、2001年に当時のイスラム政権によって、UNESCO(国連教育科学文化機関)の世界遺産に登録されていたバーミアンの石仏が破壊された。世界の人々が協力し合い、さまざまな国際問題を解決する上で重要なのは、異なる文化を互いに理解し合うことである。これを異文化理解という。

※出題頻度：この単元はときどき出題される。

[問題]

次の各問いに答えよ。

- (1) 世界各地には、その地域の気候や歴史などに応じてさまざまな文化がある。これを文化の何というか。
- (2) (1)の反面、経済的な効率が重視されるようになった結果、世界の人々の価値観や生活が似通ったものになる現象も見られる。これを文化の何というか。
- (3) 世界各地の貴重な自然や文化遺産を(①)遺産として登録し保護に取り組んでいる国連の専門機関は(②)である。①、②に適語を入れよ。
- (4) 失われつつある文化もある。アフガニスタンでは、2001年に当時のイスラム政権によって、(3)①の遺産に登録されていた石仏が破壊された。何という石仏か。
- (5) 世界の人々が協力し合い、さまざまな国際問題を解決する上で重要なのは、異なる文化を互いに理解し合うことである。これを何というか。

[解答欄]

(1)	(2)	(3)①
②	(4)	(5)

[解答](1) 文化の多様性 (2) 文化の画一化 (3)① 世界 (2) UNESCO(国連教育科学文化機関) (4) バーミアンの石仏 (5) 異文化理解

[日本の平和主義外交と国際貢献]

[問題]

第二次世界大戦後の日本の外交は、平和主義と国際貢献を重視してきた。国際貢献の1つとして、発展途上国の経済や福祉の向上などのために行うさまざまな技術協力や資金の援助を何というか。

[解答欄]

--

[解答]ODA(政府開発援助)

[解説]

第二次世界大戦後の日本の外交は、平和主義と国際貢献^{こくさいこうけん}を重視してきた。日本国憲法前文と第9条で平和主義の立場を明確にし、さらに、世界の平和を確かなものにするために国連中心主義をとっている。核兵器について、

日本は「つくらず、もたず、もちこませず」という非核三原則^{ひかくさんげんそく}の立場をとっている。国際貢献については、技術援助をふくむ政府開発援助(ODA)などを中心に、発展途上国の開発を支援している。青年海外協力隊も日本のODAの一環である。

[日本の平和主義外交と国際貢献] 平和主義:国連中心主義, 非核三原則 国際貢献:ODA, 青年海外協力隊

※出題頻度:「ODA(政府開発援助)○」

[問題](3 学期)

次の各問いに答えよ。

- (1) 国際社会が結びつきを強めるなかで、特にアジアで日本は発展から取り残されている国に対して経済協力が期待されている。その1つに「ODA」というのがあり、日本は世界でもトップクラスにいる。この「ODA」とは何のことか、漢字6字で答えよ。
- (2) ODAの一環として発展途上国の支援に出かけている青年たちを何というか。

[解答欄]

(1)	(2)
-----	-----

[解答](1) 政府開発援助 (2) 青年海外協力隊

[問題]

次の各問いに答えよ。

- (1) 第二次世界大戦後の日本の外交は、憲法9条の()主義と国際貢献を重視してきた。
- (2) 世界の平和を確かなものにするために、国連の活動を支援する日本の立場を何主義というか。
- (3) 核兵器について、日本は「つくらず、もたず、もちこませず」という立場をとっている。この原則を何というか。
- (4) 国際貢献については、発展途上国に対する援助を行ってきたが、これを何というか。

[解答欄]

(1)	(2)	(3)	(4)
-----	-----	-----	-----

[解答](1) 平和 (2) 国連中心主義 (3) 非核三原則 (4) 政府開発援助(ODA)

[NGO]

[問題]

近年、国際社会において、食糧問題や環境問題、さらには地震による被害からの復興などに取り組む「非政府組織」の活動が注目されている。この「非政府組織」の略称を、アルファベットの大文字3字で書け。

[解答欄]

[解答]NGO

[解説]

NGOは非政府組織の略称で、政府にたよらない民間の非営利組織のことである。NGOの中には国連を介して、国際的なネットワークをつくり、軍縮・開発援助・環境保護・人権擁護ようご・飢餓きがの救済・学術など、多様な領域で活動しているものもある。NPO(民間非営利団体)も同じような意味に使われるが、NGOは国際的な活動をする組織に対して使われ、NPOは国内で活動する組織に対して使われることが多い。

※出題頻度：「NGO○」

[世界平和のために]

[問題](入試問題)

1968年に核保有国以外の国々が核兵器を持つことを禁じた条約が締結された。この条約名を何というか。

(大分県)

[解答欄]

--

[解答]核拡散防止条約

[解説]

戦争を防ぐためには、^{ぐんしゅく}軍縮を進めることが必要である。特に、一度に多くの人々の命をうばう核兵器や化学兵器、生物兵器などの^{たいりょうはかいへいき}大量破壊兵器の^{はいぜつ}廃絶が重要である。そのために、1968年に、核保有国以外の国が核兵器を持つことを禁止する^{かくかくさんぼうしじょうやく}核拡散防止条約が採択された。1997年には^{たいじんじらい}対人地雷^{ていけつ}全面禁止条約が締結された。近年では、国だけでなく一人一人の人間に着目し、その生命や人権を大切にするという「人間の安全保障」という考え方が^{ていしょう}提唱されている。

※出題頻度：この単元はときどき出題される。

[問題]

次の各問いに答えよ。

- (1) 戦争や地域紛争を防ぐために、大量破壊兵器の廃絶などを目標に進められている動きを何というか。漢字2字で答えよ。
- (2) 1968年に結ばれた、核兵器をもつ国がふえるのを防ぐための条約は何か。
- (3) 戦争が終わった後も一般人に被害を与える地雷について、1997年にこれを禁止する条約が結ばれた。何という条約か。
- (4) 近年では、国だけでなく一人一人の人間に着目し、その生命や人権を大切にするという「人間の()」という考え方が提唱されている。

[解答欄]

(1)	(2)	(3)	
(4)			

[解答](1) 軍縮 (2) 核拡散防止条約 (3) 対人地雷全面禁止条約 (4) 安全保障

【】 総合問題

[問題](要点整理)

次の表中の①～⑱に適語を入れよ。

主権	<p>国家は、国民、領域、(①)によって成り立っている。 (②)の原則：他国から支配や干渉を受けない。 (③)の原則：他の国々と対等である。</p>
領域	<p>国家の領域 Aは(④), Bは(⑤)(12海里) Cは(⑥) Dは(⑦)水域(沿岸から(⑧)海里) 沿岸国に、水産資源や海底の鉱産資源の利用権。 Dの外側の海は(⑨)で、どの国の船でも自由な航行が保障されているが、これを(⑩)の原則という。</p>
国際社会のルール	<p>(⑪)法：国際社会のルール、国際(⑫)法と(⑬)からなる。 (⑭)裁判所：本部はオランダの(⑮)。 裁判を始めるには、当事国の(⑯)が必要。</p>
領土をめぐる問題	<p>北方領土：(⑰)が不法占拠。 竹島：(⑱)が不法占拠。 尖閣諸島：(⑲)が領海内に巡視船による不法侵入をくり返している。</p>

[解答欄]

①	②	③	④
⑤	⑥	⑦	⑧
⑨	⑩	⑪	⑫
⑬	⑭	⑮	⑯
⑰	⑱	⑲	

[解答]① 主権 ② 内政不干渉 ③ 主権平等 ④ 領土 ⑤ 領海 ⑥ 領空
 ⑦ 排他的経済 ⑧ 200 ⑨ 公海 ⑩ 公海自由 ⑪ 国際 ⑫ 慣習 ⑬ 条約
 ⑭ 国際司法 ⑮ ハーグ ⑯ 同意 ⑰ ロシア ⑱ 韓国 ⑲ 中国

[問題](要点整理)

次の表中の①～⑱に適語を入れよ。

国際連合の 発足・加盟国 数の推移	<ul style="list-style-type: none"> 世界の平和と安全を実現するために、1945年に51か国が(①)を採択し国際連合が成立。 本部はアメリカの(②)という都市に置かれた。 戦後すぐの頃(③)州の国が、1960年頃(④)州の国が多く加盟。 1991年の(⑤)の崩壊→多くの共和国が生まれ、国連に加盟。 現在は193か国(永世中立国のスイスも2002年に加盟)。
国際連合の 仕組み	<ul style="list-style-type: none"> (⑥)会：全加盟国で構成、1国(⑦)票。 (⑧)会：平和と安全の維持。 5つの(⑨)国(5つの国は(⑩)), 10の(⑪)国。 5(⑨)国の1国でも反対すれば重要な議案は否決される。→(⑫)権 (⑬)：紛争地域の敵対する兵力の引き離しや停戦の監視など。 そのほかに、経済社会理事会、国際司法裁判所、事務局など。
専門機関な ど	<ul style="list-style-type: none"> (⑭)(国連教育科学文化機関)：(⑮)の保護や修復等。 (⑯)(国連児童基金) (⑰)(国際労働機関) (⑱)(世界保健機関) (⑲)(国連難民高等弁務官事務所)

[解答欄]

①	②	③	④
⑤	⑥	⑦	⑧
⑨	⑩		
⑪	⑫	⑬	⑭
⑮	⑯	⑰	⑱
⑲			

[解答]① 国際連合憲章 ② ニューヨーク ③ アジア ④ アフリカ ⑤ ソ連 ⑥ 総
⑦ 1 ⑧ 安全保障理事 ⑨ 常任理事 ⑩ アメリカ、ロシア、イギリス、フランス、
中国 ⑪ 非常任理事 ⑫ 拒否 ⑬ PKO(平和維持活動) ⑭ UNESCO ⑮ 世界遺産
⑯ UNICEF ⑰ ILO ⑱ WHO ⑲ UNHCR

[問題](要点整理)

次の表中の①～⑪に適語を入れよ。

地域主義	(①)(地域主義) (②)(ヨーロッパ連合) (③)(東南アジア諸国連合) (④)(アジア太平洋経済協力会議) (⑤)(環太平洋経済連携協定) (⑥)(北米自由貿易協定)
新興国の台頭と経済格差	地球の南側に多い、工業の発展が遅れている国々を(⑦)という。 (⑧)問題：先進工業国と(⑦)の格差の問題。 1960年代以降急速に工業化が進んだ新興工業経済地域(略称は(⑨))。 2000年代以降に成長したブラジル、ロシア、インド、中国、南アフリカ共和国などの新興国(略称は(⑩))。 (⑪)問題：発展途上国間の格差。




[解答欄]

①	②	③	④
⑤	⑥	⑦	⑧
⑨	⑩	⑪	

[解答]① リージョナリズム ② EU ③ ASEAN ④ APEC ⑤ TPP11 ⑥ NAFTA
 ⑦ 発展途上国 ⑧ 南北 ⑨ NIES ⑩ BRICS ⑪ 南南

[問題](要点整理)

次の表中の①～⑱に適語を入れよ。

<p>地球環境問題</p>	<ul style="list-style-type: none"> ・二酸化炭素などの(①)ガス→(②)化→北極圏や南極大陸の氷がとけて海水面が上昇→海拔の低い島国が(③)するおそれがある。 ・1992年：ブラジルで国連環境開発会議(地球(④))が開催され、(⑤)な開発のためにはどうすればよいかが討議された。(⑥)枠組条約、生物多様性条約などが調印された。 ・1997年：地球温暖化防止京都会議で(⑦)書先進国に(①)ガスの排出削減を義務づけた。 ・2015年：(⑧)協定：途上国を含むすべての参加国が自主的に削減目標を決め、平均気温の上昇をおさえる対策をすすめることで合意。 ・その他の地球環境問題：酸性雨、フロンガスによる(⑨)層の破壊、砂漠化、熱帯雨林の減少
<p>資源・エネルギー問題</p>	<ul style="list-style-type: none"> ・火力発電：石油・石炭・天然ガスなどの(⑩)燃料を使用。→温室効果ガスである(⑪)を排出。 原子力発電：(⑪)を排出しない。(⑫)もれなど安全性に問題がある。 ・(⑬)可能エネルギーを使った発電 (⑭)発電(図1)、(⑮)発電(図2)、(⑯)発電(図3) <div style="display: flex; justify-content: space-around; align-items: flex-start;"> <div style="text-align: center;"> <p>図1</p>  </div> <div style="text-align: center;"> <p>図2</p>  </div> <div style="text-align: center;"> <p>図3</p>  </div> </div> <p>長所：(⑪)を排出しない、枯渇の心配がない。</p> <p>短所：費用が(⑰)。(⑱)条件に左右される。</p>

[解答欄]

①	②	③	④
⑤	⑥	⑦	⑧
⑨	⑩	⑪	⑫
⑬	⑭	⑮	⑯
⑰	⑱		

[解答]① 温室効果 ② 地球温暖 ③ 水没 ④ サミット ⑤ 持続可能 ⑥ 気候変動
 ⑦ 京都議定 ⑧ パリ ⑨ オゾン ⑩ 化石 ⑪ 二酸化炭素 ⑫ 放射能 ⑬ 再生
 ⑭ 太陽光 ⑮ 風力 ⑯ 地熱 ⑰ 高い ⑱ 自然

[問題](要点整理)

次の表中の①～⑭に適語を入れよ。

<p>貧困問題</p>	<ul style="list-style-type: none"> ・人口増加が著しいのはアジア州と(①)州の発展途上国。 人口急増に経済の発展が追いつかず(②)問題が発生。 →栄養不足の状態が長く続く(③)。 ・国連は、2015年に「持続可能な開発目標(略称は(④))」を採択。 ・(⑤): 発展途上国でつくられた商品を、公正な価格で取引。 (⑥)クレジット: 途上国で、貧しい人々に新しい事業を始めるための少額のお金を貸し出す。
<p>新しい戦争 難民問題</p>	<ul style="list-style-type: none"> ・新しい戦争:(⑦)紛争(旧ユーゴスラビアなど), テロリズム(2001年にアメリカでおきた(⑧)) ・(⑦)紛争→土地をはなれて周辺国などへ逃げる(⑨)が発生。 国連(⑨)高等弁務官事務所(略称は(⑩))は(⑨)の保護や支援。
<p>これからの 地球社会と 日本</p>	<ul style="list-style-type: none"> ・文化の多様性→(⑪)理解が必要 ・日本の平和主義外交と国際貢献 政府開発援助(略称は(⑫))(青年海外協力隊など) ・1968年,(⑬)条約: 核保有国以外の国々が核兵器を持つことを禁止 1997年, 対人地雷全面禁止条約 ・近年では、国だけでなく一人一人の人間に着目し、その生命や人権を大切にするという「人間の(⑭)」という考え方が提唱されている。

[解答欄]

①	②	③	④
⑤	⑥	⑦	⑧
⑨	⑩	⑪	⑫
⑬	⑭		

[解答]① アフリカ ② 貧困 ③ 飢餓 ④ SDGs ⑤ フェアトレード ⑥ マイクロ
⑦ 地域 ⑧ 同時多発テロ ⑨ 難民 ⑩ UNHCR ⑪ 異文化 ⑫ ODA ⑬ 核拡散防止
⑭ 安全保障

[問題](3学期など)

次の各問いに答えよ。

(1) 次の文にあてはまる国際社会の原則をそれぞれ何というか。

- ① 他国に支配されたり，干渉されたりしない権利。
- ② 他の国々と対等である権利

(2) 右図の A～C にあてはまる語句を答えよ。

(3) C の範囲は沿岸から何海里か。

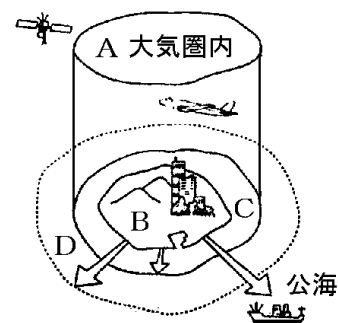
(4) C の外側で沿岸から(①)海里の範囲を(②)という。

(②)と大陸棚では，漁業資源や海底の(③)資源を開発し保全する権利が，沿岸国に認められている。日本の最南端の領土である(④)島の水没を防ぐために約 300 億円をかけて

工事が行われたが，それは広大な(②)を守るためであった。文中の①～④に適語を入れよ。

(5) D の外側の海を何というか。

(6) (5)ではどの国の船でも自由な航行が保障されているが，これを何の原則というか。



[解答欄]

(1)①	②		(2)A
B	C	(3)	(4)①
②	③	④	(5)
(6)			

[解答](1)① 内政不干渉の原則 ② 主権平等の原則 (2)A 領空 B 領土 C 領海

(3) 12 海里 (4)① 200 ② 排他的経済水域 ③ 鉱産 ④ 沖ノ島 (5) 公海

(6) 公海自由の原則

[問題](3学期など)

次の各問いに答えよ。

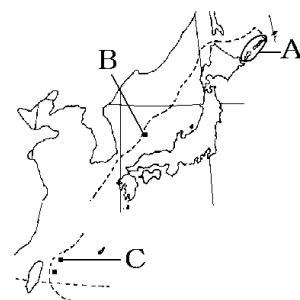
(1) 国際社会において，それぞれの国が守るべきルールを何というか。

(2) (1)にはどのようなものがあるか。2つ答えよ。

(3) 国と国の争いを法に基づいて解決するために，国際連合に置かれている裁判所は何か。

(4) 右図について，次の①～⑥に適語を入れよ。

A の(①)領土はわが国固有の領土であるが，(②)(国名)が不法占拠を続けている。B の(③)島もわが国固有の領土であるが，(④)(国名)が不法占拠を続けている。C の(⑤)諸島はわが国が実効支配しているが，(⑥)(国名)が巡視船による領海侵犯を繰り返している。



[解答欄]

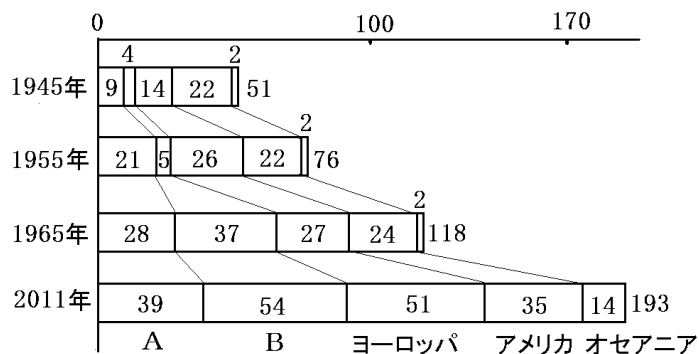
(1)	(2)	(3)	
(4)①	②	③	④
⑤	⑥		

[解答](1) 国際法 (2) 国際慣習法, 条約 (3) 国際司法裁判所 (4)① 北方 ② ロシア
③ 竹 ④ 韓国 ⑤ 尖閣 ⑥ 中国

[問題](後期期末など)

次の各問いに答えよ。

- (1) 国際連合が発足する際に採択されたものは何か。
- (2) 国際連合の本部は①何という国の②何という都市に置かれているか。
- (3) 次のグラフについて、各問いに答えよ。



- ① 1945年～1955年に加盟国数が増えているが、これは戦後Aの地域で多くの国が独立したためである。Aは何という地域か。
- ② 1955年～1965年に加盟国数が増えているのは、Bの地域で多くの国が独立したためである。Bは何という地域か。
- ③ 国際連合の加盟国の推移を調べたら、1991年から3年間に25か国が新たに加盟していた。これは何という国が解体したためか。
- (4) 国際連合の機関の中で、全加盟国で構成され年に1回定期的に開かれるのは何か。
- (5) 国際連合の機関の中で、15の理事国で構成され、世界の平和と安全の確保を目的とする理事会は何か。
- (6) (5)の常任理事国をすべてあげよ。
- (7) (5)では、平和と安全に関する事項を決定する場合、5常任理事国のうち1か国でも反対すれば議決されない。このように(5)で決定することをこぼむ、常任理事国が持つ権利は、一般に何とよばれるか。その名称を書け。
- (8) 軽装備の少数の軍隊を紛争地域に派遣して、紛争の拡大防止や平和的解決のために監視活動続けることを何というか。略称(アルファベット)で答えよ。

(9) 次の①～④にあたる国連の組織名を略称(アルファベット)で答えよ。

- ① 世界遺産の保護や修復等を行っている。
- ② 発展途上国の児童の生活向上をはかる。
- ③ 労働者の地位の安定と労働条件の向上をはかる。
- ④ 伝染病の撲滅などのために活動している。

[解答欄]

(1)	(2)①	②	(3)①
②	③	(4)	(5)
(6)			
(7)	(8)	(9)①	②
③	④		

[解答](1) 国際連合憲章 (2)① アメリカ ② ニューヨーク (3)① アジア ② アフリカ
 ③ ソ連 (4) 総会 (5) 安全保障理事会 (6) アメリカ, ロシア, イギリス, フランス,
 中国 (7) 拒否権 (8) PKO (9)① UNESCO ② UNICEF ③ ILO ④ WHO

[問題](3 学期など)

次の各問いに答えよ。ただし、(1)はカタカナ、(2)～(5)、(7)～(8)はアルファベットで答えよ。

- (1) 安全保障, 経済, 環境など同じ問題を抱える一定地域の国家がまとまりをつくり, 国際的な協調・協力関係を築いていこうという動きを何というか。
- (2) EC を発展させて結成された国際組織は何か。
- (3) 1967 年に発足した東南アジアの国々の地域協力組織は何か。
- (4) 太平洋に面した国々の貿易を活発にするために 1989 年に設立された組織は何か。
- (5) 北アメリカの貿易を発展させるために 1992 年に設立された組織は何か。
- (6) 先進工業国と発展途上国の間の格差を何問題というか。
- (7) 1960 年代以降に急速に工業化が進んだ韓国, 台湾, ホンコン, シンガポール, ブラジル, メキシコなどを何と呼ぶか。
- (8) 2000 年代に入って急速に発展したブラジル, ロシア, インド, 中国, 南アフリカ共和国を何と呼ぶか。
- (9) 発展途上国には, (7)や(8)の国々や中東の産油国などと, アフリカの貧しいままの国がある。この 2 つのグループ間の経済格差の問題を何というか。

[解答欄]

(1)	(2)	(3)	(4)
(5)	(6)	(7)	(8)
(9)			

[解答](1) リージョナリズム (2) EU (3) ASEAN (4) APEC (5) NAFTA (6) 南北問題
(7) NIES (8) BRICS (9) 南南問題

[問題](後期期末など)

次の各問いに答えよ。

- (1) 石油などの化石燃料の燃焼によって発生する二酸化炭素の増加が原因で、地球規模で問題になっていることは何か。
- (2) (1)の原因になっている二酸化炭素などを含むガスを何というか。
- (3) (1)によりどのような問題がおこることが心配されているか。「氷」「水没」という語句を使って説明せよ。
- (4) 国際的に協力して地球環境の保全をはかることを目的として、1992年にブラジルで開催された会議は何か。
- (5) 二酸化炭素の排出抑制の目標を設定して(1)を防止する目的で、1997年に日本の(①)で国際会議が開かれ、(②)が採択され、③(発展途上国／先進国／すべての国)に(2)のガスの削減義務を課した。文中の①、②に適語を入れ、③の()内より適語を選べ。
- (6) ある合意が2015年に多くの国家間で採択され、先進国も発展途上国も(2)のガスの排出削減に取り組むことが決められた。この合意は何と呼ばれるか。
- (7) 再生可能エネルギーを利用した発電方法を太陽光発電以外で2つあげよ。
- (8) 太陽光発電の長所と短所について、それぞれ2つずつあげて簡潔に答えよ。

[解答欄]

(1)	(2)		
(3)			
(4)	(5)①	②	
③	(6)	(7)	
(8)長所：			
短所：			

[解答](1) 地球温暖化 (2) 温室効果ガス (3) 北極圏や南極大陸の氷がとけて海水面が上昇し、海抜の低い島国が水没するおそれがある。 (4) 国連環境開発会議(地球サミット)
 (5)① 京都 ② 京都議定書 ③ 先進国 (6) パリ協定 (7) 風力発電, 地熱発電
 (8)長所：地球温暖化の原因となる二酸化炭素を発生させない。枯渇の心配がない。
 短所：費用が高い。自然条件に左右される。

[問題](3 学期など)

次の各問いに答えよ。

- (1) 人口増加率がいちじるしい地域を次の[]の中から2つ選べ。
 [オセアニア アジア 南北アメリカ アフリカ ヨーロッパ]
- (2) 発展途上国の中には、人口急増に経済の発展が追いつかず、多くの人々が貧困に直面している国がある。貧困によって栄養不足が長く続き、生存に必要な最低限の生活が難しい状態を何というか。
- (3) 国連は、2015年に貧困と(2)の撲滅などの17の目標を定めた。この目標を何というか。アルファベット4文字で答えよ。
- (4) 途上国の人々が生産した農産物や製品を、その労働に見合う公正な価格で取引するという考え方を何というか。
- (5) 途上国で、貧しい人々に新しい事業を始めるための少額のお金を貸し出すことを何というか。カタカナで答えよ。
- (6) 新しい戦争と呼ばれるものの1つで、旧ユーゴスラビアの民族紛争に代表されるような紛争を何というか。
- (7) その国の代表的な建物を破壊したり、自爆テロなどによって一般の人々を無差別に死傷させたりすることを何というか。カタカナ5文字で答えよ。
- (8) 地域紛争などの武力紛争や人権侵害からのがれるために国境を越えた人々を何というか。
- (9) (8)を保護する国連の機関は何か。アルファベットで答えよ。
- (10) 日本は、発展途上国に対する援助を行ってきたが、これを何というか。アルファベットで答えよ。
- (11) 1968年に核保有国以外の国々が核兵器を持つことを禁じた条約が締結された。この条約名を何というか。

[解答欄]

(1)	(2)	(3)
(4)	(5)	(6)
(7)	(8)	(9)
(11)		

[解答](1) アジア, アフリカ (2) 飢餓 (3) SDGs (4) フェアトレード
(5) マイクロクレジット (6) 地域紛争 (7) テロリズム (8) 難民 (9) UNHCR
(10) ODA (11) 核拡散防止条約

【FdData 中間期末製品版のご案内】

詳細は、[\[FdData 中間期末ホームページ\]](#)に掲載 ([Shift]+左クリック→新規ウィンドウ)

◆印刷・編集

この PDF ファイルは、FdData 中間期末を PDF 形式に変換したサンプルで、印刷はできないように設定しております。製品版の FdData 中間期末は Windows パソコン用のマイクロソフト Word(Office)の文書ファイルで、印刷・編集を自由に行うことができます。

◆FdData 中間期末の特徴

中間期末試験で成績を上げる秘訣は過去問を数多く解くことです。FdData 中間期末は、実際に全国の中学校で出題された試験問題をワープロデータ(Word 文書)にした過去問集です。各教科(社会・理科・数学)約 1800~2100 ページと豊富な問題を収録しているため、出題傾向の 90%以上を網羅しております。

FdData 中間期末を購入いただいたお客様からは、「市販の問題集とは比べものにならない質の高さですね。子どもが受けた今回の期末試験では、ほとんど同じような問題が出て今までにないような成績をとることができました。」「製品の質の高さと豊富な問題量に感謝します。試験対策として、塾の生徒に FdData の膨大な問題を解かせたところ、成績が大幅に伸び過去最高の得点を取れました。」などの感想をいただいております。

◆サンプル版と製品版の違い

ホームページ上に掲載しておりますサンプルは、印刷はできませんが、製品の全内容を掲載しており、どなたでも自由に閲覧できます。問題を「目で解く」だけでもある程度の効果をあげることができます。しかし、FdData 中間期末がその本来の力を発揮するのは印刷ができる製品版においてです。印刷した問題を、鉛筆を使って一問一問解き進むことで、大きな学習効果を得ることができます。さらに、製品版は、すぐ印刷して使える「問題解答分離形式」、編集に適した「問題解答一体形式」、暗記分野で効果を発揮する「一問一答形式」(理科と社会)の 3 形式を含んでいますので、目的に応じて活用することができます。

※[FdData 中間期末の特徴\(QandA 方式\)](#) ([Shift]+左クリック→新規ウィンドウ)

◆FdData 中間期末製品版(Word 版)の価格(消費税込み)

※以下のリンクは[Shift]キーをおしながら左クリックすると、新規ウィンドウが開きます

[社会地理](#)、[社会歴史](#)、[社会公民](#)：各 7,800 円(統合版は 18,900 円) ([Shift]+左クリック)

[理科 1 年](#)、[理科 2 年](#)、[理科 3 年](#)：各 7,800 円(統合版は 18,900 円) ([Shift]+左クリック)

[数学 1 年](#)、[数学 2 年](#)、[数学 3 年](#)：各 7,800 円(統合版は 18,900 円) ([Shift]+左クリック)

※Windows パソコンにマイクロソフト Word がインストールされていることが必要です。(Mac の場合はお電話でお問い合わせください)。

◆ご注文は、メール(info2@fdtext.com)、または電話(092-811-0960)で承っております。

※[注文→インストール→編集・印刷の流れ](#)、[※注文メール記入例](#) ([Shift]+左クリック)

【Fd 教材開発】 Mail : info2@fdtext.com Tel : 092-811-0960