

【FdData 中間期末：中学社会歴史：昭和】

[\[世界恐慌・ニューディール政策／ブロック経済・ソ連／ファシズム／昭和恐慌と政党内閣の危機／満州事変，五・一五事件，二・二六事件／日中戦争と戦時体制／第二次世界大戦の始まり／太平洋戦争の始まり／戦局の悪化→敗戦／総合問題／FdData 中間期末製品版のご案内\]](#)

【FdData 中間期末ホームページ】掲載の pdf ファイル(サンプル)一覧

※次のリンクは[Shift]キーをおしながら左クリックすると，新規ウィンドウが開きます

社会：[\[社会地理\]](#)，[\[社会歴史\]](#)，[\[社会公民\]](#) ((Shift)+左クリック)

理科：[\[理科 1 年\]](#)，[\[理科 2 年\]](#)，[\[理科 3 年\]](#) ((Shift)+左クリック)

数学：[\[数学 1 年\]](#)，[\[数学 2 年\]](#)，[\[数学 3 年\]](#) ((Shift)+左クリック)

※全内容を掲載しておりますが，印刷はできないように設定しております

【】世界恐慌と各国の対応

【】世界恐慌・ニューディール政策

[世界恐慌]

[問題](1 学期中間)

1929 年，アメリカのニューヨークの株式市場で株価が暴落したことをきっかけに，銀行や工場がつぶれて失業者が町にあふれ，農産物の価格も急落した。この経済的混乱は，アメリカから世界じゅうに広がったことから何と呼ばれるか。

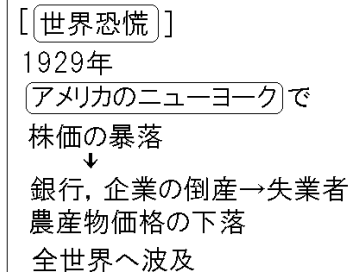
[解答欄]

[解答]世界恐慌

[解説]

アメリカは，第一次世界大戦の被害を受けることなく繁栄が続き，世界経済の中心になっていた。ところが，繁栄の頂点にあった 1929 年(昭和 4 年)10 月，アメリカのニューヨークの株式市場で株価が暴落し，多くの銀行が倒産して恐慌となった。その結果，資金を借りられなくなった多くの企業が倒産し，失業者が増え，このため物が売れなくなり，それがさらに倒産を増やすという悪循環が生まれた。

また，農産物の価格も急落した。アメリカは多くの国に資金を貸していたので，恐慌は世界中に広がり(世界恐慌)，ほかの国々にも深刻な不況をもたらした。(ひどくにく(1929)い世界恐慌)



※出題頻度：「アメリカのニューヨーク○」「株価の暴落△」「世界恐慌◎」「1929年△」
(頻度記号：◎(特に出題頻度が高い), ○(出題頻度が高い), △(ときどき出題される))

[問題](前期期末)

次の文章中の①～③に適語を入れよ。

1929年、アメリカの(①)(都市名)の(②)式市場で(②)価が暴落し、取りつけさわぎが起これ、これをきっかけに銀行や工場が倒産し、農産物の価格も急落した。工業生産や輸出量が第一次世界大戦中に比べて2分の1程度に減少し、1933年には4人に1人が失業した。こうした混乱は、アメリカから世界じゅうに広がり、世界中が不景気になってしまった。これを(③)という。

[解答欄]

①	②	③
---	---	---

[解答]① ニューヨーク ② 株 ③ 世界恐慌

[問題](1学期期末)

次の各問いに答えよ。

- (1) 世界恐慌が始まったのは何年か。
- (2) 世界恐慌が始まったきっかけを、「ニューヨーク」「暴落」という語句を使って簡潔に説明せよ。
- (3) 不景気になったアメリカではどのようなことが起こったか。次から2つ選べ。
 - ア 物価が上昇し、人々は生活に困った。
 - イ 農産物価格が下落し、農民は生活に困った。
 - ウ 企業の倒産や失業者が増えた。
 - エ 輸出が増大し、国内では品不足となった。

[解答欄]

(1)	(2)
(3)	

[解答](1) 1929年 (2) ニューヨークの株式市場で株価が暴落したこと。 (3) イ、ウ

[解説]

(3)一般に不景気のときには、物が売れなくなるため物価は下がるのでアは誤り。また、世界的な不況のため輸出は減少したのでエは誤り。イとウが正しい。

[ニューディール政策]

[問題](1 学期期末)

次の文章中の①，②に適語を入れよ。

1933年にアメリカ大統領に就任した(①)は、ダム建設などの公共事業をおこして失業者に職を与える，農業や工業の生産を調整して価格を維持する，労働組合を保護して労働者の賃金を引き上げる，などの政策をとった。この政策を(②)政策という。

[解答欄]

①	②
---	---

[解答]① ローズベルト ② ニューディール

[解説]

アメリカは、大不況だいふきょうに対応するため、ローズベルト大統領だいてうりょうの下、1933年からニューディール政策せいさくしんき(新規まき直し政策)を始めた。すなわち、①失業者しつぎょうしやに職を与えるためにダム建設こうきょうじぎょう(テネシー川)などの公共事業を行う、②農産物や工業製品の生産量ちんぎんを調整ちようせいして価格かかくを維持いじする、③労働組合を保護し、労働者の賃金ちんぎんを引き上げる，などの政策を実施した。

[ニューディール政策]
ローズベルト大統領
公共事業 → 失業者に職を与える
生産量を調整して価格を維持
労働組合の保護
保護貿易

これにより国民の購買力こうばいりよくが上向き，経済が回復かいふくに向かった。その一方で，自国の産業ゆうせんを優先して保護貿易ほごぼうえきしせいの姿勢を強めた。その結果，輸出入は減少した。

※出題頻度：「ローズベルト大統領◎」「ニューディール政策◎」「公共事業◎」

「失業者に職を与える◎」「農作物や工業製品の生産量を調整して価格を維持△」

「労働組合の保護△」，「保護貿易△」

[問題](1 学期期末)

世界恐慌とアメリカの対応についての説明として間違っているものをア～オから1つ選び、記号で答えよ。

- ア 世界恐慌は、1929年にアメリカのニューヨークの株式市場で株価が大暴落したことをきっかけに始まった。
- イ アメリカはローズベルト大統領の下、ニューディールと呼ばれる経済政策を行った。
- ウ アメリカが行った経済政策は、積極的に公共事業をおこして失業者を助け、国民の購買力を上向かせたものであった。
- エ 農産物や工業製品の生産量を制限して価格を調整したり、労働者の賃金を引き上げたりした。
- オ アメリカは輸出を増やすために、関税を引き下げて自由貿易を推進した。

[解答欄]

--

[解答]オ

[解説]

オが誤り。自国の産業を優先するために、関税を引き上げて保護貿易を行った。

[問題](前期期末)

次の文中の①～⑤にあてはまる語句を書け。

1933年にアメリカ大統領に就任した(①)は、景気を回復させるために(②)(新規まき直し)政策を実施し、(③)に職を与えるためにダム建設などの(④)事業を行った。また、農産物や工業製品の生産量を調整して価格を維持する、労働組合を保護し労働者の賃金を引き上げるなどの政策を実施した。その一方で、自国の産業を優先するために(⑤)貿易の姿勢を強めた。

[解答欄]

①	②	③	④
⑤			

[解答]① ローズベルト ② ニューディール ③ 失業者 ④ 公共 ⑤ 保護

[問題](1 学期中間)

次の各問いに答えよ。

- (1) ニューヨークで株が暴落したことがきっかけとなり、会社がつぶれ、価格が急落し、失業者があふれた。1929年から始まったこの世界的な混乱を何というか。
- (2) (1)に対してアメリカがとった一連の経済政策を何というか。
- (3) (2)の政策を実行したアメリカ大統領は誰か。
- (4) (2)の雇用対策について「失業者」「公共事業」という語句を使って簡潔に説明せよ。

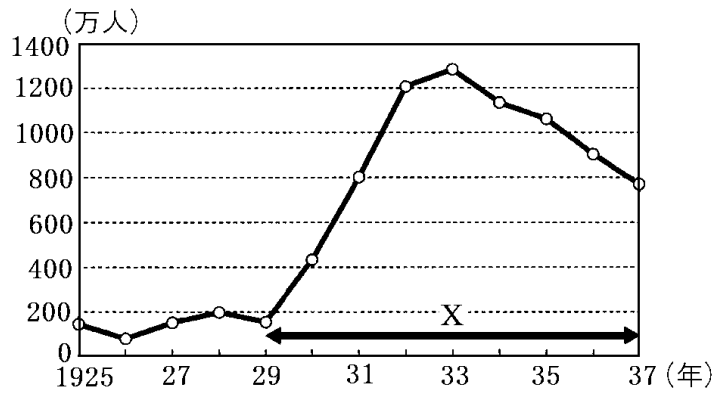
[解答欄]

(1)	(2)	(3)
(4)		

[解答](1) 世界恐慌 (2) ニューディール政策 (3) ローズベルト (4) 失業者に職を与えるために公共事業を行った。

[問題](入試問題)

次のグラフはアメリカの失業者数の推移を示している。グラフの X の期間において失業者数が増加および減少した背景について、それぞれ簡潔に説明せよ。ただし、「ローズベルト大統領」の語を必ず用いること。なお、具体的な数値を示す必要はない。



(長崎県)

[解答欄]

失業者数が増加した背景：

失業者数が減少した背景：

[解答]失業者数が増加した背景：ニューヨークの株式市場で株価が暴落し、景気が急速に悪化して世界恐慌が起こったこと。

失業者数が減少した背景：ローズベルト大統領のもとでニューディール政策が行われたこと。

【】 ブロック経済・ソ連

[ブロック経済]

[問題](2 学期中間改)

次の文章中の①の()内から適語を選び、②の()には適語を入れよ。

世界恐慌に対して、イギリスやフランスは、本国と植民地との関係を密接にして、それ以外の国の商品に対する関税を①(高く/低く)し、関係の深い国や地域を囲い込んで、その中だけで経済を成り立たせる(②)経済の政策をとった。植民地の少ないイタリア、ドイツ、日本などは、自らの(②)経済圏を作ろうとして、新たな領土の獲得を始めた。また、アメリカは保護貿易の姿勢を強めた。このように、各国が自国第一の政策を追究したので、国際協調体制が大きくゆらいだ。

[解答欄]

①	②
---	---

[解答]① 高く ② ブロック

[解説]

世界恐慌とその後の不況に対して、イギリスは、本国と植民地との関係を密接にし、植民地との貿易を拡大する一方、それ以外の国からの輸入に対する関税を高くした。このように、関係の深い国や地域を囲いこんで、その中だけで経済を成り立たせる仕組みをブロック経済という。植民地の多いフランスも、同じようにブロック経済を成立させた。

[ブロック経済]
イギリスとフランスは、
本国・植民地以外には高い関税
イタリア、ドイツ、日本は、
植民地が少なかった
↓
新たな領土の獲得に乗り出す
国際協調体制が大きくゆらいだ

他方で、植民地の少ないイタリア・ドイツ・日本などは、自らのブロック経済を作ろうと、新たな領土の獲得を始めた。また、アメリカは自国の産業を優先して保護貿易の姿勢を強めた。このように各国は、10年ほど続いた大不況に対して、それぞれ自国第一の対策を追求したので、国際連盟などによってできあがっていた国際協調の体制は大きくゆらいだ。

※出題頻度：「イギリスとフランス○」「ブロック経済◎」「植民地との貿易を拡大する一方、それ以外の国からの輸入に対する関税を高くした◎」「イタリア・ドイツ・日本は植民地が少なかった○→新たな領土の獲得△」「国際協調体制が大きくゆらいだ△」

[問題](前期期末)

次の各問いに答えよ。

- (1) 世界恐慌を乗り切るためにイギリスがとった政策を何経済というか。
- (2) (1)は、植民地との貿易をさかんにし、外国の商品に高い()をかけてしめだす政策である。()に適語を入れよ。
- (3) イギリスとともに(1)の政策をとった国はどこか。
- (4) 植民地が少なかったために、新たな領土の獲得を目指した国を3つあげよ。

[解答欄]

(1)	(2)	(3)
(4)		

[解答](1) ブロック経済 (2) 関税 (3) フランス (4) イタリア, ドイツ, 日本

[問題](1 学期期末)

次の各問いに答えよ。

- (1) 世界恐慌後のブロック経済の内容を「植民地」「関税」の語句を使って簡潔に答えよ。
- (2) ブロック経済を実施したヨーロッパの国を2つあげよ。
- (3) ドイツやイタリアや日本はブロック経済の政策をとることができなかったが、その理由を「植民地」という語句を使って説明せよ。
- (4) アメリカは貿易についてどのような政策をとったか。漢字4字で答えよ。
- (5) 第一次世界大戦後、国際連盟が創設され、世界の国々は軍縮を進めるなど、国際協調をはかってきた。ブロック経済などによって、それがどのように変化したか。「国際協調」という語句を使って簡単に説明せよ。

[解答欄]

(1)		
(2)	(3)	(4)
(5)		

[解答](1) 植民地との貿易を拡大する一方、それ以外の国からの輸入に対する関税を高くする政策。 (2) イギリス, フランス (3) 植民地が少なかったから。 (4) 保護貿易 (5) 国際協調体制が大きくゆらいだ。

[ソ連]

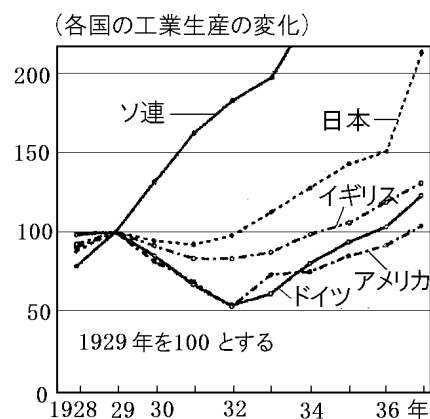
[問題](1 学期期末)

次の文章中の①, ②に適語を入れよ。

社会主義をとるソ連は、(①)を指導者として、(②)計画を推進していたので、右図のように、世界恐慌の影響を受けることなく成長をとげ、アメリカに次ぐ工業国となった。

[解答欄]

①	②
---	---



【解答】① スターリン ② 五か年

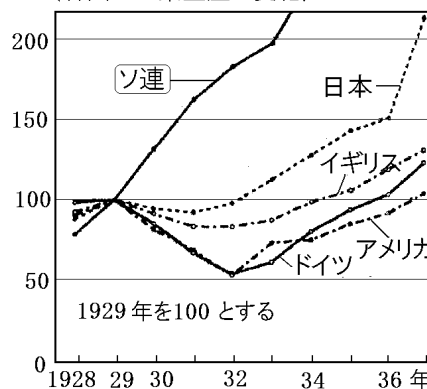
【解説】

当時のソ連ではスターリンを指導者として、五か年計画という独自の経済政策を進めていたため、世界恐慌の影響は受けなかった(右図のように、ソ連の工業生産は1929年以降ものび続けている)。

[ソ連]
 (スターリン, 五か年計画)
 (世界恐慌の影響は受けず)

※出題頻度: 「スターリン○」「五か年計画で独自の経済政策をとっていた◎」→世界恐慌の影響は受けなかった○ 「グラフでソ連はどれか◎」

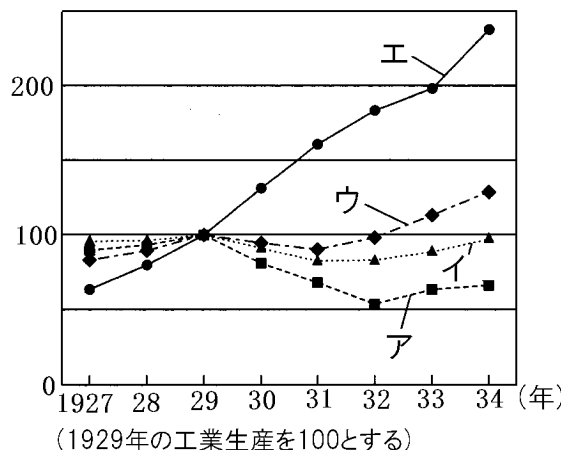
(各国の工業生産の変化)



【問題】(2学期中間)

次の文章中の①～④に適語を入れよ。

(①)主義国であるソ連は(②)(人物名)の独裁体制のもと、(③)とよばれた計画経済をとっていたために世界恐慌の影響を受けることはなかった。右図の(④)のように国内生産を増やし、アメリカにつぐ工業国になった。



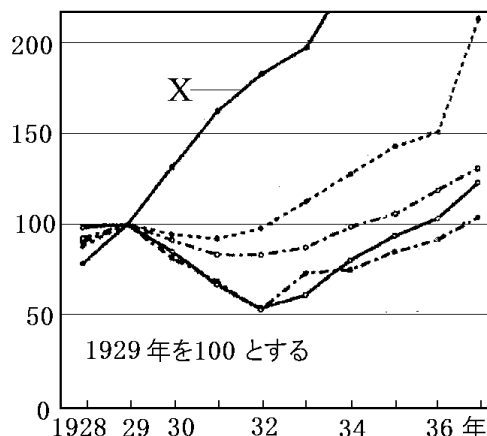
【解答欄】

①	②	③	④
---	---	---	---

【解答】① 社会 ② スターリン ③ 五か年計画 ④ エ

【問題】(入試問題)

右図は、1928年から1936年にかけての日本、アメリカ合衆国、イギリス、ソ連、ドイツの国別の鉱工業生産量について、1929年の生産量を100とした場合、どう変化したかを比較したものである。①図のXに当たる国はどこか、国名を書け。②また、そう判断した理由を、当時その国で経済発展のために進められていたことにふれながら書け。(熊本県)



[解答欄]

①

②

[解答]① ソ連 ② ソ連は五か年計画などの計画経済を進めていたため、世界恐慌の影響を受けなかったから。

[問題](1 学期期末)

次の A～C は世界恐慌後の各国のようすである。A～C にあてはまる国名を書け。

- A 政府が公共事業をおこしたり、産業の生産調整を行ったり、失業者の援助をしたりして、国民の購買力を高めた。
- B 五か年計画などの政策をすすめていたので、恐慌の影響をほとんど受けなかった。
- C 本国とインドなどの植民地との結びつきを強め、植民地の商品には関税を安くし、ほかの国の商品には高い関税をかけた。

[解答欄]

A	B	C
---	---	---

[解答]A アメリカ B ソ連 C イギリス

[解説]

C はブロック経済についての説明である。ブロック経済を実施したのはイギリスとフランスであるが、このうち、インドを植民地にしていたのはイギリスである。

【1】ファシズム

[イタリアのファシズム]

[問題](1 学期期末改)

次の文章中の①, ②に適語を入れよ。

イタリアは、第一次世界大戦の戦勝国であったが、戦争の被害が大きく、戦争終結後も経済が混乱していた。ファシスト党を率いた(①)(右図)は、領土問題や共産主義への国民の不满をあおりながら、1922年に首相になった。(①)が主導した、民主主義を否定して、個人よりも民族や国家を重視する全体主義の政治運動を(②)という。また、世界恐慌後に経済が行きづまると、エチオピアを侵略し、1936年にこれを併合した。



[解答欄]

①	②
---	---

[解答]① ムッソリーニ ② ファシズム

[解説]

イタリアは、第一次世界大戦の戦勝国^{せんしょうこく}であったが、戦争の被害が大きく、戦争終結後も経済が混乱していた。ファシスト党^{ひき}を率いたムッソリーニ^{ひき}は、領土問題や共産主義への国民の不满をあおりながら、1922(大正 11)年に首相になった。ムッソリーニは、国王の支

[イタリアのファシズム]

ムッソリーニのファシスト党
エチオピアを侵略



ムッソリーニ

持の下にほかの政党を禁止して独裁^{どくさい}を行い、言論や集会の自由を制限した。

ムッソリーニが主導した、民主主義を否定して、個人よりも民族や国家を重視する全体主義^{ぜんたいしゆぎ}の政治運動をファシズム^{せいかいきようこうご}という。また、世界恐慌^{せいかいきようこうご}後に経済が行きづまると、エチオピア^{しんりやく}を侵略し、1936(昭和 11)年にこれを併合した。

※出題頻度：「ムッソリーニ○」「ファシスト党△」「ファシズム◎」「エチオピア△」

[問題](前期中間)

次の各問いに答えよ。

- (1) 右の資料の人物は、イタリアでファシスト党を率いていた人物である。この人物の名前を書け。
- (2) (1)が主導した、民主主義を否定して、個人よりも民族や国家を重視する全体主義の政治運動を何というか。
- (3) イタリアが侵略し、1936年に併合した国はどこか。



[解答欄]

(1)	(2)	(3)
-----	-----	-----

[解答](1) ムッソリーニ (2) ファシズム (3) エチオピア

[問題](1 学期期末)

次の文章中の①～⑤に適語を入れよ。

イタリアでは(①)が(②)党を率いて 1922 年に政権をにぎった。世界恐慌によって経済が行きづまると、アフリカの(③)を侵略し、1936 年にこれを併合した。(①)が主導した、(④)主義を否定して、個人よりも民族や国家を重視する全体主義の政治運動を(⑤)という。

[解答欄]

①	②	③	④
⑤			

[解答]① ムッソリーニ ② ファシスト ③ エチオピア ④ 民主 ⑤ ファシズム

[ドイツのファシズム]

[問題](1 学期中間)

ドイツで 1933 年に政権をにぎり、ユダヤ人の迫害を行ったナチスの指導者は誰か。

[解答欄]

[解答]ヒトラー

[解説]

ドイツは第一次世界大戦の賠償金の支払いに苦しみ、物価高がおこっていたが、世界恐慌は、経済をさらに悪化させ、失業者が増大した。ヒトラーの率

「ファシズム」ドイツ
ヒトラーの ナチス
ユダヤ人の迫害



ヒトラー

いるナチス(国民社会主義ドイツ労働者党)は、ベルサイユ条約に対する国民の不満をあおり、ドイツ民族の優秀さを大衆の感情に訴えることで国民の支持を集め、1933年(昭和8年)に政権をにぎった。

ヒトラーは他の政党を解散させ、ワイマール憲法を停止して独裁を行い、国際連盟を脱退して軍備を強化し、さらにユダヤ人を迫害した。

※出題頻度：「ヒトラー○」「ナチス○」「ファシズム○」「ユダヤ人の迫害○」

[問題](1 学期期末)

次の文章中の①～③に適語を入れよ。

第一次世界大戦の敗戦国であるドイツは、ベルサイユ条約での賠償金が重い負担になっていた。こうした中で(①)の率いるナチスは、ベルサイユ条約の破棄を主張し、ドイツ民族の優秀さを誇り、(②)人を迫害し、自由主義者を攻撃して大衆の支持を集めた。政権をにぎると民主主義を無視し他の政党を解散させ、ワイマール憲法を停止した。さらに、国際連盟から脱退した。このように、民主主義を否定する全体主義の体制を(③)という。

[解答欄]

①	②	③
---	---	---

[解答]① ヒトラー ② ユダヤ ③ ファシズム

[問題](前期中間)

次の各問いに答えよ。

- (1) 右の資料の人物の名前を書け。
- (2) (1)の人物が率いた国民社会主義ドイツ労働者党の別名をカタカナ 3 字で書け。
- (3) (2)が停止させた憲法は何か。
- (4) 1933 年にドイツが脱退した国際組織の名前を書け。
- (5) (2)が迫害した民族の名を書け。
- (6) イタリアやドイツで行われた反民主主義をかかげる全体主義の政治のことを何というか。



[解答欄]

(1)	(2)	(3)	(4)
(5)	(6)		

[解答](1) ヒトラー (2) ナチス (3) ワイマール憲法 (4) 国際連盟 (5) ユダヤ人 (6) ファシズム

[問題](入試問題)

1930 年代前半の各国の状況を述べた文として、誤っているものを次のア～エより 1 つ選び、記号で答えよ。

- ア ドイツでは、不況の混乱の中でナチス(ナチ党)が政権を握り、公共事業と軍需産業で経済を回復させた。
- イ イギリス・フランスは、植民地以外の国との自由貿易をさかんにするブロック経済を進めた。
- ウ アメリカは、大規模な公共事業や賃金を引き上げるなどのニューディール政策をとった。
- エ ソ連は社会主義政策のもと、農業や重工業を重視した計画経済を行っていた。

(沖縄県)

[解答欄]

--

[解答]イ

[解説]イが誤り。イギリスやフランスは、本国と植民地との関係を密接にして、それ以外の国の商品に対する関税を高くするブロック経済政策をとった。

【】日本の中国侵略

【】昭和恐慌と政党内閣の危機

[金融恐慌→世界恐慌→昭和恐慌]

[問題](1 学期期末改)

次の文章中の①，②に適語を入れよ。

1923 年の関東大震災は経済に大きな打撃をあたえ、その後の混乱などから 1927 年には (①) 恐慌が起こり、多くの銀行が休業に追いこまれた。1929 年にアメリカから始まった世界恐慌は、1930 年に入って日本にもおよび、アメリカ向けの生糸の輸出が激減したため、まゆなどの農産物の価格が暴落した。さらに、大凶作に見舞われた東北地方と北海道では、ききんが起こり、女性の「身売り」や、「欠食児童」が問題になった。都市では、企業が数多く倒産し、失業者が増大した。また、労働争議や小作争議が多発した。このような深刻な不況を(②) 恐慌という。

[解答欄]

①	②
---	---

[解答]① 金融 ② 昭和

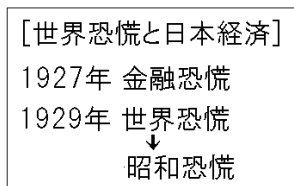
[解説]

日本では、1923 年(大正 12 年)の関東大震災で経済が大きな打撃を受け、その後の混乱から、1927 年(昭和 2 年)、銀行が信用を失い人々がいっせいに預金を引き出そうとする取りつけさわぎが起こって、多くの銀行が休業、倒産する金融恐慌に見舞われた。

さらに、生糸の最大の輸出先であるアメリカで 1929 年(昭和 4 年)

に始まった世界恐慌によって、生糸の輸出が激減するなど、日本の経済も大きな打撃を受け、深刻な不況におそわれた(昭和恐慌)。農村では、まゆをはじめとする農産物の価格が暴落したり、都市で失業した人々がもどってきたりしたため、生活は苦しくなった。大凶作に見舞われた東北地方と北海道ではききんが起こった。欠食児童、娘の身売りなどの社会現象がみられた。こうした中、労働争議、小作争議が激しさを増し、経済を支配していた財閥への批判が強まった。さらに、財閥と結び付いて汚職や政争をくり返す政党への不信も高まった。

※出題頻度：「金融恐慌○」「世界恐慌→昭和恐慌△」「生糸の輸出が激減△」



[問題](1 学期期末)

次の A～D のできごとを古い順に並び替えよ。

- A 関東地方を中心に関東大震災が起き、大きな被害を受けた。
- B 日本経済が深刻な不況となる昭和恐慌が始まった。
- C ニューヨークの市場の株価が大暴落し世界恐慌が始まった。
- D 日本で銀行の休業や倒産があいつぐ金融恐慌がおこった。

[解答欄]

--

[解答]A→D→C→B

[問題](1 学期期末)

次の各問いに答えよ。

- (1) 関東大震災で経済が大きな打撃を受け、その後の混乱から、1927年に取りつけさわぎが起こり、多くの銀行が休業、倒産する恐慌に見舞われた。この恐慌を何恐慌というか。
- (2) 生糸の最大の輸出先であるアメリカで1929年に始まった世界恐慌によって、日本の経済も大きな打撃を受け、深刻な不況におそわれた。これを何恐慌というか。
- (3) (2)の恐慌時の日本経済にあてはまらないものを、次のア～オから1つ選べ。
- ア アメリカ向けの生糸の輸出が激減したため、まゆなどの農産物の価格が暴落した。
- イ 農村では農作物の価格が暴落し、生活は苦しくなった。
- ウ 労働争議や小作争議が多発した。
- エ 欠食児童、娘の身売りなどの社会現象がみられた。
- オ アメリカからの輸入がとだえたため、国内で重化学工業が発達した。

[解答欄]

(1)	(2)	(3)
-----	-----	-----

[解答](1) 金融恐慌 (2) 昭和恐慌 (3) オ

[難航する外交]

[問題](2 学期期末改)

次の文章中の①、②に適語を入れよ。

日本などの列強が持つ権益の回収を唱える蔣介石に対し、危機感をいだいた関東軍は、満州の直接支配を目指して、1928年に満州の軍閥だった(①)を爆殺した。浜口雄幸内閣は、中国全土をほぼ統一した国民政府との関係改善を図る一方で、軍備を縮小して国民の負担を減らすため、イギリスやアメリカなどと協調して、1930年に(②)海軍軍縮条約を結んだ。しかし、一部の軍人や国家主義者などはこれを激しく攻撃した。首相の浜口雄幸は、右翼の一青年に狙撃されて重傷を負い、退陣に追い込まれた。

[解答欄]

①	②
---	---

[解答]① 張作霖 ② ロンドン

【解説】

各地の軍閥によってばらばらに支配されていた中国では、孫文の死後、蔣介石が国民党の指導者となって国内の統一を進め、1927年、それまで協力していた中国共産党を弾圧したうえで、南京に国民政府を作った。国民政府は共産党と内戦を行う一方、民族運動の高ま

【難航する外交】

1927年 蔣介石国内の統一を進める
1928年 関東軍が張作霖を爆殺
1930年 ロンドン海軍軍縮条約
↓
浜口雄幸が襲撃される

りを背景に、日本などの列強が持つ権益の回収を唱えた。国民政府軍が北京に近づくと、危機感をいだいた関東軍は、満州の直接支配を目指して、1928年に満州の軍閥だった張作霖を爆殺した。しかし、張作霖の後継者の張学良は日本に対抗するために蔣介石の傘下に入ったので、関東軍のねらいとは逆に、国民政府の支配が満州におよぶ結果になった。

立憲民政党の浜口雄幸内閣は、中国全土をほぼ統一した国民政府との関係改善を図る一方で、軍備を縮小して国民の負担を減らすため、イギリスやアメリカなどと協調して、1930年にロンドン海軍軍縮条約を結んだ。しかし、一部の軍人や国家主義者、そして野党の一部(犬養毅は統帥権の干犯であるとして浜口内閣を激しく追求した)はこれを攻撃した。首相の浜口雄幸は、右翼の一青年に狙撃されて重傷を負い、退陣に追い込まれた。

※出題頻度：「蔣介石△」「張作霖△」「ロンドン海軍軍縮条約△」「浜口雄幸△」

【問題】(後期中間)

次の各問いに答えよ。

- (1) 南京に国民政府を作り、各地の軍閥によってばらばらに支配されていた中国の統一を進め、日本などの列強が持っていた権益の回収を唱えた国民党の指導者は誰か。
- (2) (1)の権益回収の動きに危機感をいだいた関東軍は、満州の直接支配を目指して、1928年に満州のある軍閥を爆殺した。その軍閥の名前を答えよ。
- (3) 日本は、1930年に軍縮会議に参加し、何という軍縮条約に調印したか。
- (4) (3)の条約を結んだときの日本の首相の名前を答えよ。

【解答欄】

(1)	(2)	(3)
(4)		

【解答】(1) 蔣介石 (2) 張作霖 (3) ロンドン海軍軍縮条約 (4) 浜口雄幸

【】満州事変，五・一五事件，二・二六事件

[満州事変]

[問題](1 学期期末改)

次の文章中の①，②に適語を入れよ。

1931年，関東軍は奉天郊外の柳条湖で南満州鉄道の線路を爆破し，これを中国軍のしわざであるとして軍事行動を起こし，満州全土を占領した。これを(①)という。関東軍はさらに，1932年に清朝最後の皇帝溥儀を元首とする(②)(右の地図中のXの国)をつくった。



[解答欄]

①	②
---	---

[解答]① 満州事変 ② 満州国

[解説]

中国では蔣介石の率いる中国国民党が南京に国民政府を樹立し，中国の統一を進めていき，満州における日本の権益を回収することを表明した。これに危機感を持った日本の軍部や国家主義者などは，「満州は日本の生命線である」と主張した。

満州駐留の関東軍は，1931年(昭和6年)，奉天郊外の柳条湖で満鉄(南満州鉄道)の線路を爆破し，これを中国軍のしわざであるとして満州事変を起こし，満州全土を占領した。(いくさ人(1931)満州事変に勇みたち)

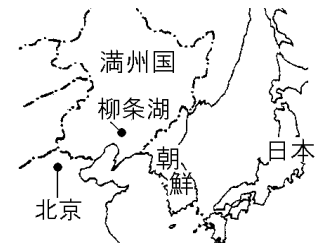
さらに，関東軍は，1932年に，清朝最後の皇帝溥儀を元首とする満州国をつくった。

※出題頻度：「柳条湖(地図)○」「関東軍○が南満州鉄道○を爆破」「満州事変◎」「満州国(地図)○」「溥儀○(清の最後の皇帝△)」

[満州事変]

1931年 関東軍が柳条湖で南満州鉄道を爆破
→ 満州事変

1932年 満州国建国
清朝最後の皇帝溥儀を元首

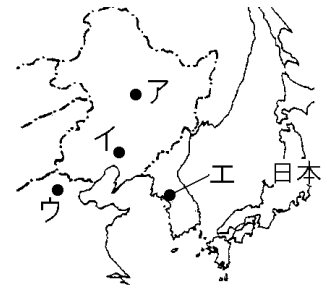


※満州事変は陸軍，それも出先機関の関東軍が勝手に始めたものであり，当時の若槻礼次郎内閣(政党内閣)にとっては，まさに寝耳に水であった。政府は不拡大方針をとろうとしたが，関東軍はこれを無視して占領地を拡大した。明治時代の藩閥政府のような強力な力を持たず，汚職や政争をくり返して国民の信頼を得ることができなかった政党内閣は，軍をコントロールする力に欠けていた。世論や新聞はむしろ軍の行動を支持し，自信を失った若槻内閣は総辞職した。

[問題](1 学期期末)

次の文章中の①～⑤に適語を入れよ。

中国では蒋介石の率いる国民党が中国の統一を進め、満州における日本の権益を回収することを表明した。これに危機感を持った(①)軍(現地の日本軍)は、1931 年、(②)湖(右の地図中の(③))で(④)鉄道を爆破し、これを中国軍のしわざであるとして(⑤)事変を起こし、満州全土を占領した。(①)軍は、翌 1932 年に、中国の清朝最後の皇帝の溥儀を元首とする(⑤)国をつくった。



[解答欄]

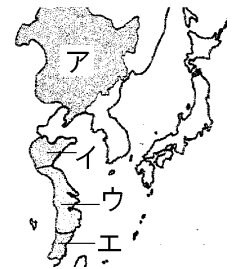
①	②	③	④
⑤			

[解答]① 関東 ② 柳条 ③ イ ④ 南満州 ⑤ 満州

[問題](1 学期中間)

次の各問いに答えよ。

- (1) 1931 年、関東軍が奉天郊外の柳条湖で満鉄の線路を爆破したことをきっかけに満州を占領したことを何というか。
- (2) (1)の翌年、軍部は清朝最後の皇帝を元首とする国を建国した。
①その国名を書け。②また、その場所を地図中のア～エから 1 つ選べ。
- (3) (2)の清朝最後の皇帝の名前を答えよ。



[解答欄]

(1)	(2)①	②	(3)
-----	------	---	-----

[解答](1) 満州事変 (2)① 満州国 ② ア (3) 溥儀

[五・一五事件]

[問題](1 学期期末)

次の文章中の①, ②に適語を入れよ。

関東軍は満州事変を起こして、満州国を勝手に建国した。若槻内閣にかわった(①)(右の写真)内閣は、満州国の承認に反対する方針をとった。これに対し、1932 年、海軍将校の一団が(①)首相を殺害する事件を起こした。この事件を(②)という。これによって 8 年間続いた政党内閣の時代が終わった。



[解答欄]

①	②
---	---

[解答]① 犬養毅 ② 五・一五事件

[解説]

わかつきないかく
若槻内閣にかわった犬養毅内閣は、満州国の承認に反対する方針をとったが、これに対し、1932年(昭和7年)5月15日、海軍将校の一派が犬養毅首相を殺害した。この事件を五・一五事件という(いくさに(1932)反対犬養毅)。



犬養毅

[五・一五事件]

1932年 犬養毅首相が暗殺される



政党内閣の時代が終わった

これによって、政党内閣の時代が終わり、軍人が首相になることが多くなった。

※出題頻度：「五・一五事件◎」「犬養毅◎」「政党内閣の時代が終わった○」

[問題](1 学期中間)

右の新聞記事は、1932年に起きた事件を報じたものである。

次の各問いに答えよ。

- (1) この事件は何と呼ばれるか。
- (2) (1)の事件で暗殺された右の写真の首相は誰か。
- (3) (2)の人物が暗殺された理由を、何について軍部と対立していたかを考えて、簡潔に書け。
- (4) (1)の事件は日本の政治にどのような影響を及ぼしたか説明せよ。



首相遂に兇手に倒る
昨夜十二時廿六分絶命
犬養毅は、大連総領事官に就任して、翌日、首相に就任した。その翌日、即ち5月15日、海軍少佐の一派が、大連で、犬養毅首相を暗殺した。犬養毅は、午後十二時廿六分、大連で絶命した。犬養毅の死は、日本の政治に大きな影響を及ぼした。犬養毅の死は、日本の政治に大きな影響を及ぼした。犬養毅の死は、日本の政治に大きな影響を及ぼした。

[解答欄]

(1)	(2)	(3)
(4)		

[解答](1) 五・一五事件 (2) 犬養毅 (3) 満州国の承認に反対したから。

(4) 政党内閣の時代が終わった。

[国際連盟を脱退]

[問題](前期中間)

満州事変と満州国の建国は各国の反発を招き、中国からの訴えで国際連盟はリットン調査団を派遣して調査を行い、1933年、総会で満州国を認めず、日本軍の撤兵を求める勧告を採択した。これに対して日本はどのような行動をとったか。

[解答欄]

[解答] 国際連盟を脱退した。

[解説]

満州事変はアメリカを中心に各国の反発を招き、中国からの訴えで国際連盟はリットン調査団を派遣して調査を行い、1933年(昭和8年)、総会で満州国を認めず、日本軍の撤兵を求める勧告を採択した。これに反発した日本は国際連盟を脱退

[国際連盟を脱退]

1933年 国際連盟 リットン調査団

満州国を認めず、日本軍の撤兵を求める

↓
日本は 国際連盟を脱退

し、国際的に孤立することになった。(国際連盟引くサッサ(1933))


※出題頻度：「国際連盟△：リットン調査団○」「満州国を認めず日本軍の撤兵を要求◎」

「日本は国際連盟を脱退◎」

[問題](1 学期期末)

次の各問いに答えよ。

- (1) 満州事変と満州国建国後、国際連盟は中国側の要請にもとづき右図の調査団を派遣したが、その団長の名前を答えよ。
- (2) (1)の調査団を派遣して調査を行い、総会で満州国の不承認ともう1つ何の勧告を採択したか。
- (3) (2)に対して日本はどのような行動をとったか。



[解答欄]

(1)	(2)	(2)
-----	-----	-----

[解答](1) リットン (2) 日本軍の撤兵 (3) 国際連盟を脱退した。

[問題](1 学期期末)

次のア～エのうち適切でない文を1つ記号で選べ。

- ア 満州の主要地域を占領した関東軍は、清朝の最後の皇帝であった溥儀を執政とする満州国を建国した。
- イ 国際連盟は、中国の訴えによってリットン調査団を派遣し、満州国を認めず日本軍の撤兵を求める勧告を採択した。
- ウ 関東軍が北京郊外の盧溝橋で南満州鉄道を爆破する事件を起こした。
- エ 1933年に日本は国際連盟を脱退し、国際的に孤立していった。

[解答欄]

[解答]ウ

[解説]

ウが誤り。「北京郊外の盧溝橋」ではなく「奉天郊外の柳条湖」である。

[問題](後期中間)

次の資料について、後の各問いに答えよ。

- (1) 資料の新聞記事は、どのようなことを報じているか。「日本が～したこと」という形で答えよ。
- (2) 日本が(1)の行動をとったのは、国際連盟からある勧告を受けたためである。勧告された内容を、「満州国」「撤兵」という語句を使って書け。



[解答欄]

(1)
(2)

[解答](1) 日本が国際連盟を脱退したこと。 (2) 満州国を認めず、日本軍の撤兵を求めた。

[問題](入試問題)

右の資料は、日本、アメリカ、イギリス、ドイツの国際連盟への加盟状況を示している。日本に当たるものを、ア～エから1つ選び、符号で書け。

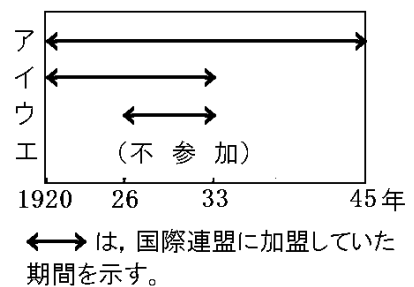
(岐阜県)

[解答欄]

[解答]イ

[解説]

アはイギリス、イは日本、ウはドイツ、エはアメリカである。



[二・二六事件]

[問題](2 学期期末)

1936 年、陸軍の青年将校が首相官邸や警視庁を襲撃する(X)事件が起こったが、これ以降、軍部は政治的な発言力を強めていった。文中の X に適語を入れよ。

[解答欄]

[解答]二・二六

[解説]

1936 年(昭和 11 年)2 月 26 日、陸軍の一部の青年将校が首相官邸や警視庁などを襲撃する二・二六事件を起こした。これ以降、軍部は政治的な発言力を強めていった。(二・二六ひどく寒い(1936)日におこる)

[二・二六事件]

1936 年、陸軍の一部の青年将校が首相官邸などを襲撃

軍部は政治的な発言力を強めた

※出題頻度：「二・二六事件◎」「軍部は政治的な発言力を強めていった△」

[問題](1 学期中間)


次の各問いに答えよ。

(1) 右の資料は、1936 年に東京を占拠した反乱軍の将兵らに配布されたビラである。この事件を何というか。

(2) (1)について正しく述べているものを、次のア～エから 1 つ選べ。

- ア 陸軍の青年将校が首相官邸を襲撃し、犬養毅首相を暗殺した。
- イ 海軍将校の一団が首相官邸や警視庁を襲撃した。
- ウ 陸軍の青年将校が首相官邸や警視庁を襲撃した。
- エ 海軍将校の一団が首相官邸を襲撃し、犬養毅首相を暗殺した。

(3) 五・一五事件や(1)の事件のあと、日本の政治はどのようなになっていったか。「政治的な発言力」という語句を使って簡潔に説明せよ。



[解答欄]

(1)	(2)	(3)
-----	-----	-----

[解答](1) 二・二六事件 (2) ウ (3) 軍部が政治的な発言力を強めていった。

[問題](前期期末)

次の[]のできごとを古い順に並べよ。

[五・一五事件 満州事変 二・二六事件 世界恐慌 満州国建国 国際連盟脱退]

[解答欄]

[解答]世界恐慌→満州事変→満州国建国→五・一五事件→国際連盟脱退→二・二六事件

【】 日中戦争と戦時体制

[日中戦争の勃発]

[問題](後期中間改)

右の a で 1937 年に起きた武力衝突がきっかけで日中戦争が始まった。戦火は華中にも拡大し日本軍は中国の首都南京を占領した。

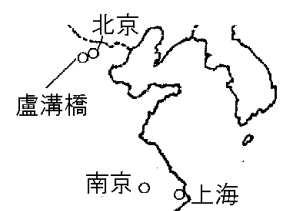
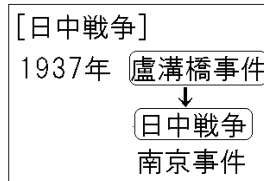
a の地名を答えよ。

[解答欄]

[解答]盧溝橋

[解説]

満州を支配下に置いた日本は、さらに中国北部に侵入した。1937年(昭和12年)、北京郊外の盧溝橋で日本軍が中国軍と衝突し、日中戦争が始まった(盧溝橋事件)(いくさ長(1937)びく日中戦争)。戦火は華北から華中に拡大し日本軍は中国の首都南京を占領した。その中で、多数の中国人を殺害する南京事件が起きた。



※出題頻度：「盧溝橋(地図)◎」「日中戦争◎」「南京事件(地図)△」

[問題](1 学期中間)

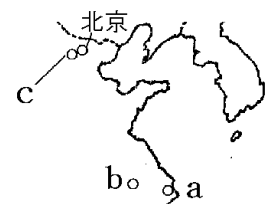
次の各問いに答えよ。

- (1) 1937年に起こった日中の武力衝突事件を何というか。
- (2) (1)の起きた場所を右の地図中の a~c から選べ。
- (3) (1)をきっかけにして始まった戦争を何というか。

[解答欄]

(1)	(2)	(3)
-----	-----	-----

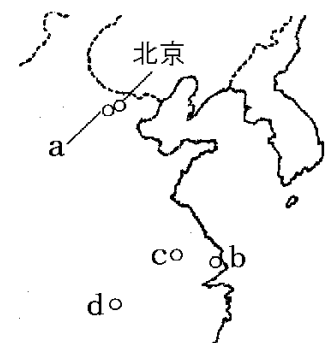
[解答](1) 盧溝橋事件 (2) c (3) 日中戦争



[問題](2 学期期末)

次の各問いに答えよ。

- (1) 盧溝橋で起きた軍事衝突から始まった戦争を何というか。
- (2) 盧溝橋の位置を右の地図中の a~d から 1 つ選べ。
- (3) (1)の戦争が始まった年を答えよ。
- (4) 日本軍は、当時の中国の首都を占領した。①その都市を地図中の a~d から選べ。②また、この都市で多数の中国人を殺害したできごとを何というか。



[解答欄]

(1)	(2)	(3)	(4)①
②			

[解答](1) 日中戦争 (2) a (3) 1937年 (4)① c ② 南京事件

[問題](入試問題)

次のア～エを古い順に並べかえ、符号で書け。

- ア 北京郊外での日中両軍の武力衝突事件をきっかけに、日中戦争が始まった。
- イ 日本は、国際連盟から脱退し、国際社会から孤立した。
- ウ 奉天郊外の柳条湖の南満州鉄道の線路爆破をきっかけに、満州事変が始まった。
- エ 海軍の将校の一団が、犬養毅首相を首相官邸で暗殺した五・一五事件が起こった。

(大分県)

[解答欄]

[解答]ウ→エ→イ→ア

[解説]

ウ(満州事変 1931年)→エ(五・一五事件 1932年)→イ(国際連盟の脱退 1933年)→ア(日中戦争 1937年)

[抗日民族統一戦線の結成]

[問題](1学期中間)

日中戦争が始まると、対立関係にあった、右図の蒋介石が率いる国民党と、毛沢東が率いる共産党が協力して日本に対抗するために結成したものは何か。

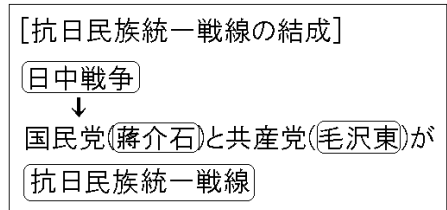


[解答欄]

[解答]抗日民族統一戦線

[解説]

中国では、国民政府(国民党)と共産党との内戦ないせんが行われていたが、抗日運動こういちうんどうが盛り上がる中、毛沢東もうたくとうが率いる共産党は、蔣介石かいせきが指導する国民党に協力を呼びかけ、1936(昭和11)年に内戦ないせんを停止した。




1937年に日中戦争が始まると、国民党と共産党は共同して日本軍と戦うために手を結んで、抗日民族統一戦線を結成した。1937年末に首都の南京を占領された国民政府は、拠点を漢口、次いで重慶に移し、アメリカやイギリスなどの支援を受けながら、戦争を続けた。

※出題頻度：「共産党△の毛沢東◎」「国民党△の蒋介石◎」「抗日民族統一戦線◎」「アメリカやイギリスの援助△」

[問題](1 学期期末)

次の各問いに答えよ。

- (1) 日中戦争が始まると、中国では国民党と共産党が手を結んで日本に対抗する協力体制ができたが、これを何というか。
- (2) (1)が結成されたときの国民党と共産党の指導者の名前を漢字で答えよ。また、この2人は右の写真のうちのどちらか。それぞれA、Bで答えよ。



[解答欄]

(1)	(2)国民党：	共産党：
-----	---------	------

[解答](1) 抗日民族統一戦線 (2)国民党：蒋介石，A 共産党：毛沢東，B

[問題](後期中間改)

次の文章中の①～⑨に適語を入れよ。

1937年、北京郊外の(①)で日中両国軍の武力衝突がおこり、(②)戦争が始まった。このころ、中国では、国民党の(③)と(④)党の(⑤)とが対立し内戦が続いていたが、協力して日本に対抗するために(⑥)を結成した。これにより、日本と中国が総力をあげて戦う全面戦争となった。1937年末に首都の(⑦)を占領された国民政府は、拠点を漢口、次いで(⑧)に移し、(⑨)やイギリスなどの支援を受けながら、戦争を続けた。

[解答欄]

①	②	③	④
⑤	⑥	⑦	
⑧	⑨		

[解答]① 盧溝橋 ② 日中 ③ 蒋介石 ④ 共産 ⑤ 毛沢東 ⑥ 抗日民族統一戦線 ⑦ 南京 ⑧ 重慶 ⑨ アメリカ

[強まる戦時体制]

[問題](2 学期中間改)

次の文章中の①，②に適語を入れよ。

日中戦争が長引く中で、1938年、近衛文麿内閣のとき、政府が議会の承認なしに労働力や物資を動員できる(①)法が制定された。砂糖、マッチ、木炭、綿製品などが切符制となり、米も配給制となった。戦時中の標語には、「欲しがりません勝つまでは」などがある。また、町内会の下に約10戸を単位とする隣組が作られた。1940年には、近衛文麿が「挙国一致」の体制をつくる運動を始め、ほとんどの政党や団体は解散し、(②)会に合流した。

[解答欄]

①	②
---	---

[解答]① 国家総動員法 ② 大政翼賛会

[解説]

日中戦争が長引くにつれて、政府は国民を戦争に動員する「戦時体制」を強めていった。1938年には近衛文麿内閣が国家総動員法を公布し、政府は議会の承認なしに労働力や物資を動員できるようになった。

軍需品の生産が優先されたため、生活必需品の生産が圧迫を受け、砂糖、マッチ、衣類などが切符制となり、米も配給制となった。戦時中の標語には、「欲しがりません勝つまでは」

「ぜいたくは敵だ」「ガソリンの一滴は血の一滴」などがある。住民を相互に監視させる目的で、町内会の下に約10戸を単位とする隣組が作られた。1940年には、近衛文麿が「挙国一致」の体制をつくる運動を始め、ほとんどの政党や団体は解散し、大政翼賛会に合流した。
※出題頻度：「近衛文麿○」「国家総動員法◎：政府は議会の承認なしに労働力や物資を動員できる△」「大政翼賛会◎」「米などは配給制△」「隣組○」

[強まる戦時体制]

近衛文麿 内閣

国家総動員法

議会の承認なしに、労働力や物資を動員できる

大政翼賛会

米などは配給制、隣組

[問題](1 学期期末)

日中戦争後の日本について、次の各問いに答えよ。

- (1) 国民や物資などを、議会の承認なしに戦争に動員できると定めた法律を何というか。
- (2) (1)の法律ができたときの内閣総理大臣は誰か。
- (3) 情報伝達や相互監視のため、町内会の下につくられた組織は何か。
- (4) 政党が解散して、1つにまとまった組織を何というか。

[解答欄]

(1)	(2)	(3)	(4)
-----	-----	-----	-----

[解答](1) 国家総動員法 (2) 近衛文麿 (3) 隣組 (4) 大政翼賛会

[問題](3 学期)

日中戦争後の日本のようすとしてあてはまらないものを次のア～エから 1 つ選び、記号で答えよ。

ア 「ぜいたくは敵だ」など戦争への協力を呼びかける、多くの標語がかかげられた。

イ 米は配給制に、砂糖やマッチは切符制になった。

ウ 住民を相互に監視させる目的で、町内会の下に隣組がつくられた。

エ 東条英機内閣のとき国家総動員法がつくられた。

オ 挙国一致の政治体制をめざし、大政翼賛会がつくられた。

[解答欄]

--

[解答]エ

[解説]

エが誤り。国家総動員法は近衛文麿内閣のときに出された法律である。東条英機は太平洋開戦時の首相である。

[問題](後期中間)

次の各問いに答えよ。

- (1) ①国家総動員法とはどのような法律か。「議会の承認」「労働力や物資」という語句を使って説明せよ。②この法律がつくられたときの首相の名前を答えよ。
- (2) 日中戦争が長期化する中で、戦争への協力体制を日本は整えたが、このような体制を何というか。
- (3) 戦時中に国民に節約を呼びかけた標語(スローガン)を 1 つあげよ。
- (4) 砂糖、マッチ、衣類などが(①)制となり、(②)が配給制になった。①、②に適語を入れよ。
- (5) 住民を相互に監視させる目的で、町内会の下に何が作られたか。
- (6) 1940 年に、ほとんどの政党を解散して(①)体制のために(②)会がつくられた。①、②に適語を入れよ。

[解答欄]

(1)①			
②	(2)	(3)	
(4)①	②	(5)	(6)①
②			

[解答](1)① 政府が議会の承認なしに労働力や物資を動員できると定めた法律。

② 近衛文麿 (2) 戦時体制 (3) ぜいたくは敵だ。(欲しがりません勝つまでは。ガソリンの一滴は血の一滴。) (4)① 切符 ② 米 (5) 隣組 (6)① 挙国一致 ② 大政翼賛会

[問題](前期期末)

昭和に入って、日本は戦争へと突きすすんでいった。これに関して、次の[]が示すできごとを年代の古いものから順に並べよ。

[二・二六事件 五・一五事件 国家総動員法 日中戦争 満州事変]

[解答欄]

--

[解答]満州事変→五・一五事件→二・二六事件→日中戦争→国家総動員法

[皇民化政策]

[問題](2 学期期末)

朝鮮では日本語の強制や創氏改名、志願兵制度が行われた。このように朝鮮の人々を日本に同化させるための政策を何というか。漢字 3 文字で答えよ。

[解答欄]

--

[解答]皇民化

[解説]

朝鮮では、「皇民化」の名のもとに、日本語の使用や、姓名のあらわし方を日本式に改めさせる創氏改名をおし進めた。さらに労働力として動員したり志願兵制度を実施したりするなど、朝鮮の人々も戦争に動員した。「皇民化」や戦時動員は台湾でも進められた。

[皇民化]

創氏改名, 日本語の強制,
志願兵制度

※出題頻度：「皇民化政策○」「創氏改名△」

[問題](1 学期中間)

次の文中の①, ②に適語を入れよ。

朝鮮では、日本語の使用や姓名の表し方を日本式に改めさせる(①)や、志願兵制度などを推し進めた。このように朝鮮の人々を日本に同化させるための政策を(②)化という。

[解答欄]

①	②
---	---

[解答]① 創氏改名 ② 皇民

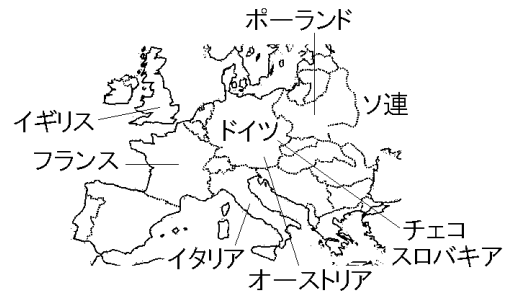
【】 第二次世界大戦と日本

【】 第二次世界大戦の始まり

[問題](1 学期中間改)

次の文章中の①，②に適語を入れよ。

1938年にオーストリア、次いでチェコスロバキア西部を併合したヒトラーの率いるナチス・ドイツは、それまで対立していたソ連と(①)条約を結んだうえで、1939年、(②)に侵攻した。これに対し、イギリス、フランスは、ドイツに宣戦布告し、第二次世界大戦が始まった。



[解答欄]

①	②
---	---

[解答]① 独ソ不可侵 ② ポーランド

[解説]

[第二次世界大戦の始まり]

1933年 ドイツのヒトラー のナチスが政権をにぎる

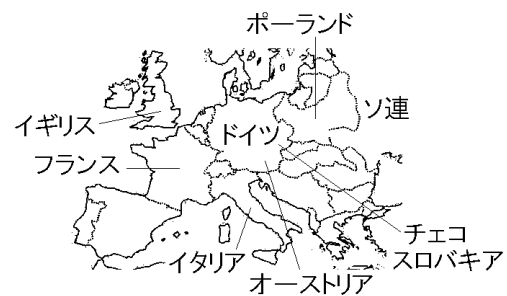
1938年 オーストリア、
チェコスロバキア西部を併合

1939年 独ソ不可侵条約

1939年 ポーランドに侵攻

↓

イギリスとフランス がドイツに宣戦布告
第二次世界大戦が始まる



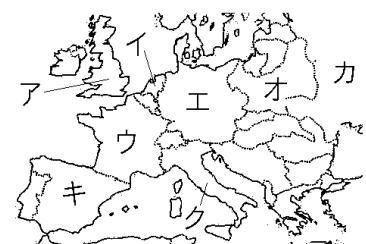
1938年(昭和13年)にオーストリア、次いでチェコスロバキア西部を併合したヒトラーの率いるナチス・ドイツは、1939年8月にソ連と独ソ不可侵条約を結んだ上で、9月にポーランドに侵攻した。これに対して、イギリスとフランスはドイツに宣戦布告し、こうして第二次世界大戦が始まった。

※出題頻度：「ドイツのヒトラー○」「独ソ不可侵条約◎」「ソ連△」「ポーランド(地図)◎」「イギリスとフランスが宣戦布告○」「第二次世界大戦△」

[問題](1 学期期末)

次の各問いに答えよ。

- (1) 第二次世界大戦は、ドイツがどこの国に侵攻したことから始まったか。①国名を書け。②その国の位置を右の地図より選べ。
- (2) (1)の前に、ドイツはある国と不可侵条約を結んだ。①何という条約か。②ある国とはどこか。国名を答えよ。



(3) (2)に対し、ヨーロッパの2つの国がドイツに宣戦布告した。2国とはどこか。

[解答欄]

(1)①	②	(2)①	②
(3)			

[解答](1)① ポーランド ② オ (2)① 独ソ不可侵条約 ② ソ連 (3) イギリス, フランス

[問題](後期中間)

次の各問いに答えよ。

- (1) 1938年, ドイツはオーストリアを併合した。この年, イギリス・フランスの承認のもとにある国の一部もドイツによって併合された。併合された国の名前を書け。
- (2) 1939年8月, ドイツはソ連とある条約を結んだ。何という条約か。
- (3) 1939年9月, ドイツは何という国へ侵攻したか。
- (4) (3)に対し, ヨーロッパの2つの国がドイツに宣戦布告した。2国とはどこか。
- (5) (4)によって始まった戦争を何というか。
- (6) ①このころのドイツの指導者は誰か, ②また, ①が率いた政党名を答えよ。

[解答欄]

(1)	(2)	(3)
(4)	(5)	(6)①
②		

[解答](1) チェコスロバキア (2) 独ソ不可侵条約 (3) ポーランド

(4) イギリス, フランス (5) 第二次世界大戦 (6)① ヒトラー ② ナチス

[問題](1 学期期末)

第二次世界大戦が始まったのはどのような原因からか。「ドイツ」「イギリス」「フランス」「ポーランド」の語句を使って説明せよ。

[解答欄]

--

[解答]ドイツがポーランドに侵攻したことで, イギリスとフランスがドイツに宣戦布告したから。

[戦争の拡大]

[問題](1 学期期末改)

次の文章中の①，②に適語を入れよ。

1940年にドイツはパリを占領して、フランスを降伏させ、さらにイギリスへの激しい空襲を行った。ドイツの優勢を見て、イタリアはドイツ側に立って参戦した。1940年9月、ドイツ、イタリア、日本は(①)同盟を結び結束を強化した。1941年6月、ドイツは、独ソ不可侵条約を破ってソ連に侵攻した。アメリカのローズベルト大統領とイギリスのチャーチル首相は、1941年8月に(②)を発表して、ファシズムに対決する決意と戦後の平和構想を示した。

[解答欄]

①	②
---	---

[解答]① 日独伊三国 ② 大西洋憲章

[解説]

1940年(昭和15年)にドイツはパリを占領して、フランスを降伏させ、さらにイギリスへの激しい空襲を行った。
 ドイツの優勢を見て、イタリアはドイツ側に立って参戦した。1940年9月、ドイツ、イタリア、日本は日独伊三国同盟を結び結束を強化した。1941年6月、ドイツは、独ソ不可侵条約を破ってソ連に侵攻した。
 アメリカのローズベルト大統領とイギリスのチャーチル首相は、1941年8月に大西洋憲章を発表して、ファシズムに対決する決意と戦後の平和構想を示した。

[戦争の拡大]	
1940年	フランスを降伏させるイギリスへの空襲 日独伊三国同盟
1941年	ソ連に侵攻
1941年	大西洋憲章 アメリカのローズベルト イギリスのチャーチル

※出題頻度：「フランスの降伏△」「イギリスへの空襲△」「日独伊三国同盟○」

「ソ連に侵攻△」「大西洋憲章○：アメリカのローズベルトとイギリスのチャーチル△」

[問題](前期中間)

次の各問いに答えよ。

- 1940年にドイツはパリを占領して、(①)を降伏させ、さらに(②)への激しい空襲を行った。①，②にあてはまる国名を答えよ。
- 1940年にドイツ、イタリア、日本が結んだ同盟は何か。
- 1941年にアメリカとイギリスが発表した、ファシズムに対決する決意と戦後の平和構想を示したものを何というか。

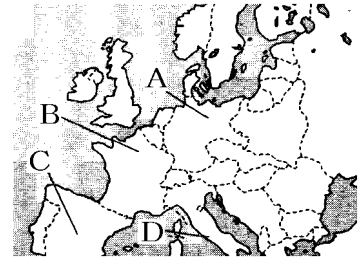
[解答欄]

(1)①	②	(2)
(3)		

[解答](1)① フランス ② イギリス (2) 日独伊三国同盟 (3) 大西洋憲章

[問題](入試問題)

右の略地図は第二次世界大戦が始まる前年のヨーロッパの国々を表したものである。日本が結んだ三国同盟の相手国を2つ選び、記号で答えよ。



(大分県)

[解答欄]

[解答]A, D

[解説]

1940年、ドイツ(地図のA)、イタリア(地図のD)、日本は日独伊三国同盟を結んだ。

[問題](2 学期中間)

次のア～オを古いものから順に並べよ。

ア イギリス・フランスがドイツに宣戦布告。

イ ドイツがソ連に侵攻。

ウ ドイツがポーランドに侵攻。

エ ドイツがパリを占領。

オ 独ソ不可侵条約を結ぶ。

[解答欄]

[解答]オ→ウ→ア→エ→イ

[ドイツの占領政策]

[問題](2 学期中間改)

次の文章中の①、②に適語を入れよ。

ナチス・ドイツは、(①)人を徹底的に迫害し、ポーランドにあるアウシュビッツ強制収容所などに送り、殺害した。(①)人少女アンネ・フランクの残した「アンネの日記」はナチスの迫害から逃れるためにかくれ家にひそんだ日々のできごとを記している。リトアニアの領事代理の杉原千畝は、海外脱出をはかろうとする(①)人にビザを発行し、6000人の命を救った。ドイツの占領政策に対して、ヨーロッパ各地では、ドイツへの協力拒否や、武力などによる(②)が行われた。



アンネ・フランク

【解答欄】

①	②
---	---

【解答】① ユダヤ ② レジスタンス

【解説】

ドイツはユダヤ人を徹底的に迫害し、ポーランドにあるアウシュビッツ強制収容所など、各地の強制収容所に送り、殺害した。ユダヤ人少女アンネ・フランクの残した「アンネの日記」はナチスの迫害から逃れるためにかくれ家にひそんだ日々のできごとを記している。リトアニアの領事代理の杉原千畝は、日本政府の意向に反して海外脱出をはかろうとするユダヤ人にビザを発行し、6000人の命を救った。ドイツの占領政策に対して、ヨーロッパ各地では、ドイツへの協力拒否や、武力などによる抵抗運動(レジスタンス)が行われた。

【ユダヤ人への迫害】
 アウシュビッツ強制収容所
 アンネ・フランク
 レジスタンス



杉原千畝



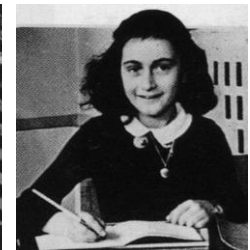
アンネ・フランク

※出題頻度：「ユダヤ民族○」「アウシュビッツ強制収容所○」「アンネ・フランク△」「杉原千畝△」「レジスタンス○」

【問題】(1 学期期末)

次の各問いに答えよ。

- (1) ドイツが絶滅をめざし数百万人を虐殺した民族は何か。
- (2) (1)のためにつくった強制収容所の中で、右の写真のポーランドにある最も有名な強制収容所の名前を答えよ。
- (3) 迫害の犠牲者となった右の写真の人物の名を答えよ。
- (4) 日本政府の意向に反して海外脱出をはかろうとするユダヤ人にビザを発行し、6000人の命を救ったリトアニアの領事代理であった日本人の名前を答えよ。
- (5) ドイツの占領地で起きた、ドイツに対する抵抗運動をカタカナで何というか。



【解答欄】

(1)	(2)	(3)
(4)	(5)	

【解答】(1) ユダヤ民族(ユダヤ人) (2) アウシュビッツ強制収容所 (3) アンネ・フランク
 (4) 杉原千畝 (5) レジスタンス

【】太平洋戦争の始まり

[東南アジアへの南進]

[問題](1 学期期末)

次の文章中の①，②に適語を入れよ。

援蔣ルートを断ち切るとともに，石油やゴムなどの資源を獲得するために，日本は 1940 年にフランス領インドシナの北部に軍を進め，次いで，ドイツとイタリアとの(①)同盟を結んだ。さらに，1941 年，ソ連と(②)条約を結び，北方の安全を確保したうえで，フランス領インドシナの南部を占領した。こうした動きと合わせて，日本は，日本の指導の下，欧米の植民地支配を打破し，アジアの民族だけで繁栄しようという大東亜共栄圏の建設を唱えた。

[解答欄]

①	②
---	---

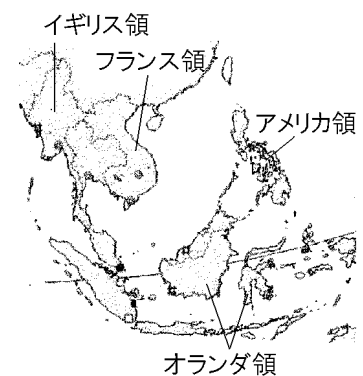
[解答]① 日独伊三国 ② 日ソ中立

[解説]

イギリスやフランスなどがドイツとの戦争で劣勢におちいると，日中戦争が長期化していた日本は，近衛内閣の下，これらの国々の植民地がある東南アジアに武力による南進を始めた。援蔣ルートを断ち切る(当時，アメリカやイギリスは，蒋介石の国民政府を支援するため，インドシナ半島北部經由の援蔣ルートで軍需物資などを送っていた)ことと，石油やゴムなどの資源を獲得するのがその目的であった。日本は 1940(昭和 15)年 9 月，フランス領インドシナの北部に軍を進め，次いで日独伊三国同盟を結んだ。さらに，1941 年 4 月に日ソ中立条約を結び，北方の安全を確保したうえで，7 月にインドシナの南部へも軍を進めた。こうした動きと合わせて，日本は「大東亜共栄圏」の建設を唱えた。それは，日本の指導の下，欧米の植民地支配を打破し，アジアの民族だけで繁栄しようという主張であった。

[東南アジアへの南進]

1940年 フランス領インドシナ北部へ軍を進める
 1940年 **日独伊三国同盟**
 1941年 **日ソ中立条約**
 1941年 フランス領インドシナ南部を占領
石油やゴムなどの資源を獲得するため
 援蔣ルートを断ち切るため
大東亜共栄圏を唱える



※出題頻度：「フランス領インドシナ(地図)△」「日独伊三国同盟◎」「日ソ中立条約◎」「石油やゴムなどの資源を獲得するため◎」「援蔣ルートを断つため△」「大東亜共栄圏○」

[問題](2 学期中間)

次の各問いに答えよ。

- (1) 1940 年に、ドイツ、イタリア、日本が結んだ軍事同盟を何というか。
- (2) 日本がフランス領インドシナ南部に軍を進める際、北方の安全を確保するために 1941 年にソ連と結んだ条約を何というか。
- (3) 日本が東南アジアに南進を始めた目的を次のア～エから 2 つ選び、記号で答えよ。
ア 石油やゴムなどの資源を獲得するため。
イ 東南アジア諸国を解放するため。
ウ 援蔣ルートを断ち切るため。
エ 中国から撤退するため。
- (4) 東南アジアへの進出を正当化するために、「日本の指導のもと、欧米の植民地支配を打破し、アジアの諸民族だけで繁栄しよう」として、日本が唱えた理念を漢字 6 文字で答えよ。

[解答欄]

(1)	(2)	(3)	(4)
-----	-----	-----	-----

[解答](1) 日独伊三国同盟 (2) 日ソ中立条約 (3) ア, ウ (4) 大東亜共栄圏

[問題](前期中間)

日本軍は東南アジアへ侵攻していったが、その理由の 1 つは援蔣ルートを断ち切ることであった。もう 1 つの理由を「資源」に注目して簡単に答えよ。

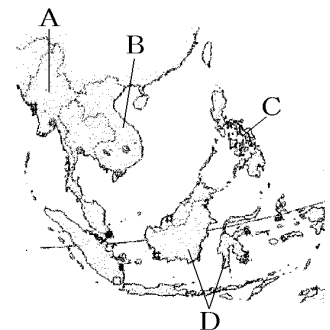
[解答欄]

[解答]石油やゴムなどの資源を獲得するため。

[問題](後期中間)

次の各問いに答えよ。

- (1) 日本は、1940 年にインドシナ北部へ軍を進めたが、①右の地図中の A～D からその場所を選べ。②そこはどこの国の植民地だったか。
- (2) (1)の後、日本はヨーロッパのある 2 国と同盟を結んだ。
①この同盟を何というか。②日本が同盟を結んだ 2 国とはどこか。
- (3) 1941 年にソ連ともある条約を結んだが、その条約名を答えよ。
- (4) 日本が(3)の条約を結んだ理由を「北方」という語句を使って簡単に説明せよ。



- (5) 日本がインドシナに武力による南進を行った目的は何か。「ルート」「資源」という語句を使って、簡潔に説明せよ。
- (6) 日本は、東南アジアへの進出を正当化するために、「日本の指導のもと、欧米の植民地支配を打破し(①)の諸民族だけで繁栄しよう」という(②)圏の建設を唱えた。文中の①, ②に適語を入れよ。

[解答欄]

(1)①	②	(2)①
②	(3)	(4)
(5)		
(6)①	②	

[解答](1)① B ② フランス (2)① 日独伊三国同盟 ② ドイツ, イタリア
 (3) 日ソ中立条約 (4) 北方の安全を確保するため。 (5) 援蔣ルートを断ち切るとともに、石油やゴムなどの資源を獲得するため。 (6)① アジア ② 大東亜共栄

[日米交渉の決裂]

[問題](1 学期期末改)

1941 年 7 月に日本がフランス領インドシナ南部を占領すると、アメリカは日本に対して石油の輸出を禁止し、イギリス、オランダ、中国がこれに同調した。この「(X)包囲陣」を打ち破るには早期開戦しかないという強硬論が高まった。文中の X に適語を入れよ。

[解答欄]

[解答]ABCD

[解説]

1941 年(昭和 16 年)7 月に日本がフランス領インドシナ南部を占領すると、アメリカは日本に対して石油の輸出を禁止し、イギリス、オランダ、中国がこれに同調した。このように日本を経済的に封鎖する「ABCD 包囲陣」(America(アメリカ), British(イギリス), China(中国), Dutch(オランダ))を打ち破るに

[日米交渉の決裂→開戦]
 1941年 フランス領インドシナ南部を占領
 ↓
 アメリカが石油の輸出を禁止
 ABCD包囲陣 A(アメリカ), B(イギリス), C(中国), D(オランダ)
 アメリカ: 中国・東南アジアからの日本軍の全面撤退を要求

は早期に開戦するしかないという強硬論が高まった。日米交渉の席でアメリカが、中国とフランス領インドシナからの全面撤兵などを要求すると、近衛内閣の次に成立した東条英機内閣と軍部は、アメリカとの戦争を最終的に決定した。

※出題頻度: 「石油の輸出を禁止△」「ABCD 包囲陣○」「アメリカ: 中国・東南アジアからの日本軍の全面撤退を要求△」

[問題](1 学期期末)

次の文章中の①～③にあてはまる適語を書け。

1941 年 7 月に日本がフランス領インドシナ南部を占領すると、アメリカは日本に対して (①) の輸出を禁止し、イギリス、(②), 中国がこれに同調した。戦争に不可欠な(①)をたたれた日本では、このように日本を経済的に封鎖する「(③)」を打ち破るには早期に開戦するしかないという強硬論が高まった。日米交渉の席でアメリカが、中国とフランス領インドシナからの全面撤兵などを要求すると、近衛内閣の次に成立した東条英機内閣と軍部は、アメリカとの戦争を最終的に決定した。

[解答欄]

①	②	③
---	---	---

[解答]① 石油 ② オランダ ③ ABCD 包囲陣

[問題](前期期末)

右の図は太平洋戦争をめぐる各国の国際関係を示している。次の各問いに答えよ。

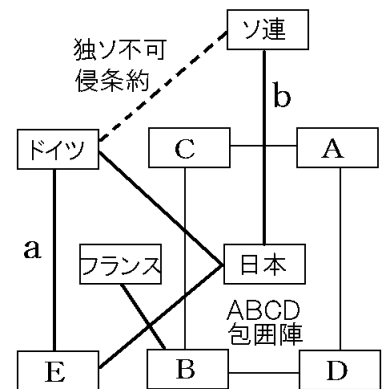
(1) 図中の ABCD 包囲陣の A, B, C, D はそれぞれ国を表している。A～D それぞれの国名を答えよ。

(2) ABCD 包囲陣は何を目的につくられたものか。「石油」「封鎖」という語句を使って簡潔に説明せよ。

(3) ①図中 a で示した日本・ドイツ・E が結んでいた同盟を何というか。②また、E の国名を答えよ。

(4) 図中の b で示した日本とソ連の間で結ばれた条約は何か。

(5) この後、日米交渉が行われたが、その席でアメリカが日本に対して要求したのはどのようなことか。「中国・東南アジア」という語句を使って説明せよ。



[解答欄]

(1)A	B	C	D
(2)			
(3)①	②	(4)	
(5)			

[解答](1) A アメリカ B イギリス C 中国 D オランダ (2) 石油の禁輸など日本を経済的に封鎖するため。 (3)① 日独伊三国同盟 ② イタリア (4) 日ソ中立条約 (5) 中国・東南アジアから日本軍が撤退すること。

[開戦]

[問題](2 学期中間改)

次の文中の①，②に適語を入れよ。

1941年12月8日，日本軍はアメリカの海軍基地があるハワイの(①)湾を奇襲攻撃するとともに，イギリス領のマレー半島に上陸し，太平洋戦争を始めた。このときの日本の内閣総理大臣は(②)であった。日本軍は，開戦後半年間は戦争を有利に進めたが，1942年のミッドウェー海戦での敗北を機に戦局は不利になっていった。



[解答欄]

①	②
---	---

[解答]① 真珠 ② 東条英機

[解説]

1941年(昭和16年)12月8日，

日本軍は，ハワイの真珠湾のアメリカ海軍基地を奇襲攻撃するとともに，イギリス領のマレー半島に上陸し，太平洋戦争を始めた。



[太平洋戦争]の始まり
1941年12月8日 <u>東条英機</u> (首相)
<u>ハワイの真珠湾</u> を奇襲攻撃 マレー半島に上陸
1942年 <u>ミッドウェー海戦</u> で敗北

このときの日本の内閣総理大臣は東条英機で，アメリカの大統領はローズベルトであった。日本と日独伊三国同盟を結んでいたドイツとイタリアも，アメリカに宣戦布告した。こうして，ヨーロッパで開始された第二次世界大戦は，日独伊などの枢軸国と米英ソ中などの連合国が戦う世界規模の戦争に発展した。日本軍は，開戦後半年間は戦争を有利に進めたが，1942年のミッドウェー海戦での敗北を機に戦局は不利になっていった。

※出題頻度：「1941年12月8日△」「ハワイの真珠湾(地図)◎」「マレー半島(地図)△」「太平洋戦争◎」「東条英機◎」「ミッドウェー海戦○」

[問題](1 学期期末)

次の各問いに答えよ。

- 1941年12月8日に始まった第二次世界大戦における，日本とアメリカなどの連合国との戦争を何というか。
- (1)の戦争を始めたときの日本の首相は誰か。
- 日本が奇襲攻撃をしかけたのはどこか。「～の・・・湾」という形で答えよ。
- 日本の戦局が悪化するきっかけとなった，日本軍がアメリカ軍に敗退した1942年の海戦を何というか。

[解答欄]

(1)	(2)	(3)	(4)
-----	-----	-----	-----

[解答](1) 太平洋戦争 (2) 東条英機 (3) ハワイの真珠湾 (4) ミッドウェー海戦

[問題](1 学期期末)

次の各問いに答えよ。

- (1) 日本はアメリカの海軍基地がある場所へ奇襲攻撃をしたが、攻撃を行った場所の名前を答えよ。
- (2) (1)の場所を地図中のア～エより 1 つ選べ。
- (3) (1)の攻撃がきっかけで始まった戦争の名前を答えよ。
- (4) (1)の攻撃は何年何月何日か。
- (5) 日本は(1)に奇襲をかけると同時に、地図の X の半島にも侵攻した。①X の半島名を答えよ。②ここを支配していた国名を答えよ。③侵攻した目的を「資源」という語句を使って簡潔に書け。
- (6) (1)の戦争が始まったときの日本の首相の名前を答えよ。
- (7) (1)の戦争が始まったときのアメリカの大統領の名前を答えよ。
- (8) ドイツとイタリアも、アメリカに宣戦布告した。こうして、ヨーロッパで開始された第二次世界大戦は、日独伊などの(①)国と米英ソ中などの(②)国が戦う世界規模の戦争に発展した。文中の①, ②に適語をそれぞれ漢字 2 字で入れよ。
- (9) 日本軍は、開戦後半年間は戦争を有利に進めたが、1942 年 6 月のある海戦での敗北をきっかけに戦局は不利になっていった。この海戦の名前を答えよ。



[解答欄]

(1)	(2)	(3)
(4)	(5)①	②
③		
(6)	(7)	(8)①
②	(9)	

[解答](1) ハワイの真珠湾 (2) ア (3) 太平洋戦争 (4) 1941 年 12 月 8 日

(5)① マレー半島 ② イギリス ③ 石油などの資源を確保するため。 (6) 東条英機

(7) ローズベルト (8)① 枢軸 ② 連合 (9) ミッドウェー海戦


【】 戦局の悪化→敗戦

[国民の動員]

[問題](1 学期期末改)

次の文章中の①, ②に適語を入れよ。

右の資料のように, 1943 年, それまで徴兵を猶予されていた文科系の大学生などが軍隊に召集される(①)が行われた。また, 労働力が不足したため, 中学生, 女学生, 未婚の女性などが勤労働員で, 軍需工場などで働いた。空襲が激しくなると, 都市の小学生は, 農村に(②)した。



[解答欄]

①	②
---	---


[解答]① 学徒出陣 ② 集団疎開(学童疎開)

[解説]

多くの成人男子が, 兵士として戦場に送られた。1943 年(昭和 18 年), それまで徴兵を猶予されていた文科系の大学生などが軍隊に召集される学徒出陣も行われた。労働力が不足したため, 中学生, 女学生, 未婚の女性などが勤労働員で, 軍需工場などで働いた。空襲が激しくなると, 都市の小学生は, 農村に集団疎開(学童疎開)した。軍需品の生産が優先され, 鍋や釜, 寺の鐘までもが, 兵器にするための金属として供出させられた。情報は政府の統制下に置かれ, 国民の戦意を高めるため日本に不利な戦況は伝えられなかった。

[国民の動員]

学徒出陣



勤労働員





空襲を避けるため
集団疎開

日本に不利な戦況は伝えられなかった。

※出題頻度: 「学徒出陣○」「勤労働員○」「空襲を避けるため○集団疎開◎」

「国民の戦意を高めるため日本に不利な戦況は伝えられず△」

[問題](後期中間)

次の写真 A, B, C は太平洋戦争のときに起こったことである。



- (1) 何について表しているのか, それぞれ漢字 4 字で答えよ。
- (2) C は何を避けるために行われたか。漢字 2 字で答えよ。

[解答欄]

(1)A	B	C	(2)
------	---	---	-----

[解答](1)A 学徒出陣 B 勤労働員 C 集団疎開 (2) 空襲

[問題](1 学期期末)

戦時下の人々の暮らしに関する次のア～エの文のうち、適切でないものを1つ選び、その記号を書け。

- ア 徴兵を猶予されていた文科系の大学生などが、軍隊に召集される学徒出陣が行われた。
- イ 労働力が不足したため、中学生、女学生や未婚の女性も勤労働員の対象になり、その多くが、兵士の食料を生産するために、農業に従事させられた。
- ウ 空襲が激しくなると、都市の小学生は農村に集団で疎開し、寺や旅館などで集団生活を送った。
- エ 軍需品の生産のため、鍋や釜、寺の鐘までもが、兵器にするための金属として供出させられた。

[解答欄]

[解答]イ

[解説]

イが誤り。勤労働員された人々は、農村ではなく、軍需工場などで働いた。

[問題](2 学期中間)

戦時中の日本の国民生活について述べた文として正しいものを、次のア～エの中から記号で1つ選べ。

- ア 国民の協力を得るため、政府は正確な戦況を伝えた。
- イ 物資が不足したため、生活必需品を優先して生産した。
- ウ 食料が不足したため、政府は米の配給量を増やした。
- エ 金属が不足したため、なべなど生活用品の金属が徴収された。

[解答欄]

[解答]エ

[解説]

情報は政府の統制下に置かれ国民には正しい戦況は知らされなかった。軍需品の生産が優先され、なべやかま、寺の鐘までもが金属として徴収された。食料をはじめとする生活必需品の生産はとどこおり、じゅうぶんな量の配給が行われなかった。

[イタリアとドイツの降伏・ヤルタ会談]

[問題](前期期末改)

次の文章中の①, ②に適語を入れよ。

ヨーロッパでは, 1943年9月にイタリアが降伏した。1945年2月に, アメリカのローズベルト, イギリスのチャーチル, (①)のスターリンによる(②)会談が行われ, ドイツの戦後処理と(①)の対日参戦などが決められた。1945年5月にドイツが降伏した。

[解答欄]

①	②
---	---

[解答]① ソ連 ② ヤルタ

[解説]

ヨーロッパでは, 1943年(昭和18年)9月にアメリカ・イギリス軍がイタリアを降伏させた。1944年8月にはフランスのパリが解放された。1945年(昭和20年)2月に, アメリカのローズベルト, イギリスのチャーチ

[イタリア・ドイツの降伏・ヤルタ会談]
1943年9月 イタリアが降伏
1945年2月 ヤルタ会談
1945年5月 ドイツが降伏

ル, ソ連のスターリンがヤルタ会談を行い, ドイツの戦後処理とソ連の対日参戦などが決められた。1945年5月, ドイツが降伏した。

ヤルタ会談



チャーチル | スターリン
ルーズベルト

※出題頻度: 「ヤルタ会談△」「アメリカ・イギリス・ソ連△」「ドイツの降伏△」「ソ連の対日参戦△」

[問題](1 学期中間)

次の各問いに答えよ。

- ヨーロッパでは, 1943年9月に(①)が降伏し, 1945年5月に(②)が降伏した。
①, ②に適する国名を答えよ。
- 1945年2月に, 連合国の3か国による会談が行われた。①3か国の国名を答えよ。②この会談を何というか,
- (2)の会談ではドイツの戦後処理とともに, 日本にかかわる重要なことが話し合われた。その内容を記述せよ。

[解答欄]

(1)①	②	(2)①
②	(3)	

[解答](1)① イタリア ② ドイツ (2)① アメリカ, イギリス, ソ連 ② ヤルタ会談
(3) ソ連の対日参戦

[空襲と沖縄戦]

[問題](1 学期期末)

次の文章中の①, ②に適語を入れよ。

1944年7月に(①)島が陥落した。これ以降, (①)島の飛行場から飛び立つアメリカ軍の大型爆撃機による本土への空襲が激しくなった。アメリカ軍は, 1945年3月10日の東京大空襲から, 火災を起こすことを目的とした焼夷弾による都市の無差別爆撃を本格的に開始した。さらに, 同年3月26日に, アメリカ軍は(②)に上陸し激しい地上戦が行われた。多くの住民が戦闘に巻き込まれたため, 県民の4人に1人(12万人)が犠牲になった。

[解答欄]

①	②
---	---

[解答]① サイパン ② 沖縄

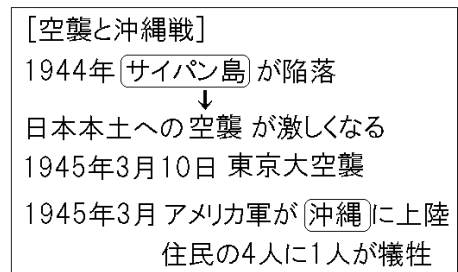
[解説]

日本軍は1943年2月にガダルカナル島で敗北してから, 後退を重ねていった。1944年にサイパン島が陥落すると, サイパン島の飛行場から飛び立つアメリカ軍の大型爆撃機B29による日本本土への空襲が激しくなった。(航続距離の長いB29はサイパン島から飛び立って日本本土を空襲して, サイパン島へ帰還することが可能であった) アメリカ軍は, 初めは軍需工場を主な攻撃目標にしていたが, 1945年(昭和20年)3月10日の東京大空襲から, 火災を起こすことを目的とした焼夷弾による都市の無差別爆撃を本格的に開始した。東京大空襲では, 8万人以上が犠牲となり, 100万人以上が焼け出された。

1945年(昭和20年)3月26日に, アメリカ軍は沖縄に上陸し激しい地上戦が行われた。多くの住民が戦闘に巻き込まれたため, 県民の4人に1人(12万人)が犠牲になった。

※出題頻度: 「サイパン島陥落○→本土への空襲△」「東京大空襲△」

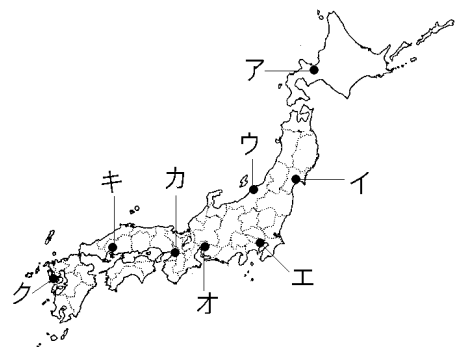
「アメリカ軍が沖縄に上陸○」「県民の4人に1人(12万人)が犠牲になった△」



[問題](前期期末)

次の各問いに答えよ。

- (1) 日本本土への空襲が激しくなったのは, ある島がアメリカ軍によって占領されたためである。その島の名前を答えよ。
- (2) 1945年3月10日に大空襲を受けた都市はどこか。①都市名を漢字2字で答えよ。②また, その都市の位置を右の地図中のア～クの中から1つ選べ。



- (3) (2)の大空襲では、大型爆撃機 B29 の大編隊が火災を起こすことを目的とした爆弾を深夜、大量に投下したことで大きな被害をもたらした。この爆弾の名前を書け。
- (4) 1945年3月26日、アメリカ軍は日本のある県に上陸し、激しい地上戦が行われた。
- ①何という県か。②また、この地上戦で県民の何人に1人が犠牲となったか。

[解答欄]

(1)	(2)①	②	(3)
(4)①	②		

[解答](1) サイパン島 (2)① 東京 ② エ (3) 焼夷弾 (4)① 沖縄県 ② 4人に1人

[原子爆弾の投下・ソ連の参戦]

[問題](前期中間改)

次の文章中の①、②に適語を入れよ。

1945年7月に、連合国はポツダム宣言を発表して日本に対して無条件降伏を求めたが、日本はこれを黙殺した。同年8月6日に右図Aの(①)に、8月9日にBの長崎に原子爆弾が投下された。その間の8月8日、(②)は中立条約を一方的に破棄して参戦し、満州、朝鮮、樺太、千島列島に侵入した。満州にいた日本の兵士たちは(②)の捕虜となり、シベリアに連行されて戦後も強制労働に従事させられ、多くの人々が犠牲になった。千島列島は、そのとき以来、(②)(現在はロシア連邦)が占拠したままになっている(北方領土問題)。



[解答欄]

①	②
---	---

[解答]① 広島 ② ソ連

[解説]

1945年7月に、連合国はポツダム宣言^{せんげん}を発表して日本に対して無条件降伏^{むじょうけんこうふく}を求めたが、日本はこれを黙殺^{もくさつ}した。アメリカは、1945年8月6日に広島^{ひろしま}に、8月9日に長崎^{ながさき}に原子爆弾^{げんしぼくだん}を投下した。

さらに、その間の8月8日、ソ連^{しゆりん}は日ソ中立条約を一方的に破棄^{はき}して参戦^{さんせん}し、満州^{まんしゅう}、朝鮮^{ちやうしん}、樺太^{からふと}、千島列島^{ちしまれつとう}に侵入した。満州にいた日本の兵士たちはソ連の捕虜^{ほりよ}となり、60万人がシベリア^{しべりあ}に連行^{れんこう}されて戦後も強制労働^{きやうせいろうどう}に従事^{じゆうじ}させられ、6万人以上の人々が犠牲^{ぎせい}になった(シベリア抑留^{しべりあよくりゆう})。

千島列島は、そのとき以来、ソ連(現在はロシア連邦)が占拠^{せんきよ}したままになっている(北方領土問題^{ほっぽうりやうど})。

[原子爆弾の投下・ソ連の参戦]

1945年7月 ポツダム宣言

1945年8月6日 広島に原爆投下

1945年8月8日 ソ連が参戦

北方領土を占拠、
シベリア抑留

1945年8月9日 長崎に原爆投下



※出題頻度：「原爆：1945年8月6日△に広島(地図)○，8月9日△に長崎(地図)○」
 「ソ連が参戦し北方領土を不法占拠△」「シベリア抑留△」

[問題](2学期中間)

次のア～エの出来事を，年代の古い順に並べよ。

- ア ソ連が参戦する。
- イ 長崎に原子爆弾が投下される。
- ウ 広島に原子爆弾が投下される。
- エ ポツダム宣言が出される。

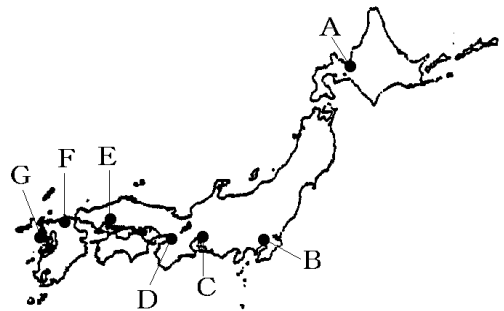
[解答欄]

[解答]エ→ウ→ア→イ

[問題](1学期中間)

次の各問いに答えよ。

- (1) 原子爆弾が投下された都市を右の地図から 2 つ選び，都市名と記号を答えよ。
- (2) 1945年8月8日，中立条約を破って参戦し，満州や朝鮮や千島列島に侵攻してきた国はどこか。
- (3) 満州にいた日本の兵士たちは(2)の捕虜となり連行・抑留された。どこに抑留されたか。
- (4) (2)によって占領され，現在もまだ返還されておらず，領土問題となっている地域の名前を答えよ。



[解答欄]

(1)	(2)	(3)	(4)
-----	-----	-----	-----

[解答](1) 広島 E, 長崎 G (2) ソ連 (3) シベリア (4) 北方領土

[日本の降伏]

[問題](1学期期末)

日本はある宣言を受け入れて降伏することを決め，1945年8月15日，昭和天皇がラジオ放送(玉音放送)で国民に知らせた。日本が受け入れたのは何という宣言か。

[解答欄]

[解答]ポツダム宣言

【解説】

日本はポツダム宣言^{せんげん}を受け入れて降伏^{こうふく}することを決め、1945年8月15日^{しょうわてんのう}、昭和天皇がラジオ放送^{ぎょくおん}(玉音放送^{ぎょくおん})で国民に知らせた。

※出題頻度：「ポツダム宣言◎」

「終戦：1945年8月15日○」「昭和天皇△の玉音放送○」

【日本の降伏】

ポツダム宣言を受け入れて降伏

1945年8月15日、昭和天皇の玉音放送

【問題】(1 学期期末)

次の各問いに答えよ。

- (1) 連合国が日本に無条件降伏を求めた宣言を何というか。
 (2) 日本が(1)を受け入れた翌日、天皇によって、ラジオ放送で日本国民に終戦が伝えられた。
 ①この年月日を答えよ。②この放送を何というか。漢字4字で答えよ。

【解答欄】

(1)	(2)①	②
-----	------	---

【解答】(1) ポツダム宣言 (2)① 1945年8月15日 ② 玉音放送

【問題】(1 学期中間改)

次の①～⑨にあてはまる適語や数字を答えよ。

1943年9月	(①)(国名)が降伏する。
1945年3月	アメリカ軍が日本の(②)県に上陸。
1945年5月	(③)(国名)が降伏する。
1945年7月	日本の降伏条件を示す(④)を発表(米・英・ソ)。
1945年8月(⑤)日	広島に原子爆弾が投下された。
1945年8月8日	(⑥)(国名)が中立条約を一方的に破棄して対日参戦。
1945年8月(⑦)日	長崎に原子爆弾が投下された。
1945年8月14日	(④)を受け入れる。
1945年8月(⑧)日	天皇がラジオ放送で国民に敗戦を伝える((⑨)放送)。

【解答欄】

①	②	③	④
⑤	⑥	⑦	⑧
⑨			

【解答】① イタリア ② 沖縄 ③ ドイツ ④ ポツダム宣言 ⑤ 6 ⑥ ソ連 ⑦ 9
 ⑧ 15 ⑨ 玉音

[問題](2 学期中間)

次のできごとを、年代の古い順に並べ替えて記号で書け。

ア サイパン島がアメリカに占領される。

イ ミッドウェー海戦が起こる。

ウ 沖縄戦が始まる。

エ ポツダム宣言を受諾する。

オ 東京大空襲が起こる。

[解答欄]

[解答]イ→ア→オ→ウ→エ

[問題](2 学期期末)

次のア～キを古い順に並べかえよ。

ア 広島に原爆投下 イ 玉音放送 ウ ドイツの降伏 エ イタリアの降伏

オ 長崎に原爆投下 カ ソ連の対日参戦 キ アメリカ軍が沖縄に上陸

[解答欄]

[解答]エ→キ→ウ→ア→カ→オ→イ

【】 総合問題

[問題](要点整理)

次の年表中の①～⑳に適語を入れよ。

年代	おもなできごと
1929年(昭4)	<p>アメリカの(①)で(②)価が暴落し、(③)恐慌が始まる。</p> <p>アメリカでは、1933年から、(④)大統領が(⑤)政策を実施し、(⑥)に職を与えるためにダム建設などの(⑦)事業を行う。</p> <p>イギリスや(⑧)は、植民地との貿易をさかんにし、外国の商品に高い(⑨)をかけてしめだす(⑩)経済を実施。</p> <p>社会主義国の(⑪)では、(⑫)(人物名)が(⑬)計画を実施していたため、(③)恐慌の影響を受けず。</p> <p>イタリアでは(⑭)党の(⑮)(人物名)が独裁政治。</p> <p>アフリカの(⑯)を侵略。</p> <p>ドイツでは(⑰)党の(⑱)(人物名)が独裁政治。</p> <p>(⑲)民族を迫害。</p> <p>このような全体主義の運動を(⑳)という。</p>

[解答欄]

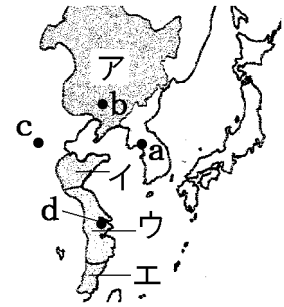
①	②	③	④
⑤	⑥	⑦	⑧
⑨	⑩	⑪	⑫
⑬	⑭	⑮	⑯
⑰	⑱	⑲	⑳

[解答]① ニューヨーク ② 株 ③ 世界 ④ ローゼンベルグ ⑤ ニューディール
 ⑥ 失業者 ⑦ 公共 ⑧ フランス ⑨ 関税 ⑩ ブロック ⑪ ソ連 ⑫ スターリン
 ⑬ 五か年 ⑭ ファシスト ⑮ ムッソリーニ ⑯ エチオピア ⑰ ナチス ⑱ ヒトラー
 ⑲ ユダヤ ⑳ ファシズム

[問題](要点整理)

次の年表中の①～⑳に適語を入れよ(または、適語を選べ)。

年代	おもなできごと
1927年(昭2)	多くの銀行が休業, 倒産する(①)恐慌がおきる。
1928年(昭3)	関東軍が満州の軍閥の(②)を爆殺。
1929年(昭4)	世界恐慌→日本も大きな打撃を受け, 1930年に(③)恐慌が起きる。
1930年(昭5)	浜口雄幸内閣が(④)海軍軍縮条約を結ぶ。
1931年(昭6)	関東軍が(⑤)湖(右図の⑥(a/b/c/d))で南満州鉄道の線路を爆破し(⑦)を占領する(⑦)事変を起こす。
1932年(昭7)	清の最後の皇帝であった(⑧)を元首として(⑨)(右図の⑩(ア/イ/ウ/エ))を建国。
1932年(昭7)	(⑪)事件:(⑨)の承認に反対した(⑫)首相が暗殺される。→(⑬)内閣の時代が終る。
1933年(昭8)	(⑭)は(⑮)調査団を派遣 →(⑭)は(⑨)を認めず日本軍の(⑯)を要求。 →日本は(⑭)を(⑰)する。
1936年(昭11)	(⑱)事件: 陸軍の青年将校が首相官邸や警視庁などを襲撃。
1937年(昭12)	(⑲)事件(場所は⑳(a/b/c/d))をきっかけにして, (㉑)戦争が起こる。 中国国民党の(㉒)と中国共産党の(㉓)は(㉔)戦線を結成して日本に対抗。 南京事件
1938年(昭13)	(㉕)内閣は(㉖)法を制定し, 産業や経済, 国民の生活のすべてを戦争に動員できる体制をつくる。
1940年(昭15)	政党を解散して, (㉗)会を結成。 情報伝達や相互監視のため, 町内会の下に(㉘)を作る。 朝鮮では, (㉙)化の名のもとに, 姓名の表し方を日本式に改めさせる(㉚)などをおしすすめる。



【解答欄】

①	②	③	④
⑤	⑥	⑦	⑧
⑨	⑩	⑪	⑫
⑬	⑭	⑮	⑯
⑰	⑱	⑲	⑳
㉑	㉒	㉓	㉔
㉕	㉖	㉗	㉘
㉙	㉚		

【解答】① 金融 ② 張作霖 ③ 昭和 ④ ロンドン ⑤ 柳条 ⑥ b ⑦ 満州 ⑧ 溥儀
 ⑨ 満州国 ⑩ ア ⑪ 五・一五 ⑫ 犬養毅 ⑬ 政党 ⑭ 国際連盟 ⑮ リットン
 ⑯ 撤兵 ⑰ 脱退 ⑱ 二・二六 ⑲ 盧溝橋 ⑳ c ㉑ 日中 ㉒ 蔣介石 ㉓ 毛沢東
 ㉔ 抗日民族統一 ㉕ 近衛文麿 ㉖ 国家総動員 ㉗ 大政翼賛 ㉘ 隣組 ㉙ 皇民
 ㉚ 創氏改名

[問題](要点整理)

次の年表中の①～⑳に適語を入れよ。

年代	おもなできごと
1939年(昭14)	<p>ドイツが、ソ連と(①)条約を結んだ上で、(②)(右の地図の(③))に侵攻。→(④)(図のア)と(⑤)(図のウ)がドイツに宣戦布告→(⑥)大戦が始まる。ドイツは(⑦)民族を迫害(ポーランドの(⑧)強制収容所など)。</p> <p>ドイツの占領地で起きた、ドイツに対する(⑨)(抵抗運動)が起きる。</p>
1940年(昭15)	<p>日本は、(⑩)ルートを断ち切るとともに、(⑪)やゴムなどの資源を獲得するためにフランス領(⑫)北部へ軍を進める。</p> <p>日本はドイツ、イタリアと(⑬)同盟を結ぶ。</p>
1941年(昭16)	<p>ソ連と(⑭)条約を結び、北方の安全を確保した上で(⑫)南部を占領。アジアの諸民族だけで栄えようとする(⑮)圏を唱える。</p> <p>アメリカは(⑯)の対日輸出を禁止。(⑰)包囲陣。</p> <p>ドイツが、不可侵条約を破って(⑱)に侵攻。</p> <p>アメリカと(⑲)が(⑳)憲章を発表。</p> <p>日本がアメリカのハワイの(㉑)湾を攻撃。(㉒)戦争が始まる。</p> <p>東南アジアの(㉓)半島にも侵攻。</p> <p>開戦時の首相は(㉔)。</p>
1942年(昭17)	<p>(㉕)海戦での敗北を機に戦局が悪化。</p>
1943年(昭18)	<p>ヨーロッパで、(㉖)が降伏。</p> <p>文化系大学生の徴兵猶予を取り消して学徒(㉗)。</p> <p>中学生、女学生、未婚の女性などが工場などで働く勤労(㉘)。</p>
1944年(昭19)	<p>(㉙)島の陥落後、アメリカ軍の日本本土への空襲が激しくなる。</p> <p>空襲から逃れるために、小学生の(㉚)が行われる。</p>
1945年(昭20)	<p>2月:(㉛)会談(アメリカ、イギリス、ソ連)</p> <p>3月:(㉜)大空襲でアメリカ軍が焼夷弾を使った無差別爆撃を行う。(㉝)県へ米軍が上陸。</p> <p>5月:ヨーロッパで、(㉞)が降伏。</p> <p>8月6日:(㉟)市に、8月9日に(㊱)市に原爆が投下される。</p> <p>その間の8月8日に(㊲)が中立条約を破って対日参戦。</p> <p>8月15日,(㊳)宣言を受諾して無条件降伏(昭和天皇の(㊴)放送)。</p>



【解答欄】

①	②	③	④
⑤	⑥	⑦	⑧
⑨	⑩	⑪	⑫
⑬	⑭	⑮	⑯
⑰	⑱	⑲	⑳
㉑	㉒	㉓	㉔
㉕	㉖	㉗	㉘
㉙	㉚	㉛	㉜
㉝	㉞	㉟	㊱
㊲	㊳	㊴	

【解答】① 独ソ不可侵 ② ポーランド ③ オ ④ イギリス ⑤ フランス
 ⑥ 第二次世界 ⑦ ユダヤ ⑧ アウシュビッツ ⑨ レジスタンス ⑩ 援蔣 ⑪ 石油
 ⑫ インドシナ ⑬ 日独伊三国 ⑭ 日ソ中立 ⑮ 大東亜共栄 ⑯ 石油 ⑰ ABCD
 ⑱ ソ連 ⑲ イギリス ⑳ 大西洋 ㉑ 真珠 ㉒ 太平洋 ㉓ マレー ㉔ 東条英機
 ㉕ ミッドウェー ㉖ イタリア ㉗ 出陣 ㉘ 動員 ㉙ サイパン ㉚ 集団疎開(学童疎開)
 ㉛ ヤルタ ㉜ 東京 ㉝ 沖縄 ㉞ ドイツ ㉟ 広島 ㊱ 長崎 ㊲ ソ連 ㊳ ポツダム
 ㊴ 玉音

【問題】(1 学期期末など)

次の各問いに答えよ。

- (1) 1929年に始まった世界的な経済の混乱は何と呼ばれるか。
- (2) (1)が起こったきっかけはアメリカの(①)(都市名)で(②)が暴落したことである。文中の①, ②に適語を入れよ。
- (3) アメリカでは, (1)に対して, ①何という大統領が, ②何という政策を実施したか。
- (4) (3)の雇用対策について「失業者」「公共事業」という語句を使って説明せよ。
- (5) (1)に対し, ①植民地をたくさん持っていたイギリスがとった政策を何というか。②この政策をとったもう1つの国の名を答えよ。
- (6) (5)の政策の内容を「植民地」「関税」の語句を使って答えよ。
- (7) (5)に対し, 植民地が少なかったために, 新たな領土の獲得を目指した国を3つあげよ。

- (8) (1)の影響を受けなかった社会主義の国はどこか。
- (9) (8)の国の当時の指導者は誰か。
- (10)(8)の国が(1)の影響を受けなかったのは、1928年から重工業中心の工業化と農業の集団化を推進してきたためである。この政策を何計画というか。
- (11)ドイツとイタリアでは軍事力を強化し、反民主主義をかかげる全体主義の政治が行われた。これを何というか。カタカナで答えよ。
- (12)イタリアでファシスト党を率いて政権をにぎった人物は誰か。
- (13)イタリアが経済の行き詰まりを打破するために侵略したアフリカの国はどこか。
- (14)ドイツでナチスを率いて政権をにぎった人物は誰か。
- (15)ナチスが迫害したのは何という民族か。

[解答欄]

(1)	(2)①	②	(3)①
②	(4)		
(5)①	②		
(6)			
(7)		(8)	(9)
(10)	(11)	(12)	(13)
(14)	(15)		

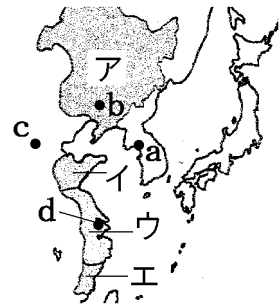
- [解答](1) 世界恐慌 (2)① ニューヨーク ② 株価 (3)① ローゼンベルグ
 ② ニューディール政策 (4) 失業者に職を与えるために公共事業を行った。
 (5)① ブロック経済 ② フランス (6) 植民地との貿易を拡大する一方、それ以外の国からの輸入に対する関税を高くする政策。(7) イタリア, ドイツ, 日本 (8) ソ連
 (9) スターリン (10) 五か年計画 (11) ファシズム (12) ムッソリーニ (13) エチオピア
 (14) ヒトラー (15) ユダヤ民族

[問題](3 学期など)

次の年表について、後の各問いに答えよ。

年代	できごと
1927 年	多くの銀行が休業，倒産する()恐慌がおきる。…A
1928 年	関東軍が満州の軍閥の張作霖を爆殺。
1929 年	世界恐慌が始まる。…B
1930 年	浜口雄幸内閣が()海軍軍縮条約を結ぶ。…C
1931 年	関東軍が(1)湖で(2)鉄道の線路を爆破し満州を占領。…D
1932 年	海軍の将校によって首相が暗殺される。…E
1933 年	()調査団の調査に基づき，国際連盟が決議を行う。…F
1936 年	陸軍の青年将校が首相官邸などを襲撃。…G

- (1) 年表中の A の()に適語を入れよ。
- (2) 生糸の最大の輸出先であるアメリカで始まった B によって，日本の経済も大きな打撃を受け，深刻な不況におそわれた。これを何恐慌というか。
- (3) 年表中の C の()内に適語を入れよ。
- (4) 年表中の D について，①1, 2 に適語を入れよ。②1 湖の位置を右図の a～d から選べ。③この事件を何というか。
- (5) D の翌年，関東軍は清朝最後の皇帝を元首とする国をつくった。
①何という国か。②その国の位置を右図のア～エから 1 つ選べ。
③清朝最後の皇帝とは誰か。
- (6) 年表中の E について，①暗殺された首相はだれか。②この事件を何というか。③この事件によって日本の()内閣の時代が終わりをつげた。()に適語を入れよ。
- (7) 年表中の F について，①()に適語を入れよ。②どのような決議か。「承認」「撤兵」という語句を使って答えよ。③ これに対して日本がとった行動を簡単に答えよ。
- (8) 年表中の G の事件を何というか。



[解答欄]

(1)	(2)	(3)	(4)①1
2	②	③	(5)①
②	③	(6)①	②
③	(7)①		
②			
③		(8)	

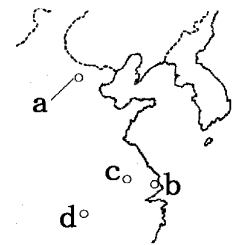
[解答](1) 金融 (2) 昭和恐慌 (3) ロンドン (4)① 柳条 2 南満州 ② b ③ 満州事変
 (5)① 満州国 ② ア ③ 溥儀 (6)① 犬養毅 ② 五・一五事件 ③ 政党 (7)① リットン
 ② 満州国を承認せず、日本軍の撤兵を求める決議。 ③ 国際連盟を脱退した。
 (8) 二・二六事件

[問題](前期期末など)

次の年表について、後の各問いに答えよ。

年代	できごと
1937年	日本と中国の全面戦争が始まる。…A
1938年	()法が制定され、国民生活のすべてが戦争目的に 動員できるようになる。…B
1940年	政党が解散され()会が結成される。…C

(1) 年表中の A について、①この戦争のきっかけになった武力衝突事件を何というか。②武力衝突が起きた場所を右の地図中の a～d から選べ。③この戦争を何というか。



(2) 年表中の A について、日本軍は、当時の中国の首都を占領した。
①その都市を右の地図中の a～d から選べ。②また、この都市で多数の中国人を殺害したできごとを何というか。

(3) A をきっかけに、それまで内戦を行っていた国民党と共産党が協力することになった。
①この協力体制を何戦線というか。②国民党の指導者は誰か。③共産党の指導者は誰か。

(4) 年表中の B の()内に適語を入れよ。

(5) (4)の法律ができたときの内閣総理大臣は誰か。

(6) 情報伝達や相互監視のため、町内会の下につくられた組織は何か。

(7) 年表中の C の()内に適語を入れよ。

(8) 日本の植民地であった朝鮮では、日本へ同化させる(①)化の名のもとに、日本式の姓名を名のる(②)を強制した。①、②に適語を入れよ。

[解答欄]

(1)①	②	③	(2)①
②	(3)①	②	③
(4)	(5)	(6)	(7)
(8)①	②		

[解答](1)① 盧溝橋事件 ② a ③ 日中戦争 (2)① c ② 南京事件

(3)① 抗日民族統一戦線 ② 蔣介石 ③ 毛沢東 (4) 国家総動員 (5) 近衛文麿 (6) 隣組

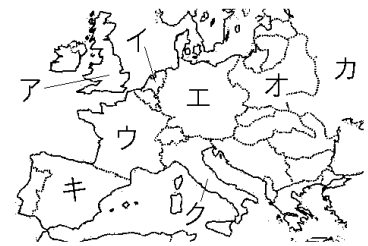
(7) 大政翼賛 (8)① 皇民 ② 創氏改名

[問題](1 学期期末など)

次の年表について、後の各問いに答えよ。

年代	できごと
1939 年	ドイツがソ連と()条約を結ぶ。…A ドイツが()へ侵攻する。…B
1940 年	フランスが降伏。イギリスへの空襲。 イタリアがドイツ側に立って参戦。…C
1941 年	ドイツが、条約を破って()に侵攻。…D アメリカとイギリスが()憲章を発表。…E

- (1) 年表中 A の()に適語を入れよ。
- (2) 年表中 B について、①()に適する国名を答えよ。
②①の国の位置を右図のア～カから選べ。
- (3) このころのドイツの指導者は誰か。
- (4) 年表中 B の侵攻に対し、(2)の国を助ける約束をしていたため、2 つの国がドイツに宣戦布告を行った。この 2 つの国の名前を答えよ。また、その国の位置を右図のア～カから選べ。
- (5) (4)によって始まった戦争を何というか。
- (6) 年表中 C の後、イタリア、ドイツ、日本が結んだ同盟の名称を答えよ。
- (7) 年表中 D について、()に適する国名を答えよ。
- (8) 年表中 E の()に適語を入れよ。
- (9) ドイツが絶滅をめざし数百万人を虐殺した民族は何か。
- (10)(9)のためにつくったポーランドにある最も有名な強制収容所の名前を答えよ。
- (11) ドイツの占領地で起きた、ドイツに対する抵抗運動をカタカナで何というか。



[解答欄]

(1)	(2)①	②	(3)
(4)	(5)		(6)
(7)	(8)	(9)	
(10)	(11)		

[解答](1) 独ソ不可侵 (2)① ポーランド ② オ (3) ヒトラー

(4) イギリス・ア, フランス・ウ (5) 第二次世界大戦 (6) 日独伊三国同盟 (7) ソ連

(8) 大西洋 (9) ユダヤ民族 (10) アウシュビッツ強制収容所 (11) レジスタンス

[問題](1 学期期末など)

次の年表について、後の各問いに答えよ。

年代	できごと
1940 年	日本がフランス領インドシナ北部へ軍を進める。…A 日本がドイツ、イタリアと同盟を結ぶ。…B
1941 年	ソ連と()条約を結び、北方の安全を確保した上でインドシナ南部を占領。…C アメリカが日本に対する()の輸出を禁止。…D 12月8日、日本がアメリカの海軍基地を奇襲攻撃。…E
1942 年	6月に起こった海戦で大敗北。…F
1943 年	イタリアが降伏 徴兵を猶予されていた文化系の大学生などが召集される。…G
1944 年	7月に()島が陥落し、本土への空襲が激しくなる。…H
1945 年	アメリカのローズベルト、イギリスのチャーチル、ソ連のスターリンが会談を行いドイツの戦後処理とソ連の対日参戦を決める。…I 3月:()大空襲でアメリカ軍が焼夷弾を使った無差別爆撃を行う。…J 3月:アメリカ軍が()に上陸。住民の4分の1が犠牲。…K 5月:()が降伏。…L 7月:連合軍が日本に対し無条件降伏を求める宣言を発表。…M 8月6日:アメリカが原子爆弾を()に投下。…N 8月8日:()が中立条約を破って参戦。…O 8月9日:アメリカが原子爆弾を()に投下。…P 8月15日:日本が無条件降伏。 昭和天皇が()放送で国民に伝える。…Q

- (1) 年表中 B の同盟を何というか。
- (2) 年表中 C の()に適語を入れよ。
- (3) 年表中 A, C のように、日本がインドシナに武力による南進を行った目的は何か。「援蔣ルート」「資源」という語句を使って説明せよ。
- (4) インドシナへの進出を正当化するために、「日本の指導のもと、欧米の植民地支配を打破しアジアの諸民族だけで繁栄しよう」として、日本が唱えた理念を漢字 6 文字で答えよ。
- (5) ①年表中 D の()に適語を入れよ。②イギリス、オランダ、中国がこれに同調した結果、何という包囲陣が出来上がったか。
- (6) 年表中 E について、①日本が奇襲攻撃を行ったのは、アメリカのどこか。「～の…湾」という形で答えよ。②これによって始まった戦争を何というか。③この戦争を始めたときの日本の首相は誰か。
- (7) (6)に奇襲をかけると同時に、イギリスが植民地にしていた東南アジアのある半島にも侵攻した。その半島名を答えよ。

- (8) 年表中 F の海戦を何というか。
- (9) ①年表中 G を何というか。②また、中学生、女学生、未婚の女性などが工場や農村で働かされたことを何というか。
- (10)年表中 H の()に適語を入れよ。
- (11)都市部の小学生たちは、空襲の危険を避けるために農村などに集団で避難したが、これを何というか。漢字 4 字で答えよ。
- (12)年表中 I の会談を何というか。
- (13)年表中 J の()に適語を入れよ。
- (14)年表中 K の()に適語を入れよ。
- (15)年表中 L の()にあてはまる国名を答えよ。
- (16)年表中 M の宣言を何というか。
- (17)年表中 N の()にあてはまる都市名を漢字 2 字で書け。
- (18)年表中 O の()にあてはまる国名を答えよ。
- (19)年表中 P の()にあてはまる都市名を漢字 2 字で書け。
- (20)年表中 Q の()に適語を入れよ。

【解答欄】

(1)	(2)		
(3)			
(4)	(5)①	②	
(6)①	②	③	(7)
(8)	(9)①	②	(10)
(11)	(12)	(13)	(14)
(15)	(16)	(17)	(18)
(19)	(20)		

【解答】(1) 日独伊三国同盟 (2) 日ソ中立 (3) 援蔣ルートを断ち切るとともに、石油やゴムなどの資源を獲得するため。(4) 大東亜共栄圏 (5)① 石油 ② ABCD 包囲陣 (6)① ハワイの真珠湾 ② 太平洋戦争 ③ 東条英機 (7) マレー半島 (8) ミッドウェー海戦 (9)① 学徒出陣 ② 勤労働員 (10) サイパン (11) 集団疎開(学童疎開) (12) ヤルタ会談 (13) 東京 (14) 沖縄 (15) ドイツ (16) ポツダム宣言 (17) 広島 (18) ソ連 (19) 長崎 (20) 玉音

【FdData 中間期末製品版のご案内】

詳細は、[\[FdData 中間期末ホームページ\]](#)に掲載 ([Shift]+左クリック→新規ウィンドウ)

◆印刷・編集

この PDF ファイルは、FdData 中間期末を PDF 形式に変換したサンプルで、印刷はできないように設定しております。製品版の FdData 中間期末は Windows パソコン用のマイクロソフト Word(Office)の文書ファイルで、印刷・編集を自由に行うことができます。

◆FdData 中間期末の特徴

中間期末試験で成績を上げる秘訣は過去問を数多く解くことです。FdData 中間期末は、実際に全国の中学校で出題された試験問題をワープロデータ(Word 文書)にした過去問集です。各教科(社会・理科・数学)約 1800~2100 ページと豊富な問題を収録しているため、出題傾向の 90%以上を網羅しております。

FdData 中間期末を購入いただいたお客様からは、「市販の問題集とは比べものにならない質の高さですね。子どもが受けた今回の期末試験では、ほとんど同じような問題が出て今までにないような成績をとることができました。」「製品の質の高さと豊富な問題量に感謝します。試験対策として、塾の生徒に FdData の膨大な問題を解かせたところ、成績が大幅に伸び過去最高の得点を取れました。」などの感想をいただいております。

◆サンプル版と製品版の違い

ホームページ上に掲載しておりますサンプルは、印刷はできませんが、製品の全内容を掲載しており、どなたでも自由に閲覧できます。問題を「目で解く」だけでもある程度の効果をあげることができます。しかし、FdData 中間期末がその本来の力を発揮するのは印刷ができる製品版においてです。印刷した問題を、鉛筆を使って一問一問解き進むことで、大きな学習効果を得ることができます。さらに、製品版は、すぐ印刷して使える「問題解答分離形式」、編集に適した「問題解答一体形式」、暗記分野で効果を発揮する「一問一答形式」(理科と社会)の 3 形式を含んでいますので、目的に応じて活用することができます。

※[FdData 中間期末の特徴\(QandA 方式\)](#) ([Shift]+左クリック→新規ウィンドウ)

◆FdData 中間期末製品版(Word 版)の価格(消費税込み)

※以下のリンクは[Shift]キーをおしながら左クリックすると、新規ウィンドウが開きます

[社会地理](#)、[社会歴史](#)、[社会公民](#)：各 7,800 円(統合版は 18,900 円) ([Shift]+左クリック)

[理科 1 年](#)、[理科 2 年](#)、[理科 3 年](#)：各 7,800 円(統合版は 18,900 円) ([Shift]+左クリック)

[数学 1 年](#)、[数学 2 年](#)、[数学 3 年](#)：各 7,800 円(統合版は 18,900 円) ([Shift]+左クリック)

※Windows パソコンにマイクロソフト Word がインストールされていることが必要です。(Mac の場合はお電話でお問い合わせください)。

◆ご注文は、メール(info2@fdtext.com)、または電話(092-811-0960)で承っております。

※[注文→インストール→編集・印刷の流れ](#)、[※注文メール記入例](#) ([Shift]+左クリック)

【Fd 教材開発】 Mail : info2@fdtext.com Tel : 092-811-0960