

【FdData 中間期末：中学社会歴史：現代】

[\[占領下の日本／民主化と日本国憲法／国際連合と冷戦の始まり／独立の回復と 55 年体制／冷戦と緊張緩和／高度経済成長／沖縄復帰・韓国・中国との国交正常化／冷戦の終結とその後の世界／石油危機後の日本／現代の文化／総合問題／FdData 中間期末製品版のご案内\]](#)

[\[FdData 中間期末ホームページ\]](#) 掲載の pdf ファイル(サンプル)一覧

※次のリンクは[Shift]キーをおしながら左クリックすると、新規ウィンドウが開きます

社会：[\[社会地理\]](#)、[\[社会歴史\]](#)、[\[社会公民\]](#) ((Shift)+左クリック)

理科：[\[理科 1 年\]](#)、[\[理科 2 年\]](#)、[\[理科 3 年\]](#) ((Shift)+左クリック)

数学：[\[数学 1 年\]](#)、[\[数学 2 年\]](#)、[\[数学 3 年\]](#) ((Shift)+左クリック)

※全内容を掲載しておりますが、印刷はできないように設定しております

【】 戦後の日本と冷戦

【】 占領下の日本

[敗戦後の日本の領土]

[問題]

次の文章中の①、②にあてはまる国名を入れよ。

敗戦後の日本は、ポツダム宣言に基づき、日清戦争以後に獲得した朝鮮や台湾などの植民地を全て失い、領土が北海道・本州・四国・九州とその周辺の島々に限られた。日本の固有の領土であっても、沖縄と奄美群島、小笠原諸島は、本土から切りはなされ、(①)軍の直接統治の下に置かれた。また、北方領土は、(②)によって不法に占拠された。

[解答欄]

①	②
---	---

[解答]① アメリカ ② ソ連

[解説]

敗戦後の日本は、ポツダム宣言に基づき、日清戦争以後に獲得した朝鮮や台湾などの植民地を全て失い、領土が北海道・本州・四国・九州とその周辺の島々に限られた。日本の固有の領土であっても、沖縄と奄美群島、小笠原諸島は、本土から切りはなされ、アメリカ軍の直接統治の下に置かれた。また、北方領土は、ソ連によって不法に占拠された。

日本は敗戦後、アジア・太平洋地域の占領地から軍隊を撤退させ、植民地や占領地にいた軍人と民間人が日本にもどってきた。しかし、復員や引きあげは順調には進まず、シベリア抑留(満州でソ連軍に捕らえられた約 60 万人が、数年間シベリアで強制労働をさせられ、多くの人々が死亡した)や、中国残留日本人孤児などの問題が発生した。

日本からは、多くの朝鮮人や中国人が帰国した。その一方で、帰国先の混乱などの理由から日本にとどまった朝鮮の人々も数多くいた。

※出題頻度：「沖縄と奄美群島，小笠原諸島はアメリカ軍の直接統治△」

「北方領土はソ連が不法に占拠△」「シベリア抑留」

(頻度記号：◎(特に出題頻度が高い)，○(出題頻度が高い)，△(ときどき出題される))

[問題](前期中間)

敗戦後の日本の領土について述べた次のア～エの文のうち、正しいものを1つ選び、記号で答えよ。

ア 日本の領土は、北海道，本州，四国，九州と小笠原諸島に限られた。

イ 朝鮮や台湾など第一次世界大戦以降に獲得した植民地をすべて失った。

ウ 沖縄と奄美群島はアメリカ軍の直接統治のもとに置かれ，北方領土はソ連によって不法に占拠された。

エ 満州国は日本の関東軍の支配から開放され，溥儀を元首として国際連合から正式に独立が認められた。

[解答欄]

--

[解答]ウ

[解説]

アは誤り。小笠原諸島はアメリカ軍の直接統治下に置かれた。

イは誤り。朝鮮や台湾を植民地にしたのは第一次世界大戦の前である。

エは明らかに誤り。

[問題](2学期中間)

次の文章中の①～④に適語を入れよ。

敗戦後の日本の領土は、北海道，本州，四国，九州とその周りの島々に限られ，(①)や奄美群島，小笠原諸島は(②)軍が直接統治することとなった。また，(③)はソ連によって不法に占拠された。満州でソ連軍に捕らえられた約 60 万人が，(④)に抑留されて強制労働をさせられ，多くの人々が死亡した。

[解答欄]

①	②	③	④
---	---	---	---

[解答]① 沖縄 ② アメリカ ③ 北方領土 ④ シベリア

[間接統治：非軍事化と民主化]

[問題](2 学期中間改)

次の文章中の①，②に適語を入れよ。

写真の左の人物は(①)で、右の人物は昭和天皇である。戦後の日本は(①)を最高司令官とする連合国軍最高司令官総司令部(略称(②))の指令に従って、非軍事化と民主化を目指す戦後改革が行われた。軍隊は解散され、極東国際軍事裁判が開かれ、太平洋戦争開戦時の首相であった東条英機などが絞首刑になった。



[解答欄]

①	②
---	---

[解答]① マッカーサー ② GHQ

[解説]

日本は、アメリカ軍を主力とする連合国軍によって占領された。そして、マッカーサーを最高司令官とする連合国軍最高司令官総司令部(GHQ)の指令に従って日本政府が政策を実施するという間接統治の方法が採られた。その下で戦後改革が進められた。

[間接統治：非軍事化と民主化]

連合国(アメリカが中心)の占領

GHQ マッカーサー

極東国際軍事裁判

昭和天皇の人間宣言

GHQの占領政策の基本方針の一つは、日本が再び連合国の

脅威にならないよう、徹底的に非軍事化することであった。軍隊を解散させ、戦争犯罪人(戦犯)と見なした軍や政府などの指導者を極東国際軍事裁判(東京裁判)にかけ、太平洋戦争開戦時の首相であった東条英機などが絞首刑になった。また、戦争中に重要な地位にあった人々を公職から追放した。昭和天皇も、GHQの意向に従い、1946(昭和 21)年に「人間宣言」を発表し、天皇が神であるという考え方を否定しました。

※出題頻度：「マッカーサー◎」「GHQ◎」「極東国際軍事裁判○」「昭和天皇の人間宣言△」

[問題](前期中間)

1945年、連合国軍による日本の占領が始まった。これについて、次の各問いに答えよ。

- (1) 占領政策を進めた連合国軍の組織をアルファベットで答えよ。
- (2) (1)の最高司令官は誰だったか。
- (3) 開戦時の首相であった東条英機など、戦争責任があるとされた軍人や政治家が軍事裁判にかけられた。この裁判を何というか。
- (4) 昭和天皇は、(1)の意向に従って、天皇が神であるという考え方を否定する宣言を発表した。何という宣言か。

[解答欄]

(1)	(2)	(3)
(4)		

[解答](1) GHQ (2) マッカーサー (3) 極東国際軍事裁判(東京裁判) (4) 人間宣言

[問題](1 学期期末)

次の各問いに答えよ。

- (1) GHQ の日本に対する戦後改革の方針は、民主化ともう 1 つは何か。
- (2) (1)のために行われたこととして適切ではないものを、次のア～エから 1 つ選べ。
 - ア 教科書の中の、軍国主義的な内容を墨でぬりつぶして使わせた。
 - イ 戦争犯罪人(戦犯)と見なした軍や政府などの指導者を、極東国際軍事裁判(東京裁判)で裁いた。
 - ウ 戦争中に重要な地位にあった人々を公職から追放した。
 - エ 軍隊を解散させて自衛隊を発足させた。

[解答欄]

(1)	(2)
-----	-----

[解答](1) 非軍事化 (2) エ

[解説]

(2) エが誤り。非軍事化のために軍隊を解散させたことは正しいが、「自衛隊を発足させた」が誤り。朝鮮戦争が始まると GHQ は警察予備隊を発足させたが、その後進の自衛隊は、独立回復後の 1954 年である。

[問題](1 学期中間)

次の各問いに答えよ。

- (1) 戦争が終わるとともに、連合軍が日本に入ってきた。どこの国が中心となった軍隊か。
- (2) GHQ の最高司令官は誰か。
- (3) GHQ の正式名称を答えよ。
- (4) GHQ の指令にしたがって日本政府が政策を実施する方法がとられたが、①この仕組みを何というか。②また、これによって進められた改革を何というか。
- (5) 連合軍は、戦争中の日本の指導的な軍人や政治家を戦争犯罪人として裁判にかけたが、①この裁判を何というか。②この裁判で絞首刑になった、太平洋戦争開戦時の首相の名前を答えよ。
- (6) 昭和天皇は、GHQ の意向に従って、天皇が神であるという考え方を否定する宣言を発表した。何という宣言か。

[解答欄]


(1)	(2)	(3)
(4)①	②	(5)①
②	(6)	

[解答](1) アメリカ (2) マッカーサー (3) 連合軍最高司令官総司令部 (4)① 間接統治
② 戦後改革 (5)① 極東国際軍事裁判(東京裁判) ② 東条英機 (6) 人間宣言

[農地改革]

[問題](前期期末)

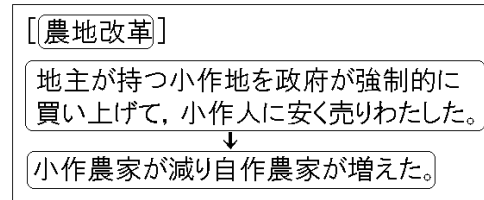
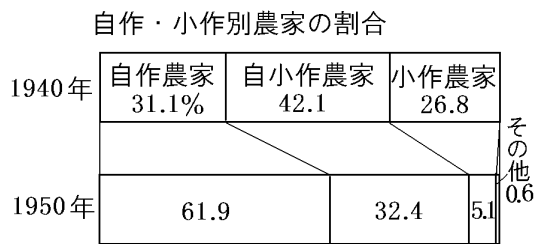
GHQ の民主化政策で、地主が持つ小作地を政府が強制的に買い上げて、小作人に安く売りわたす政策が実施され、その結果、右図のように、小作農家が減り自作農家が増えた。この政策を何というか。



[解答欄]

[解答]農地改革

[解説]



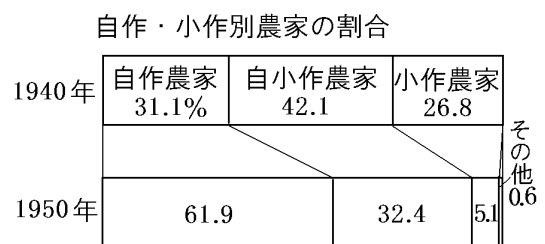
農村では、^{のうちかいかく}農地改革が行われ、地主が持つ小作地を政府が強制的に買い上げて、小作人に安く売りわたした。その結果、図のように、小作農家が減り自作農家が増えた。

※出題頻度：「農地改革◎」「地主が持つ小作地を政府が強制的に買い上げて、小作人に安く売りわたした○」「小作農家が減り自作農家が増えた○」

[問題](1学期中間)

右のグラフを参考にして、次の文中の①～③にあてはまる内容を答えよ。

1940年にくらべ、1950年には(①)のしめる割合は約2倍に、小作農家のしめる割合はおおよそ5分の1になった。これは、地主が持つ小作地を政府が強制的に買い上げ、(②)した結果、(①)が増えたためである。この改革を(③)という。



[解答欄]

①	②	③
---	---	---

[解答]① 自作農家 ② 小作人に安く売りわた ③ 農地改革

[問題](前期期末)

右のグラフは、GHQ の占領下で実施された、ある政策の実施前と実施後の農家の割合の変化を示している。次の各問いに答えよ。

- (1) この政策を何というか。
- (2) (1)はどのような政策であったか。「地主」「政府」という語句を使って簡潔に説明せよ。

自作・小作別農家の割合

1940年	自作農家 31.1%	自小作農家 42.1	小作農家 26.8	その他 0.6
1950年	61.9		32.4	5.1

- (3) 1940年と1950年における農村の変化を、簡単に説明せよ。

[解答欄]

(1)	
(2)	
(3)	

[解答](1) 農地改革 (2) 地主が持つ小作地を政府が強制的に買い上げて、小作人に安く売りわたす政策。 (3) 小作農家が減り自作農家が増えた。

[財閥解体など]

[問題]

GHQ の占領政策の基本方針の 1 つは民主化であった。経済面での民主化政策として、農地改革、労働組合法や労働基準法などの制定、三井・三菱・住友などに対する財閥(X) を実行した。また、教育面では、教育基本法を制定した。文中の X に適語を入れよ。

[解答欄]

[解答]解体

[解説]

GHQ は財閥を軍国主義政策への協力勢力として、財閥解体を命じ、これまで日本経済を支配してきた大資本家の支配をやめさせ、それぞれの会社を独立させた。

また、労働者の権利を守るため、団結権・団体交渉権・団体行動権を保障した労働組合法、最低限の労働条件を定めた労働基準法などが制定された。

教育面では、それまでの教育勅語を廃止して、六・三・三・四制を定め、小中学校を義務教育とし、男女共学などを定めた教育基本法が制定された。

※出題頻度：「財閥解体◎」「労働組合法○」「労働基準法△」「教育基本法○」

[経済の民主化]
(農地改革) (財閥解体)
(労働組合法), (労働基準法)
[教育の民主化] (教育基本法)

[問題](前期期末)

戦後の改革について、次の文章中の①～③に適語を入れよ。

経済の面では、日本経済を支配した三井・三菱などに対して(①)が行われ、労働者の団結権などを認める(②)法や労働条件の最低基準を定めた労働基準法が制定された。農村では農地改革が行われた。教育面では、それまでの教育勅語を廃止して、六・三・三・四制を定め、小中学校を義務教育とし、男女共学などを定めた(③)法が制定された。

[解答欄]

①	②	③
---	---	---

[解答]① 財閥解体 ② 労働組合 ③ 教育基本

[問題](1 学期中間)

次の各問いに答えよ。

- (1) 地主が持つ土地を政府が強制的に買い上げて、小作人に安く売りわたした政策を何というか。
- (2) それまで日本経済を支配してきた大資本家の支配をやめさせ、それぞれの会社を独立させたことを何というか。
- (3) 労働者の団結権・団体交渉権・争議権を保障した法律を何というか。
- (4) 労働条件の最低基準を定めた法律を何というか。
- (5) 教育では、忠君愛国の道徳を柱とする(①)を廃止して、(②)法が制定された。文中の①, ②に適語を入れよ。

[解答欄]

(1)	(2)	(3)	(4)
(5)①	②		

[解答](1) 農地改革 (2) 財閥解体 (3) 労働組合法 (4) 労働基準法 (5)① 教育勅語
② 教育基本

[日本国憲法の制定]

[問題]

日本国憲法は 1946 年 11 月 3 日に公布され、その半年後の 1947 年 5 月 3 日から施行された。日本国憲法の 3 つの基本原則は、国民(X), 基本的人権の尊重, 平和主義である。天皇は(X)者ではなく、「日本国の象徴であり日本国民統合の象徴」と位置付けられた。文中の X に適語を入れよ。

[解答欄]

--

[解答]主権

[解説]

日本政府はGHQの示した草案をもとに、憲法改正案をつくり、議会の審議を経て1946年11月3日に日本国憲法を公布し、その半年後の1947年5月3日から施行した。日本国憲法の3つの基本原理は、国民主権、基本的人権の尊重、平和主義である。

日本国憲法1条は「天皇は、日本国の象徴であり日本国民統合の象徴であって、この地位は、主権の存する日本国民の総意に基づく。」と、国民が主権を持つこと、天皇は象徴であることを定めている。

※出題頻度：「日本国憲法○」「国民主権◎」「基本的人権の尊重◎」「平和主義◎」

「1946年11月3日に公布△」「1947年5月3日に公布○」

[[日本国憲法の制定]

国民主権(天皇は象徴)

基本的人権の尊重

平和主義

1946年11月3日に公布

1947年5月3日から施行

[問題](後期期末)

日本政府は、GHQの草案を基に、憲法改正案を作成した。新しい憲法は1946年11月3日に公布された。これについて、次の各問いに答えよ。

- (1) この憲法の名前を答えよ。
- (2) (1)の憲法の施行は何年の何月何日からか。
- (3) (1)の憲法の3つの基本原理を答えよ。

[解答欄]

(1)	(2)
(3)	

[解答](1) 日本国憲法 (2) 1947年5月3日 (3) 国民主権、基本的人権の尊重、平和主義

[問題](1学期中間)

次の各問いに答えよ。

- (1) 日本国憲法が公布、施行された年月日をそれぞれ答えよ。
- (2) 日本国憲法の3つの基本原理を答えよ。
- (3) 日本国憲法で、天皇の地位はどのように定められたか。漢字2字で答えよ。
- (4) 日本国憲法の制定の過程として正しいものを、次のア～エから1つ選べ。
ア GHQが作成し、政府の考えはいっさい排除された。
イ 憲法改正案が国民から募集され、政府によって修正された。
ウ GHQが示した憲法改正案にもとづいて、政府が作成した。
エ 政府が作成したものを、GHQが一部修正した。

[解答欄]

(1)公布：	施行：	
(2)	(3)	(4)

[解答](1)公布：1946年11月3日 施行：1947年5月3日 (2) 国民主権，基本的人権の尊重，平和主義 (3) 象徴 (4) ウ

【】 冷戦・独立の回復

【】 国際連合と冷戦の始まり

[国際連合]

[問題]

1945 年，連合国は，二度の世界大戦の反省から，ニューヨークに本部を置く(X)をつ
くった。(X)には，世界の平和と安全を維持する機関として安全保障理事会が設けられ，アメ
リカ・イギリス・フランス・ソ連・中国が常任理事国になった。文中の X に適語を入れよ。

[解答欄]

[解答]国際連合

[解説]

1945(昭和 20)年 10 月，連合国は，二度の世界大戦の反省か
ら，ニューヨークに本部を置く国際連合(国連)をつくった。
国連には，世界の平和と安全を維持する機関として安全保障
理事会が設けられ，アメリカ・イギリス・フランス・ソ連・
中国が常任理事国(拒否権をもつ)になった。

[[国際連合]]
[ニューヨーク] に本部
[安全保障理事会]
常任理事国は
アメリカ・イギリス・フランス
ソ連・中国

※出題頻度：「国際連合◎」「アメリカのニューヨーク○」

「安全保障理事会○」「常任理事国：アメリカ・イギリス・フランス・ソ連・中国△」

[問題](前期期末)

次の文中の①～③に適語を入れよ。

連合国は，2 度の世界大戦への反省から，1945 年に(①)(都市名)に本部を置く(②)
をつくった。(②)には，世界の平和と安全を維持する機関として，アメリカ，イギリス，フ
ランス，ソ連，中国の 5 か国を拒否権を持つ常任理事国とする(③)会が設けられた。

[解答欄]

①	②	③
---	---	---

[解答]① ニューヨーク ② 国際連合 ③ 安全保障理事

[問題](3 学期)

次の各問いに答えよ。

- (1) 2 つの大きな大戦の反省に立ち，1945 年に発足した国際機関を書け。
- (2) (1)の本部は何という都市にあるか。
- (3) (1)の中心組織の 1 つで，世界の平和と安全を維持することを任務とする理事会は何か。
- (4) (3)の理事会の中で拒否権を持つ 5 つの国を何というか。
- (5) (4)の 5 つの国の名前を答えよ。

[解答欄]

(1)	(2)	(3)	(4)
(5)			

[解答](1) 国際連合 (2) ニューヨーク (3) 安全保障理事会 (4) 常任理事国
(5) アメリカ, イギリス, フランス, ソ連, 中国

[冷戦の始まり]

[問題]

第二次世界大戦後、ソ連が東ヨーロッパ諸国を支配したのに対抗して、アメリカを中心とする資本主義の西側陣営は北大西洋条約機構(NATO)を結成した。ソ連を中心とする共産主義の東側陣営はワルシャワ条約機構をつくった。両陣営の対立は、新たな世界大戦が発生しかねないほど厳しかったので何と呼ばれたか。

[解答欄]

[解答]冷たい戦争(冷戦)

[解説]

連合国間の協調は長くは続かなかつた。アメリカを中心とする資本主義の西側陣営と、ソ連を中心とする共産主義の東側陣営にわかれ、厳しく対立した。

ドイツは西半分をアメリカなどが、東半分をソ連が占領したが、戦後の米ソの対立のために、そのまま分割されて、1949年に資本主義の西ドイツと共産主義の東ドイツとして独立した。

アメリカを中心とする西側諸国は、1949年に北大西洋条約機構(NATO)という軍事同盟を結んだ。これに対し、ソ連を中心とする東側諸国は、1955年にワルシャワ条約機構を結んだ。このような東西の対立は、新たな世界大戦が発生しかねないほど厳しい対立であったが、米ソの直接の軍事衝突にまでは至らなかったので、冷たい戦争(冷戦)と呼ばれた。西ベルリンは東ドイツに囲まれた西ドイツの飛び地であったが、1961年に東ドイツが西ベルリンを取り囲むようにベルリンの壁を築いた。

※出題頻度：「冷たい戦争(冷戦)◎」「アメリカを中心とする資本主義の西側△」「北大西洋条約機構(NATO)○」「ソ連を中心とする共産主義の東側△」「ワルシャワ条約機構○」「ベルリンの壁△」

[冷たい戦争(冷戦)]

西側:アメリカが中心, 資本主義
北大西洋条約機構(NATO)

東側:ソ連が中心, 共産主義
ワルシャワ条約機構

ドイツ:西ドイツと東ドイツに分断

[問題](前期期末)

次の文章中の①～③に適語を入れよ。

二度の世界大戦の反省から、世界の平和と安全を守るため 1945 年に国際連合が設立された。しかし連合国間の協調は長くは続かなかった。アメリカを中心とする資本主義の西側諸国は、1949 年に(①)という軍事同盟を結んだ。これに対し、ソ連を中心とする共産主義の東側諸国は、1955 年に(②)を結んだ。このような東西の対立は、新たな世界大戦が発生しかねないほど厳しい対立であったが、米ソの直接の軍事衝突にまでは至らなかったため、(③)と呼ばれた。戦後、ドイツは西ドイツ(資本主義)と東ドイツ(共産主義)に分割されていたが、1961 年に東ドイツが西ドイツの飛び地である西ベルリンを取り囲むようにベルリンの壁を築いた。

[解答欄]

①	②	③
---	---	---

[解答]① 北大西洋条約機構(NATO) ② ワルシャワ条約機構 ③ 冷たい戦争(冷戦)

[問題](1 学期中間)

次の各問いに答えよ。

(1) 次の文中の①～④の()内からそれぞれ適語を選べ。

第二次世界大戦後、連合国は世界平和をめざして国際連合をつくったが、現実には、アメリカを中心とする①(資本/共産)主義の②(東側/西側)陣営と、ソ連が率いる③(資本/共産)主義の④(東側/西側)陣営にわかれて対立した。

(2) (1)の 2 つのグループの厳しい対立を何と呼んだか。

(3) (2)の影響から 1949 年にドイツで起こった出来事について、説明せよ。

(4) ドイツの(X)で東側から西側に逃亡する国民が増えたため、1961 年、東ドイツは西(X)を取り囲むように(X)の壁を築いた。X にあてはまる適語を答えよ。

(5) アメリカを中心としたグループがつくった北大西洋条約機構の略称を答えよ。

(6) ソ連が中心となって結成した軍事同盟を何というか。

[解答欄]

(1)①	②	③	④
(2)	(3)		
(4)	(5)	(6)	

[解答](1)① 資本 ② 西側 ③ 共産 ④ 東側 (2) 冷たい戦争(冷戦)

(3) ドイツという 1 つの国が東西に分断されたこと。 (4) ベルリン (5) NATO

(6) ワルシャワ条約機構

[中華人民共和国の成立]

[問題](1 学期中間)

次の文中の①，②に適語を入れよ。

中国では，日本の敗戦後，国民党と共産党との間で内戦が再発し，共産党が勝利して国民党は台湾にのがれた。共産党は，1949年に(①)を主席とする(②)を建国した。

[解答欄]

①	②
---	---

[解答]① 毛沢東 ② 中華人民共和国

[解説]

中国では，日本の敗戦後，アメリカが支援する国民党とソ連が支援する共産党との間で内戦が再発し，共産党が勝利して，1949年に毛沢東もうたくとう しゆせきを主席とする中華人民共和國ちゅうかじんみんきょうわこく(中国)が成立した。敗れた国民党の蔣介石しょうかいせきは台湾たいわんにのがれた。

[中華人民共和国の成立] 戦後，共産党と国民党の内戦 1949年 [中華人民共和国] [毛沢東] 蔣介石の国民党は台湾にのがれた

※出題頻度：「毛沢東○」「中華人民共和国○」「蔣介石△」「台湾△」

[問題](1 学期期末)

中国について，次の各問いに答えよ。

- (1) 国民党との内戦に勝利した共産党の指導者の名前を答えよ。
- (2) (1)を国家主席とする，1949年に成立した国家の正式名称を答えよ。
- (3) ①内戦に敗れた国民党は何という島に逃れたか。②また，そのときの国民党の指導者の名前を答えよ。

[解答欄]

(1)	(2)	(3)①	②
-----	-----	------	---

[解答](1) 毛沢東 (2) 中華人民共和国 (3)① 台湾 ② 蔣介石

[朝鮮半島の分断]

[問題](1 学期中間)

朝鮮は，北緯 38 度の線を境に，北をソ連に，南をアメリカに占領され，1948年に2つの国に分かれた。①北側，②南側はそれぞれ何という国になったか。正式国名で答えよ。

[解答欄]

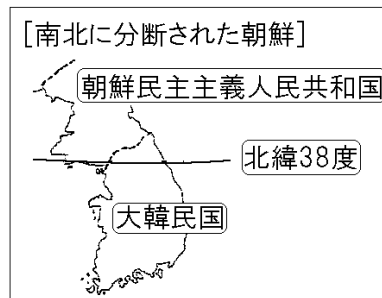
①	②
---	---

[解答]① 朝鮮民主主義人民共和国 ② 大韓民国

[解説]

朝鮮は、日本の敗北により植民地から解放されたが、北緯38度の線を境に、北をソ連に、南をアメリカに占領された。1948年、南に大韓民国(韓国)、次いで北に朝鮮民主主義人民共和国(北朝鮮)が成立した。

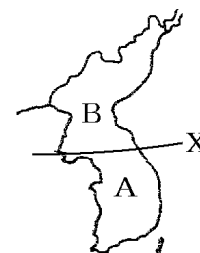
※出題頻度：「大韓民国○」「朝鮮民主主義人民共和国○」「北緯38度○」



[問題](後期期末)

次の各問いに答えよ。

- (1) 朝鮮は日本の敗戦で植民地支配から解放されたが、北と南を異なる国に占領された。右図のA、Bを占領した国をそれぞれ答えよ。
- (2) 朝鮮を南北に分断していた右図のXは北緯何度の緯線か。
- (3) 1948年にA、Bに成立した国の名前を正式名称でそれぞれ答えよ。



[解答欄]

(1)A	B	(2)
(3)A	B	

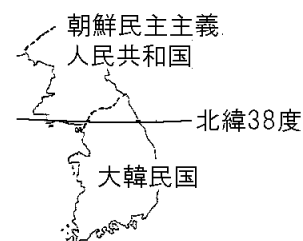
[解答](1)A アメリカ B ソ連 (2) 北緯38度 (3)A 大韓民国 B 朝鮮民主主義人民共和国

[朝鮮戦争]

[問題](1学期中間改)

次の文章中の①、②に適語を入れよ。

1950年、北朝鮮が北緯38度の境界線を越えて侵攻して(①)戦争が始まった。(①)戦争が始まると、アメリカは大量の軍需物資を日本に発注した。そのため、日本経済は不景気から回復し、復興を早めることができた。これを特需景気という。また、在日アメリカ軍が朝鮮戦争に出兵すると、GHQの指令で(②)隊がつけられた。それはしだいに強化され1954年には自衛隊になった。



[解答欄]

①	②
---	---

[解答]① 朝鮮 ② 警察予備

【解説】

1950年、北朝鮮が韓国に侵攻して朝鮮戦争が始まった。韓国軍は半島の南端まで追いつめられたが、アメリカ軍を主力とする国連軍が韓国を助けるために参戦した。国連軍が北朝鮮を追って、中国との国境に近づくと、今度は中国が北朝鮮側に立って参戦し、戦局は38度線付近で一進一退をくり返した。(ひどく号令(1950)朝鮮戦争)

【朝鮮戦争】

1950年 北朝鮮が韓国に侵攻
・特需景気→日本経済の復興
・警察予備隊(のちの自衛隊)

朝鮮戦争が起こると、アメリカは大量の軍需物資を日本に発注した。そのため、日本経済は不景気から回復し、復興を早めることができた。これを特需景気という。

また、在日アメリカ軍が朝鮮戦争に出兵すると、GHQの指令で国内の治安維持のために警察予備隊がつけられた。それはしだいに強化され1954年には自衛隊になった。

※出題頻度：「朝鮮戦争◎」「特需景気◎」「警察予備隊◎」「自衛隊◎」

【問題】(1 学期期末)

次の各問いに答えよ。

- (1) 1950年に、北朝鮮が武力統一をめざして韓国に侵攻して始まった戦争を何というか。
- (2) (1)の戦争が日本に与えた影響としてあてはまらないものをア～エの中から1つ選び、記号で答えよ。
 - ア 特需景気と呼ばれる好景気をもたらした。
 - イ 治安維持のために警察予備隊が発足し、後に自衛隊になった。
 - ウ アメリカ軍と共に国連軍として韓国を支援した。
 - エ 日本の米軍基地が使用された。

【解答欄】

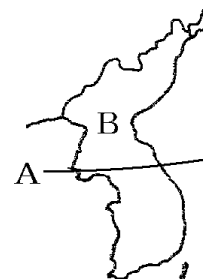
(1)	(2)
-----	-----

【解答】(1) 朝鮮戦争 (2) ウ

【問題】(1 学期中間)

右の地図を見て、次の各問いに答えよ。

- (1) 分割占領する時に使われた、地図中 A の緯線は何度の緯線か。
- (2) 地図中 B の国が武力統一をめざして南下したことをきっかけにして始まった戦争を何というか。
- (3) (2)の戦争が起こったのは何年か。
- (4) (2)の戦争が起こると、アメリカは大量の軍需物資を日本に発注し、日本経済は好景気となり、経済復興が早まった。この好景気を何というか。
- (5) (2)の戦争が起こった年に、GHQの指示で治安維持のために設けられた組織は何か。
- (6) (5)の組織は、その後強化され1954年に何という組織になったか。



[解答欄]

(1)	(2)	(3)	(4)
(5)	(6)		

[解答](1) 北緯 38 度 (2) 朝鮮戦争 (3) 1950 年 (4) 特需景気 (5) 警察予備隊
(6) 自衛隊

【】 独立の回復と 55 年体制

[独立の回復]

[問題](1 学期中間)

次の文中の①，②に適語を入れよ。

1951 年，吉田茂内閣はアメリカなど 48 か国と(①)条約を結び，この条約が発効した 1952 年に日本はようやく独立を回復した。しかし，ソ連などの東側陣営や，日本が侵略したアジアの国々の多くとの講和は実現しなかった。(①)条約と同時に，日本に対する武力攻撃を防ぎ，東アジアの平和を維持するために，アメリカと(②)条約を結んだ。(②)条約により，占領終結後も沖縄県などにアメリカ軍基地が残されることになった。

[解答欄]

①	②
---	---

[解答]① サンフランシスコ平和 ② 日米安全保障

[解説]

占領^{せんりょう}の長期化が反米感情を高めることをおそれたアメリカは，日本との講和^{こうわ}を急いだ。1951 年，吉田茂^{よしだしげる}内閣はアメリカなど 48 か国とサンフランシスコ平和条約を結び，この条約が発効^{はっこう}した 1952 年に日本はようやく独立を回復した。しかし，ソ連などの東側陣営の国は条約

[独立の回復]

1951 年 サンフランシスコ平和条約

日米安全保障条約

吉田茂が首相のとき

に反対して調印せず，戦争の最大の被害国である中国は会議に招かれなかった。日本が侵略^{しんりやく}したアジアの国の多くとの間では講和は実現しなかった。また，日本に対する武力攻撃を防ぎ東アジアの平和を維持するために，アメリカと日米安全保障条約^{にちべいあんぜんほしょうじょうやく} (安保条約)が結ばれた。この条約により，占領終結後も沖縄県などにアメリカ軍基地が残されることになった。

※出題頻度：「吉田茂○」「サンフランシスコ平和条約◎」「日米安全保障条約◎」

[問題](1 学期期末)

次の各問いに答えよ。

(1) 占領の長期化が反米感情を高めることをおそれたアメリカは，日本との講和を急いだ。1951 年，日本はアメリカなど 48 か国と講和条約を結び，この条約が発効した 1952 年により独立を回復した。この条約を何というか。



(2) 日本の全権として(1)に調印している，右の資料の人物は誰か。

(3) 次の[]の中から，この条約に調印しなかった国を 1 つ選べ。

[オーストラリア ソ連 フランス イギリス]

(4) (1)と同時に，日本に対する武力攻撃を防ぎ，東アジアの平和を維持するために，日本がアメリカと結んだ条約は何か。

[解答欄]

(1)	(2)	(3)
(4)		

[解答](1) サンフランシスコ平和条約 (2) 吉田茂 (3) ソ連 (4) 日米安全保障条約

[問題](前期中間)

次の資料について、後の各問いに答えよ。

- A 陸軍・空軍及び海軍を日本国及びその付近に配備する権利を、日本国は許与し……この軍隊は、極東における国際の平和と安全の維持に寄与し、並びに一または二以上の外部の国による……外部からの武力攻撃に対する日本国の安全に寄与するために使うことができる。
- B 日本国と各連合国との間の戦争状態は、この条約が効力を生ずる日に終了する。……連合国は、日本国とその領海に対する日本国民の完全な主権を承認する。……日本は(X)の独立を認め、台湾・千島列島・南樺太等に対する権利を放棄する。
- C 日本国民をだまして世界征服にのり出させた者の権力と勢力は永久にとりのぞかれなければならない。日本国の主権は、本州・北海道・九州・四国とわれらが決定する諸小島に限られる。

- (1) 1951年に日本が結んだ、平和条約を上記のA～Cから選べ。
- (2) (1)の平和条約を結ぶための講和会議が開かれた都市はどこか。
- (3) (1)の平和条約に調印した当時の日本の首相は誰か。
- (4) (1)の平和条約は日本と48か国との間で調印された。会議には日本以外に51か国が参加したが、調印しなかった国を1つ答えよ。
- (5) BのXにあてはまる語句を答えよ。
- (6) (1)と同時に日本がアメリカと結んだ条約の名前を答え、上記のA～Cから選べ。
- (7) (5)の条約で現在もアメリカ軍が駐留し、それをめぐる問題が起こっている都道府県はどこか。

[解答欄]

(1)	(2)	(3)	(4)
(5)	(6)	(7)	

[解答](1) B (2) サンフランシスコ (3) 吉田茂 (4) ソ連 (5) 朝鮮
(6) 日米安全保障条約, A (7) 沖縄県

[解説]

Aは日米安全保障条約, Bはサンフランシスコ平和条約, Cはポツダム宣言である。

[問題](後期中間)

次の各問いに答えよ。

- (1) サンフランシスコ平和条約が結ばれた後で、日本の立場は国際上どのように変化したか、「回復」「復帰」という語句を使って簡単に説明せよ。
- (2) 1951年にアメリカともう一つの条約が締結された。
- ① 何という条約か。
 - ② そのときの日本の内閣総理大臣を答えよ。
 - ③ その条約に関する次のア～エの文章のうち、不適切なものを1つ選び記号で答えよ。
 - ア この条約で日本にアメリカ軍が駐留することが決まった。
 - イ この条約で沖縄県以外にアメリカ軍が駐留しないことが決まった。
 - ウ この条約から10年後の1960年、日米新安全保障条約成立前には激しい闘争が日本中で繰り広げられた。
 - エ この条約締結の背景にはアジア諸国周辺の社会主義国家成立が影響している。

[解答欄]

(1)		
(2)①	②	③

[解答](1) 日本は独立を回復し、国際社会に復帰した。 (2)① 日米安全保障条約
 ② 吉田茂 ③ イ

[55年体制]

[問題](1学期期末)

次の各問いに答えよ。

- (1) 1955年以降、自由民主党を与党とし、社会党を主要野党とする体制が続いたが、この体制を何というか。
- (2) 1960年の日米安全保障条約の改定で、自由民主党の岸信介内閣は、アメリカとの関係を強化することをめざして、新しい条約を結んだ。これに対し激しい反対運動が起こったが、それを何闘争というか。

[解答欄]

(1)	(2)
-----	-----

[解答](1) 55年体制 (2) 安保闘争

[解説]

独立回復後の1955年、日本では政党に新しい動きが起こり、保守勢力が自由民主党(自民党)、革新勢力が日本社会党(社会党)を結成した。それから長く続く、自民党を与党とし、社会党を主要野党とする 55年体制が始まった。

[55年体制]
 1955年 自由民主党結成
 1960年 安保闘争

自民党と社会党の対立の頂点は、1960年の日米安全保障条約(安保条約)の改定であった。自民党の岸信介^{きしのぶすけ}内閣は、アメリカとの関係を強化することをめざして、新しい安保条約を結んだ。これに対し、^{あんぼとうそう}安保闘争という激しい反対運動が起こり、岸内閣は、条約成立後に退陣した。

※出題頻度：「自由民主党△」「55年体制△」「安保闘争△」

[問題](前期中間)

次の文章中の①～④に適語を入れよ。

独立回復後の1955年、日本では政党に新しい動きが起こり、保守勢力が(①)党、革新勢力が社会党を結成した。それから長く続く、(①)党を与党とし、社会党を主要野党とする(②)年体制が始まった。(①)党と社会党の対立の頂点は、1960年の(③)条約の改定であった。(①)党の岸信介内閣は、アメリカとの関係を強化することをめざして、新しい(③)条約を結んだ。これに対し、(④)闘争という激しい反対運動が起こり、岸内閣は、条約の発効後に退陣した。

[解答欄]

①	②	③	④
---	---	---	---

[解答]① 自由民主(自民) ② 55 ③ 日米安全保障(安保) ④ 安保

【】 冷戦と緊張緩和

[原水爆禁止運動]

[問題]

1954 年にアメリカが太平洋のビキニ環礁で行った水爆実験で、日本のまぐろ漁船の (X) が放射能をもつ死の灰をあびた。この事件がきっかけとなり、広島で第 1 回原水爆禁止世界大会が開かれた。文中の X に適語を入れよ。

[解答欄]

[解答] 第五福竜丸

[解説]

1954 年、アメリカはビキニ^{かんしょう}環礁^{すいぼく}で水爆実験を行い、現地付近の島民や日本の^{ふくりゅうまる}第五福竜丸という漁船などが被害を受けた。このころソ連も水爆の開発に成功しており、アメリカとソ連は核兵器の開発競争を行った。アメリカのビキニ環礁での水爆実験以降、核兵器開発に対する反対運動が高まり、翌 1955 年には広島で第 1 回原水爆禁止世界大会が開催された。

[原水爆禁止運動]

1954年 アメリカがビキニ環礁で水爆実験

↓
第五福竜丸が死の灰をあびる

↓
広島で第1回原水爆禁止世界大会

※出題頻度：「ビキニ環礁で水爆実験△」「第五福竜丸○」「原水爆禁止世界大会△」

[問題](1 学期期末)

次の文章中の①～④に適語を入れよ。

アメリカが太平洋の(①)環礁で行った(②)実験で、日本のまぐろ漁船の(③)が放射能をもつ死の灰をあびた。このできごとがきっかけで、その後毎年、(④)世界大会が開かれるようになった。

[解答欄]

①	②	③	④
---	---	---	---

[解答] ① ビキニ ② 水爆 ③ 第五福竜丸 ④ 原水爆禁止

[アジア・アフリカ会議]

[問題]

第二次世界大戦後、アジアとアフリカでは、植民地であった多くの国が独立した。これらの国々は、1955 年にインドネシアのバンドンで(X)会議を開き、帝国主義の植民地支配反対と平和を守ることなどを決めた。文中の X に適語を入れよ。

[解答欄]

[解答]アジア・アフリカ

[解説]

第二次世界大戦後、アジアとアフリカでは多くの国が植民地支配から独立した。これらの国々は、1955年にインドネシアのバンドンで、アジア・アフリカ会議を開き、帝国主義の植民地支配反対と平和を守ることなどを決めた。

[[アジア・アフリカ会議]

1955年

インドネシアのバンドン

※出題頻度：「アジア・アフリカ会議○」「インドネシアのバンドン△」

[問題](1 学期中間)

次の各問いに答えよ。

(1) 第二次世界大戦後に多くの国が独立した地域を次の[]から2つ選べ。

[ヨーロッパ アジア 北アメリカ アフリカ]

(2) 新しく独立した国々が1955年にインドネシアで開いた会議を何というか。

(3) (2)はインドネシアの何という都市で開かれたか。

[解答欄]

(1)	(2)	(3)
-----	-----	-----

[解答](1) アジア, アフリカ (2) アジア・アフリカ会議 (3) バンドン

[日ソ共同宣言]

[問題](1 学期中間)

1956年、日本とソ連は(X)宣言に調印して国交を回復した。同年、日本はソ連の支持も受けて国際連合に加盟し、国際社会に復帰した。文中のXに適語を入れよ。

[解答欄]

--

[解答]日ソ共同

[解説]

1951年、サンフランシスコ平和条約が結ばれ、日本は1952年に独立を回復した。同年、日本は国際連合への加盟を申請したが、安全保障理事会においてソ連が拒否権を行使したため加入ができなかった。1956年、^{ほとやまいちろう}鳩山一郎内閣によって^{にっ きょうどうせんげん}日ソ共同宣言が調印され、ソ連との国交が回復した。同年、日本はソ連の支持も受けて国際連合に加盟し、国際社会に復帰した。

[[日ソ共同宣言]

ソ連と国交回復

国際連合へ加入

※出題頻度：「日ソ共同宣言○」「ソ連と国交回復△」「国際連合へ加入○」

[問題](後期中間)

次の文中の①～③に適語を入れよ。

1956年、鳩山一郎内閣によって(①)宣言が調印され、(②)との国交が回復した。同年、日本は(②)の支持も受けて(③)に加盟し、国際社会に復帰した。

[解答欄]

①	②	③
---	---	---

[解答]① 日ソ共同 ② ソ連 ③ 国際連合(国連)

[問題](後期中間)

国際連合に日本が加盟したのは1956年である。加盟が実現した理由をこの年の出来事をふまえて説明せよ。

[解答欄]

[解答]1956年、日本とソ連は日ソ共同宣言に調印して国交を回復した。これによって、日本はソ連の支持も受けて国際連合に加盟した。

[問題](1学期期末)

次のア～エの出来事を起こった順に並び替えよ。

ア 日ソ共同宣言により日本とソ連の国交が回復する。

イ 日米安全保障条約が結ばれる。

ウ 朝鮮戦争が始まる。

エ 日本が国際連合に加盟する。

[解答欄]

[解答]ウ→イ→ア→エ

[解説]

ウ(1950年)→イ(1951年)→ア(日ソ共同宣言 1956年)→エ(国連加盟 1956年)

[キューバ危機・ベトナム戦争]

[問題]

1962年、ソ連がキューバに核ミサイル基地を建設していることから起きたキューバ危機は、核戦争の寸前で解決された。東南アジアでは、ソ連と中国が支援する勢力とアメリカが戦う(X)戦争が激化した。西ヨーロッパ諸国は、1967年にヨーロッパ共同体(EC)を設立する一方、1970年代前半に東ヨーロッパ諸国との関係を改善した。文中のXに適語を入れよ。

[解答欄]

[解答]ベトナム

[解説]

1962年、ソ連がキューバに核ミサイル基地を建設していることを察知したアメリカは、キューバの海上封鎖を行った。このキューバ危機は、米ソ間の核戦争が起こる寸前で回避された。この事件をきっかけとして、アメリカとソ連は首脳間の直通電話(ホットライン)を設置し、急速に関係を改善していき、緊張緩和が本格化した。

西ヨーロッパ諸国は、1967年にヨーロッパ共同体(EC)を設立する一方、1970年代前半に東ヨーロッパ諸国との関係を改善した。

1965年、アメリカは南ベトナムを支援して北ベトナムへの激しい爆撃と地上軍の派遣を行いベトナム戦争が激化した。世界各地で反戦運動が高まる中、アメリカは、ソ連と対立していた中国との関係を改善し、1973年にベトナムから撤退すると、緊張緩和はアジアにも広がった。

※出題頻度：「キューバ危機△」「ベトナム戦争○」「EC△」

<p>[60年代の国際関係]</p> <p>1962年 キューバ危機 → 緊張緩和</p> <p>1965年 <u>ベトナム戦争</u>にアメリカが介入</p> <p>→ 73年に撤退 → アジアの緊張緩和</p> <p>1967年 ヨーロッパ共同体(EC)設立</p>



[問題](2 学期中間)

次の各問いに答えよ。

- (1) 1962年、ソ連が右図のXの国に核ミサイル基地を建設していることを発見したアメリカが海上封鎖を行い、米ソ間の対立が核戦争の一手前まで来てその寸前で回避された。この事件を何というか。
- (2) 西ヨーロッパ諸国は、1967年にヨーロッパ共同体を設立したが、ヨーロッパ共同体の略称をアルファベット2字で答えよ。
- (3) アメリカは南ベトナムを支援し、1965年に北ベトナムへの激しい爆撃と地上軍の派遣を行った。この戦争を何というか。



[解答欄]

(1)	(2)	(3)
-----	-----	-----

[解答](1) キューバ危機 (2) EC (3) ベトナム戦争

【】 高度経済成長の時代

【】 高度経済成長

[高度経済成長]

[問題]

1950年代後半から1970年代はじめにかけて、日本経済は急成長をとげた。1961年、池田勇人内閣は所得倍増をスローガンとしてかかげた。1964年に東京オリンピックが開催されたが、これにあわせて、東海道新幹線、首都高速道路が建設され、これをきっかけにして高速道路網が整備された。1968年、日本の国民総生産(GNP)は、資本主義国の中でアメリカに次ぐ第2位になった。戦後の日本が達成したこのような経済成長を何というか。

[解答欄]

[解答]高度経済成長

[解説]

1950年代半ばまでに戦前の水準をほぼ回復した日本経済は、1955年から73年までの間、年平均で10%程度の^{こうどけいざいせいちょう}高度経済成長を続けた。安保闘争^{あんぼとうそう}後に成立した^{いけだはやと}池田勇人内閣は所得倍増をスローガンとしてかかげた。この時期には技術革新が進み、鉄鋼や造船などの重化学工業が産業の主軸になった。主なエネルギー源は石炭から石油にかわり、太平洋や瀬戸内海の沿岸を中心とする各地に製鉄所や石油化学コンビナートが建設された。1964年に東京オリンピック^{かいさい}が開催されたが、これにあわせて、^{とうかいどうしんかんせん}東海道新幹線、首都^{しゅと}高速道路^{こうそくどうろ}が建設され、これをきっかけにして高速道路網が整備された。1968年、日本の国民総生産(GNP)は、資本主義国の中でアメリカに次ぐ第2位になった。

[高度経済成長]

1955年～1973年 高度経済成長

1961年 池田勇人内閣の所得倍増

1964年 東京オリンピック、東海道新幹線

1968年 日本のGNPは世界2位になる

この時期には技術革新が進み、鉄鋼や造船などの重化学工業が産業の主軸になった。主なエネルギー源は石炭から石油にかわり、太平洋や瀬戸内海の沿岸を中心とする各地に製鉄所や石油化学コンビナートが建設された。1964年に東京オリンピック^{かいさい}が開催されたが、これにあわせて、^{とうかいどうしんかんせん}東海道新幹線、首都^{しゅと}高速道路^{こうそくどうろ}が建設され、これをきっかけにして高速道路網が整備された。1968年、日本の国民総生産(GNP)は、資本主義国の中でアメリカに次ぐ第2位になった。

※出題頻度：「高度経済成長◎」「池田勇人の所得倍増計画△」「東京オリンピック△」「東海道新幹線△」「GNPが2位△」

[問題](2学期中間)

次の各問いに答えよ。

- (1) 1950年代後半から1970年代はじめにかけて、日本経済は急成長をとげた。これを何と呼ぶか。
- (2) 池田勇人内閣が、国民を豊かにするために掲げたスローガンを何というか。
- (3) 1964年の東京オリンピックの開催に先立って開通した高速鉄道は何か。

[解答欄]

(1)	(2)	(3)
-----	-----	-----

[解答](1) 高度経済成長 (2) 所得倍増 (3) 東海道新幹線

[問題](1 学期中間)

次の文章中の①～⑥に適語を入れよ。

- ・(①)年代の後半から、日本経済は急速に成長をとげた。これを(②)という。
- ・1961年に、(③)首相が「所得倍增計画」を発表した。
- ・1964年には、(④)新幹線が開通し、東京(⑤)が開催された。これにともない高速道路網も拡充した。
- ・1968年、日本の国民総生産(GNP)は、資本主義国の中でアメリカに次ぐ第(⑥)位になった。

[解答欄]

①	②	③	④
⑤	⑥		

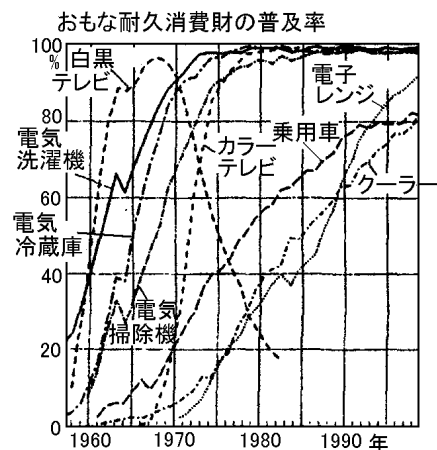
[解答]① 1950 ② 高度経済成長 ③ 池田勇人 ④ 東海道 ⑤ オリンピック ⑥ 2

[国民生活の変化]

[問題](前期中間)

次の各問いに答えなさい。

- (1) 右のグラフの中で、1950年代に普及し始め、1960年代初めに特に人気のあった「三種の神器」と呼ばれた商品を3つ答えよ。
- (2) 1960年代後半から普及し始めた、あわせて「3C」と呼ばれた商品を、右のグラフの中から3つ答えよ。



[解答欄]

(1)
(2)

[解答](1) 白黒テレビ，電気冷蔵庫，電気洗濯機 (2) カラーテレビ，乗用車，クーラー

[解説]

高度経済成長によって、国民の所得は増え、くらしが便利になった。まず、「三種の神器」と呼ばれた白黒テレビ・洗濯機・冷蔵庫が、ついで、「3C」と呼ばれたカラーテレビ・自動車・クーラーが普及した。

[国民生活の変化]

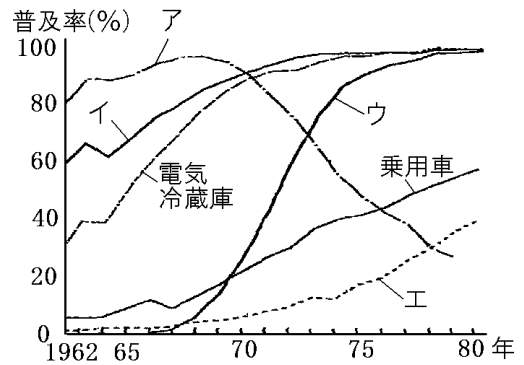
三種の神器：白黒テレビ・洗濯機・冷蔵庫
3C：カラーテレビ・自動車・クーラー

※出題頻度：「三種の神器：白黒テレビ，電気冷蔵庫，電気洗濯機△」

「3C：カラーテレビ，乗用車，クーラー△」

[問題](2 学期中間改)

右のグラフは、高度経済成長期に普及していった家庭電化製品や乗用車の普及率を表している。次の各問いに答えよ。



- (1) 図の電気冷蔵庫，ア，イは 1950～1960 年代に普及したものである。この 3 つは何と呼ばれたか。
- (2) 図の乗用車，ウ，エは 1960 年代後半から普及し始めたものである。この 3 つは何と呼ばれたか。
- (3) グラフ中のア～エで，A「白黒テレビ」，B「カラーテレビ」にあたる折れ線グラフを，それぞれ選び，記号で答えよ。

[解答欄]

(1)	(2)	(3)A	B
-----	-----	------	---

[解答](1) 三種の神器 (2) 3C (3)A ア B ウ

[解説]

1950～1960 年代に普及した電気冷蔵庫，白黒テレビ，電気洗濯機は三種の神器と呼ばれた。図のア，イは白黒テレビか電気洗濯機である。

1960 年代後半から普及し始めた乗用車，カラーテレビ，クーラーは 3C と呼ばれた。図のウ，エはカラーテレビかクーラーである。

100% 近くまで普及したアは，ウの普及率が上がるとともに下落している。このことからアは白黒テレビで，ウがカラーテレビと推定できる。したがって，アは白黒テレビ，イは電気洗濯機，ウはカラーテレビ，エはクーラーと判断できる。

[問題](前期期末)

高度経済成長の時期にみられた社会の変化について述べた次のア～エの文のうち，誤っているものを 1 つ選び，記号で答えよ。

- ア テレビや洗濯機や冷蔵庫などの電化製品が各家庭に普及し，家事負担が軽減された。
- イ 東海道新幹線や高速道路が開通し，1964 年に東京でアジア初のオリンピックが開かれた。
- ウ 都市に人口が集中するとともに，農村では過疎化という新しい問題が起きた。
- エ 地価や株価が異常に上昇し，バブル経済とよばれる好景気がつづいた。

[解答欄]

[解答]エ

[解説]

ア、イは高度経済成長の時期にみられた社会の変化である。

ウも高度経済成長にともなって生じた現象である。都市では人口が流入して過密化の問題が起き、農村では人口が減って過疎化の問題が生じた。

エのバブル経済は1980年代後半で、高度経済成長期に起こったことではない。

[問題](2 学期中間)

経済成長が生み出した人口問題を、都市と農村について、それぞれ漢字3字で答えよ。

[解答欄]

都市：	農村：
-----	-----

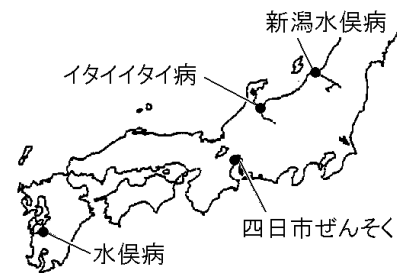
[解答]都市：過密化 農村：過疎化

[公害問題]

[問題]

次の文中の①、②に適語を入れよ。

高度経済成長は、水俣病、四日市ぜんそく、イタイイタイ病、新潟水俣病などの(①)問題をもたらした。(①)を防止し、環境汚染をくいとめるべく、1967年に(②)法が制定され、1971年には環境庁が新設された。



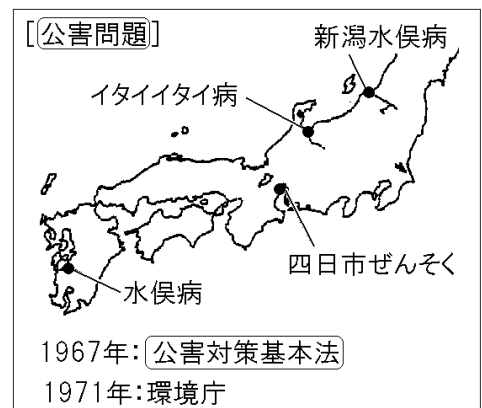
[解答欄]

①	②
---	---

[解答]① 公害 ② 公害対策基本

[解説]

高度経済成長の時代、各地で深刻な公害問題が発生した。なかでも、熊本県水俣湾の水俣病、三重県四日市の四日市ぜんそく、富山県神通川流域のイタイイタイ病、新潟県阿賀野川流域の新潟水俣病の4つは四大公害と呼ばれた。これに対して、公害追放の住民運動が各地で展開されたため、公害を防止し、環境汚染をくいとめるべく、1967年に公害対策基本法が作られ、1971年には環境庁(現在の環境省)が新設された。また、1993年に環境基本法が作られた。

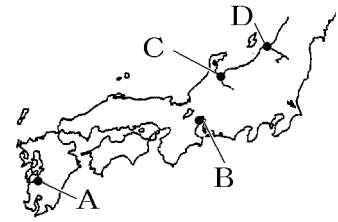


※出題頻度：「公害問題○」「水俣病、四日市ぜんそく、イタイイタイ病、新潟水俣病△」「公害対策基本法○」「環境庁△」

[問題](前期期末)

次の各問いに答えよ。

- (1) 高度経済成長期は経済の成長が優先され、空気や水を汚染する公害が発生した。右の地図の A～D で発生した四大公害病の名前をそれぞれ答えよ。
- (2) 公害問題の取り組みを強めるために、1967 年につくられた法律名を答えよ。
- (3) 公害問題に対処するため、1971 年に新設された役所は何か。



[解答欄]

(1)A	B	C
D	(2)	(3)

[解答](1)A 水俣病 B 四日市ぜんそく C イタイイタイ病 D 新潟水俣病
 (2) 公害対策基本法 (3) 環境庁

[石油危機]

[問題](前期中間)

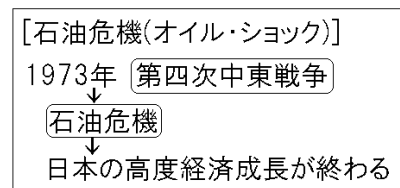
1973 年、イスラエルとアラブ諸国との第四次中東戦争が始まり、アラブ諸国は、石油の輸出制限と石油価格の大幅な引き上げを行ったため、日本では(X)危機が起きた。これをきっかけに 1960 年代から続いた高度経済成長も終わった。X に適語を入れよ。

[解答欄]

[解答]石油

[解説]

1973 年、アラブ諸国とイスラエルの間で第四次中東戦争が起きた。この戦争を機に、アラブ諸国は、石油の輸出制限と石油価格の大幅な引き上げを行った。石油をおもなエネルギー源としていた日本などの先進国は、大きな打撃を受けた。これを石油危機(オイル・ショック)という。石油の輸入に大きく依存していた日本経済は、石油の国際価格が大幅に上がったため、大きな打撃を受けた。売りおしみや買い占めによって物価が上昇し、トイレットペーパーなどの日用品の品不足が起きた。1974 年には戦後初めて経済の成長がマイナスとなり、高度経済成長は終わった。



※出題頻度：「第四次中東戦争○」「石油危機◎」

[問題](1 学期中間)

次の各問いに答えよ。

1973 年に起きた()戦争をきっかけに石油価格が急上昇し、世界経済に打撃を与え、日本の経済成長が落ち込んだ。

(1) このできごとを何というか。漢字 4 字で答えよ。

(2) 文中の()にあてはまる語句を答えよ。

[解答欄]

(1)	(2)
-----	-----

[解答](1) 石油危機 (2) 第四次中東

[問題](3 学期)

1973 年の石油危機は何が原因で起こったか。簡潔に答えよ。

[解答欄]

--

[解答]第四次中東戦争をきっかけとして石油価格が高騰したため。

【】 沖縄復帰・韓国・中国との国交正常化

[沖縄の日本復帰]

[問題](1 学期期末)

次の文の①，②に適語を入れよ。

1972 年，佐藤栄作内閣のとき，それまでアメリカの統治下におかれていた(①)が日本に返還された。アメリカ軍の基地を残したままの返還であったが，この過程で，核兵器を「持たず，つくらず，持ちこませず」という(②)が国の方針になった。

[解答欄]

①	②
---	---

[解答]① 沖縄 ② 非核三原則

[解説]

サンフランシスコ平和条約で，^{おきなわ}沖縄はアメリカの統治下に置かれていたが，^{さとうえいさく}佐藤栄作内閣はアメリカ政府と交渉を進め，1972 年 5 月に，^{ふつぎ}沖縄の日本への復帰が実現した。この過程で，核兵器を「持たず，つくらず，持ちこませず」という^{ひかくさんげんそく}非核三原則が国の方針になった。

[沖縄の日本復帰]

1972年，佐藤栄作内閣のとき

非核三原則

核兵器を「持たず，つくらず，持ちこませず」

※出題頻度：「沖縄の日本復帰○」「佐藤栄作△」「非核三原則○」「持たず，つくらず，持ちこませず○」

[問題](3 学期)

1972 年，それまでアメリカの統治下におかれていた沖縄が日本に返還されたが，その過程で，国の方針として定められた非核三原則とは何か。「核兵器を」に続けて書け。

[解答欄]

--

[解答]核兵器を持たず，つくらず，持ちこませず。

[問題](前期期末)

次の各問いに答えよ。

- (1) 1972 年に，アメリカから日本に復帰した地域はどこか。
- (2) (1)が日本に復帰したときの内閣総理大臣は誰か。
- (3) (1)の過程で，核兵器に関する原則が定められた。何という原則か。漢字 5 字で答えよ。
- (4) (3)の内容を書け。
- (5) (1)が日本に復帰した後も問題になっていることは何か。「基地」という語句を使って説明せよ。

[解答欄]

(1)	(2)	(3)
(4)		
(5)		

[解答](1) 沖縄 (2) 佐藤栄作 (3) 非核三原則 (4) 核兵器を持たず、つくらず、持ちこませず。 (5) 返還後もアメリカ軍基地が残ったこと。

[韓国・中国との国交正常化]

[問題](前期期末)

次の文章中の①、②に適語を入れよ。

1965年、日本は韓国と(①)条約を結び、韓国政府を朝鮮半島の唯一の合法的な政府として承認した。日本と中国は国交断絶の状態が続いていたが、1972年に日中共同声明に調印し、国交が正常化した。さらに、1978年に(②)条約を結び、関係が深まった。

[解答欄]

①	②
---	---

[解答]① 日韓基本 ② 日中平和友好

[解説]

東南アジア諸国との賠償問題は、1950年代末までにおおむね解決された。また、韓国とは、1965年に日韓基本条約を結び、韓国政府を朝鮮半島の唯一の政府として承認し、賠償問題も解決された。

中国とは、1972年に田中角栄内閣が日中共同声明によつ

て国交を正常化した。このとき、中国から日本へパンダが贈られた。さらに、1978年には日中平和友好条約が結ばれた。

※出題頻度：「日韓基本条約◎」「日中共同声明○」「パンダ△」「日中平和友好条約◎」

[韓国・中国との国交正常化]

1965年 日韓基本条約

1972年 日中共同声明

1978年 日中平和友好条約

[問題](1学期中間)

次の各問いに答えよ。

- (1) 1965年に日本が韓国と結んだ条約は何か。
- (2) 1972年に日本は中国との国交を正常化した。①このとき出された声明を何というか。
②また、このときに中国から上野動物園に寄贈された動物は何か。
- (3) 1978年に日本が中国と結んだ条約は何か。

[解答欄]

(1)	(2)①	②
(3)		

[解答](1) 日韓基本条約 (2)① 日中共同声明 ② パンダ (3) 日中平和友好条約

[問題](1 学期期末)

次の A～E を年代順に並べ替えよ。

- A 韓国と日韓基本条約を結んだ。
- B ソ連と日ソ共同宣言を調印した。
- C アメリカなどとサンフランシスコ平和条約を結んだ。
- D 中国と日中平和友好条約を結んだ。
- E 中国と日中共同声明によって国交を正常化。

[解答欄]

--

[解答]C→B→A→E→D

[解説]

C(1951年サンフランシスコ平和条約)→B(1956年日ソ共同宣言)→A(1965年日韓基本条約)
→E(1972年日中共同声明)→D(1978年日中平和友好条約)

【】 変化の中の日本と世界

【】 冷戦の終結とその後の世界

[冷戦の終結]

[問題](前期期末)

次の文章中の①, ②に適語を入れよ。

1980年代後半, 東ヨーロッパ諸国では民主化運動が高まり, 1989年に共産党政権が次々とたおれた。ドイツでは1989年11月に, 冷戦の象徴であった(①)の壁が取りはらわれ, 同年12月には, アメリカのブッシュ大統領とソ連のゴルバチョフ書記長がマルタ会談を行い, (②)の終結を宣言した。1990年には東西に分裂していたドイツが統一し, さらに, 1991年にソ連が解体した。

[解答欄]

①	②
---	---

[解答]① ベルリン ② 冷戦

[解説]

1980年代, ソ連は経済が停滞^{ていたい}し, 国力が低下した。1985年に成立したゴルバチョフ政権は, アメリカなどの西側諸国との関係を改善する一方で, 国内の経済と政治の立て直しをはかったが成功しなかった。

このような中, 東ヨーロッパ諸国では民主化運動が高まり,

1989年に共産党政権が次々とたおれた。

ドイツでは1989年に, 冷戦の象徴であったベルリンの壁^{かべ}が取りはらわれ, 翌1990年に東西ドイツが統一した。1989年, ソ連のゴルバチョフ書



(ベルリンの壁の崩壊)



ブッシュ (アメリカ) ゴルバチョフ (ソ連)

(マルタ会談)

記長とアメリカのブッシュ大統領(父親のほう)は, マルタ会談^{かいだん}で冷戦の終結^{しゅうけつ}を宣言^{せんげん}した。東ヨーロッパの激変の影響を受けて, 1991年, ソ連を構成していたロシアなどの各共和国が独立し, ソ連は解体^{かいたい}した。



マルタ島

※出題頻度: 「ベルリンの壁の崩壊◎」「冷戦の終結○」「マルタ会談(マルタ島)○」

「ゴルバチョフ○」「ブッシュ△」「ドイツの統一○」「ソ連の解体○」

[問題](前期期末)

次の文中の①～③に適語を入れよ。

1989年に冷戦の象徴であった(①)が取りこわされ、1990年に東西に分裂していた(②)が統一し、さらに、1991年に(③)が解体し、冷戦が終結した。

[解答欄]

①	②	③
---	---	---

[解答]① ベルリンの壁 ② ドイツ ③ ソ連

[問題](1 学期期末)

第2次世界大戦後、世界では、東西陣営の厳しい対立がおこった。しかし、1980年代後半から一気に状況は変化した。次のア～エを起こった順番に並び替えて、記号で答えよ。

ア 東西ベルリンを隔てていた建築物が取り壊された。

イ ソ連が崩壊し、ロシア共和国などができた。

ウ 東西ドイツが統一した。

エ ブッシュ大統領とゴルバチョフ書記長がマルタで会談し、冷戦が終了した。

[解答欄]

--

[解答]ア→エ→ウ→イ

[問題](3 学期)

次の各問いに答えよ。

図1



図2



- (1) 図1の写真は1989年にドイツであるものが取りはらわれたときの様子である。あるものとは何か。
- (2) 図2の写真の会談の名前を答えよ。
- (3) (2)の会談では何が宣言されたか。
- (4) 図2のAの人物の名前を答えよ。

[解答欄]

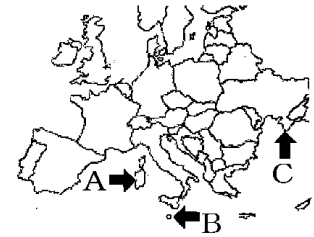
(1)	(2)	(3)	(4)
-----	-----	-----	-----

[解答](1) ベルリンの壁 (2) マルタ会談 (3) 冷戦の終結 (4) ゴルバチョフ

[問題](2 学期中間)

次の各問いに答えよ。

- (1) ドイツでは、1989年11月、冷戦のシンボルともいえる、あるものが市民によって壊された。このとき壊されたあるものとは何か。
- (2) 右の写真は、1989年12月に行われたアメリカとソ連の首脳による会談後の記者会見の様子である。それぞれの首脳の名前を答えよ。
- (3) ①(2)の会談が行われた島を何とよいか。②また、その位置を右の地図中のA～Cから選べ。
- (4) 1990年、東西に分かれていたヨーロッパのある国が統一された。何とよいう国か。
- (5) 1991年に解体したのは何とよいう国か。
- (6) (2)の会談、(4)や(5)などによって、第二次世界大戦後、長く続いていた東西の対立が終結した。何とよいう対立が終結したか。漢字2字で答えよ。



[解答欄]

(1)	(2)アメリカ：	ソ連：	
(3)①	②	(4)	(5)
(6)			

[解答](1) ベルリンの壁 (2)アメリカ：ブッシュ ソ連：ゴルバチョフ (3)① マルタ島
② B (4) ドイツ (5) ソ連 (6) 冷戦

[サミット・EU など]

[問題](1 学期期末)

次の①，②にあてはまるものを下の[]内よりそれぞれ選べ。

- ① 1975年から先進諸国の中で毎年1回開かれている首脳会議。
② 経済や政治の地域統合をはかるため1993年に発足したヨーロッパの組織。

[EC EU APEC サミット]

[解答欄]

①	②
---	---

[解答]① サミット ② EU

【解説】

冷戦後の世界では、国際協調の動きが強まった。冷戦下では東西両陣営の対立のためにじゅうぶんに機能しなかった国連は、ほぼ全世界を代表する国際機関として役割が高まった。1975年に始まった主要国首脳会議

[国際協調への動き]
主要国首脳会議(サミット)
ヨーロッパ連合(EU)
アジア太平洋経済協力会議(APEC)

(サミット)も重要な役割を果たしている。また、地域統合も進展した。1993年、ECは、域内の市場の統合を完成させたうえで、ヨーロッパ連合(EU)に発展した。EUは、冷戦の終結にともない民主化した東ヨーロッパに拡大するとともに、政治の統合も推進している。アジアでも、1989年に発足したアジア太平洋経済協力会議(APEC)など、地域協力のわく組みがゆるやかにつくられてきている。

※出題頻度：「サミット△」「EU○」

【問題】(前期期末)

次の各問いに答えよ。

- (1) 1975年に始まった主要国首脳会議を別名何というか。
- (2) 1989年に発足したアジアをはじめとする太平洋を囲む諸国が加盟し、地域協力をゆるやかな枠組みの中で進めている組織は何か。
- (3) 1993年に、ヨーロッパの国々で発足した組織を何というか。

【解答欄】

(1)	(2)	(3)
-----	-----	-----

【解答】(1) サミット (2) APEC (3) EU

【同時多発テロなど】

【問題】(1 学期期末)

次の文章中の①，②に適語を入れよ。

冷戦終結後、東西の対立にかわって、世界各地で、民族、宗教、文化のちがいや国家間の対立などが原因で地域紛争が起きている。その1つの焦点は中東である。イラクがクウェートに侵攻して、1991年には(①)戦争が起こった。2001年9月11日アメリカのニューヨークなどで大規模な(②)テロが発生し、それをきっかけに翌年、アメリカは、アフガニスタンを攻撃した。さらに、2003年にはイラク戦争が起こった。

【解答欄】

①	②
---	---

【解答】① 湾岸 ② 同時多発

【解説】

冷戦終結後、東西の対立にかわって、世界各地で地域紛争ちいきふんそうが起きている。また、テロリズムも発生している。その1つの焦点は中東である。

1990年にイラクがクウェートに侵攻しんこうした。これに対し、1991年に、国際連合が多国籍軍たこくせきぐんを派遣ほけんしてイラクを攻撃し湾岸戦争わんがんが起こった。

2001年9月11日、イスラム教過激派かげきぱにハイジャックされた民間航空機が、アメリカのニューヨークの高層ビルこうそうなどに突入して多くの死傷者を出す同時多発テロどうじたはつが起きた。

これに対し、アメリカのブッシュ大統領しゅぼうしや(息子のほう)は、テロの首謀者しゅぼうしやをかくまっているとして、アフガニスタンを攻撃し、2003年にはイラクを攻撃した(イラク戦争)。

※出題頻度：「湾岸戦争△」「アメリカのニューヨーク○」「同時多発テロ○」

「アフガニスタンを攻撃△」「イラク戦争△」

【同時多発テロなど】

1991年 湾岸戦争

2001年 同時多発テロ

(アメリカのニューヨーク など)

2002年 アメリカがアフガニスタンを攻撃

2003年 イラク戦争

【問題】(前期期末改)

次の文中の①～⑥に適語を入れよ。

- 1990年に(①)(国名)がクウェートに侵攻した。これに対し、1991年に、国際連合が多国籍軍を派遣して(②)戦争が起こった。
- 2001年にアメリカの(③)(都市名)などで大規模な(④)テロが発生した。これに対し、テロを支援する危険な国であるとして(⑤)を攻撃し、さらに、アメリカは 2003 年に(⑥)戦争を起こした。

【解答欄】

①	②	③	④
⑤		⑥	

【解答】① イラク ② 湾岸 ③ ニューヨーク ④ 同時多発 ⑤ アフガニスタン

⑥ イラク

【問題】(2 学期中間)

次のア～エの出来事を起こった順に並びかえよ。

ア アメリカがアフガニスタンを攻撃した。

イ アメリカで同時多発テロが発生する。

ウ 湾岸戦争が起きた。

エ イラク戦争が起きた。

【解答欄】

--

[解答]ウ→イ→ア→エ

[地域紛争と PKO]

[問題](1 学期期末)

国際連合は、紛争やテロが起こっている地域の平和を守るための活動をおこなっている。この活動を何というか。アルファベット 3 文字で答えよ。

[解答欄]

--

[解答]PKO

[解説]

冷戦の終結後、地域紛争が世界各地で起こるようになった。国際連合は、紛争やテロが起こっている地域の平和を守るために、PKO(国連平和維持活動)を派遣している。日本も、1992 年にカンボジアにおける PKO に参加した。

[地域紛争とPKO]

PKO(国連平和維持活動)
日本も参加(カンボジア)

※出題頻度：「PKO○」

[問題](2 学期中間)

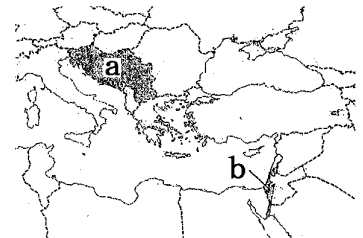
次の各問いに答えよ。

(1) 冷戦の終結後、地域紛争が世界各地で起こるようになったが、右の地図の a, b で示した紛争が起きた地域名をそれぞれ下の[]から 1 つずつ選べ。

[キプロス パレスチナ ソマリア ユーゴスラビア]

(2) 国連は、紛争やテロが起こっている(1)の地域などの平和を守るための活動をおこなっている。この活動を何というか。

(3) 1992 年、日本がはじめて(2)の活動に参加し、自衛隊を派遣した国はどこか。



[解答欄]

(1)a	b	(2)
(3)		

[解答](1)a ユーゴスラビア b パレスチナ (2) PKO(国連平和維持活動) (3) カンボジア

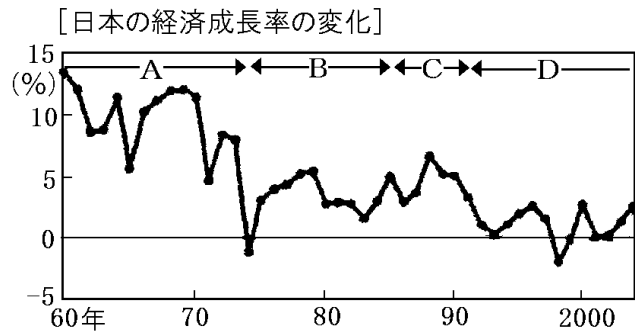
【】石油危機後の日本

[石油危機後の日本経済]

[問題](1 学期期末)

次の①～④の各文は右の資料の A～D のどの時期にあてはまるか。

- ① 企業が持つ余った資金が土地などに投資され、土地などの価格が大幅に上昇した。
- ② 高い経済成長が続き、世界有数の経済大国になった。
- ③ バブルが崩壊し、経済が停滞し、株価や物価が下がり、不況が続いた。
- ④ 高度経済成長の時期が終わり、安定成長の時代に移った。



[解答欄]

①	②	③	④
---	---	---	---

[解答]① C ② A ③ D ④ B

[解説]

Aの時期：1955年から1973年までの間、日本経済は年平均で10%程度の高度経済成長を続けた。しかし、1973年に起こった石油危機によって高度経済成長は終わった。

Bの時期：石油危機後、日本は経営の合理化や省エネルギー化を進め、いちはやく不況を乗り越え安定成長の時期を迎えた。そして、鉄鋼や造船にかわって自動車や電気機器などの輸出がのび、貿易黒字が増えた。しかし、

日本の輸出増加により、とくにアメリカとの間に貿易摩擦が生じた。

Cの時期：1980年代末、投機によって株式と土地の価格が異常に高くなるバブル経済が発生した。しかし、このバブル経済は1991年に崩壊した。

Dの時期：長期にわたる平成不況のもとで、企業の倒産が増え、失業者が増大した。1990年代末に、小泉純一郎内閣が規制緩和、国営事業の民営化を進め、景気も回復した。しかし、貧富の格差や都市と地方の格差が拡大したといわれている。2008年の世界金融危機によって、ふたたび深刻な不況が発生した。

[石油危機後の日本経済]

1973年 石油危機→高度経済成長が終わる

1970年代後半～80年代 安定成長
アメリカとの間に貿易摩擦

1980年代末 バブル経済→1991年に崩壊

1990年代 平成不況

1990年代末～小泉内閣の規制緩和など
景気回復、格差の拡大

2008年 世界金融危機

※出題頻度：「アメリカとの貿易摩擦△」「バブル経済○」「平成不況△」「世界金融危機△」

[問題](1 学期中間)

次の各問いに答えよ。

- (1) 1970～80 年代，日本の経済力が高まり，アメリカに対する工業製品の輸出が増加した。そのためアメリカとの間で問題が起こった。この問題を何というか。
- (2) 1980 年代後半，企業による株式や土地への投資の増大から，株式や土地の価格が実体以上にふくらんだ。この経済状態を何というか。
- (3) 1990 年代初めには，(1)が崩壊し，深刻な不況が続いた。これを何というか。

[解答欄]

(1)	(2)	(3)
-----	-----	-----

[解答](1) 貿易摩擦 (2) バブル経済 (3) 平成不況

[問題](2 学期中間)

次の文章中の①～⑦に適語を入れよ。

第四次中東戦争をきっかけとして起こった(①)を乗り越えた日本経済は，1970 年代末から，安定した成長を続けるようになった。そして，鉄鋼や造船にかわって自動車や電気機器などの輸出がのび，貿易黒字が増えた。しかし，日本の輸出増加により，とくに(②)(国名)との間に貿易(③)が生じた。1980 年代後半ごろからは，土地や(④)の値段が急激に上昇する，(⑤)経済となった。(⑤)経済は 1991 年に崩壊し，長期にわたる(⑥)不況のもとで，企業の倒産が増え，失業者が多くなった。景気はいったん回復したが，2008 年の(⑦)危機によって，ふたたび深刻な不況が発生した。

[解答欄]

①	②	③	④
⑤	⑥	⑦	

[解答]① 石油危機 ② アメリカ ③ 摩擦 ④ 株式(株) ⑤ バブル ⑥ 平成 ⑦ 世界金融

[55 年体制の終わり]

[問題]

次の文章中の①，②に適語を入れよ。

1993 年に(①)を首相とする非自民連立内閣が成立し，自民党を与党，社会党を野党第一党とする 55 年体制は終わった。その後，自民党はふたたび政権の座についたが，単独で内閣を組織するほどの力はなく，さまざまな政党と連立政権をつくった。2009 年には(②)党などへの政権交代が起こったが，2012 年には再び自民党が連立政権を作った。

【解答欄】

①	②
---	---

【解答】① 細川護熙 ② 民主

【解説】

1993年に^{ほそかわもりひろ}細川護熙を首相とする非自民連立内閣が成立し、自民党を与党、社会党を野党第一党とする 55年体制は終わった。その後、自民党はふたたび政権の座についたが、単独で内閣を組織するほどの力はなく、さまざまな政党と連立政権をつくった。2009年には民主党などへの政権交代が起こったが、2012年には再び自民党が連立政権を作った。

※この単元はときどき出題される。

【問題】(2学期中間)

次の各問いに答えよ。

- (1) 右の資料は 1993 年に成立した、自民党を含まない内閣である。このときの首相の名前を答えよ。
- (2) (1)によって戦後から長く続いた何と呼ばれる政治体制が終わったか。



- (3) 2009年には(①)党などへの政権(②)が起こった。①、②に適語を入れよ。

【解答欄】

(1)	(2)	(3)①	②
-----	-----	------	---

【解答】(1) 細川護熙 (2) 55年体制 (3)① 民主 ② 交代

【地球温暖化問題】

【問題】(2学期中間)

1997年、日本で国際環境会議が開かれた。中心となった議題から何会議と呼ばれているか。開かれた都市名も入れて答えよ。

【解答欄】

--

【解答】地球温暖化防止京都会議

【解説】

二酸化炭素などの温室効果ガスが原因で起こる地球温暖化という環境問題を防止するために1997年12月に、京都で会議が行われ、京都議定書が採択され、各国が削減目標を定めた。しかし、アメリカ

【地球温暖化問題】 1997年 京都議定書 2015年 パリ協定
--

の脱退や発展途上国の不参加により、不十分な点があったため、その後も交渉が続いた。2015年12月にはパリ協定が採択され、190か国以上が削減目標を定めるまでに至った。

※出題頻度：この単元はときどき出題される。

[問題](前期中間)

次の文章中の①～④に適語を入れよ。

二酸化炭素などの温室効果ガスが原因で起こる(①)という環境問題を防止するために1997年12月に、日本の(②)で会議が行われ、(③)が採択され、各国が削減目標を定めた。しかし、アメリカの脱退や発展途上国の不参加により、不十分な点があったため、その後も交渉が続いた。そして、2015年12月には(④)協定が採択され、190か国以上が削減目標を定めるまでに至った。

[解答欄]

①	②	③	④
---	---	---	---

[解答]① 地球温暖化 ② 京都 ③ 京都議定書 ④ パリ

【】現代の文化

[問題](1 学期期末)

戦後の日本では経済の成長とともに、さまざまな文化が発展した。次の文化の内容に当てはまる人物名を、下の[]から1人ずつ選べ。

- ① 漫画 ② 映画

[黒澤明 手塚治虫 司馬遼太郎 川端康成 松本清張]

[解答欄]

①	②
---	---

[解答]① 手塚治虫 ② 黒澤明

[解説]

戦後、大衆の娯楽としては、映画が人気を集め、^{くろさわあきら}黒澤明(「^{らしやうもん}羅生門」の監督)は世界的にも高い評価を受けた。1953年にテレビ放送が始まり、スポーツや芸能などの娯楽もテレビで楽しむ傾向が強まり、プロ野球の^{ながしましげお}長嶋茂雄や^{おうさだはる}王貞治、大相撲の^{たいほう}大鵬などの国民的なヒーローが生まれた。テレビが急速に普及し始めた

1950年代末には週刊誌ブームが起こり、週刊の漫画誌や女性誌などが広く読まれるようになった。漫画は、^{てづかおさむ}手塚治虫が物語性の高い作品を生み出したことで発展し、子どもだけでなく大人にも読まれるようになった。1960年代には、手塚の漫画を原作とする日本初の本格的なテレビアニメの「鉄腕アトム」が放送された。文学では、芸術性に重きを置く純文学と、娯楽性の高い大衆小説との中間的な作品が増え、^{まつもとせいちょう}松本清張の推理小説や^{しばりやうたろう}司馬遼太郎の歴史小説が人気を集めた。その一方で、ノーベル賞を受賞した^{かわばたやすなり}川端康成(「伊豆の踊子」)や^{おおえけんざぶろう}大江健三郎をはじめ、優れた純文学の作品も数多く発表された。なお、日本人で初めて、ノーベル賞を受賞したのは物理学者の^{ゆかわひでき}湯川秀樹である。



※出題頻度：この単元はときどき出題される。

[現代の文化]
 映画: 黒澤明「羅生門」
 漫画・アニメ: 手塚治虫「鉄腕アトム」
 小説: 川端康成「伊豆の踊子」、大江健三郎
 松本清張(推理小説)、司馬遼太郎(歴史小説)
 スポーツ: プロ野球の長嶋茂雄や王貞治
 大相撲の大鵬

[問題](2 学期中間)

資料 A, B, C は誰に関わるものか。次の[]の人物から1人ずつ選べ。

[手塚治虫 王貞治 川端康成 大谷翔平 黒澤明]



[解答欄]

A	B	C
---	---	---

[解答]A 黒澤明 B 王貞治 C 手塚治虫

[問題]

次の各問いに答えよ。

- (1) 「羅生門」などの作品で世界的にも高い評価を受けた映画監督の名前を答えよ。
- (2) 「鉄腕アトム」などで有名な漫画家の名前を答えよ。
- (3) 「伊豆の踊子」などで知られるノーベル賞を受賞した作家の名前を答えよ。
- (4) 日本人で初めて、ノーベル賞を受賞した物理学者の名前を答えよ。

[解答欄]

(1)	(2)	(3)	(4)
-----	-----	-----	-----

[解答](1) 黒澤明 (2) 手塚治虫 (3) 川端康成 (4) 湯川秀樹

【】 総合問題

[問題](要点整理)

次の年表中の①～②⑥に適語を入れよ(または、適語を選べ)。

年代	おもなできごと
1945年(昭20)	世界平和維持のために(①)がつくられる。本部は(②)に設置。
1945年(昭20) ～47年	ポツダム宣言を受けいれて無条件降伏。 (③)を最高司令官とする(④)(略称)のもとで戦後改革。 天皇の(⑤)宣言。 (⑥)裁判：連合国が戦争犯罪人に指定した者を裁く。 (⑦)：三井・三菱・住友などを解体。 (⑧)：地主が持つ小作地を政府が強制的に買い上げて、小作人に安く売りわたす政策→多くの(⑨)農が生まれる。 (⑩)法(団結権・団体交渉権・争議権)，労働基準法，労働関係調整法 選挙権の拡大：満(⑪)歳以上の⑫(男子／男女)に選挙権。 日本国憲法を公布。(⑬)の尊重，(⑭)主権，平和主義。 (⑮)基本法(それまでの教育勅語は廃止)
1949年(昭24)	西側陣営の(⑯)条約機構(NATO)が発足。 ヨーロッパでは(⑰)が東西に分かれて独立。 資本主義の西側陣営と共産主義の東側陣営との(⑱)戦争 東側陣営は1955年に(⑲)条約機構
1949年(昭24)	中国では，(⑳)を国家主席とする(㉑)共和国が成立。 朝鮮半島では1948年北緯(㉒)度線を境に北朝鮮と韓国に分かれる。
1950年(昭25)	北朝鮮が韓国に侵攻し，(㉓)戦争が起こる。 (㉔)隊がつくられる。→1954年に(㉕)隊となる。 日本は(㉖)景気によって経済が急速に復興。

[解答欄]

①	②	③	④
⑤	⑥	⑦	⑧
⑨	⑩	⑪	⑫
⑬	⑭	⑮	⑯
⑰	⑱	⑲	⑳
㉑	㉒	㉓	㉔
㉕	㉖		

[解答]① 国際連合 ② ニューヨーク ③ マッカーサー ④ GHQ ⑤ 人間
 ⑥ 極東国際軍事(東京) ⑦ 財閥解体 ⑧ 農地改革 ⑨ 自作 ⑩ 労働組合 ⑪ 20
 ⑫ 男女 ⑬ 基本的人権 ⑭ 国民 ⑮ 教育 ⑯ 北大西洋 ⑰ ドイツ ⑱ 冷たい
 ⑲ ワルシャワ ⑳ 毛沢東 ㉑ 中華人民 ㉒ 38 ㉓ 朝鮮 ㉔ 警察予備 ㉕ 自衛
 ㉖ 特需

[問題](要点整理)

次の年表中の①～⑳に適語を入れよ。

年代	おもなできごと
1951年(昭26)	(①)内閣のとき, (②)平和条約を締結→独立を回復。 同時に, アメリカとの間で(③)条約を結ぶ。
1954年(昭29)	アメリカがビキニ環礁で水爆実験→(④)という漁船が被爆。 →1955年に広島で第1回(⑤)世界大会が開催される。
1955年(昭30)	インドネシアの(⑥)でアジア・アフリカ会議が開催される。
1955年(昭30)	自由民主党が結成される。→(⑦)体制の始まり。
1956年(昭31)	ソ連と国交を回復し, (⑧)宣言を出す。→(⑨)への加入。
1960年(昭35)	岸内閣のとき日米安全保障条約の改定→(⑩)という反対運動。
1962年(昭37)	(⑪)危機: アメリカとソ連が核戦争の瀬戸際で危機を回避。
(1955～73年)	(⑫)成長: 年平均で10%程度の経済成長 1961年に池田勇人内閣が所得(⑬)計画をかかげた。 電化製品の普及: 三種の神器(電気冷蔵庫, 電気洗濯機, (⑭)) →3C((⑮)・自動車・クーラー) 都市: 人口流入で(⑯)化, 農村: 人口が減って(⑰)化。
1964年(昭39)	(⑱)新幹線が開通。(⑲)オリンピックが開催される。
1964年(昭39)	インドシナ半島の(⑳)戦争にアメリカが参戦。
1965年(昭40)	韓国と(㉑)条約を結ぶ。
1967年(昭42)	公害問題→(㉒)基本法が制定される。 (㉓)病(熊本県), 四日市ぜんそく(三重県), イタイイタイ病(富山県) 新潟(㉔)病(新潟県)
1968年(昭43)	GNPが自由主義圏で世界第(㉕)位になる。
1972年(昭47)	佐藤栄作首相のとき, (㉖)の日本復帰が決まる。 核兵器を「持たず, つくらず, 持ち込ませず」という(㉗)原則。
1972年(昭47)	田中角栄内閣が(㉘)声明によって中国と国交を回復。
1973年(昭48)	第四次中東戦争→(㉙)危機が起きる。(㉚)成長が終わる。
1975年(昭50)	第1回の(㉛) (主要国首脳会議)が開催される。
1978年(昭53)	中国と(㉜)条約を結ぶ。

【解答欄】

①	②	③	④
⑤	⑥	⑦	⑧
⑨	⑩	⑪	⑫
⑬	⑭	⑮	⑯
⑰	⑱	⑲	⑳
㉑	㉒	㉓	㉔
㉕	㉖	㉗	㉘
㉙	㉚		

【解答】① 吉田茂 ② サンフランシスコ ③ 日米安全保障 ④ 第五福竜丸 ⑤ 原水爆禁止
 ⑥ バンドン ⑦ 55年 ⑧ 日ソ共同 ⑨ 国際連合 ⑩ 安保闘争 ⑪ キューバ
 ⑫ 高度経済 ⑬ 倍増 ⑭ 白黒テレビ ⑮ カラーテレビ ⑯ 過密 ⑰ 過疎 ⑱ 東海道
 ⑲ 東京 ⑳ ベトナム ㉑ 日韓基本 ㉒ 公害対策 ㉓ 水俣 ㉔ 2 ㉕ 沖縄 ㉖ 非核三
 ㉗ 日中共同 ㉘ 石油 ㉙ サミット ㉚ 日中平和友好

[問題](要点整理)

次の年表中の①～⑱に適語を入れよ。

年代	できごと
1970～80年代 1980年代後半	アメリカへの輸出増加→アメリカの反発→貿易(①)。 株式と土地の価格が異常に高くなる(②)経済→(②)崩壊 →(③)不況が続く。
1989年(平1)	ドイツで(④)の壁が取りはらわれる。
1989年(平1)	(⑤)島でアメリカのブッシュ大統領と、ソ連の(⑥)書記長が会 談し、(⑦)の終結が宣言される。
1990年(平2)	東西(⑧)が統一される。
1991年(平3)	(⑨)が解体する。
1991年(平3)	イラクがクウェートに侵攻→(⑩)戦争。
1992年(平4)	日本が、(⑪)(平和維持活動)で、カンボジアへ自衛隊を派遣。
1993年(平5)	(⑫)を首相とする非自民連立内閣が成立。
1993年(平5)	ヨーロッパの経済政治の統合をはかるための(⑬)が組織される。
2001年(平13)	アメリカで(⑭)テロが発生。→アメリカがアフガニスタンを攻撃。
2003年(平15)	イラク戦争
2008年(平20)	世界金融危機が起こる。
2009年(平21)	政権交代がおこり、(⑮)党を中心とする連立政権ができる。
2011年(平23)	東北地方を津波が襲う。
現代の文化	映画：(⑯)「羅生門」 漫画・アニメ：(⑰)「鉄腕アトム」 純文学：(⑱)「伊豆の踊子」、大江健三郎 大衆小説：松本清張(推理小説)、司馬遼太郎(歴史小説) スポーツ：プロ野球：長嶋茂雄・王貞治、大相撲：大鵬

[解答欄]


①	②	③	④
⑤	⑥	⑦	⑧
⑨	⑩	⑪	⑫
⑬	⑭	⑮	⑯
⑰	⑱		

[解答]① 摩擦 ② バブル ③ 平成 ④ ベルリン ⑤ マルタ ⑥ ゴルバチョフ
⑦ 冷戦 ⑧ ドイツ ⑨ ソ連 ⑩ 湾岸 ⑪ PKO ⑫ 細川護熙 ⑬ EU ⑭ 同時多発
⑮ 民主 ⑯ 黒澤明 ⑰ 手塚治虫 ⑱ 川端康成

[問題](前期期末など)

次の各問いに答えよ。

- (1) 占領下の日本で、日本政府に指令を出して民主化政策をおしすすめた機関を何というか。
アルファベット 3 文字で答えよ。
- (2) (1)の最高司令官は誰であったか。
- (3) 昭和天皇は、(1)の意向に従って、天皇が神であるという考え方を否定する宣言を発表した。何という宣言か。
- (4) 連合国は、戦争中の日本の指導的な軍人や政治家を戦争犯罪人として裁判にかけたが、この裁判を何というか。
- (5) 1945 年に新しい選挙法が制定された。選挙権が与えられたのはどのような人たちか。「満～歳以上の・・・」という形で答えよ。
- (6) 右のグラフは、戦後実施された、ある政策の実施前と実施後の農家の割合の変化を示している。①この政策を何というか。②①はどのような政策であったか。「地主」「政府」という語句を使って簡潔に説明せよ。
- (7) 日本の産業・経済を支配していた三井・三菱などに対して行った政策を何というか。
- (8) 労働者の団結権・団体交渉権・争議権を保障した、何という法律が制定されたか。
- (9) 教育では、それまでの教育勅語を廃止して、何という法律が制定されたか。
- (10)1946 年 11 月 3 日に公布された憲法を何というか。
- (11)(10)の憲法が施行されたのは何年何月何日か。
- (12)(10)の憲法の 3 つの基本原則を書け。



[解答欄]

(1)	(2)	(3)	
(4)	(5)	(6)①	
②			
(7)	(8)	(9)	(10)
(11)	(12)		

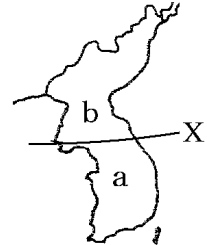
[解答](1) GHQ (2) マッカーサー (3) 人間宣言 (4) 極東国際軍事裁判(東京裁判)
 (5) 満 20 歳以上の男女 (6)① 農地改革 ② 地主が持つ小作地を政府が強制的に買い上げて、小作人に安く売りわたす政策。(7) 財閥解体 (8) 労働組合法 (9) 教育基本法
 (10) 日本国憲法 (11) 1947 年 5 月 3 日 (12) 国民主権, 基本的人権の尊重, 平和主義

[問題](2学期中間など)

次の年表について、後の各問いに答えよ。

年代	おもなできごと
1945年	世界の平和と安全を維持するために()がつくられる。…A アメリカなどの西側陣営とソ連などの東側陣営の対立。…B
1949年	西側陣営の軍事同盟が結ばれる。…C
1949年	ヨーロッパで、()が東西に分かれて独立。…D
1949年	中国では、共産党が内戦に勝利して()を建国。…E
1950年	朝鮮半島で戦争が始まる。…F
1955年	東側陣営の軍事同盟が結ばれる。…G

- (1) 年表中 A の()にあてはまる国際機関の名前を答えよ。
- (2) (1)の本部はアメリカの何という都市に置かれたか。
- (3) (1)の組織の1つで、国際紛争の解決をはかることを任務とする理事会は何か。
- (4) 年表中 B の両陣営の間の対立は何と呼ばれたか。
- (5) 年表中 C の軍事同盟の略称をアルファベットで答えよ。
- (6) 年表中 D の()に適する国名を答えよ。
- (7) (5)に対抗するために、東側陣営が結んだ年表中 G の軍事同盟の名前を答えよ。構
- (8) 年表中 E の()内に適する正式国名を答えよ。
- (9) (8)の建国を宣言したこの国の主席は誰か。
- (10)朝鮮を南北に分断していた右図の X は北緯何度の緯線か。
- (11)1948年に右図の a, b に成立した国の名前を正式名称でそれぞれ答えよ。
- (12)年表中 F の戦争を何というか。
- (13)(12)の戦争が起こると、アメリカは大量の軍需物資を日本に発注し、日本経済は好景気となり、経済復興が早まった。この好景気を何というか。
- (14)(12)の戦争が起こった年に、GHQ の指示で日本国内の治安の維持のために設けられた組織は何か。
- (15)(14)は 1954 年に何という組織になって現在に至っているか。



[解答欄]

(1)	(2)	(3)	(4)
(5)	(6)	(7)	
(8)	(9)	(10)	
(11)a	b	(12)	
(13)	(14)	(15)	

- [解答](1) 国際連合 (2) ニューヨーク (3) 安全保障理事会 (4) 冷たい戦争(冷戦)
 (5) NATO (6) ドイツ (7) ワルシャワ条約機 (8) 中華人民共和国 (9) 毛沢東
 (10) 北緯 38 度 (11)a 大韓民国 b 朝鮮民主主義人民共和国 (12) 朝鮮戦争
 (13) 特需景気 (14) 警察予備隊 (15) 自衛隊

[問題](1 学期期末など)

次の年表について、後の各問いに答えよ。

年代	おもなできごと
1950 年	朝鮮戦争が始まる。
1951 年	48 か国と()平和条約を結ぶ。…A
1954 年	アメリカがビキニ環礁で水爆実験を行う。…B
1955 年	インドネシアのバンドンで()・アフリカ会議が開かれる。…C
1955 年	保守勢力が()党を結成。…D
1956 年	ソ連と国交を回復。…E
1960 年	日米安全保障条約の改定。…F

- (1) 年表中 A の()に適語を入れよ。
 (2) (1)の平和条約に調印した当時の日本の首相は誰か。
 (3) (1)の平和条約と同時に、日本に対する武力攻撃を防ぎ、東アジアの平和を維持するために、アメリカと結んだ条約は何か。
 (4) 年表中 B の水爆実験で、日本のまぐろ漁船が放射能をもつ死の灰をあびた。この漁船の名前を答えよ。
 (5) (4)の事件がきっかけとなり、1955 年、広島で第 1 回()世界大会が開かれた。()に適語を入れよ。
 (6) 年表中 C の()内に適語を入れよ。
 (7) 年表中 D の()内に適語を入れよ。
 (8) 年表中 E について、ソ連とは、何に調印して国交を回復したか。
 (9) (8)によって、日本は、ソ連の支持も受けて()に加盟し国際社会に復帰した。()に適語を入れよ。
 (10)年表中 F のとき、激しい反対運動が起こり、岸内閣は条約発効後に退陣したが、この反対運動を何というか。

[解答欄]

(1)	(2)	(3)	
(4)	(5)	(6)	(7)
(8)	(9)	(10)	

- [解答](1) サンフランシスコ (2) 吉田茂 (3) 日米安全保障条約(安保条約)
 (4) 第五福竜丸 (5) 原水爆禁止 (6) アジア (7) 自由民主(自民) (8) 日ソ共同宣言
 (9) 国際連合(国連) (10) 安保闘争

[問題](後期中間など)

次の略年表について、後の各問いに答えよ。

年代	おもなできごと
1950年代半ば	日本経済は戦前の水準を回復。 1955年～73年、年平均で10%を超える経済成長が続いた。…A
1961年	池田勇人内閣が所得()計画をかかげた。…B
1962年	米ソ間の対立が核戦争の一步手前まで来る危機が起こる。…C
1964年	(a)新幹線が開通。(b)オリンピックが開催された。…D
1965年	日本と韓国が条約を結び、日本は韓国政府を朝鮮半島の唯一の政府として承認。…E
1967年	公害問題に対応するための法律が制定された。…F
1968年	GNPが世界第()位になった。…G
1972年	佐藤栄作首相のとき()の日本復帰が実現する。…H
1972年	中国と国交正常化。…I
1973年	()戦争をきっかけにして石油価格が大幅に上昇した。…J
1978年	中国と()条約を結ぶ。…K

- (1) 年表中 A の経済成長を何というか。
 (2) 年表中 B の()に適語を入れよ。
 (3) 1950～1960年代に普及した電気冷蔵庫、白黒テレビ、電気洗濯機は何と呼ばれたか。
 (4) (1)の時期、都市では人口が流入して(①)化の問題が起き、農村では人口が減って(②)化の問題が生じた。①, ②に適語を入れよ。
 (5) 年表中 C の危機を何というか。
 (6) 1960年代～1970年代前半にかけて、インドシナ半島のある国でアメリカ軍が介入して行われた戦争は何か。
 (7) 年表中 D の a, b に適語を入れよ。
 (8) 年表中 E の条約の名前を答えよ。
 (9) 年表中 F について、①この法律を何というか。②四大公害病は、水俣病、新潟水俣病、四日市ぜんそくと、あと1つは何か。
 (10)年表中 G の()内に適する数字を入れよ。
 (11)年表中 H の()に適する地名を入れよ。
 (12)H のとき、核兵器を「持たず、つくらず、(①)」という(②)原則が国の方針になった。①, ②に適語を入れよ。

(13)年表中 I のときに出された声明は何か。

(14)年表中 J について、①()に適語を入れよ。②これを何危機というか。

(15)年表中 K の()内に適語を入れよ。

[解答欄]

(1)	(2)	(3)	(4)①
②	(5)	(6)	(7)a
b	(8)	(9)①	
②	(10)	(11)	
(12)①	②	(13)	(14)①
②	(15)		

[解答](1) 高度経済成長 (2) 倍増 (3) 三種の神器 (4)① 過密 ② 過疎

(5) キューバ危機 (6) ベトナム戦争 (7)a 東海道 b 東京 (8) 日韓基本条約

(9)① 公害対策基本法 ② イタイイタイ病 (10) 2 (11) 沖縄 (12)① 持ちこませず

② 非核三 (13) 日中共同声明 (14)① 第四次中東 ② 石油危機 (15) 日中平和友好

[問題](2 学期中間など)

次の略年表について、後の各問いに答えよ。

年代	できごと
1975 年	第 1 回の主要国首脳会議が開催される。…A
1985 年～	日本で株価や地価が高騰する。…B
1989 年	ドイツで()の壁が取りはらわれる。…C
1989 年	(a)島で米ソの首脳が会談し、(b)の終結が宣言される。…D
1990 年	東西()が統一される。…E
1991 年	()が解体する。…F
1991 年	イラクがクウェートに侵攻→()戦争…G
1992 年	日本が初めて国連平和維持活動に参加しカンボジアへ自衛隊を派遣。…H
1993 年	()を首相とする非自民連立内閣が成立。…I
1993 年	ヨーロッパの経済政治の統合をはかるための()が組織される。…J
2001 年	アメリカのニューヨークなどで()テロが起こる。…K
2003 年	イラク戦争
2008 年	世界金融危機が起こる。
2009 年	政権交代が起こり、()党を中心とする連立政権ができる。…L
2011 年	東北地方を津波が襲う。

- (1) 年表中の A の「主要国首脳会議」をカタカナで何というか。
- (2) 1970～80 年代の日本の輸出増加によってアメリカなどとの間に生じた問題を何というか。漢字 4 字で答えよ。
- (3) 年表中の B の経済状態を何というか。
- (4) 1990 年代初めには、(3)が崩壊し不況が続いた。この不況を何というか。
- (5) 年表中の C の()内に適語を入れよ。
- (6) 年表中の D について、①a, b の()にそれぞれ適語を入れよ。②この会談を行ったアメリカ大統領はブッシュであったが、ソ連の書記長は誰だったか。
- (7) 年表中の E の()内に適する国名を入れよ。
- (8) 年表中の F の()内に適する国名を入れよ。
- (9) 年表中の G の()内に適語を入れよ。
- (10)年表中の H の「国連平和維持活動」の略称をアルファベット 3 文字で書け。
- (11)年表中の I の()内に適する人物名を答えよ。
- (12)年表中の J の()内に適語をアルファベット 2 文字で入れよ。
- (13)年表中の K について、①()内に適語を入れよ。②テロの首謀者をかくまっているとしてアメリカが同年に攻撃したのは何という国か。
- (14)年表中の L の()内に適語を入れよ。
- (15)次の①～③にあてはまる人物名を下の[]から選べ。
- ① 「鉄腕アトム」などで有名な漫画家
- ② 「羅生門」などの作品で世界的にも高い評価を受けた映画監督
- ③ 「伊豆の踊子」などで知られるノーベル賞を受賞した作家
- [湯川秀樹 大江健三郎 川端康成 黒澤明 司馬遼太郎 手塚治虫]

【解答欄】

(1)	(2)	(3)	(4)
(5)	(6)①a	b	②
(7)	(8)	(9)	(10)
(11)	(12)	(13)①	②
(14)	(15)①	②	③

- 【解答】(1) サミット (2) 貿易摩擦 (3) バブル経済 (4) 平成不況 (5) ベルリン
 (6)①a マルタ b 冷戦 ② ゴルバチョフ (7) ドイツ (8) ソ連 (9) 湾岸 (10) PKO
 (11) 細川護熙 (12) EU (13)① 同時多発 ② アフガニスタン (14) 民主
 (15)① 手塚治虫 ② 黒澤明 ③ 川端康成

【FdData 中間期末製品版のご案内】

詳細は、[\[FdData 中間期末ホームページ\]](#)に掲載 ([Shift]+左クリック→新規ウィンドウ)

◆印刷・編集

この PDF ファイルは、FdData 中間期末を PDF 形式に変換したサンプルで、印刷はできないように設定しております。製品版の FdData 中間期末は Windows パソコン用のマイクロソフト Word(Office)の文書ファイルで、印刷・編集を自由に行うことができます。

◆FdData 中間期末の特徴

中間期末試験で成績を上げる秘訣は過去問を数多く解くことです。FdData 中間期末は、実際に全国の中学校で出題された試験問題をワープロデータ(Word 文書)にした過去問集です。各教科(社会・理科・数学)約 1800~2100 ページと豊富な問題を収録しているため、出題傾向の 90%以上を網羅しております。

FdData 中間期末を購入いただいたお客様からは、「市販の問題集とは比べものにならない質の高さですね。子どもが受けた今回の期末試験では、ほとんど同じような問題が出て今までにないような成績をとることができました。」「製品の質の高さと豊富な問題量に感謝します。試験対策として、塾の生徒に FdData の膨大な問題を解かせたところ、成績が大幅に伸び過去最高の得点を取れました。」などの感想をいただいております。

◆サンプル版と製品版の違い

ホームページ上に掲載しておりますサンプルは、印刷はできませんが、製品の全内容を掲載しており、どなたでも自由に閲覧できます。問題を「目で解く」だけでもある程度の効果をあげることができます。しかし、FdData 中間期末がその本来の力を発揮するのは印刷ができる製品版においてです。印刷した問題を、鉛筆を使って一問一問解き進むことで、大きな学習効果を得ることができます。さらに、製品版は、すぐ印刷して使える「問題解答分離形式」、編集に適した「問題解答一体形式」、暗記分野で効果を発揮する「一問一答形式」(理科と社会)の 3 形式を含んでいますので、目的に応じて活用することができます。

※[FdData 中間期末の特徴\(QandA 方式\)](#) ([Shift]+左クリック→新規ウィンドウ)

◆FdData 中間期末製品版(Word 版)の価格(消費税込み)

※以下のリンクは[Shift]キーをおしながら左クリックすると、新規ウィンドウが開きます

[社会地理](#)、[社会歴史](#)、[社会公民](#)：各 7,800 円(統合版は 18,900 円) ([Shift]+左クリック)

[理科 1 年](#)、[理科 2 年](#)、[理科 3 年](#)：各 7,800 円(統合版は 18,900 円) ([Shift]+左クリック)

[数学 1 年](#)、[数学 2 年](#)、[数学 3 年](#)：各 7,800 円(統合版は 18,900 円) ([Shift]+左クリック)

※Windows パソコンにマイクロソフト Word がインストールされていることが必要です。(Mac の場合はお電話でお問い合わせください)。

◆ご注文は、メール(info2@fdtext.com)、または電話(092-811-0960)で承っております。

※[注文→インストール→編集・印刷の流れ](#)、[注文メール記入例](#) ([Shift]+左クリック)

【Fd 教材開発】 Mail : info2@fdtext.com Tel : 092-811-0960