

【FdData 中間期末：中学社会地理】

[過密と過疎]

◆パソコン・タブレット版へ移動

[三大都市圏・地方中枢都市]

[問題](2 学期中間改)

次の文章中の①，②に適語を入れよ。

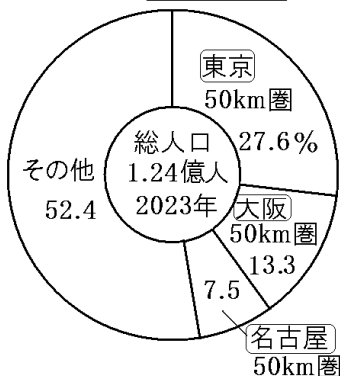
1960 年代の高度経済成長期，東京，大阪，名古屋の(①)圏が形成された。

1970 年代後半以降，高速交通網の整備が進み，各地方の中心都市として，札幌，仙台，広島，福岡などの(②)都市が成長した。これらの都市に加え，新潟，岡山，熊本など，人口 50 万人以上の市のうち，政府が指定し，県並みの行政ができる政令指定都市が設けられた。政令指定都市の市内はいくらかの区に分けられ，区役所が置かれている。

[解答]① 三大都市 ② 地方中枢

[解説]

[1960年代: 三大都市圏の形成]



1970年代: 地方中枢都市の成長
政令指定都市

1960年代の^{こうどけいざいせいちょうき}高度経済成長期には、大都市の工場や事務所で働く人が不足し、地方から大勢の人が移り住み、東京、大阪、名古屋の^{さんだいとしけん}三大都市圏が形成された。1970年代後半以降、新幹線や高速道路、航空

路などの高速交通網の整備が進み，各地方の中心都市として，札幌，仙台，広島，福岡などの地方中^{ちゅうすう}枢都市が成長した。これらの都市に加え，新潟，岡山，熊本など，人口 50 万人以上の市のうち，政府が指定し，県並みの行政ができる政令^{せいれい}指定都市^{してい}が設けられた。政令指定都市の市内はいくらかの区に分けられ，区役所が置かれている。

(統計修正)「日本国勢図会 2024/2025」


P51

※出題頻度：「三大都市圏○：東京○・大阪○・名古屋○」「地方中枢都市○」「政令指定都市○」

[問題](前期期末)

次の各問いに答えよ。

- (1) 右のグラフ
の A～C の
都市圏を合
わせて何と
いうか。



- (2) B, C の都市
圏の中心都市を次からそれぞれ選べ。

[名古屋 仙台 福岡 大阪 札幌
広島]

- (3) 札幌・仙台・広島・福岡などの各地
方の中心的な都市を何というか。
- (4) 人口 50 万人以上の市のうち, 政府が
指定し, 県並みの行政ができる都市
を何というか。

[解答](1) 三大都市圏 (2)B 大阪
C 名古屋 (3) 地方中枢都市
(4) 政令指定都市

[問題](前期期末など)

次の各問いに答えよ。

(1) 高度経済成長期，地方から大勢の人が移り住み三大都市圏が形成された。三大都市圏の 3 つの中心都市を答えよ。

(2) (1)のように三大都市圏に地方から大勢の人が移り住んだ理由として正しくないものを次のア～ウから 1 つ選べ。

ア 大学などが集中していて，高校を卒業した後引っ越す人が多かったから。

イ 工場や事務所などの職場が多かったから。

ウ 都市の中心では，周辺地域より土地の値段が安かったから。

- (3) 日本の人口が、三大都市圏へ大量に流入した年代を次の[]から 1 つ選べ。

[1950 年代 1960 年代 1970 年代
1980 年代]

- (4) 現在、三大都市圏には日本の人口の約何%が集まっているか。次の[]から選べ。

[28% 38% 48% 58%]

- (5) 1970 年代後半以降、各地方の中心として札幌・仙台・広島・福岡などの都市が成長した。

- ① これらの地方の中心となる都市を何というか。
- ② これらの都市が成長した理由として最も適当なものを次のア～エから選べ。

- ア 工業の発展
- イ 高速交通網の整備
- ウ 環境の保全
- エ 地域おこし

(6) 次の文章の①～③にあてはまる言葉や数字を答えよ。

政令指定都市とは、人口(①)万人以上の市のうち、政府が指定し、県並みの行政ができる都市をいう。市内はいくらかの(②)に分けられ、(②)役所が置かれている。

(7) 次の[]のうち、政令指定都市に指定されていない都市を2つ選べ。

[大阪市 和歌山市 福岡市 広島市 京都市 岡山市 大津市 神戸市]

[解答](1) 東京, 大阪, 名古屋 (2) ウ
(3) 1960 年代 (4) 48% (5)① 地方中
枢都市 ② イ (6)① 50 ② 区
(7) 和歌山市, 大津市

[過密]

[問題](1 学期期末改)

次の文章中の①，②に適語を入れよ。

ある地域に人口が集中しすぎることを（ ① ）という。(①)地域では，交通渋滞，住宅不足，大気汚染や騒音などの公害，ごみ問題などの問題が深刻になった。また，地価も高かったため，都心の人口が減少し，郊外のニュータウンなどの人口が増加する（ ② ）現象も起こった。しかし，1990 年代に地価が下がると，都市再開発が進み，再び郊外より都心に近い地域で人口が増加する都心回帰現象も見られるようになった。1960～70 年代に建てられたニュータウンでは，現在，住民の高齢化が問題になっている。

[解答]① 過密 ② ドーナツ化

[解説]

[過密(過密化, 過密地域)]

交通渋滞, ごみ問題, 公害

地価上昇・住宅不足

→郊外のニュータウンへ人が移動

→ドーナツ化現象→都心回帰現象

現在, ニュータウンの住民の高齢化

ある地域に人口や建物などが集中しすぎることを^{かみつ}過密という。とくに、東京は、政治や経済などの様々な中心が集まっているため、^{ちいき}過密地域になっている。過密地域では、^{じゅうたい}交通^{たいきおせん}渋滞, 住宅不足, 大気汚染, ごみ問題などが深刻である。都心部の地価が上昇し、人々は、比較的安い土地が得られる^{こうがい}郊外のニュータウンなどに住むようになった。その結果、都心部の人口が減少する一方で郊外の人口が増加し、

人口が都心を中心にしてドーナツのように^{ぶんぷ}分布するようになった。この^{げんしょう}現象をドーナツ化現象という。(東京や大阪の中心部の夜間人口が昼間人口よりも少ないのは、昼間、^{つうきん}通勤や通学で都市の中心部へ来ていた人が、夜は周辺の郊外へ帰るからである。)

バブル経済が^{ほうかい}崩壊した 1990 年代以降、地価が安定してきたこともあって、^{さいかい}再開された都心部の^{こうそう}高層住宅に住む人が増える都心回帰現象^{としんかいきげんしょう}も見られるようになっている。

1960～70 年代に建てられたニュータウンでは、現在、住民の^{こうれいか}高齡化が問題になっている。

※「ドーナツ化現象」「都心回帰現象」の語句が出てこない教科書もある。

※出題頻度：「過密(過密地域)○」「交通
渋滞○，ごみ問題○，地価上昇・住宅不
足△，大気汚染や騒音△」「ドーナツ化現
象△：都心の人口が減少し郊外の人口が
増加する現象△」「都心回帰現象△」「ニ
ュータウンの住民の高齢化△」

[問題](1 学期期末)

次の各問いに答えよ。

- (1) 都市部で人口が過度に集中する問題を何というか。漢字2字で答えよ。
- (2) (1)の地域で起こる問題として適さないものを次のア～オから選び，記号で答えよ。

ア 大気汚染 イ ごみ問題

ウ 交通渋滞 エ 地価の下落

オ 騒音

- (3) (1)の地域の郊外につくられた，大規模な住宅地をカタカナで何というか。
- (4) 大都市の中心部(都心)の人口が減少し，郊外で人口が増加する現象を何というか。

[解答](1) 過密 (2) エ (3) ニュータウン (4) ドーナツ化現象

[問題](前期中間)

次の文章中の①～⑧に適語を入れよ。

ある地域に人口が集中しすぎることを
(①)という。(①)地域では、(②)
渋滞、住宅不足、大気(③)や騒音な
どの公害、ごみ問題などが深刻になった。
(①)地域では、(④)の上昇で都心部の
人口が減少し、郊外のニュータウンなど
の人口が増加する(⑤)現象が起こっ
た。しかし 1990 年代に(④)が下がると、
都心部の(⑥)開発が進み、再び郊外
よりも都心に近い地域で人口が増加する
(⑦)の現象が起こった。また、1960
～70 年代に建てられたニュータウンで
は、現在、住民の(⑧)化が問題にな
っている。

[解答]① 過密 ② 交通 ③ 汚染
④ 地価 ⑤ ドーナツ化 ⑥ 再
⑦ 都心回帰 ⑧ 高齢

[過疎]

[問題](1 学期期末改)

農村では働く場所が少ないため、若い人が仕事を求めて都市部へ出て行き、人口の減少と、高齢化が進んでいる。その結果、経済活動がおとろえ、公共交通機関、学校、商店、病院がなくなるなど地域社会を維持する機能が弱くなっている。このような地域は(X)地域とよばれ、山間部や離島を中心に広がっている。その一方で、地域の再生に取り組んでいる事例もあり、農村に新しい価値を見いだして、I ターン(都市部の人が農村部へ移住)やU ターン(都市部に出てきた農村部出身の人が農村部へ戻る)という形で移住する人も見られるようになっている。文中の X に適語を入れよ。

[解答]過疎

[解説]


[過疎(過疎化, 過疎地域)]

農村(とくに山間部や離島)では、働く場所が少ない

→若者流出→人口減少・高齢化→経済活動が衰える

→公共交通機関の廃止, 学校, 商店, 病院がなくなる

Iターン, Uターン



農村(とくに、^{さんかんぶ}山間部や^{りとう}離島)では、働く場所が少ないため、若い人が仕事を求めて都市部へ出て行き、人口の減少と
^{こうれいか}高齢化が進んでいる。その結果、経済活
動がおとろえ、^{こうきょうこうつうきかん}公共交通機関が^{はいし}廃止され

る、学校や商店、病院がなくなるなど、
^{ちいき}地域社会を維持する機能が弱くなる。こ
のように、地域の人口が減少すること
により、地域住民の生活が成立しなくなる
現象を^{かそ}過疎といい、そのような地域を過
疎地域という。

その一方で、地域の再生に取り組んでい
る事例もあり、農村に新しい価値を見い
だして、I ターン(都市部の人が農村部へ
^{いじゅう}移住)やU ターン(都市部に出てきた農村
部出身の人が農村部へ戻る)という形で
移住する人も見られるようになっている。

※出題頻度：「過疎(過疎化，過疎地域)

○：山間部や離島△」「働く場所が少ない

△→若者流出△→人口減少・高齢化○」

「公共交通機関の廃止○」「学校，商店，

病院がなくなる△」「I ターン△」「U タ

ーン△」

[問題](1 学期期末)

次の各問いに答えよ。

- (1) 農村や山間部にみられるように，教育・消防など地域社会を支える活動が困難になるほど人口が減少する現象を何というか。漢字2字で答えよ。
- (2) 次のア～カより，(1)の地域の特色を説明したものをすべて選べ。
- ア 高齢者の割合が高い。
 - イ ドーナツ化現象が起こる。
 - ウ 若者の就職先が少ない。
 - エ 公共交通機関が廃止される。
 - オ 住宅地が不足する。
 - カ 生徒不足により，学校が廃校となる。

(3) (1)の一方で、①都市部出身の人が農村部に移住することや、②都市部に出てきた農村部出身の人が農村部へ戻ることも起きている。①、②をそれぞれ何というか。

[解答](1) 過疎 (2) ア, ウ, エ, カ

(3)① I ターン ② U ターン

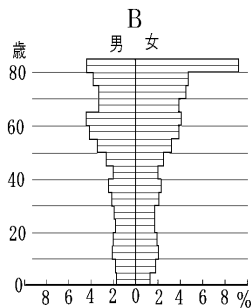
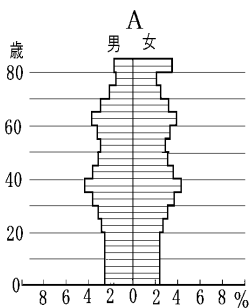
[問題](3 学期)

次の各問いに答えよ。

- (1) 過疎地域となっているのは、どのような地域が多いか。次の[]から2つ選べ。


[山間部 平野部 盆地 離島]

- (2) 次の A, B のグラフは、過密地域、過疎地域の人口ピラミッドを示したものである。過疎地域を示しているのは A, B のどちらか。



(3) 過疎地域の中には、地域住民の高齢化が進んでいる地域が多い。その理由を「若い人々」という語句を使って簡潔に説明せよ。

(4) 次の図①、②をそれぞれ何というか。



[解答](1) 山間部, 離島 (2) B (3) 若い人々が都市部へ出て行ってしまいうから。

(4)① I ターン ② U ターン

[過密と過疎]

[問題](3 学期)

次の文の①～④に適する語句を下の
[]からそれぞれ選べ。

高度経済成長期に都市への人口集中が
すすんだ。その結果、都市は(①)と
なり、(②)が流失した農村では
(③)の割合が高くなり、(④)問題
が生じた。

[過疎 過密 若者 高齢者]

[解答]① 過密 ② 若者 ③ 高齢者
④ 過疎

[問題](3 学期)

次の説明文は、過疎か過密か。それぞれ答えよ。

- ① 若者の多くが流出し、農業後継者もいなくなった。
- ② 宅地の価格が高くて手に入らない。
- ③ 子どもの数が減少したため学校が閉鎖された。
- ④ 通勤ラッシュが起こる。
- ⑤ 若者が減少して高齢化が進んだ。
- ⑥ ドーナツ化現象で通勤に時間がかかる。

[解答]① 過疎 ② 過密 ③ 過疎

④ 過密 ⑤ 過疎 ⑥ 過密

[問題](1 学期期末)

日本の過密，過疎地域に関する説明文で誤っているものを，次のア～エより 1 つ遊び，記号で答えよ。

ア 過疎地域は，山間部や農村，離島に多く見られる。

イ 過疎地域は，若者が流出しているため，人口の高齢化が進行している。

ウ 過密地域では，住宅不足や交通渋滞，ごみ処理問題などが起こっている。

エ 過密の問題は，東京や大阪，福岡の三大都市圏が中心となって起こっている。

[解答]エ

[解説]

エが誤り。三大都市圏は東京，大阪，名古屋を中心とした都市圏である。

【各ファイルへのリンク】

社会地理

[\[世界 1\]](#) [\[世界 2\]](#) [\[日本 1\]](#) [\[日本 2\]](#)

社会歴史

[\[古代\]](#) [\[中世\]](#) [\[近世\]](#) [\[近代\]](#) [\[現代\]](#)

社会公民

[\[現代社会\]](#) [\[人権\]](#) [\[三権\]](#) [\[経済\]](#)

理科 1 年

[\[光音力\]](#) [\[化学\]](#) [\[植物\]](#) [\[地学\]](#)

理科 2 年

[\[電気\]](#) [\[化学\]](#) [\[動物\]](#) [\[天気\]](#)

理科 3 年

[\[運動\]](#) [\[化学\]](#) [\[生殖\]](#) [\[天体\]](#) [\[環境\]](#)

【FdData 中間期末製品版のご案内】

この PDF ファイルは、FdData 中間期末を PDF 形式(スマホ用)に変換したサンプルです。製品版の FdData 中間期末は Windows パソコン用のマイクロソフト Word(Office)の文書ファイル(A4 版)で、印刷・編集を自由に行うことができます。

◆FdData 中間期末の特徴

中間期末試験で成績を上げる秘訣は過去問を数多く解くことです。FdData 中間期末は、実際に全国の中学校で出題された試験問題をワープロデータ(Word 文書)にした過去問集です。各教科(社会・理科・数学)約 1800～2100 ページと豊富な問題を収録しているため、出題傾向の 90%以上を網羅しております。

FdData 中間期末を購入いただいたお客様からは、「市販の問題集とは比べものにならない質の高さですね。子どもが受け

た今回の期末試験では、ほとんど同じような問題が出て今までにないような成績をとることができました。」「製品の質の高さと豊富な問題量に感謝します。試験対策として、塾の生徒に FdData の膨大な問題を解かせたところ、成績が大幅に伸び過去最高の得点を取れました。」などの感想をいただいております。

◆サンプル版と製品版の違い

ホームページ上に掲載しておりますサンプルは、製品の全内容を掲載しており、どなたでも自由に閲覧できます。問題を「目で解く」だけでもある程度の効果をあげることができます。しかし、FdData 中間期末がその本来の力を発揮するのは印刷ができる製品版においてです。印刷した問題を、鉛筆を使って一問一問解き進むことで、大きな学習効果を得ることができます。さらに、製品版は、すぐ印

刷して使える「問題解答分離形式」、編集に適した「問題解答一体形式」、暗記分野で効果を発揮する「一問一答形式」(理科と社会)の3形式を含んでいますので、目的に応じて活用することができます。

FdData 中間期末の特徴(QandA 方式)

◆FdData 中間期末製品版の価格

社会地理, 歴史, 公民 : 各 7,800 円

理科 1 年, 2 年, 3 年 : 各 7,800 円

数学 1 年, 2 年, 3 年 : 各 7,800 円

ご注文は電話, メールで承っております。

FdData 中間期末(製品版)の注文方法

※パソコン版ホームページは, Google
などで「fddata」で検索できます。

※Amazon でも販売しております。

(「amazon fddata」で検索)

【Fd 教材開発】 電話 : 092-811-0960

メール : info2@fdtext.com