

【FdData 中間期末：中学歴史】

[欧米のアジア侵略]

◆パソコン・タブレット版へ移動

[三角貿易]

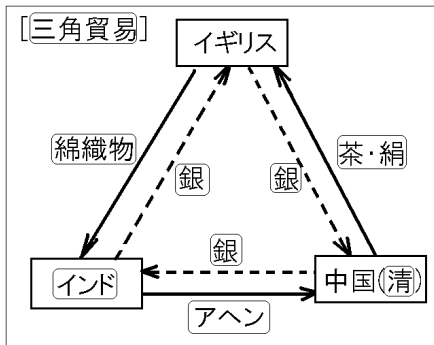
[問題](2 学期中間)

次の文中の①，②にあてはまる語句を書け。

18 世紀，イギリスは中国から茶や絹を輸入し，代金を(①)で支払っていた。19 世紀に入り，清へ支払う(①)が不足すると，イギリスは植民地であったインドに(②)をつくらせ，インドから中国へ(②)を輸出することで(①)を得るようになった。このような貿易を三角貿易という。

[解答]① 銀 ② アヘン

[解説]



イギリスは、18世紀ごろから中国(清)と貿易を行っていた。中国から大量の茶や絹を輸入し、代金を銀で支払っていた。19世紀に入り、清へ支払う銀が不足すると、イギリスはインドへ綿織物などの工業製品を輸出し、インド産のアヘンを清へ密輸して、逆に利益を得るようになった(三角貿易)。この関係を銀の流れに注目して説明すると、図のように、中国か

らインドにアヘンの対価として銀が支払われ、インドからイギリスへは綿織物等の対価として銀が支払われ、イギリスから中国へは茶・絹の対価として銀が支払われた。

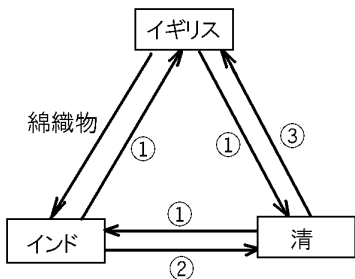
※出題頻度：「三角貿易○」

「図の国：清○，インド○，イギリス△」

「図の品目：アヘン◎，綿織物◎，茶や絹○，銀○」

[問題](前期中間)

右の図は、
19世紀のイギリス、インド、清の間の貿易を表している。これ



について、次の各問いに答えよ。

- (1) この貿易を何というか。
- (2) 図中の①～③の矢印にあてはまるものを次の[]からそれぞれ選べ。

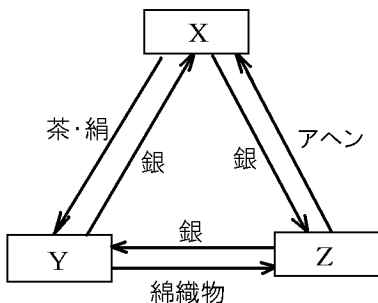
[茶・絹 アヘン 銀]

[解答](1) 三角貿易 (2)① 銀

② アヘン ③ 茶・絹

[問題](2 学期期末)

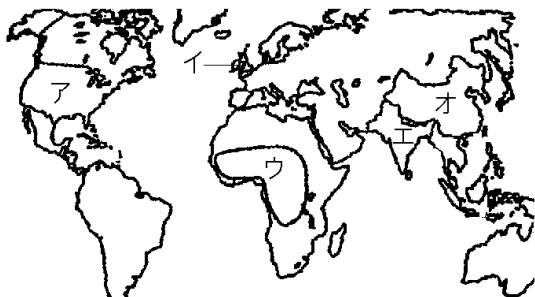
次の図はアヘン戦争が起こった背景として行われていた三角貿易の様子を示している。X, Y, Z にあてはまる国名を書け。



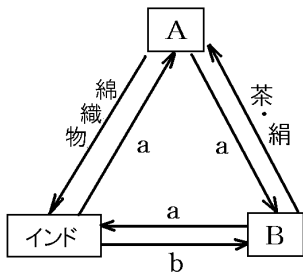
[解答]X 清(中国) Y イギリス Z イン
ド

[問題](後期中間)

次の地図や関係図をみて、後の各問いに答えよ。



(1) 関係図のA, B にあてはまる国を地図中ア～オから記号で選べ。



(2) 関係図中の茶・絹などの支払いに使われた, a は何か。

(3) Aが密貿易でインドからBへ売り込ませたbは何か。

[解答](1)A イ B オ (2) 銀

(3) アヘン

[アヘン戦争]

[問題](2 学期中間改)

次の文章中の①，②に適語を入れよ。

イギリス
はインドで
作らせた
(①)を清



に密輸で売り込む三角貿易を行っていたが、①患者が増加し、貿易赤字が大きくなった清は①の輸入を禁止した。これに対し、1840年、イギリスは艦隊を送って清を屈服させた。これを①戦争という(図はそのときの海戦のようすである)。1842年に(②)条約が結ばれて、イギリスは清から香港を譲り受け、賠償金を支払わせた。さらに、翌年には、清の関税自主権を認めず、イギリスが領事裁判権をもつ不平等条約を結んだ。

[解答]① アヘン ② 南京

[解説]

[アヘン戦争]

1840年 イギリスが清を破る

1842年 南京条約

香港を譲り受ける

領事裁判権，関税自主権なし

イギリスはインド
で作らせたアヘン
を清に密輸^{みつゆ}で売り
込む^{さんかくぼうえき}三角貿易を行



った。アヘン
^{かんじゃ}患者が増加し，
貿易赤字が大
きくなった清

[アヘン戦争]



はアヘンの輸入を禁止した。これに対し，
1840年，イギリスは艦隊を送って清を

くつぷく
屈服させた。これをアヘン戦争という。

(一発清を(1840)おどろかし)

1842年に南京条約が結ばれて、イギリスは清から香港を譲り受け、賠償金を支払わせた。翌年には、清の関税自主権(輸入品の関税率を定める権利)を認めず、イギリスが領事裁判権(イギリス人が罪を犯しても清は裁判をする権利がない)をもつ不平等条約を結んだ。


※出題頻度：「アヘン戦争◎」「の船は清・イギリスのどちらか○」

「南京条約◎：香港◎」「領事裁判権・関税自主権△」

[問題](1 学期中間)

次の各問いに答えよ。

- (1) 右の資料は、何という戦争のようすをえがいているか。



- (2) 図で砲撃されているAの船は、どこの国のものか。当時の国名を答えよ。
- (3) (1)の後、(2)の国がイギリスと結んだ条約を何というか。
- (4) (3)によって、イギリスが(2)から譲り受けたのはどこか。

[解答](1) アヘン戦争 (2) 清

(3) 南京条約 (4) 香港

[問題](2 学期中間)

次の文章中の①～⑦に適語を入れよ。

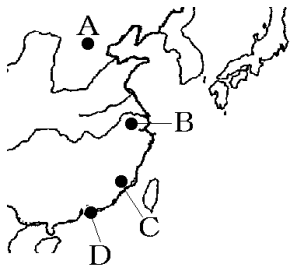
イギリスは清から(①)や絹を輸入し、大幅な輸入超過であった。そこでイギリスは、綿織物などの工業製品をインドへ売り込み、インドで作らせた(②)を清に密輸で売り込む三角貿易を行った。(②)患者が増加し、貿易赤字が大きくなった清は(②)の輸入を禁止した。これに対し、1840年にイギリスは艦隊を送って清を屈服させた。この戦争を(③)という。1842年に(④)条約が結ばれて、イギリスは清から(⑤)を譲り受け、賠償金を支払わせた。翌年には、清の関税(⑥)権を認めず、イギリスが(⑦)裁判権(イギリス人が罪を犯しても清は裁判をする権利がない)をもつ不平等条約を結んだ。

[解答]① 茶 ② アヘン ③ アヘン戦

争 ④ 南京 ⑤ 香港 ⑥ 自主
⑦ 領事

[問題](2 学期中間)

アヘン戦争の結果について、次の各問いに答えよ。



(1) アヘン戦争

で勝った国はどこか。

(2) アヘン戦争の結果結ばれた条約は何か。

(3) (2)の条約によって(1)の国が清からゆずられた都市の名前を答えよ。

(4) (3)の都市は図のA~Dのどれか。

(5) (2)の条約を結んだ翌年、清はイギリスと不平等条約を結んだ。清にとって不平等とされる理由を2つあげて簡単に説明せよ。

[解答](1) イギリス (2) 南京条約
(3) 香港 (4) D (5) 清に関税自主権が
なかったこと。イギリスの領事裁判権を
認めたこと。

[太平天国の乱]

[問題](2 学期中間)

アヘン戦争後，賠償金支払いなどのために清は農民に重税を課したので，洪秀全を指導者とする反乱がおこった。この反乱を何というか。

[解答]太平天国の乱

[解説]

アヘン戦争後，
賠償金支払いな
どのために清は

1851年	太平天国の乱
	洪秀全

農民に重税を課したので，洪秀全を指導者とする太平天国の乱がおこった。この混乱の中でイギリスはフランスとともに再び清を攻め，貿易のいっそうの自由化やキリスト教の布教を認めさせた。

※出題頻度：「太平天国の乱○」

[問題](2 学期中間)

次の文章中の①～③に適語を入れよ。

(①)戦争後，賠償金支払いなどのために清は農民に重税を課したので，洪秀全を指導者とする(②)の乱がおこった。この混乱の中で(③)はフランスとともに再び清を攻め，貿易のいっそうの自由化やキリスト教の布教を認めさせた。

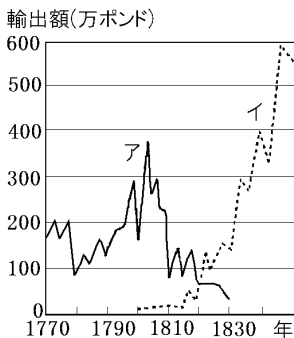
[解答]① アヘン ② 太平天国

③ イギリス

[綿布の輸出の変化]

[問題](2 学期中間)

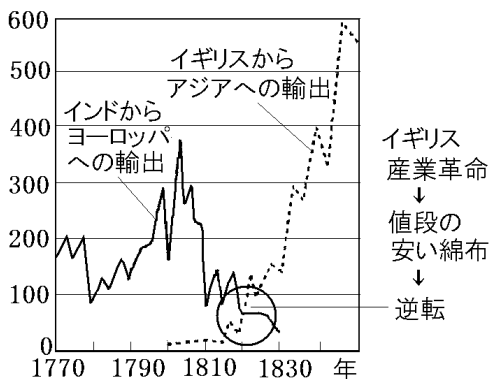
右の資料は、
綿布の輸出額の変化を示したものである。インドからヨーロッパへの綿布の輸出を示したものは、ア、イのどちらか。記号で答えよ。



[解答]ア

[解説]

綿布の輸出額 (万ポンド)



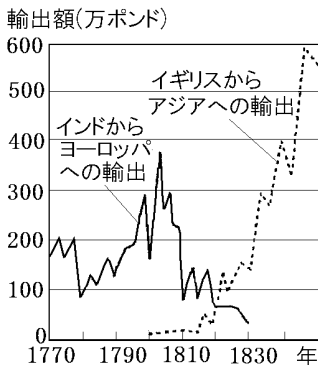
イギリスでは、17世紀に東インド会社を通じて輸入されたインド産の薄くて軽い綿織物が人気を集めた。この人気に応じて、18世紀にはイギリス国内でも綿織物工業がおこった。18世紀の終わりに、蒸気機関で動く機械が使われるようになると(産業革命)、イギリス産の綿布が工場で安く大量に生産され世界に向けて輸出

されるようになった。インドでは、イギリスの安い綿製品が流入し、伝統的なインドの綿産業は大きな打撃を受けた。

※出題頻度(綿布の輸出額):「グラフのどちらがイギリス(インド)か△」

[問題](2 学期期末)

右の資料は、イギリスとインドの綿布の輸出を示している。この資料を見ると、1820 年ごろから、イギリス



の輸出がインドの輸出を上回っていることがわかる。その理由を「産業革命」の語句を用いて答えよ。

[解答]イギリスは産業革命で工業化を達成し、値段の安い綿布を生産するようになったから。

[問題](前期中間)

インドでは 19 世紀に入ると綿織物業が衰え、失業者があふれ、人々の不満が高まった。それはなぜか、「産業革命」という語句を用いて、簡単に答えよ。

[解答]産業革命を進めたイギリスが、機械で大量生産した綿織物をインドへ輸出したから。

[インド大反乱]

[問題](2 学期中間)

1857年, イギリスの東インド会社に雇われていたインド兵が反乱をおこし, 農民なども加わって反乱は全国に広がった。これを(X)という。これを鎮圧したイギリスはムガル帝国の皇帝を退位させ, インドをイギリスの領土とした。文中の X に適語を入れよ。

[解答]インド大反乱

[解説]

[インド大反乱] 1857年



イギリスがムガル帝国を滅ぼす

イギリスの植民地支配下にあったインド(ムガル帝国)では、イギリスの安い綿織物が大量に流入し、伝統的なインドの綿織物業は打撃を受けた。またイギリスはインドから税を取り、本国に送った。このためイギリスに反感を持つインドの人々が増え、1857年にインド人兵士のイギリス人上官に対する反乱が各地で起こり、インド^{だいはんらん}大反乱となった。これを鎮圧したイギリスは、ムガル帝国を滅ぼし、イギリス国王を皇帝とするインド帝国を造り、世界に広がる植民地支配の拠点とした。

※出題頻度：「インド大反乱○」「ムガル帝国△」

[問題](2 学期期末)

次の文章中の①～③に適語を入れよ。

イギリスの植民地支配下にあったインド((①)帝国)では、イギリスの安い(②)織物が大量に流入し、伝統的なインドの(②)織物業は打撃を受けた。またイギリスはインドから税を取り、本国に送った。このためイギリスに反感を持つインドの人々が増え、1857年にインド人兵士のイギリス人上官に対する反乱が各地で起こり、(③)が起きた。これを鎮圧したイギリスは、(①)帝国の皇帝を退位させ、イギリス国王を皇帝とするインド帝国を造り、世界に広がる植民地支配の拠点とした。

[解答]① ムガル ② 綿

③ インド大反乱

[問題](入試問題)

次のA～Dは、17世紀から19世紀にかけてインドとイギリスの間で起こったできごとを示したものである。A～Dを、書かれた内容の古いものから順に並べよ。

A：産業革命後、イギリスは大量の綿織物をインドへ輸出した。

B：インドの綿織物業が衰退し、イギリスへの不満が高まりインド大反乱が起こった。

C：イギリスは東インド会社をつくり、インドから大量の綿織物を輸入した。

D：イギリス政府がインド全土を直接支配するようになった。

(三重県)

[解答]C→A→B→D

【各ファイルへのリンク】

社会地理

[\[世界 1\]](#) [\[世界 2\]](#) [\[日本 1\]](#) [\[日本 2\]](#)

社会歴史

[\[古代\]](#) [\[中世\]](#) [\[近世\]](#) [\[近代\]](#) [\[現代\]](#)

社会公民

[\[現代社会\]](#) [\[人権\]](#) [\[三権\]](#) [\[経済\]](#)

理科 1 年

[\[光音力\]](#) [\[化学\]](#) [\[植物\]](#) [\[地学\]](#)

理科 2 年

[\[電気\]](#) [\[化学\]](#) [\[動物\]](#) [\[天気\]](#)

理科 3 年

[\[運動\]](#) [\[化学\]](#) [\[生殖\]](#) [\[天体\]](#) [\[環境\]](#)

【FdData 中間期末製品版のご案内】

このPDFファイルは、FdData 中間期末をPDF形式(スマホ用)に変換したサンプルです。製品版のFdData 中間期末はWindows パソコン用のマイクロソフトWord(Office)の文書ファイル(A4版)で、印刷・編集を自由に行うことができます。

◆FdData 中間期末の特徴

中間期末試験で成績を上げる秘訣は過去問を数多く解くことです。FdData 中間期末は、実際に全国の中学校で出題された試験問題をワープロデータ(Word 文書)にした過去問集です。各教科(社会・理科・数学)約1800～2100ページと豊富な問題を収録しているため、出題傾向の90%以上を網羅しております。

FdData 中間期末を購入いただいたお客様からは、「市販の問題集とは比べものにならない質の高さですね。子どもが受け

た今回の期末試験では、ほとんど同じような問題が出て今までにないような成績をとることができました。」、「製品の質の高さと豊富な問題量に感謝します。試験対策として、塾の生徒に FdData の膨大な問題を解かせたところ、成績が大幅に伸び過去最高の得点を取れました。」などの感想をいただいております。

◆サンプル版と製品版の違い

ホームページ上に掲載しておりますサンプルは、製品の全内容を掲載しており、どなたでも自由に閲覧できます。問題を「目で解く」だけでもある程度の効果をあげることができます。しかし、FdData 中間期末がその本来の力を発揮するのは印刷ができる製品版においてです。印刷した問題を、鉛筆を使って一問一問解き進むことで、大きな学習効果を得ることができます。さらに、製品版は、すぐ印

刷して使える「問題解答分離形式」、編集に適した「問題解答一体形式」、暗記分野で効果を発揮する「一問一答形式」(理科と社会)の3形式を含んでいますので、目的に応じて活用することができます。

[FdData 中間期末の特徴\(QandA 方式\)](#)

◆FdData 中間期末製品版の価格

社会地理, 歴史, 公民 : 各 7,800 円

理科 1 年, 2 年, 3 年 : 各 7,800 円

数学 1 年, 2 年, 3 年 : 各 7,800 円

ご注文は電話, メールで承っております。

[FdData 中間期末\(製品版\)の注文方法](#)

※パソコン版ホームページは, Google
などで「fddata」で検索できます。

※Amazon でも販売しております。

(「amazon fddata」で検索)

【Fd 教材開発】 電話 : 092-811-0960

メール : info2@fdtext.com