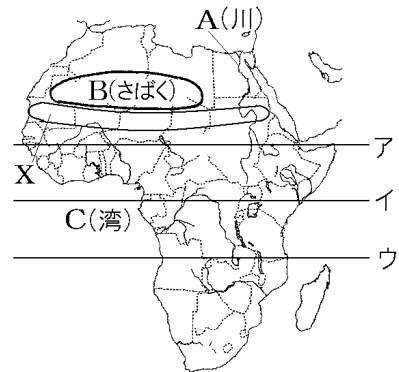


[問題]

次の各問いに答えよ。

- (1) 右の地図でA～Cの地形名を答えよ。
- (2) Bさばくの南側に広がる図のXの( ① )地帯は、1960年代以降かんばつが続き、植物が生えない不毛の地が広がる( ② )化が進んだ。
- (3) 図のア～ウのうち赤道はどれか。

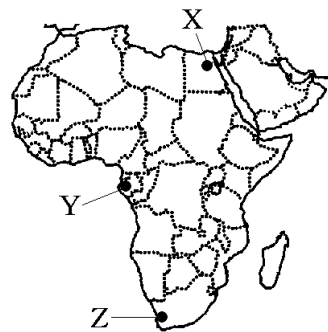
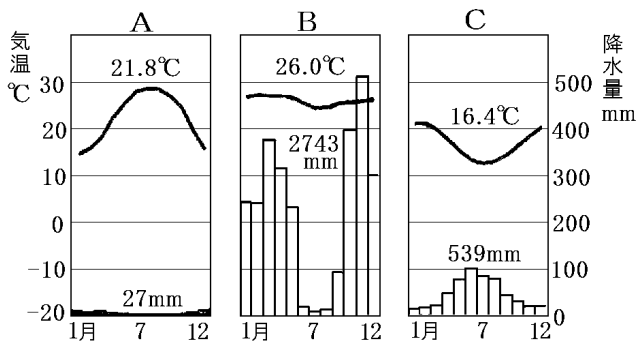


- [解答](1)A ナイル川 B サハラさばく C ギニア湾  
 (2)① サヘル ② さばく (3) イ

[問題]

次の各問いに答えよ。

- (1) アフリカの気候帯は赤道を中心として南北に対称に分布している。赤道にもっとも近い部分が( ① )であり、そこから離れるに従って( ② ), ( ③ )と順に規則正しく分布している。①～③にそれぞれ気候帯名を入れよ。
- (2) 次のA～Cのグラフは、略地図中のX, Y, Zの都市のものである。A～Cのグラフは、それぞれどの都市にあてはまるか。都市の記号を答え、あわせて、気候帯名を書け。



- [解答](1)① 熱帯 ② 乾燥帯 ③ 温帯 (2)A X, 乾燥帯 B Y, 熱帯 C Z, 温帯

[問題]

アフリカ州について、次の文の①～⑤に適語を入れよ。

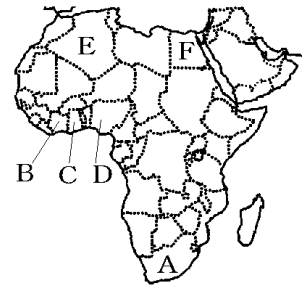
16世紀以後、多くのアフリカ人が( ① )として連れ出され、19世紀には、アフリカのほぼ全域はヨーロッパ諸国の( ② )となった。現在でも(②)時代の言葉を( ③ )としている国が多い。また(②)時代に引かれた<sup>こつきょうせん</sup>国境線をめぐる民族間の対立も起きている。北アフリカではおもに( ④ )教が<sup>しんこう</sup>信仰されているが、それ以外の地域では伝統的な宗教を信仰しており、(②)時代の影響で( ⑤ )教も広がっている。

[解答]① <sup>どれい</sup> 奴隷 ② <sup>しょくみんち</sup> 植民地 ③ <sup>こうようご</sup> 公用語 ④ イスラム ⑤ キリスト

[問題]

次の文の①～⑫に適語を入れよ。

Aは( ① )で、かつて、( ② )という<sup>じんしゆかくりせいさく</sup>人種隔離政策をとり、世界各国から人権侵害と非難を受けていたが、<sup>てっぱい</sup>撤廃後、黒人の( ③ )氏が大統領になった。この国は、金やダイヤモンドの産出が多く、アフリカ最大の工業国である。ギニア湾に面しており、チョコレートの原料になる( ④ )の生産が多いのは、Bの( ⑤ )(世界1位)と、Cの( ⑥ )(世界3位)である。(⑥)は金の輸出量も多い。Dの( ⑦ )もカカオの生産国で、人口はアフリカで最大で、Eの( ⑧ )とともに( ⑨ )(鉱産資源)の産出国である。Fは( ⑩ )で、( ⑪ )川下流域で古代(⑩)文明が栄えた。首都の( ⑫ )はアフリカ最大の都市である。



[解答]① <sup>きやうわこく</sup> 南アフリカ共和国 ② アパルトヘイト ③ マンデラ ④ カカオ ⑤ コートジボワール ⑥ ガーナ ⑦ ナイジェリア ⑧ アルジェリア ⑨ <sup>せきゆ</sup> 石油 ⑩ エジプト ⑪ ナイル ⑫ カイロ

[問題]

次の文の①～⑧に適語を入れよ。

植民地時代のアフリカでは、ヨーロッパ人が現地の安い労働力を利用して、( ① )という大農園だいのうえんで特定の商品作物しょうひんさくもつを栽培して、ヨーロッパに輸出した。( ② )湾沿岸わんえんがんのA, B, Cの国では、チョコレートの原料になる( ③ )の(①)農業が行われている。また、アフリカは各種の鉱産資源にも恵まれている。Cのナイジェリアでは、( ④ )が採掘さいくつされ、輸出額の9割以上をしめている。図中のD, Eの両国では、( ⑤ )が最も重要な輸出品となっている。Fの南アフリカ共和国では( ⑥ )やダイヤモンドが重要な地下資源になっている。また、近年、アフリカ大陸では、携帯電話などに欠かせないめずらしい金属が産出されている。このような金属をまとめて( ⑦ )という。アフリカ諸国の多くは、(①)農業による特定の商品作物や、特定の鉱産資源を輸出して経済が成り立っている。このような経済を( ⑧ )経済という。



[解答]① プランテーション ② ギニア ③ カカオ ④ 石油 ⑤ 銅 ⑥ 金 ⑦ 希少金属(レアメタル) ⑧ モノカルチャー

[問題]

次のグラフを見て、各問いに答えよ。

[2010年]

① 102.8 億ドル	カカオ	石油製品	石油	その他
	24.2%	13.0	10.6	52.2

② 865.7 億ドル	石油			石油製品	その他
	70.3%			11.3	18.4

③ 714.8 億ドル	機械類 自動車 石炭 鉄鉱石						その他 42.4
	白金族	鉄鋼					
	13.1%	10.8	9.2	9.2	7.7	7.6	

(1) グラフの①～③は、あるアフリカの国のおもな輸出品を表したグラフである。それぞれ、あてはまる国名を[ ]から選べ。

[ ナイジェリア 南アフリカ共和国 ケニア コートジボワール ]

(2) グラフの①や②の国のように、ある特定の種類の農産物や、資源の輸出にたよっている国の経済をモノカルチャー経済というが、その問題点を説明せよ。

[解答](1)① コートジボワール ② ナイジェリア ③ 南アフリカ共和国 (2) 天候や景気により価格が大きく変動するため、輸出品の種類が少ないと毎年安定した収入を得ることができない

[問題]

アフリカ州について、次の文の①～⑦に入れる適語を下の[ ]より選べ。

現在では、( ① )の援助による農地開発が行われている。また、アフリカには、金やダイヤモンドなどの( ② )が豊富で、最近では、電子機器に使われる( ③ )の輸出が注目されている。しかし、貿易による収入が安定せず、貧しい国が多い。アフリカでは、首都の( ④ )が高く、都市化が進んでいる。一方で収入の少ない人々が住む( ⑤ )や環境問題がおこっている。アフリカの国々は( ⑥ )を結成し、自立を目指している。(①)の援助や日本の( ⑦ )による技術協力もさかんである。

[ 発展途上国 先進工業国 商品作物 鉱産資源 希少金属 ヒスパニック スラム

プランテーション ドーナツ化 人口増加率 EU AU OPEC NGO ASEAN ]

[解答]① 先進工業国 ② 鉱産資源 ③ 希少金属 ④ 人口増加率 ⑤ スラム ⑥ AU ⑦ NGO

[印刷／他の PDF ファイルについて]

※ このファイルは、FdText 社会(6,600 円)の一部を PDF 形式に変換したサンプルで、印刷はできないようになっています。製品版の FdText 社会は Word(または一太郎)の文書ファイルで、印刷・編集を自由に行うことができます。

※ 弊社は、FdText のほかに FdData 中間期末過去問(社会・理科・数学)(各 18,900 円)(Word 版・一太郎版)を販売しております。PDF 形式のサンプル(全内容)は、

<http://www.fdtype.com/dat/> に掲載しております。

下図のような、[FdData 無料閲覧ソフト(RunFdData)]を、Windows のデスクトップ上にインストールすれば、FdData 中間期末・FdData 入試の全 PDF ファイル(各教科約 1500 ページ)を自由に閲覧できます。次のリンクを左クリックするとインストールが開始されます。

RunFdData(Word 版) 【 <http://fddata.deci.jp/lnk/instRunFdDataWDs.exe> 】

RunFdData(一太郎版) 【 <http://fddata.deci.jp/lnk/instRunFdDataTAs.exe> 】

※ダイアログが表示されたら、【実行】ボタンを左クリックしてください。インストール中、いくつかの警告が出ますが、[実行][許可する][次へ]等を選択します。

【イメージ画像】



【Fd 教材開発：URL <http://www.fdtype.com/dat/> Tel (092) 404-2266】