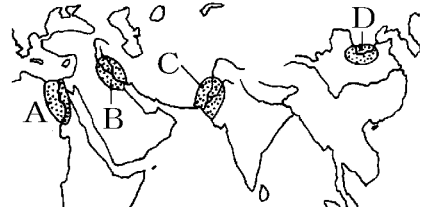


[要点]

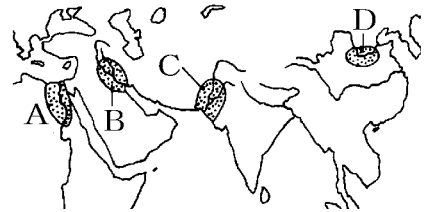
- (1) 地図Aのエジプト文明はナイル川の流域で、地図Bのメソポタミア文明はチグリス川とユーフラテス川の流域で、地図Cのインダス文明はインダス川の流域で発達した。地図Dの中国文明は黄河流域で発達し、紀元前1600年頃に 殷 という国が作られ、甲骨文字が使われた。



- (2) インドでは、シャカが仏教を始めた。パレスチナに生まれたイエスはキリスト教を始めた。7世紀のアラビア半島では、ムハンマド(マホメット)がアラーを唯一神とするイスラム教を始めた。
- (3) 分裂していた中国を紀元前 221年に統一したのは 秦の始皇帝で、遊牧民族の侵入を防ぐために万里の長城を築いた。秦が滅亡した後、漢が中国を統一した。

[要点確認]

- (1) 地図Aの()文明は()川の流域で、
地図Bの()文明は()川と
()川の流域で、地図Cの()文明は
()川の流域で発達した。地図Dの
()文明は()流域で発達し、紀元前
1600年頃に ()という国が作られ、()文字が使われた。

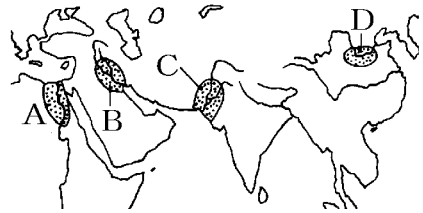


- (2) インドでは、()が仏教を始めた。パレスチナに生まれた()はキリスト教を始めた。7世紀のアラビア半島では、()がアラーを唯一神とするイスラム教を始めた。
- (3) 分裂していた中国を紀元前 221年に統一したのは ()の()で、
遊牧民族の侵入を防ぐために()を築いた。秦が滅亡した後、()が中国を統一した。

【問題】

次の各問いに答えよ。

- (1) A, B, C, D はそれぞれ何という文明で何という川の周辺に発達したか。
- (2) なぜこれらの地域に早くから文明が発達したのか, 主な理由をかけ。
- (3) A の文明でつくられた, 石づくりの巨大な王の墓を何というか。
- (4) A の文明で使われた文字は何か。
- (5) A の文明でつくられ, 1 年を 365 日とする暦は何か。
- (6) B の地域で, 紀元前 18 世紀ごろにつくられた法典を何というか。
- (7) B の地域で使われた文字は何か。
- (8) C の文明では, () の遺跡^{いせき}が有名である。



【解答】(1) A エジプト文明, ナイル川 B メソポタミア文明, チグリス川とユーフラテス川 C インダス文明, インダス川 D 中国文明, 黄河 (2) 大きな川の流域にあり, 農業が発達したから。 (3) ピラミッド (4) 象形文字 (5) 太陽暦 (6) ハムムラビ法典^{ほうてん} (7) くさび形文字 (8) モヘンジョ・ダロ

【問題】

次のそれぞれ文の()に適語を入れよ。

- (1) 紀元前 5 世紀ごろにインドに生まれた(A)は, 「心の迷いを取り去ることで, この世の苦しみからのがれられる」とする(B)教を説いた。
- (2) 紀元前後, ローマ帝国に支配されていたパレスチナに生まれた(A)は, 「神を信じる者はだれでも救われる」と説いた。この教えは(B)教と呼ばれ, のちに(C)にまとめられた。
- (3) 7世紀に, アラビア半島に生まれた(A)が始めた(B)教は, 唯一の神である(C)を信仰する宗教で, その教えは(D)に記されている。

【解答】(1)A シャカ B 仏 (2)A イエス B キリスト C 聖書(新約聖書) (3)A ムハンマド(マホメット) B イスラム C アラー D コーラン

【問題】

次の文の①～⑧に適語を入れよ。

(①)では、ポリスとよばれる多くの(②)国家が生まれた。最大の都市の(③)では、成人男子の市民による(④)政治が行われた。紀元前 4 世紀の末、ギリシャ北方のマケドニアの(⑤)大王が、ギリシャ・エジプトからインドの一部にわたる大帝帝国をつくった。その結果、ギリシャの文化は各地に伝わり、その土地の文化ととけあつて、新しい文化が生まれた。この文化を(⑥)文化という。

(⑦)は、紀元前 1 世紀、地中海^{ちちゆうかい} 一帯に広がる大帝帝国になった。(⑤)帝国に支配されていたパレスチナで、(⑧)が現れ、キリスト教をおこした。

【解答】① ギリシャ ② 都市 ③ アテネ ④ 民主 ⑤ アレクサンドロス ⑥ ヘレニズム ⑦ ローマ ⑧ イエス

【問題】

次の各問いに答えよ。

(1) 中国では、(A)という川の流域で(B)文明が栄えた。

(2) 中国の文明で紀元前1600年ころにおこった国は何か。

(3) (2)では、右図のような漢字のもとになった文字がつけられた。



この文字を何というか。

(4) 紀元前 11 世紀に(2)を滅ぼした国は何か。

(5) (4)の支配力が弱まって、多くの国が争う戦乱の時代になったが、この時代を何というか。

(6) (5)の時代に儒教をはじめたのは誰か。

(7) 紀元前 3 世紀に中国を統一したのは、(A)という国の(B)である。

(8) (7)の人物が、北方の遊牧民の侵入を防ぐために築いたものを何というか。

(9) 紀元前 3 世紀に、(7)の国にかわって中国をまとめ大帝帝国をつくりあげた王朝の名を書け。

(10) (9)の時代、中国から絹織物が西方に、西方から馬やぶどうが取引されたが、このときの交易路を何というか。

【解答】(1)A 黄河^{こうが} B 中国 (2)殷^{いん} (3)甲骨文字^{こうこつぶんじ} (4)周^{しゅう} (5)春秋・戦国時代^{しゅんじゅうせんごく} (6)孔子^{こうし}
(7)A 秦^{しん} B 始皇帝^{しこうてい} (8)万里の長城^{ばんりちやうじやう} (9)漢^{かん} (10)シルクロード(絹の道)

[印刷/他の PDF ファイルについて]

※ このファイルは、FdText 社会(6,600 円)の一部を PDF 形式に変換したサンプルで、印刷はできないようになっています。製品版の FdText 社会は Word(または一太郎)の文書ファイルで、印刷・編集を自由に行うことができます。

※ 弊社は、FdText のほかに FdData 中間期末過去問(社会・理科・数学)(各 18,900 円)(Word 版・一太郎版)を販売しております。PDF 形式のサンプル(全内容)は、

<http://www.fdtype.com/dat/> に掲載しております。

下図のような、[FdData 無料閲覧ソフト(RunFdData)]を、Windows のデスクトップ上にインストールすれば、FdData 中間期末・FdData 入試の全 PDF ファイル(各教科約 1500 ページ)を自由に閲覧できます。次のリンクを左クリックするとインストールが開始されます。

RunFdData(Word 版) 【 <http://fddata.deci.jp/lnk/instRunFdDataWDs.exe> 】

RunFdData(一太郎版) 【 <http://fddata.deci.jp/lnk/instRunFdDataTAs.exe> 】

※ダイアログが表示されたら、【実行】ボタンを左クリックしてください。インストール中、いくつかの警告が出ますが、【実行】[許可する][次へ]等を選択します。

【イメージ画像】



【Fd 教材開発 : URL <http://www.fdtype.com/dat/> Tel (092) 404-2266】