

[要点]

- (1) 縄文時代には、人々は集団でむらをつくり、植物を栽培し、狩猟を行い、たて穴住居で生活をしていた。縄目の文様のついた縄文土器が使われ、魔よけや食物の豊かさをいのるために土偶が作られた。貝殻を捨てたあとである貝塚から発見される物から当時の様子を知ることができる。
- (2) 紀元前3世紀ごろ、朝鮮半島南部から稲作が伝えられた。このころから紀元3世紀までの時代を弥生時代という。うすくて飾りが少なく実用的な弥生土器が作られ、穀物の貯蔵のための高床倉庫が使われた。また、青銅器や鉄器などの金属器が使われた。
- (3) 紀元前後の日本は倭と呼ばれ、100あまりの国に分かれていた。1世紀の中ごろ(57年)、倭の奴の国王が漢の皇帝に使いを送り、金印を授けられた。弥生時代の1、2世紀の頃の遺跡としては、佐賀県にある吉野ヶ里遺跡がある。239年、倭の邪馬台国の女王卑弥呼が中国の魏に使いを送ったことが、中国の歴史書の魏志倭人伝に記されている。
- (4) 3世紀後半、大和地方には強力な国が生まれ、カギ形をした前方後円墳などの古墳が作られるようになった。古墳のまわりには埴輪がおかれ、5世紀頃には世界最大級の大仙古墳が作られた。この国を大和国家、その政府を大和政権といい、その王は大王と呼ばれた。
- (5) 朝鮮では高句麗が北から勢力をのび、南部では新羅と百濟が小国の統一を進めた。大和国家は百濟や、小国が分立していた伽耶(任那)地方の国と結んで高句麗や新羅と戦った。朝鮮半島から日本へ移り住んだ人々は渡来人と呼ばれ、漢字・仏教・儒教や各種技術を伝えた。

[要点確認]

- (1) ()時代には、人々は集団でむらをつくり、植物を栽培し、狩猟を行い、()住居で生活をしていた。縄目の文様のついた()土器が使われ、魔よけや食物の豊かさをいのるために()が作られた。貝殻を捨てたあとである()から発見される物から当時の様子を知ることができる。
- (2) 紀元前3世紀ごろ、朝鮮半島南部から稲作が伝えられた。このころから紀元3世紀までの時代を()時代という。うすくて飾りが少なく実用的な()土器が作られ、穀物の貯蔵のための()倉庫が使われた。また、()や鉄器などの金属器が使われた。

- (3) 紀元前後の日本は()と呼ばれ、100あまりの国に分かれていた。1世紀の中ごろ(57年)、倭の()の国王が漢の皇帝に使いを送り、()を授けられた。弥生時代の1,2世紀の頃の遺跡としては、佐賀県にある()遺跡がある。239年、倭の()国の女王()が中国の()に使いを送ったことが、中国の歴史書の魏志倭人伝に記されている。
- (4) 3世紀後半、大和地方には強力な国が生まれ、カギ形をした()などの古墳が作られるようになった。古墳のまわりには()がおかれ、5世紀頃には世界最大級の()古墳がつくられた。この国を大和国家、その政府を()といい、その王は()と呼ばれた。
- (5) 朝鮮では()が北から勢力をのぼし、南部では()と()が小国の統一を進めた。大和国家は百済や、小国が分立していた()地方の国と結んで高句麗や新羅と戦った。朝鮮半島から日本へ移り住んだ人々は()と呼ばれ、漢字・仏教・儒教や各種技術を伝えた。

【問題】

次の各問いに答えよ。

- (1) ナウマン象の化石が発見されたのは何県のどこか。
- (2) 群馬県の(A)遺跡では、氷河時代の地層から石おのなどの(B)石器が発見されている。このことから、日本にも(C)時代があったことが明らかになった。
- (3) 氷河期が終わって海面が上昇し、日本列島が大陸から離れたのは約何年前か。

【解答】(1) 長野県の野尻湖 (2)A 岩宿 B 打製 C 旧石器 (3) 約1万年前

【問題】

次の各問いに答えよ。

- (1) 紀元前1万年前から紀元前3世紀の時代を何というか。
- (2) (1)の時代の人々が住んだ図Aのような家を何というか。
- (3) ①(1)の時代の土器は何というか。②また、その特徴は何か。
- (4) (1)の時代に、まじないに使われた図Bのような道具は何か。
- (5) 昔の人が食べた貝殻が捨てられたところを何というか。



【解答】(1) 縄文時代 (2) たて穴住居 (3)① 縄文土器 ② 縄目の文様があること。 (4) 土偶 (5) 負塚

【問題】

次の各問いに答えよ。

- (1) 縄文時代に農耕・牧畜が発達しなかったのはなぜか。
- (2) 縄文時代の遺跡は、暖かい西日本より、東日本から東北地方にかけて多く分布している。これは、どのような理由によるものか、ある魚の名をあげて、説明せよ。
- (3) 日本人の生活を考えるとき、フィリピン付近から流れだす大きな暖流の存在をぬきには考えられない。この暖流の名を書け。
- (4) 縄文時代の石器は何か。
- (5) 土偶は、何のためにつくられたか。簡単に答えよ。
- (6) 青森県で発見された縄文時代の代表的な遺跡は何か。
- (7) この時代の日本人の体質を最もよく残しているのは、沖縄の人々と北海道に住む、ある先住民だといわれている。この先住民の名を書け。

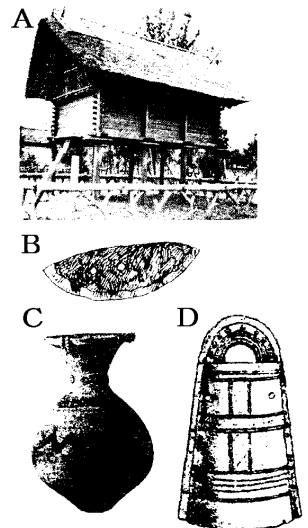
【解答】(1) 周囲に木の実や動物や魚介類が豊富なので、あまり必要性を感じなかったから。

(2) さけなどの魚介類が豊富に捕れたから。 (3) 黒潮 (4) 磨製石器 (5) 魔よけや食物の豊かさをいのるため。 (6) 三内丸山遺跡 (7) アイヌ人

【問題】

次の各問いに答えよ。

- (1) 紀元前 3 世紀から紀元 3 世紀までの時代を何時代というか。
- (2) 穀物の貯蔵などに使われた右図Aのような倉庫を何というか。
- (3) (2)の倉庫にはどんな工夫がみられるのか、簡単に説明せよ。
- (4) 稲の穂をつみとるのに使われた右図 B の道具は何か。
- (5) ①図Cのような弥生時代の土器は何というか。②また、その特徴は何か。
- (6) 右図 D のような遺物(金属器)の名を書け。



【解答】(1) 弥生時代 (2) 高床倉庫 (3) 湿気を防ぐために床を高くし、はしごや柱の床下部にはねずみがえしがつけられている。 (4) 石包丁 (5)① 弥生土器 ② うすくて飾りが少なく実用的である。 (6) 銅鐸

【問題】

次の各問いに答えよ。


- (1) 紀元前 4 世紀ごろ()が伝わり、農耕生活が始まった。
- (2) 日本で(1)を始めた人々はどこからやってきたか。
- (3) 稲作とともに、金属器も伝えられたが、そのうち(A)は祭りの道具として使われ、(B)は開墾用のくわ、木をけずるおのなどとして使われた。
- (4) 弥生時代になって農耕が始まると、(A)の差が生じ(B)が出現した。

【解答】(1) 稲作 (2) 朝鮮半島 (3)A 青銅器 B 鉄器 (4)A 貧富 B 支配者

【問題】

次の各問いに答えよ。

- (1) A, B の土器の名称を、それぞれ答えよ。
- (2) 次の各文は、A, B どちらの土器が使われていたころの様子か。A または B で答えよ。



- ① 木の実やけもの、鳥、魚などが豊富で、農耕や牧畜はあまり発達していなかった。
- ② 人々は集団でむらをつくり、植物を栽培し、狩猟を行い、たて穴住居で生活をしていた。
- ③ むらには支配する者がはっきり現れ建物の周囲を柵や堀で囲むような集落を作った。
- ④ 土偶をまじないの道具として使った。
- ⑤ たて穴住居の近くには高床の倉庫もつくられた。
- ⑥ やじりが大きくなり、戦闘に適した武器が金属で作られるようになった。
- ⑦ 大陸から九州北部に稲作が伝えられた。
- ⑧ 銅鐸を祭りの道具として使った。

【解答】(1)A 縄文土器 B 弥生土器 (2)① A ② A ③ B ④ A ⑤ B ⑥ B ⑦ B


⑧ B

【問題】

次の各問いに答えよ。

(1) 中国の歴史書に「楽浪のむこうに倭人が住んでいる。百余国に分かれて…」とある。このことから、紀元前後、中国の()の時代、倭人が百余りの国を作っていたことがわかる。

(2) 1世紀の半ばに、倭の(A)国の王が中国の(B)に使いを送り、右の写真のような(C)を授けられた。この(C)は江戸時代に現在の(D)市の(E)で発見された。



(3) 佐賀県で発見された弥生時代 1, 2 世紀の頃の大規模な集落あとで、二重の堀と物見やぐらをそなえていたとみられる遺跡名を書け。

(4) 239 年、倭の(A)国の女王(B)が中国の(C)に使いを送った。

(5) (4)は中国の何という歴史書の何という部分に書かれているか。

【解答】(1) 漢 (2)A 倭 B 漢 C 金印 D福岡 E志賀島 (3) 吉野ヶ里遺跡 (4)A 邪馬台 B 卑弥呼 C 魏 (5) 魏志の倭人伝

【問題】

次の各問いに答えよ。

(1) 「楽浪郡」は、現在の何という国に位置するのか、国名を書け。

(2) 日本のことを紀元前後のころ中国では何と呼んだか。

(3) 「奴国」は、何地方にあったのか、次の中から 1 つ選び地方名を書け。

[北海道 東北 関東 中部 近畿 中国 四国 九州]

(4) 金印にほられている文字は、何と書かれているか。

(5) 吉野ヶ里遺跡は、現在の何県にあるか。

(6) 卑弥呼が魏に使いを送ったのは何年か。

(7) 邪馬台国のあった位置については学説が分かれている。どのように分かれているか。

【解答】(1) 北朝鮮 (2) 倭 (3) 九州 (4) 漢委奴国王 (5) 佐賀県 (6) 239 年 (7) 北部九州にあったとする説と近畿にあったとする説に分かれている。

[印刷/他の PDF ファイルについて]

※ このファイルは、FdText 社会(6,600 円)の一部を PDF 形式に変換したサンプルで、印刷はできないようになっています。製品版の FdText 社会は Word(または一太郎)の文書ファイルで、印刷・編集を自由に行うことができます。

※ 弊社は、FdText のほかに FdData 中間期末過去問(社会・理科・数学)(各 18,900 円)(Word 版・一太郎版)を販売しております。PDF 形式のサンプル(全内容)は、

<http://www.fdtype.com/dat/> に掲載しております。

下図のような、[FdData 無料閲覧ソフト(RunFdData)]を、Windows のデスクトップ上にインストールすれば、FdData 中間期末・FdData 入試の全 PDF ファイル(各教科約 1500 ページ)を自由に閲覧できます。次のリンクを左クリックするとインストールが開始されます。

RunFdData(Word 版) 【 <http://fddata.deci.jp/lnk/instRunFdDataWDs.exe> 】

RunFdData(一太郎版) 【 <http://fddata.deci.jp/lnk/instRunFdDataTAs.exe> 】

※ダイアログが表示されたら、【実行】ボタンを左クリックしてください。インストール中、いくつかの警告が出ますが、【実行】[許可する][次へ]等を選択します。

【イメージ画像】



【Fd 教材開発 : URL <http://www.fdtype.com/dat/> Tel (092) 404-2266】