

[要点]

- (1) 江戸時代初期、新田開発がさかんに行われ、九州の有明海や岡山の児島湾では干拓が行われた。その結果、秀吉の時代から100年の間に田畑面積は約2倍になった。農具も改良され、土地を深く耕すことのできる備中ぐわ、脱穀のための千歯こき、米の選別のための千石どおしが発明された。
- (2) 当時、江戸は「将軍のおひざもと」と呼ばれ、ここを中心として東海道や中山道などの五街道が定められた。大阪は「天下の台所」と呼ばれ、年貢米の保管のために各大名が置いた蔵屋敷があった。また、京都は西陣織や清水焼で有名であった。江戸、大阪、京都をあわせて三都という。

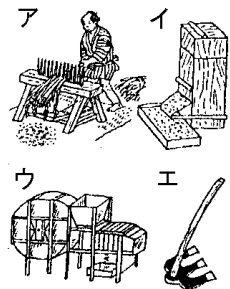
[要点確認]

- (1) 江戸時代初期、()開発がさかんに行われ、九州の有明海や岡山の児島湾では()が行われた。その結果、秀吉の時代から100年の間に田畑面積は約()倍になった。農具も改良され、土地を深く耕すことのできる()、脱穀のための()、米の選別のための千石どおしが発明された。
- (2) 当時、()は「将軍のおひざもと」と呼ばれ、ここを中心として東海道や中山道などの()が定められた。大阪は()と呼ばれ、年貢米の保管のために各大名が置いた()があった。また、()は西陣織や清水焼で有名であった。江戸、大阪、京都をあわせて()という。

[問題]

次の各問いに答えよ。

- (1) 新田開発、干拓などによって、田畑面積は、秀吉の時代から100年の間に何倍になったか。
- (2) 江戸時代に発明された田畑を深く耕すことを可能にした農具は何か。また右の図のどれか。
- (3) 脱穀のための農具が発明されて、脱穀の能率が向上したが、何という農具か。また、それは右図のどれか。



[解答](1) 2倍 (2) 備中ぐわ、エ (3) 千歯こき、ア

【問題】

次の各問いに答えよ。

- (1) 田畑面積は、秀吉の時代から 100 年の間に約 2 倍になったが、耕地面積がふえたのもっとも大きな理由は何か。漢字 4 字で答えよ。
- (2) 江戸時代に干拓^{かんたく}が行われた代表例を 2 つあげよ。
- (3) 江戸時代の経済の基礎となっていた作物で農民が年貢として納め、武士の給料となっていたものは何か。
- (4) 綿花・なたねなどの作物を()という。
- (5) なたねは何に使われたか。
- (6) 紅花は何に使われたか。
- (7) 江戸時代になって、庶民の衣服は麻にかわって何が用いられるようになったか。
- (8) 貨幣^{かへい}経済が農村へ広くおよんできた結果、農村にどのような変化が起きたか。
- (9) 材料や道具を農民に貸し、製品を買い取ることを、何工業というか。
- (10) 19 世紀にはいると、豊かな地主は、村内の小作人を作業所に集め道具をそろえて分業をさせるようになった。これを何というか。

【解答】(1) 新田開発 (2) 有明海^{ありあけかい}、児島湾^{こじまわん} (3) 米 (4) 商品作物^{しょうひんさくもつ} (5) あんどの灯油として使われた。(6) 染料の原料として使われた。(7) 木綿^{もめん} (8) 商品作物の栽培や手工業が広まり、豊かな農民と貧しい農民との差がはっきりしてきた。(9) 問屋制家内工業 (10) 工場制手工業

【問題】

次の各問いに答えよ。

- (1) 綿作りのための肥料として、いわしをほして作った(A)などが使われた。(A) や油かすは(B)と呼ばれた。
- (2) 大規模ないわし漁が行われたのはどこか。また、それは現在の何県か。
- (3) にしん・こんぶ漁がさかんだったのはどの地方か。
- (4) 塩田が発達した地方はどこか。
- (5) 江戸時代の代表的な金山はどこか。また、それは現在の何県か。
- (6) 石見^{いわみ}、生野では何という地下資源の採掘が行われたか。
- (7) 江戸時代の代表的な銅山はどこか。2 つあげよ。
- (8) 幕府は重要な都市や鉱山を直接支配し、()の鑄造権も独占した。

【解答】(1) A 干鰯^{ほしか} B 金肥 (2) 九十九里浜^{くじゅうくりはま}、千葉県 (3) 蝦夷地^{えぞち}(北海道) (4) 瀬戸内^{せとうち}
(5) 佐渡^{さど}、新潟県 (6) 銀 (7) 足尾^{あしお}、別子^{べっし} (8) 貨幣

【問題】

次の各問いに答えよ。

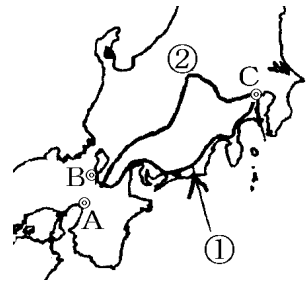
- (1) 江戸時代の商業の中心となった都市はどこか。
- (2) 江戸時代, (1)は何と呼ばれていたか。
- (3) 大名が自分の領地でとれた米や特産物を保管するために(1)の都市に置いたものは何か。
- (4) 江戸を中心とする東海道や中山道などの5つの陸上交通路を総称して何というか。

【解答】(1) 大阪 (2) 天下の台所 (3) 蔵屋敷 (4) 五街道

【問題】

次の各問いに答えよ。

- (1) 大阪は右の地図の A～C のどれか。
- (2) 寺社への参詣人が集まり, にしじんおり西陣織やきよみずやき清水焼などの伝統的な手工業がさかんだった都市はどこか。都市名と地図の記号を答えよ。
- (3) 大阪・京都を当時何と呼んだか。
- (4) 江戸時代,「将軍のおひざもと」とよばれた都市はどこか。都市名と地図の記号を答えよ。
- (5) (4)の都市の人口は約(10/50/100/200)万人であった。
- (6) 江戸, 大阪, 京都をあわせて何といったか。

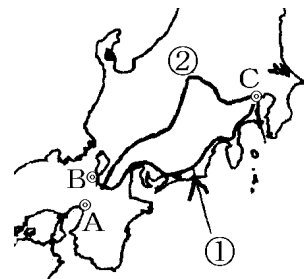


【解答】(1) A (2) 京都, B (3) 上方 (4) 江戸, C (5) 100 (6) 三都

【問題】

次の各問いに答えよ。

- (1) 図中①と②の街道名を書け。
- (2) 街道で幕府や藩が使用する宿場を何というか。
- (3) 江戸時代の海運について, 次の航路を何というか。
 - ① 東北・北陸地方の物資を, 津軽海峡を通過して江戸に運ぶ航路。
 - ② 東北・北陸地方の物資を, 日本海沿岸をまわって瀬戸内海を経て大阪に運ぶ航路。



- (4) 江戸と大阪の間を結んで物資を運んだ定期船を2つあげよ。
- (5) 海上輸送が発達した理由として、水運の方が大量の輸送を安価におこなえることのほかに、江戸を守るための幕府の規制が、陸上輸送のさまたげとなっていたことがあげられる。この、陸上輸送のさまたげとなっていた例を2つあげよ。

【解答】(1)① 東海道 ② 中山道 (2) 本陣 (3)① 東まわり航路 ② 西まわり航路 (4) 菱垣廻船、樽廻船 (5) 関所が設けられていたこと。主要な川に橋がかけられていなかったこと。

【問題】

次の各問いに答えよ。

- (1) 大名や幕府の役人と結びつき、営業上の特権を得て、力をふるった同業者の組合を何というか。
- (2) 当時、地方によって通用する貨幣が違ったので、貨幣を交換する仕事をする者が出てきた。これを何というか。
- (3) (2)の有力な商人を江戸、大阪について1人ずつあげよ。
- (4) 「現金掛値なし」の新しい商法で大成功した呉服店は何か。

【解答】(1) 株仲間 (2) 両替 (3) 江戸：三井 大阪：鴻池 (4) 越後屋

[印刷/他の PDF ファイルについて]

※ このファイルは、FdText 社会(6,600 円)の一部を PDF 形式に変換したサンプルで、印刷はできないようになっています。製品版の FdText 社会は Word(または一太郎)の文書ファイルで、印刷・編集を自由に行うことができます。

※ 弊社は、FdText のほかに FdData 中間期末過去問(社会・理科・数学)(各 18,900 円)(Word 版・一太郎版)を販売しております。PDF 形式のサンプル(全内容)は、

<http://www.fdtype.com/dat/> に掲載しております。

下図のような、[FdData 無料閲覧ソフト(RunFdData)]を、Windows のデスクトップ上にインストールすれば、FdData 中間期末・FdData 入試の全 PDF ファイル(各教科約 1500 ページ)を自由に閲覧できます。次のリンクを左クリックするとインストールが開始されます。

RunFdData(Word 版) 【 <http://fddata.deci.jp/lnk/instRunFdDataWDs.exe> 】

RunFdData(一太郎版) 【 <http://fddata.deci.jp/lnk/instRunFdDataTAs.exe> 】

※ダイアログが表示されたら、【実行】ボタンを左クリックしてください。インストール中、いくつかの警告が出ますが、【実行】[許可する][次へ]等を選択します。

【イメージ画像】



【Fd 教材開発 : URL <http://www.fdtype.com/dat/> Tel (092) 404-2266】